



PRUEBA DE ACCESO Y ADMISIÓN A LA UNIVERSIDAD

GEOGRAFÍA

ANDALUCÍA, CEUTA, MELILLA y CENTROS en MARRUECOS

CONVOCATORIA ORDINARIA, CURSO 2020-2021

Instrucciones:

- Duración: 1 hora y 30 minutos.
- El examen consta de 4 bloques (A, B, C y D). En cada bloque se plantean varias preguntas, de las que debe responder al número que se indica en cada uno de ellos.
- En caso de responder a más preguntas o cuestiones de las requeridas, serán tenidas en cuenta las respondidas en primer lugar hasta alcanzar dicho número.
- La valoración de cada respuesta se indica en el bloque correspondiente.

BLOQUE A (Glosario. Significados geográficos)

Puntuación máxima: 2 puntos

En este bloque se plantean 8 términos geográficos para su definición, de los que debe responder, a su elección, SOLAMENTE 4.

Cada respuesta tendrá un valor máximo de 0.5 puntos.

- | | | | |
|-----------------------|--------------------|--------------------------------------|-----------------------|
| a) Área metropolitana | b) Barbecho | c) Coordenadas geográficas | d) Globalización |
| e) Parque tecnológico | f) Pesca de altura | g) Plan General de Ordenación Urbana | h) Red de transportes |

BLOQUE B (Glosario. Significados de expresiones)

Puntuación máxima: 1 punto

En este bloque se plantean 4 expresiones para relacionarlas con determinados conceptos geográficos, de las que debe responder, a su elección, SOLAMENTE 2.

Cada respuesta tendrá un valor máximo de 0.5 puntos.

- La variación en los elementos del clima de la Tierra, que puede tener causas naturales y humanas, pero que se acelera por causas humanas desde la Revolución Industrial, se denomina
- El período durante el cual los ríos y arroyos alcanzan su caudal más bajo, que en España suele coincidir con los meses de verano, se denomina
- La industria que se encarga de la transformación de las materias primas minerales para la fabricación de productos semielaborados, se denomina
- En el marco de la Unión Europea, las normas y medidas adoptadas sobre agricultura que tienen como objetivo asegurar al consumidor europeo suministros a precios razonables y garantizar una retribución equitativa a los agricultores, se conocen como



Historia del Arte: comentarios de obras paso a paso.

selectividad.academy - 623 769 002



**PRUEBA DE ACCESO Y ADMISIÓN A LA
UNIVERSIDAD**

GEOGRAFÍA

ANDALUCÍA, CEUTA, MELILLA y CENTROS en MARRUECOS

CONVOCATORIA ORDINARIA, CURSO 2020-2021

BLOQUE C. (Ejercicios de desarrollo)

Puntuación máxima: 4 puntos

En este bloque se plantean 2 ejercicios de análisis y comentario de mapas, gráficos, imágenes, cuadros estadísticos o textos, de los que debe responder, a su elección, SOLAMENTE 1.

Cada ejercicio tendrá un valor máximo de 4 puntos.

EJERCICIO 1. El mapa 1 presenta la altitud sobre el nivel del mar en España. A partir del mismo responda a las siguientes cuestiones:

- Diga el nombre de las unidades de relieve señaladas numéricamente del 1 al 5. (Hasta 1 punto).
- Identifique y describa las características de los relieves señalados con las letras A y B. (Hasta 1 punto).
- Desarrolle las principales características de las unidades interiores a la meseta. (Hasta 2 puntos).

EJERCICIO 2. Los gráficos representan dos climas característicos de España. Analícelos y responda a las preguntas siguientes:

- Explique las variaciones estacionales de temperatura y precipitación en cada uno de los climogramas. (Hasta 1 punto).
- Defina el concepto de aridez mensual y explique cómo se representa en el climograma correspondiente. (Hasta 1 punto).
- Basándose en los datos anteriores explique razonadamente qué tipo de clima representa cada uno de los climogramas. (Hasta 2 puntos).

Los mapas/gráficos correspondientes están en la siguiente página.

BLOQUE D. (Desarrollo de temas)

Puntuación máxima: 3 puntos

En este bloque se plantean 2 temas, de los que debe desarrollar, a su elección, SOLAMENTE 1.

Cada cuestión tendrá un valor máximo de 3 puntos.

TEMA A. LA POBLACIÓN ESPAÑOLA. Evolución y distribución. La dinámica natural. Los movimientos migratorios. Estructura y composición de la población.

TEMA B. LAS ACTIVIDADES TURÍSTICAS. Caracteres de la oferta turística española y tipos de turismo. Principales áreas turísticas en España. Significado y consecuencias de las actividades turísticas.



Guía completa en selectividad.academy/guia-selectividad

Todo sobre la selectividad



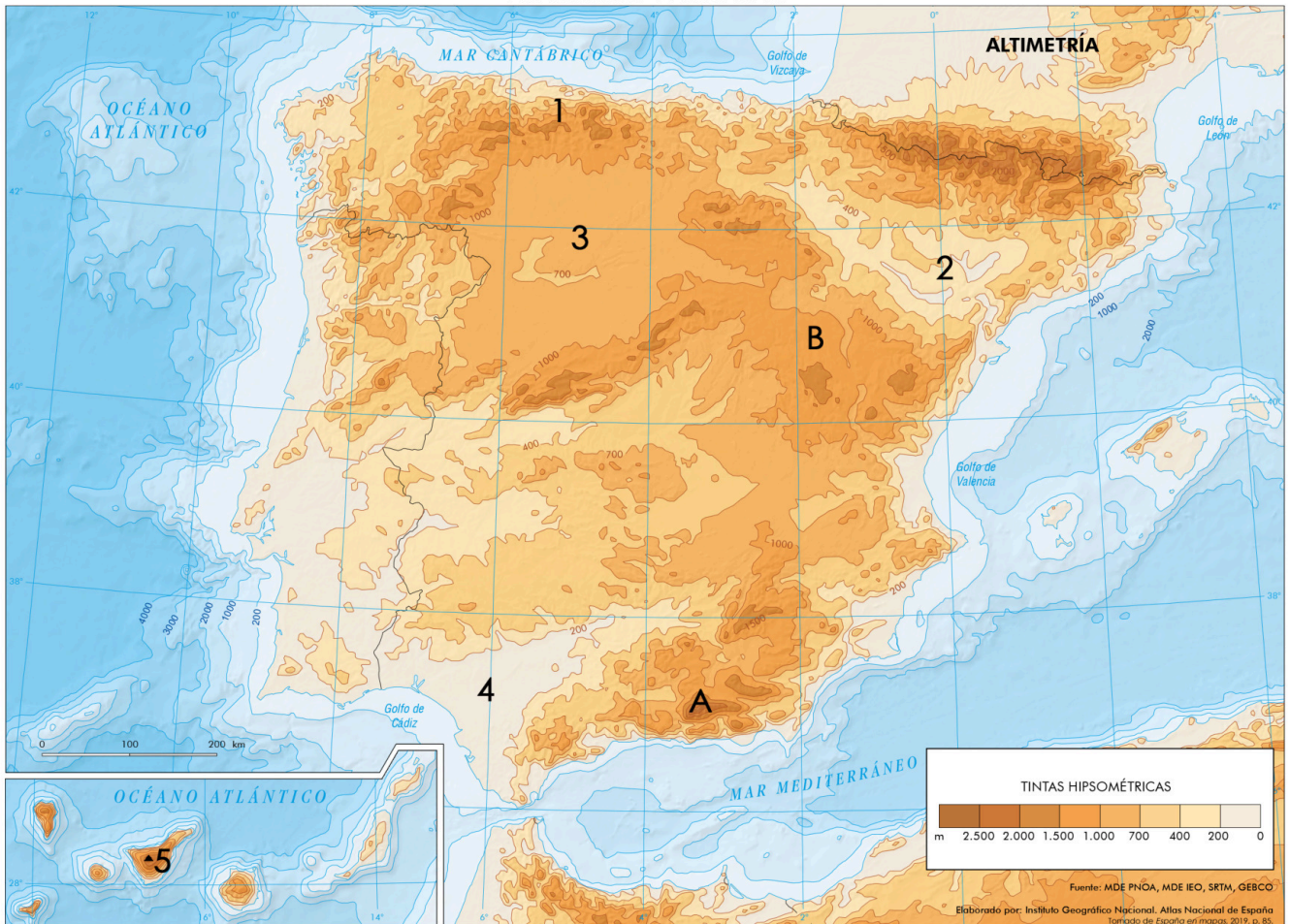
PRUEBA DE ACCESO Y ADMISIÓN A LA UNIVERSIDAD

GEOGRAFÍA

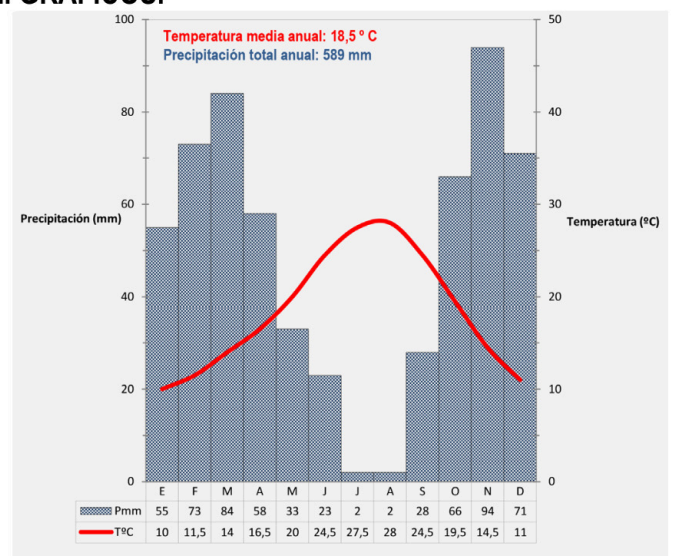
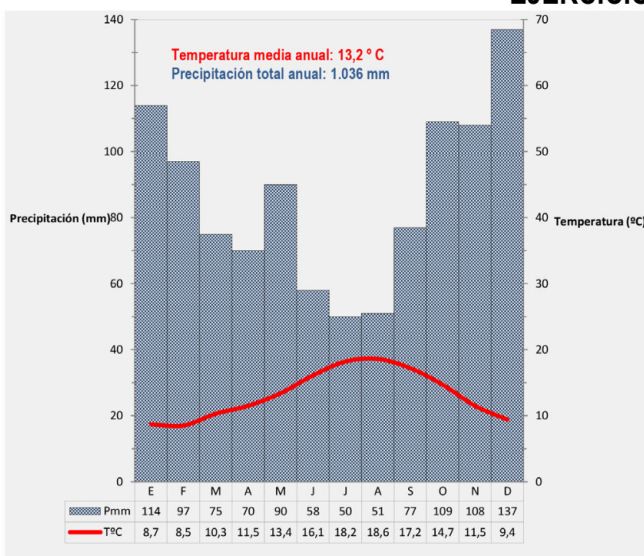
ANDALUCÍA, CEUTA, MELILLA y CENTROS en MARRUECOS

CONVOCATORIA ORDINARIA, CURSO 2020-2021

EJERCICIO 1. MAPA 1.



EJERCICIO 2. GRÁFICOS.



Tu esfuerzo tiene recompensa. Estamos contigo.

Prueba gratis



Selectividad Academy

Tu academia de selectividad online

● Mejor academia online de selectividad

Prueba sin compromiso

Primera clase gratis. Sin permanencia. Sin letra pequeña.

- ✓ Profesores especialistas en cada asignatura
- ✓ Clases adaptadas a tu nivel y tus objetivos
- ✓ Todos los exámenes oficiales resueltos paso a paso
- ✓ Calculadora de nota y guía completa en la web

623 769 002

Escríbenos por WhatsApp

www.selectividad.academy

→ Calcula tu nota en selectividad.academy/calculadora-selectividad

→ Guía completa en selectividad.academy/guia-selectividad

→ ¿Tienes dudas? Escríbenos sin compromiso