

GEOGRAFÍA

Después de leer atentamente el examen, combine las preguntas de la siguiente forma:

- responda tres preguntas de 2 puntos a elegir entre las preguntas 1.A, 1.B, 2.A, 2.B, 3.A o 3B.
- responda cuatro apartados calificados con 1 punto entre los 8 sugeridos en las preguntas 4.A, 4.B, 5A o 5.B.

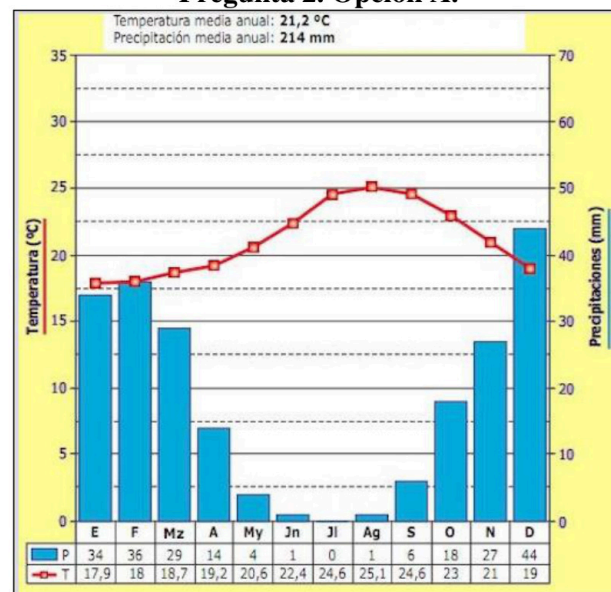
TIEMPO Y CALIFICACIÓN: 90 minutos. Las preguntas 1ª, 2ª y 3ª se calificarán con un máximo de 2 puntos. Cada apartado de las preguntas 4ª y 5ª se calificará con un máximo de 1 punto.

El estudiante deberá indicar la agrupación de preguntas que responderá. La selección de preguntas deberá realizarse conforme a las instrucciones planteadas, no siendo válido seleccionar preguntas que sumen más de 10 puntos, ni agrupaciones de preguntas que no coincidan con las indicadas, lo que puede conllevar la anulación de alguna pregunta que se salga de las instrucciones.

Pregunta 1. Opción A.

Desarrolle de manera sintética el siguiente tema: El roquedo y las formas de relieve en la España peninsular e insular: áreas litológicas (silíceas, calcáreas, arcillosas, volcánicas) y sus formas características (2 puntos).

Pregunta 2. Opción A.



¿Cuáles son las características de este clima desde el punto de vista de las temperaturas y de las precipitaciones?
¿A qué tipo de clima corresponde y en qué área geográfica podemos encontrarlo? (2 puntos).

Pregunta 3. Opción A.



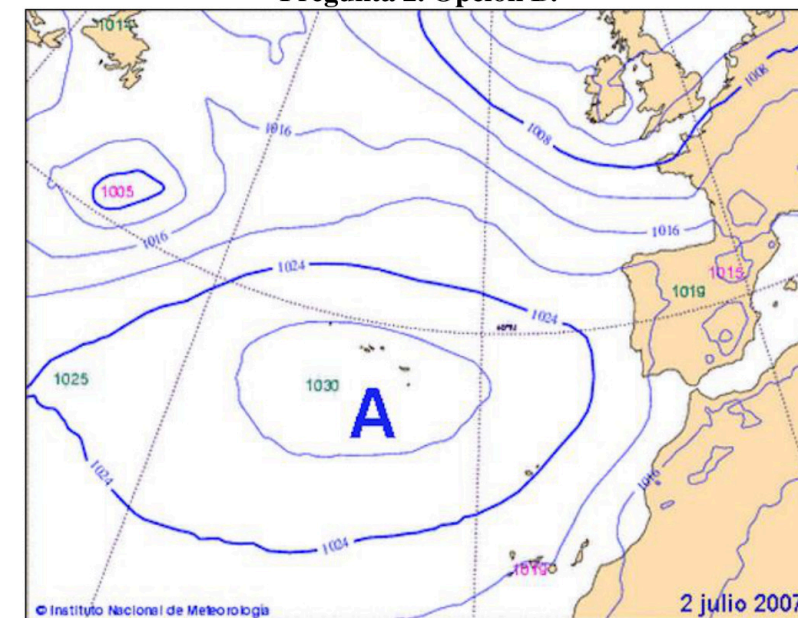
Identifique qué área de Vitoria aparece en el centro de la imagen. Indique qué tipo de plano adopta y qué funciones pudieron caracterizar a esta zona en época preindustrial (2 puntos).

Pregunta 1. Opción B.



Describe la vegetación y los cultivos del paisaje de la imagen. ¿En qué nos basamos para afirmar que se trata de un paisaje cultural? (2 puntos).

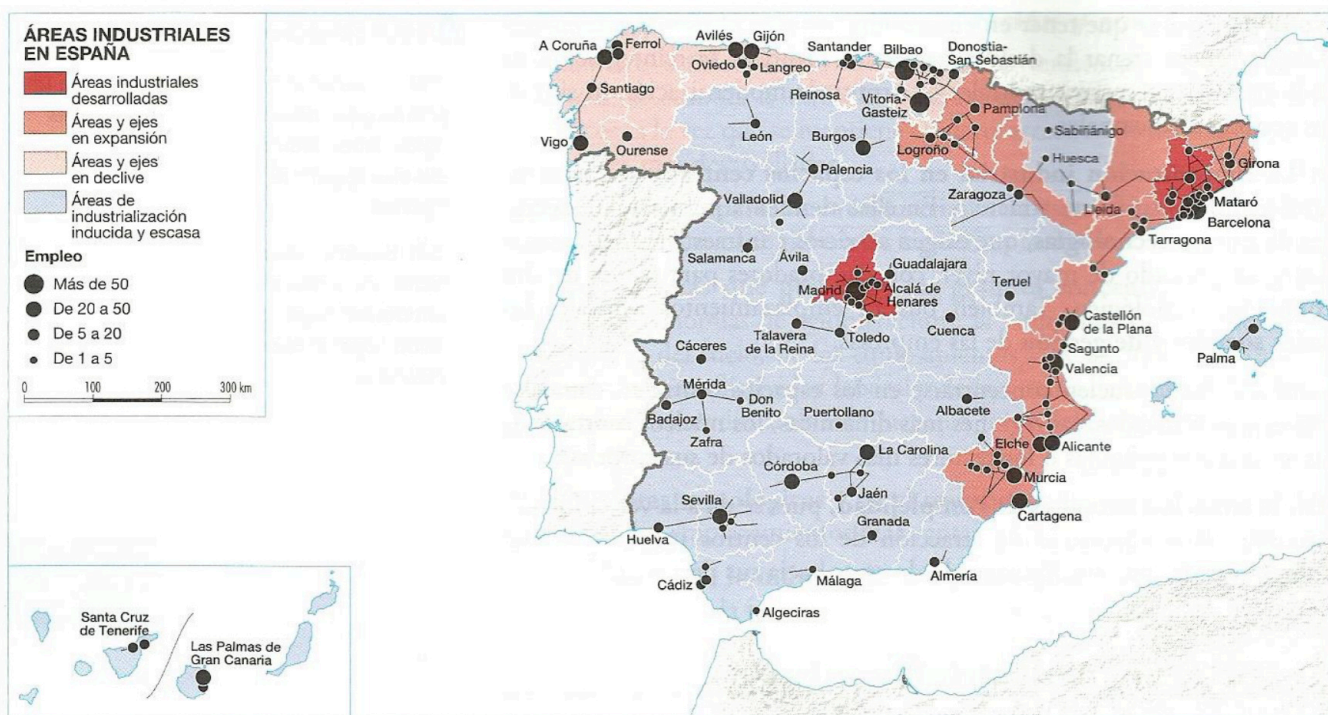
Pregunta 2. Opción B.



Describe el elemento principal que afecta al oeste peninsular. ¿Qué tipo de tiempo predominará en el oeste peninsular atendiendo a la situación atmosférica recogida en el mapa? (2 puntos).

GEOGRAFÍA

Pregunta 4. Opción A.



- a) ¿Qué factores pueden explicar el desarrollo industrial de Madrid, en el interior peninsular, alejado de la predominante localización periférica? (1 punto).
- b) ¿Qué factores favorecen a las áreas y ejes industriales en expansión del Ebro? (1 punto).

Pregunta 5. Opción A.



- a) Identifique, utilizando como referencia los números, las provincias litorales de Cataluña y Andalucía (1 punto).
- b) Indique el número y el nombre de las provincias que forman Comunidades Autónomas uniprovinciales sin costa (1 punto).

Pregunta 3. Opción B.



- ¿Qué factores explican el descenso pronunciado del número de hijos por mujer en el último cuarto del siglo XX? ¿Puede relacionarlo con la teoría de la Transición Demográfica? (2 puntos).

Pregunta 4. Opción B.

Desarrolle de manera sintética:

- a) Características de la actividad turística: principales tipos de turismo en España (1 punto).
- b) Repercusiones de la actividad turística: efectos demográficos y socioculturales (1 punto).

Pregunta 5. Opción B.



- a) Identifique, utilizando como referencia los números, las provincias interiores (no litorales) de Galicia y Andalucía (1 punto).
- b) Indique el número y el nombre de las provincias que forman Comunidades Autónomas uniprovinciales litorales (1 punto).



Selectividad Academy

Tu academia de selectividad online

● Mejor academia online de selectividad

Prueba sin compromiso

Primera clase gratis. Sin permanencia. Sin letra pequeña.

- ✓ Profesores especialistas en cada asignatura
- ✓ Clases adaptadas a tu nivel y tus objetivos
- ✓ Todos los exámenes oficiales resueltos paso a paso
- ✓ Calculadora de nota y guía completa en la web

623 769 002

Escríbenos por WhatsApp

www.selectividad.academy

→ Calcula tu nota en selectividad.academy/calculadora-selectividad

→ Guía completa en selectividad.academy/guia-selectividad

→ ¿Tienes dudas? Escríbenos sin compromiso