

GEOGRAFÍA

Después de leer atentamente el examen, combine las preguntas de la siguiente forma:

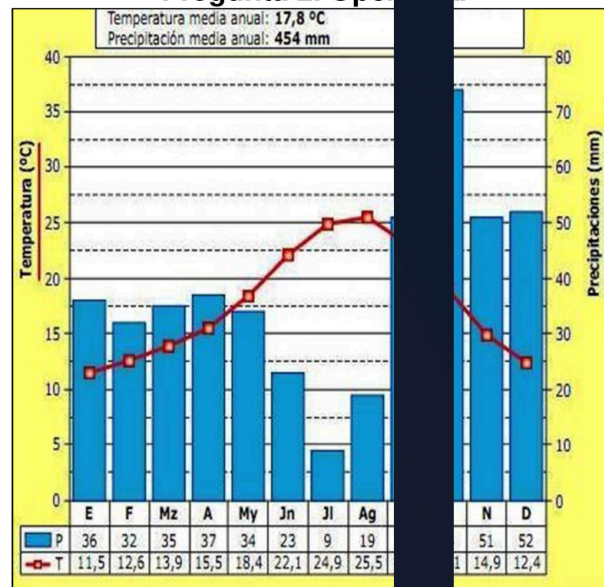
- responda tres preguntas de 2 puntos a elegir entre las preguntas 1.A, 1.B, 2.A, 2.B, 3.A o 3B.
- responda cuatro apartados calificados con 1 punto entre los apartados sugeridos en las preguntas 4.A, 4.B, 5A o 5.B.

TIEMPO Y CALIFICACIÓN: 90 minutos. Las preguntas 1ª, 2ª y 3ª se calificarán con un máximo de 2 puntos. Cada apartado de las preguntas 4ª y 5ª se calificará con un máximo de 1 punto. El estudiante deberá indicar la agrupación de preguntas que responderá. La selección de preguntas deberá realizarse conforme a las instrucciones planteadas, no siendo válido seleccionar preguntas que sumen más de 10 puntos, ni agrupaciones de preguntas que no coincidan con las indicadas, lo que puede conllevar la anulación de alguna pregunta que se salga de las instrucciones.

Pregunta 1. Opción A.

Desarrolle de manera sintética el siguiente tema: Los principales rasgos del relieve de España: rasgos topográficos fundamentales, disposición del relieve, principales unidades, contrastes (2 puntos).

Pregunta 2. Opción A.



¿Cuáles son las características del clima representado en la gráfica desde el punto de vista de las temperaturas y de las precipitaciones? ¿A qué tipo de clima corresponde y en qué área geográfica podemos encontrarlo? (2 puntos).

Pregunta 3. Opción A.



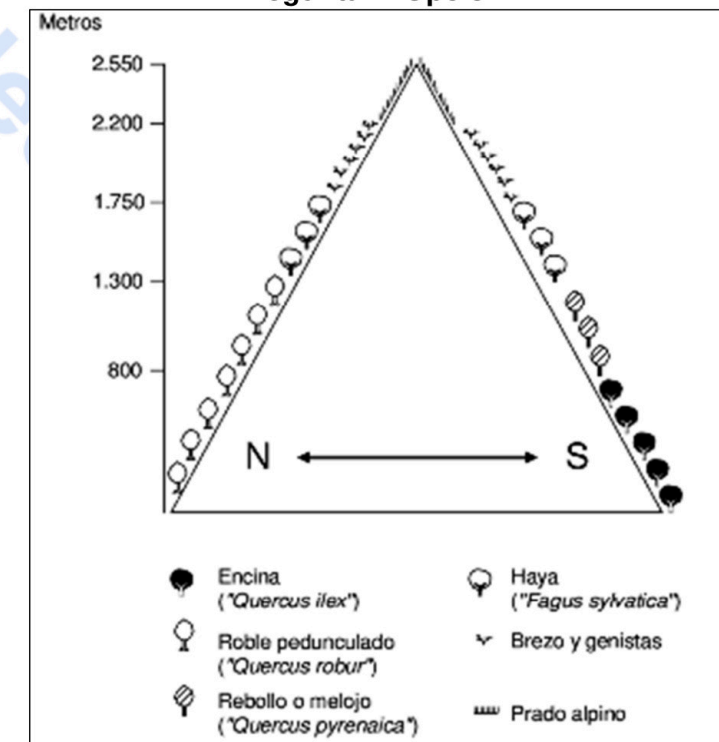
Identifique qué área de Barcelona aparece señalada con el número 1 en la imagen. Indique qué tipo de plano adopta y qué funciones desempeña esa zona (2 puntos).

Pregunta 1. Opción B.



Describe los cultivos del paisaje de la imagen. ¿Se trata de un paisaje natural o cultural? (2 puntos).

Pregunta 2. Opción B.

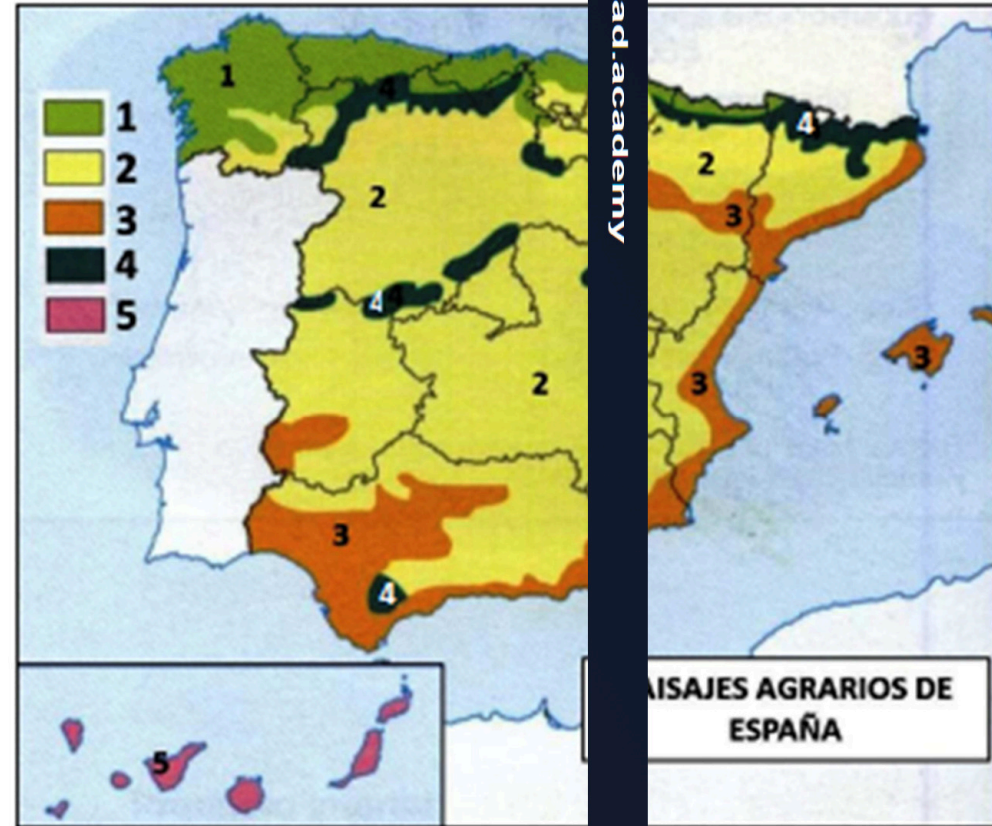


Describe la vegetación de la cliserie y las vertientes en las que se sitúa. Indique a qué sistema montañoso de la Península Ibérica corresponde (2 puntos).

selectividad.academy

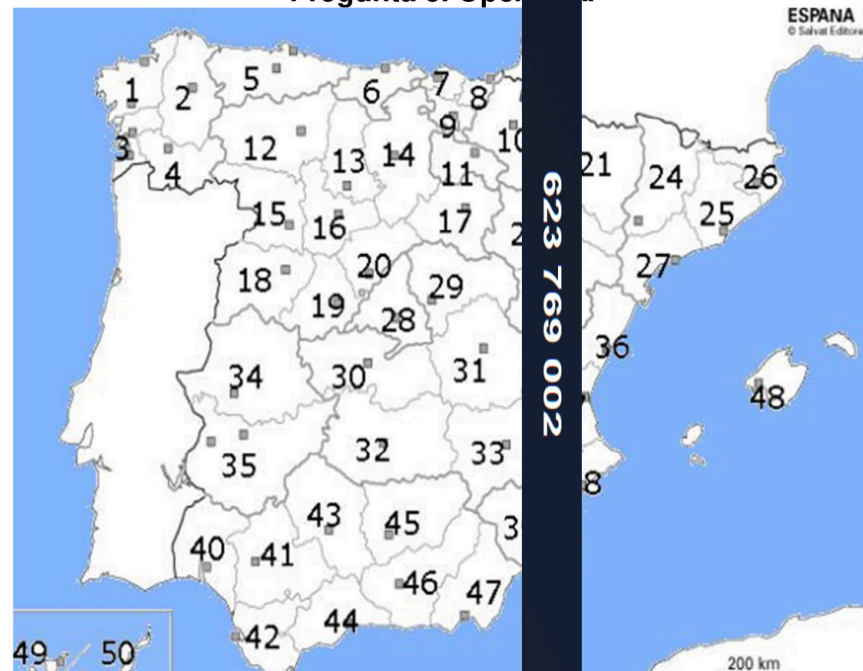
623 769 002

Pregunta 4. Opción A.



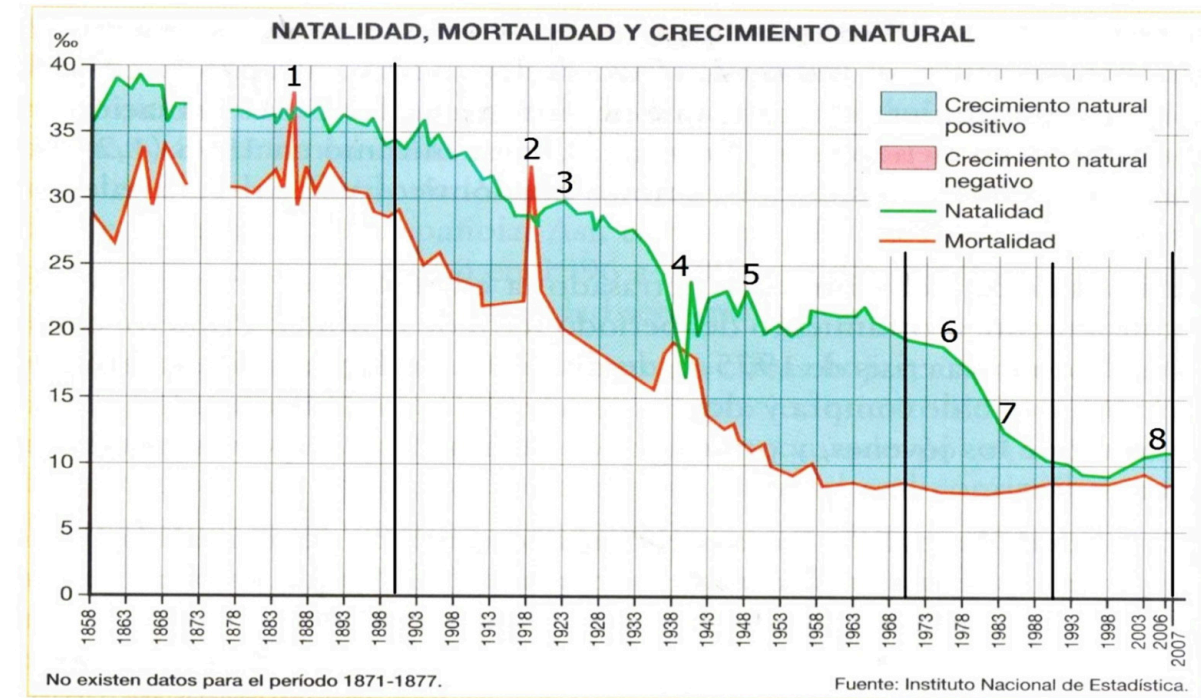
- Señale los paisajes agrarios que se corresponden con los números de la leyenda (1 punto).
- Explique las diferencias entre los paisajes señalados con los números 2 y 3 (1 punto).

Pregunta 5. Opción A.



- Identifique, utilizando como referencia los números, las provincias de Castilla y León (1 punto).
- Identifique el número y el nombre de las provincias que forman Comunidades Autónomas uniprovinciales (1 punto).

Pregunta 3. Opción B.



Explique la evolución de la población española y señale a qué procesos o fenómenos corresponden los números 2, 4 y 7 (2 puntos).

Pregunta 4. Opción B.

Desarrolle de manera sintética:

- El nacimiento de la industria en relación con la localización de fuentes de energía y materias primas (1 punto).
- Las características de la industria española y sus diferencias regionales (1 punto).

Pregunta 5. Opción B.



- Identifique, utilizando como referencia los números, las provincias de Castilla-La Mancha (1 punto).
- Identifique el número y el nombre de las provincias que forman Comunidades Autónomas insulares (1 punto).



Selectividad Academy

Tu academia de selectividad online

● Mejor academia online de selectividad

Prueba sin compromiso

Primera clase gratis. Sin permanencia. Sin letra pequeña.

- ✓ Profesores especialistas en cada asignatura
- ✓ Clases adaptadas a tu nivel y tus objetivos
- ✓ Todos los exámenes oficiales resueltos paso a paso
- ✓ Calculadora de nota y guía completa en la web

623 769 002

Escríbenos por WhatsApp

www.selectividad.academy

→ Calcula tu nota en selectividad.academy/calculadora-selectividad

→ Guía completa en selectividad.academy/guia-selectividad

→ ¿Tienes dudas? Escríbenos sin compromiso