

**GEOGRAFÍA**

Después de leer atentamente el examen, combine las preguntas de la siguiente forma:

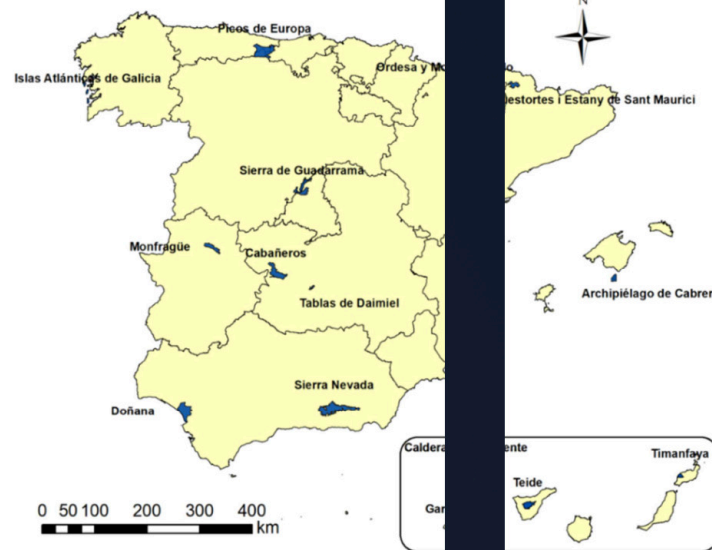
- responda tres preguntas de 2 puntos a elegir entre las preguntas 1.A, 1.B, 2.A, 2.B, 3.A o 3B.
- responda cuatro apartados calificados con 1 punto entre los apartados sugeridos en las preguntas 4.A, 4.B, 5A o 5.B.

TIEMPO Y CALIFICACIÓN: 90 minutos. Las preguntas 1ª, 2ª y 3ª se calificarán con un máximo de 2 puntos. Cada apartado de las preguntas 4ª y 5ª se calificará con un máximo de 1 punto. El estudiante deberá indicar la agrupación de preguntas que responderá. La selección de preguntas deberá realizarse conforme a las instrucciones planteadas, no siendo válido seleccionar preguntas que sumen más de 10 puntos, ni agrupaciones de preguntas que no coincidan con las indicadas, lo que puede conllevar la anulación de alguna pregunta que se salga de las instrucciones.

**Pregunta 1. Opción A.**

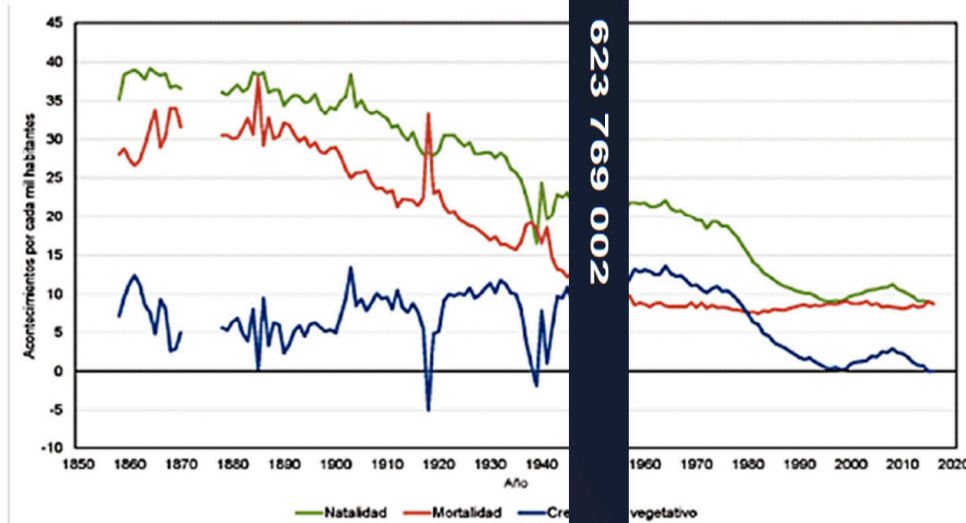
Desarrolle de manera sintética el siguiente tema: Las unidades morfoestructurales del relieve peninsular: relieves interiores, rebordes montañosos, depresiones exteriores y cordilleras exteriores (2 puntos).

**Pregunta 2. Opción A.**



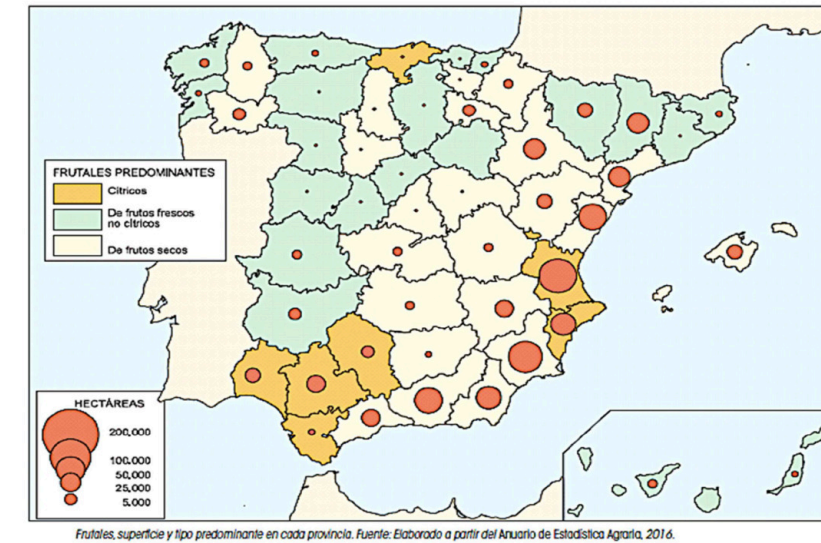
Indique qué categoría o figura de protección reciben los espacios naturales protegidos que se representan en el mapa. Señale el tipo de paisaje natural que existe en cada uno de ellos (2 puntos).

**Pregunta 3. Opción A.**



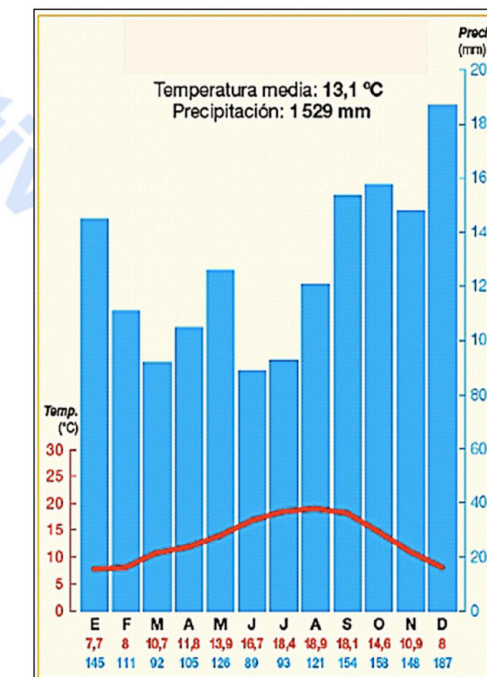
Explique los rasgos de la natalidad, la mortalidad y el crecimiento vegetativo entre mediados de los años cincuenta y mediados de los setenta del siglo XX. ¿Qué relación existe en la evolución de las tres curvas en esos años? (2 puntos).

**Pregunta 1. Opción B.**



Identifique las provincias donde los frutales predominantes son los cítricos. Explique los requerimientos térmicos de los cítricos (2 puntos).

**Pregunta 2. Opción B.**



¿Cuáles son las características del clima representado en la gráfica desde el punto de vista de las temperaturas y de las precipitaciones? ¿De qué tipo de clima se trata y cuáles son las formaciones vegetales asociadas? (2 puntos).

selectividad.academyc

623 769 002

**Pregunta 4. Opción A.**



- a) Tomando como referencia la topografía y los usos del suelo, ¿en qué zona de España se podría situar el paisaje de la imagen? (1 punto).
- b) En esta imagen, ¿en qué se manifiesta la acción humana sobre el medio natural? (1 punto).

**Pregunta 5. Opción A.**



- a) Identifique el número correspondiente a las provincias de Valencia, Teruel, Ciudad Real y Málaga (1 punto).
- b) Indique el número y el nombre de las provincias limítrofes con Málaga (1 punto).

**Pregunta 3. Opción B.**



Señale qué elemento fundamental de la ciudad histórica cambia de función en el período contemporáneo en el caso de ser conservado (como en Ávila). ¿Qué actividad favorece en la actualidad? (2 puntos).

**Pregunta 4. Opción B.**

Desarrolle de manera sintética:

- a) Las repercusiones de la actividad turística: aspectos económicos (1 punto).
- b) Las repercusiones de la actividad turística: transformaciones ambientales y paisajísticas (1 punto).

**Pregunta 5. Opción B.**



- a) Identifique el número correspondiente a las provincias de Valladolid, Huesca, Albacete y Granada (1 punto).
- b) Indique el número y el nombre de las provincias limítrofes con Albacete (1 punto).



# Selectividad Academy

Tu academia de selectividad online

● Mejor academia online de selectividad

## Prueba sin compromiso

Primera clase gratis. Sin permanencia. Sin letra pequeña.

- ✓ Profesores especialistas en cada asignatura
- ✓ Clases adaptadas a tu nivel y tus objetivos
- ✓ Todos los exámenes oficiales resueltos paso a paso
- ✓ Calculadora de nota y guía completa en la web

**623 769 002**

Escríbenos por WhatsApp

[www.selectividad.academy](http://www.selectividad.academy)

→ Calcula tu nota en [selectividad.academy/calculadora-selectividad](http://selectividad.academy/calculadora-selectividad)

→ Guía completa en [selectividad.academy/guia-selectividad](http://selectividad.academy/guia-selectividad)

→ ¿Tienes dudas? Escríbenos sin compromiso