

GEOGRAFÍA

- Responda en el pliego del examen a:
- **Tres preguntas de 2 puntos** a elegir entre las **preguntas 1, 2, 3, 4, 5 y 6** (máximo 6 puntos).
 - **Cuatro preguntas de 1 punto** a elegir entre las **preguntas 7, 8, 9, 10, 11, 12, 13 y 14** (máximo 4 puntos).
- Indique en el pliego del examen la **agrupación de preguntas que responderá**: agrupaciones de preguntas que sumen más de 10 puntos conllevarán la **anulación** de la(s) última(s) pregunta(s) seleccionada(s) y/o respondida(s).

Pregunta 1 (Figura 1). Indique qué orogenia se produjo durante la era terciaria (zonas en color rojo y azul oscuro). Comente los cambios más importantes que se produjeron en el relieve peninsular durante dicho período geológico (2 puntos).

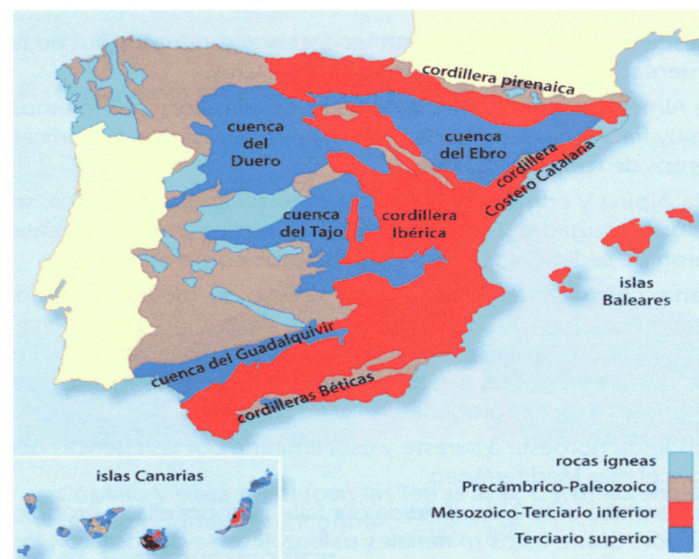


Figura 1

Pregunta 2 (Figura 2). Indique la especie vegetal predominante en la imagen. Señale en qué áreas geográficas aparece preferentemente este arbolado y sus principales características (2 puntos).



Figura 2

Pregunta 3 (Figura 3). Identifique las provincias con mayor porcentaje de superficie con alguna figura de protección ambiental (más del 30%). Señale, al menos, dos tipos de paisajes naturales que hayan merecido protección en esas zonas de España (2 puntos).

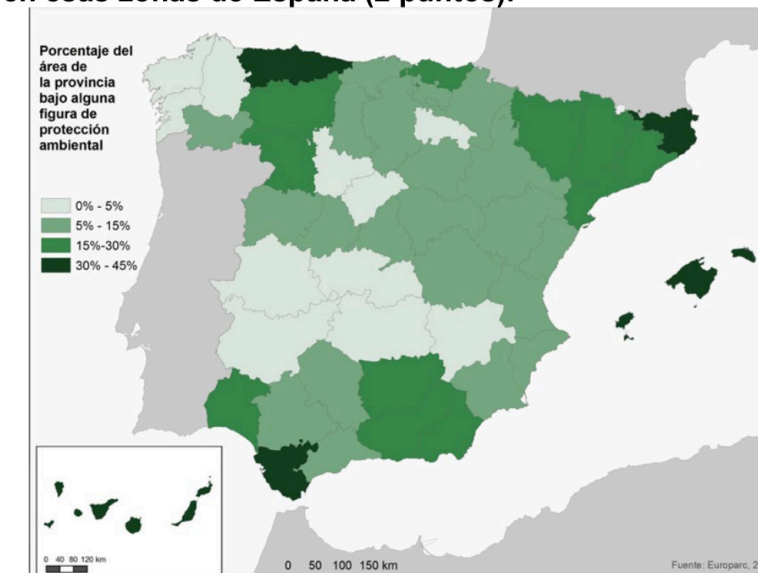


Figura 3

Pregunta 4 (Figura 4). Identifique en qué áreas geográficas se registra mayor número de días de nieve al año (color más oscuro). Señale qué factores geográficos favorecen la precipitación en forma de nieve (2 puntos).

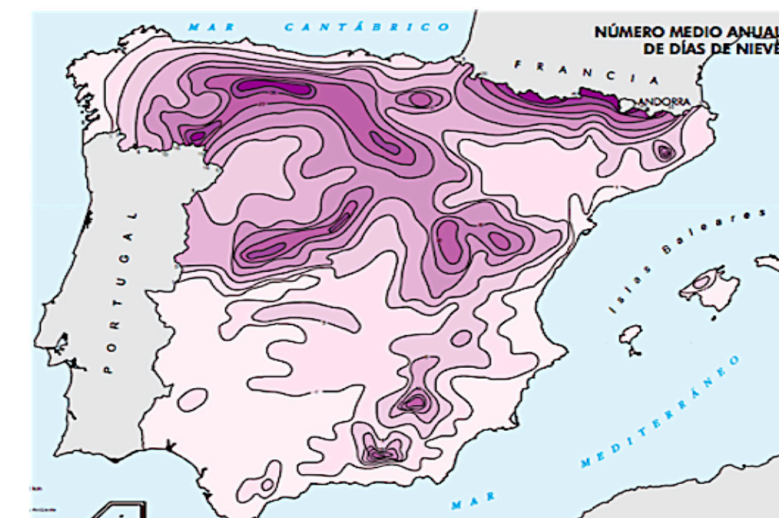


Figura 4

Pregunta 5 (Figura 5). Identifique las tres provincias que contaban con menores porcentajes de población joven (círculo blanco pequeño). Señale las causas del envejecimiento de la población y sus consecuencias (2 puntos).

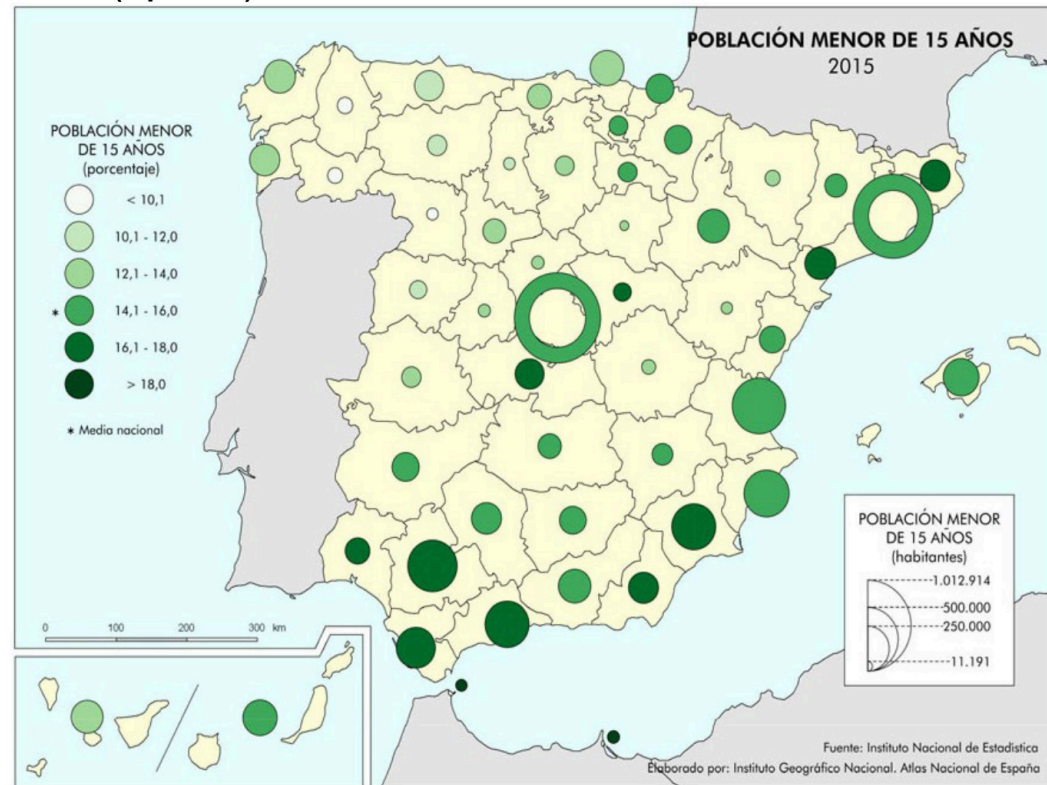


Figura 5

Pregunta 6 (Figura 6). ¿En qué época tiene origen la parte de la ciudad de Zaragoza destacada en el plano y en el centro de la foto? ¿Qué nombre recibían los dos ejes principales -en amarillo en el plano-? (2 puntos).

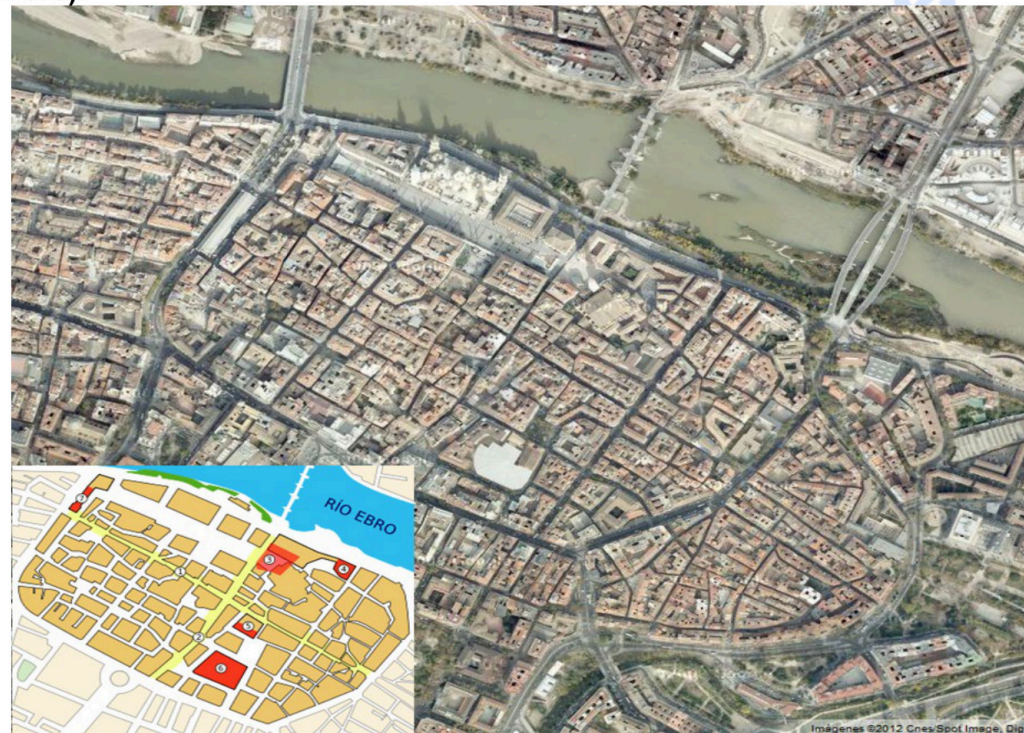


Figura 6

Pregunta 7. Desarrolle de manera sintética: Las características del sector servicios en España (1 punto).

Pregunta 8. Desarrolle de manera sintética: Las desigualdades del espacio turístico (1 punto).

Pregunta 9. Desarrolle de manera sintética: Las características y singularidades de la actividad pesquera (1 punto).

Pregunta 10. Desarrolle de manera sintética: Los problemas demográficos y sociales del sector pesquero (1 punto).

Pregunta 11 (Figura 7). Identifique las provincias rotuladas con números (1 punto).



Figura 7

Pregunta 12 (Figura 7). Indique la capital de las Comunidades Autónomas en las que se integran esas provincias señaladas con números (1 punto).

Pregunta 13 (Texto 1). ¿Abarcan el mismo territorio el espacio Schengen y la Unión Europea? Explique la respuesta (1 punto).

Texto 1. El nombre de Schengen, pequeño pueblo luxemburgués situado cerca de la frontera con Alemania y Francia, es ya sinónimo de la libre circulación de personas en Europa.

La supresión de los controles en las fronteras interiores ha ido acompañada de normas comunes para el control de las fronteras exteriores y del refuerzo de la cooperación policial y judicial para luchar contra la delincuencia.

Cada uno de los Estados del espacio Schengen se somete a una evaluación periódica, realizada por los organismos competentes de la UE, que sirve para comprobar si aplica correctamente las normas acordadas.

[...] La frontera exterior del espacio Schengen se extiende a lo largo de más de 50 000 km (el 80 % son fronteras marítimas y el 20 % fronteras terrestres), y cuenta con cientos de aeropuertos y puertos marítimos, así como con pasos fronterizos terrestres.

“Schengen. La puerta de acceso a la libre circulación en Europa”. Consejo de la Unión Europea, 2022.

Pregunta 14 (Texto 1). ¿Qué repercusiones tiene para España (y para sus ciudadanos) la integración dentro del espacio Schengen? (1 punto).



Selectividad Academy

Tu academia de selectividad online

● Mejor academia online de selectividad

Prueba sin compromiso

Primera clase gratis. Sin permanencia. Sin letra pequeña.

- ✓ Profesores especialistas en cada asignatura
- ✓ Clases adaptadas a tu nivel y tus objetivos
- ✓ Todos los exámenes oficiales resueltos paso a paso
- ✓ Calculadora de nota y guía completa en la web

623 769 002

Escríbenos por WhatsApp

www.selectividad.academy

→ Calcula tu nota en selectividad.academy/calculadora-selectividad

→ Guía completa en selectividad.academy/guia-selectividad

→ ¿Tienes dudas? Escríbenos sin compromiso