




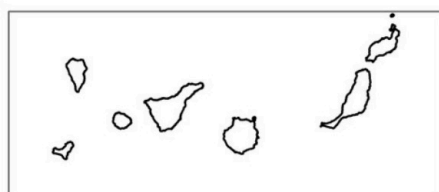
Aferrau la capçalera d'examen
un cop acabat l'exercici

IMPORTANT: Heu de respondre a una qüestió de cada tipus (1, 2, 3 i 4) indistintament del model A o del B.

Opció A

1. Distingiu al mapa adjunt tres àrees especialitzades en ramaderia extensiva i dues àrees amb presència de conreus de reguiu.

(Identificau els elements que es demanen, assenyalau-los al mapa, acolorint-los o amb símbols convencionals i amb el nom localitzat sobre l'indret. Afegiu la llegenda i alguna nota explicativa breu al rectangle en blanc.)



Puntuació màxima 2,5 punts



2. Definiu o descriuiu breument **5** termes escollits entre els següents: Centralisme politicoadministratiu, Relleu volcànic, Albufera, Depuració d'aigües, Taxa d'envelliment, Privatització, Agroturisme, Repoblació forestal.

(Es demana una correcta definició amb referència a la matèria de Geografia, i convé que vagi acompanyada de qualche exemple il·lustratiu. No es valorarà res escrit fora dels espais delimitats per a cada terme.)

selectividad.academy

selectividad.academy

selectividad.academy

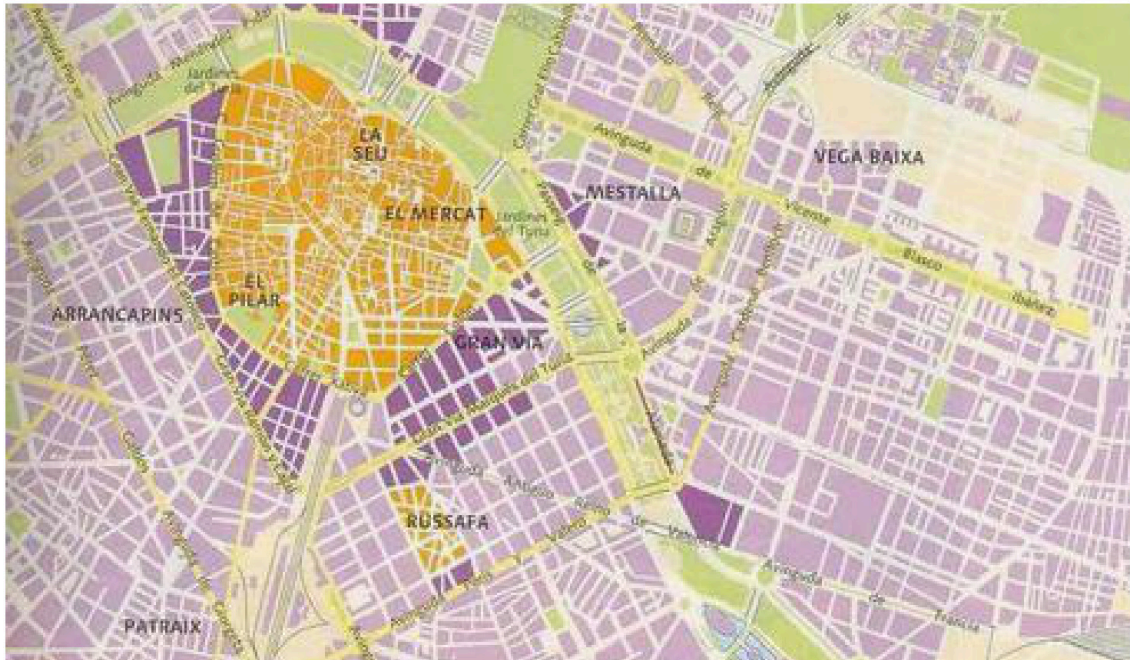
selectividad.academy

selectividad.academy

Puntuació màxima 2,5 punts

3. Comentau, contestant les qüestions plantejades, el plànol següent de la part central de la ciutat de València.

(L'espai per a la resposta és aquest full i la cara posterior. La resposta ha de ser raonada. Cal indicar clarament el número de la qüestió que es respon.)



1. Quins àrees es poden diferenciar en la trama urbana que es presenta? *(0,50 punts)*
2. Quines són les característiques morfològiques de cada una? *(0,50 punts)*
3. A quins moments històrics correspon la seva gènesi i a quins processos demogràfics i socials responen? *(0,75 punts)*
4. Quins són els usos actuals de cada una de les àrees que s'han distingit? *(0,75 punts)*



selectividad.academy

Puntuació màxima 2,5 punts

4. Comentau, contestant les qüestions plantejades, la següent taula estadística, referida a la temperatura mitjana mensual (expressada en °C) en diversos observatoris per al període 1981-2010. (L'espai per a la resposta és aquest full i la cara posterior. La resposta ha de ser raonada. Cal indicar clarament el número de la qüestió que es respon.)

	gen	feb	mar	abr	mai	jun	jul	ago	set	oct	nov	des
Navacerrada	-0,4	0,1	2,3	3,4	7,4	13,2	17	16,8	12,7	7,3	2,8	0,7
A Coruña	10,8	11,1	12,4	13	15	17,4	19	19,6	18,6	16,1	13,3	11,5
Castelló	10,6	11,3	13,4	15,4	18,5	22,5	25,3	25,6	22,9	19	14,3	11,4
Albacete	5,2	6,8	9,8	11,9	16,1	21,4	25	24,6	20,3	14,8	9,2	6

Font: AEMET

1. Quines diferències es poden observar entre els valors conjunts de temperatura dels diversos observatoris? (0,50 punts)
2. Quins models de distribució mensual de la temperatura es poden distingir? (0,50 punts)
3. A quin tipus de clima correspon cada una de les diferents distribucions termomètriques que es presenten? (0,75 punts)
4. Quines són les diferències en relació amb possibles aprofitaments agraris i amb les activitats relacionades amb el turisme que es poden donar entre les localitats de la taula en funció de les distintes distribucions de temperatures? (0,75 punts)



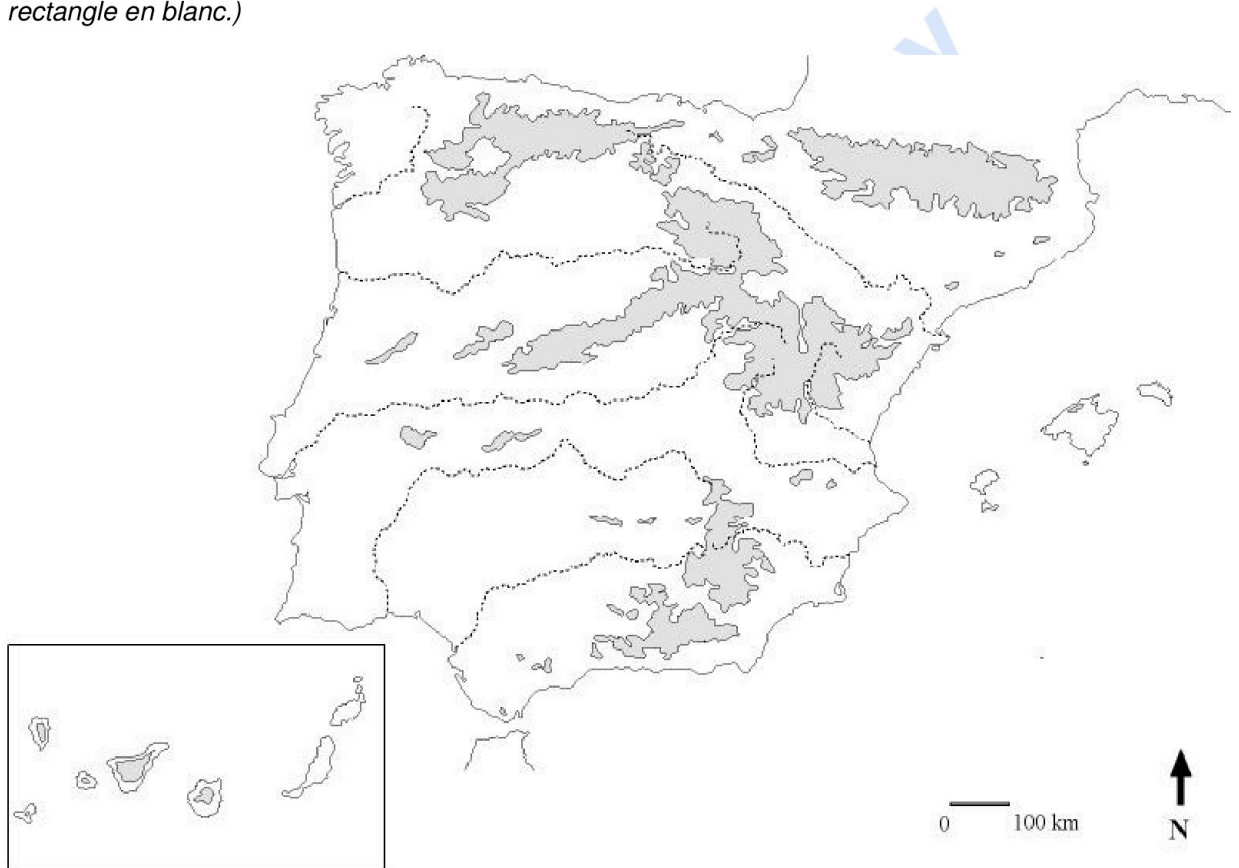
selectividad.academy

Puntuació màxima 2,5 punts

Opció B

1. Distingiu al mapa dos cursos fluvials de règim relativament regular i dos cursos fluvials marcadament irregulars.

(Identificau els elements que es demanen, assenyalau-los al mapa, acolorint-los o amb símbols convencionals i amb el nom localitzat sobre l'indret. Afegiu la llegenda i alguna nota explicativa breu al rectangle en blanc.)



Puntuació màxima 2,5 punts



2. Definiu o descriuiu breument **5** termes escollits entre els següents: Determinisme geogràfic, Clima oceànic, Delicte ecològic, Reserva de la biosfera, Creixement real de la població, Població activa, Economia submergida, Monocultiu.

(Es demana una correcta definició amb referència a la matèria de Geografia, i convé que vagi acompanyada de qualque exemple il·lustratiu. No es valorarà res escrit fora dels espais delimitats per a cada terme.)

Blank response box for the first term.

Blank response box for the second term.

Blank response box for the third term.

Blank response box for the fourth term.

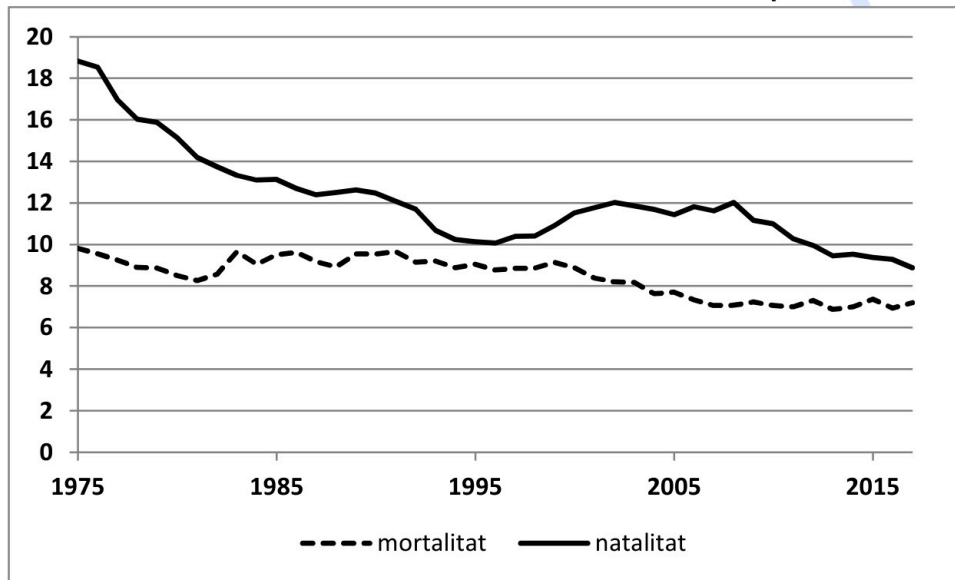
Blank response box for the fifth term.

Puntuació màxima 2,5 punts

3. Comentau, contestant les qüestions plantejades, el gràfic següent, corresponent a l'evolució de les taxes de natalitat i de mortalitat expressades en tants per mil (‰) a les Illes Balears entre 1975 i 2017.

(L'espai per a la resposta és aquest full i la cara posterior. La resposta ha de ser raonada. Cal indicar clarament el número de la qüestió que es respon.)

Evolució de les taxes de natalitat i mortalitat a les Illes Balears expressades en ‰ (1975-2017)



Font: Institut Nacional d'Estadística (INE).

1. Quina evolució ha seguit la taxa de natalitat al llarg del període indicat? (0,50 punts)
2. Quina evolució ha seguit la taxa de mortalitat al llarg del període indicat? (0,50 punts)
3. Quins són els motius que expliquen l'evolució que s'aprecia en ambdues taxes? (0,75 punts)
4. Quines conseqüències ha tingut la combinació de les dues taxes assenyalades sobre l'evolució demogràfica? (0,75 punts)



selectividad.academy

Puntuació màxima 2,5 punts

4. Comentau, contestant les qüestions plantejades, la taula estadística següent, corresponent a la distribució en % de la població ocupada per sectors econòmics al tercer trimestre de 2018.

(L'espai per a la resposta és aquest full i la cara posterior. La resposta ha de ser raonada. Cal indicar clarament el número de la qüestió que es respon.)

	S. primari	Indústria	Construcció	Serveis	Total
Badajoz	18,24	8,33	5,07	68,36	100
Tenerife	3,27	4,06	7,34	85,33	100
Navarra	4,31	26,58	6,20	62,92	100
Madrid	0,20	8,78	6,21	84,80	100

Font: INE, dades processades.

1. Quins són els sectors productius amb major percentatge de treballadors ocupats a les diverses comunitats presentades? *(0,50 punts)*
2. Quins diferents models de distribució de població ocupada es poden distingir? *(0,50 punts)*
3. Quins són els motius que expliquen les diferències territorials apreciades? *(0,75 punts)*
4. Quines conseqüències sobre la societat i el territori es deriven de la major o menor especialització en un o altre sector econòmic a les comunitats esmentades? *(0,75 punts)*



selectividad.academy

Puntuació màxima 2,5 punts

**Aferrau una etiqueta identificativa
amb codi de barres**





Selectividad Academy

Tu academia de selectividad online

● Mejor academia online de selectividad

Prueba sin compromiso

Primera clase gratis. Sin permanencia. Sin letra pequeña.

- ✓ Profesores especialistas en cada asignatura
- ✓ Clases adaptadas a tu nivel y tus objetivos
- ✓ Todos los exámenes oficiales resueltos paso a paso
- ✓ Calculadora de nota y guía completa en la web

623 769 002

Escríbenos por WhatsApp

www.selectividad.academy

→ Calcula tu nota en selectividad.academy/calculadora-selectividad

→ Guía completa en selectividad.academy/guia-selectividad

→ ¿Tienes dudas? Escríbenos sin compromiso