


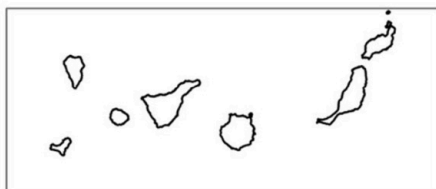


Aferrau la capçalera d'examen  
un cop acabat l'exercici

**IMPORTANT:** Heu de respondre a una qüestió de cada tipus (1, 2, 3 i 4) indistintament del model A o del B.

**Opció A**

1. Distingiu al mapa adjunt tres províncies amb una densitat de població més elevada que la mitjana nacional i dues províncies amb una densitat de població menor que la mitjana nacional. (Identificau els elements que es demanen, assenyalau-los al mapa, acolorint-los o amb símbols convencionals i amb el nom localitzat sobre l'indret. Afegiu la llegenda i alguna nota explicativa breu al rectangle en blanc.)



Puntuació màxima ..... 2,5 punts



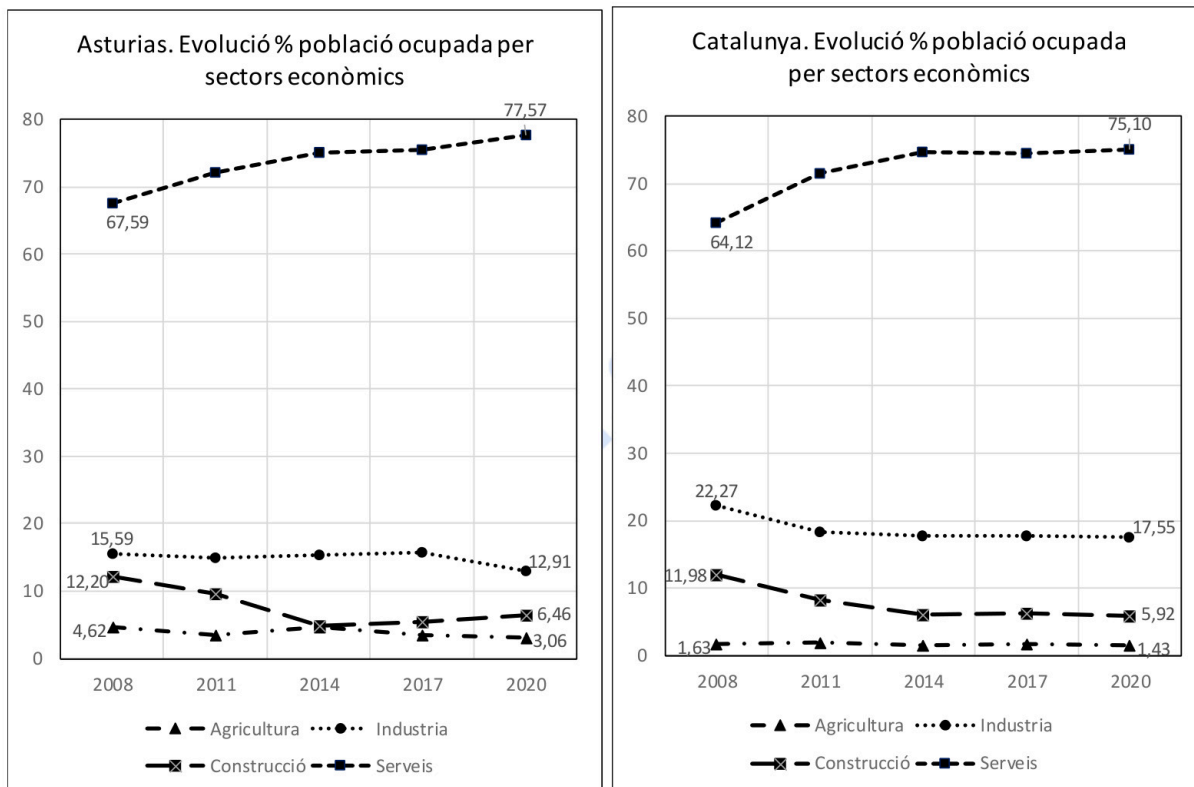
2. Definiu o descriuiu breument **5** termes escollits entre els següents: Isolínia, Aridesa, Màquia, Taxa de fecunditat, Agricultura de secà, Matèria primera, Comerç a l'engròs, Districte central de negocis (CBD).

*(Es demana una correcta definició amb referència a la matèria de Geografia, i convé que vagi acompanyada de qualche exemple il·lustratiu. No es valorarà res escrit fora dels espais delimitats per a cada terme.)*


Puntuació màxima ..... 2,5 punts

3. Comentau, contestant les qüestions plantejades, aquestes dues gràfiques corresponents a l'evolució entre 2008 i 2020 del percentatge de població ocupada en cada un dels sectors econòmics a Astúries i a Catalunya.

(L'espai per a la resposta és aquest full i la cara posterior. La resposta ha de ser raonada. Cal indicar clarament el número de la qüestió que es respon.)



Font: Gràfiques elaborades a partir de dades de l'INE

1. Quines diferències s'aprecien, en línies generals, en el repartiment del percentatge dels treballadors per grans sectors econòmics entre Astúries i Catalunya ? (0,50 punts)
2. Quines diferències o semblances s'aprecien en l'evolució del percentatge dels treballadors per grans sectors econòmics entre 2008 i 2020 entre Astúries i Catalunya ? (0,50 punts)
3. A quins motius mediambientals i socials és deguda la diferència en la distribució dels treballadors per sectors entre ambdues comunitats autònomes? (0,75 punts)
4. Quins factors han motivat l'evolució seguida pel pes específic dels diferents sectors econòmics al llarg dels anys que es representen al gràfic? (0,75 punts)



selectividad.academy

Puntuació màxima ..... 2,5 punts

4. Comentau, contestant les qüestions plantejades, la taula següent, referida a la mitjana de les temperatures màximes i mínimes per mesos en diversos observatoris:

(L'espai per a la resposta és aquest full i la cara posterior. La resposta ha de ser raonada. Cal indicar clarament el número de la qüestió que es respon.)

		Gen	Feb	Mar	Abr	Mai	Jun	Jul	Ago	Set	Oct	Nov	Des
<b>Sòria</b>	Mitjana (°C) temp. màximes	7.7	9.6	13.2	14.6	18.7	24.6	28.7	28.3	23.6	17.4	11.5	8.4
	Mitjana (°C) temp. mínimes	-1.3	-1.0	1.0	2.8	6.2	9.9	12.4	12.2	9.3	5.8	1.9	-0.4
<b>Aeroport de Gran Canària</b>	Mitjana (°C) temp. màximes	20.8	21.2	22.3	22.6	23.6	25.3	26.9	27.5	27.2	26.2	24.2	22.2
	Mitjana (°C) temp. mínimes	15	15	15.7	16.2	17.3	19.2	20.8	21.6	21.4	20.1	18.1	16.2
<b>Aeroport de València</b>	Mitjana (°C) temp. màximes	15.8	16.8	19.3	21.1	24.1	27.8	30.6	30.8	28.0	24.1	19.3	16.2
	Mitjana (°C) temp. mínimes	5.1	5.9	7.8	10.0	13.4	17.5	20.5	20.9	18.0	13.9	9.2	6.1

Font: AEMET

1. Quines diferències s'aprecien entre el comportament de les temperatures màximes i mínimes als diversos observatoris? (0,50 punts)
2. A quins tipus de clima corresponen els observatoris assenyalats?, quines característiques termomètriques tenen? (0,50 punts)
3. Com influeix la distribució de les temperatures mínimes i màximes en el desenvolupament de l'activitat agrària?, quines conseqüències té, referides a les àrees on es troben els observatoris que s'assenyalen? (0,75 punts)
4. Com influeix la distribució de les temperatures mínimes i màximes en el desenvolupament de les activitats turístiques?, quines conseqüències té, referides a les àrees on es troben els observatoris que s'assenyalen? (0,75 punts)



selectividad.academy

Puntuació màxima ..... 2,5 punts

### Opció B

1. Distingiu al mapa tres sectors amb predomini de materials calcaris i dos sectors amb predomini de materials silícis.

*(Identificau els elements que es demanen, assenyalau-los al mapa, acolorint-los o amb símbols convencionals i amb el nom localitzat sobre l'indret. Afegiu la llegenda i alguna nota explicativa breu al rectangle en blanc.)*



Puntuació màxima ..... 2,5 punts

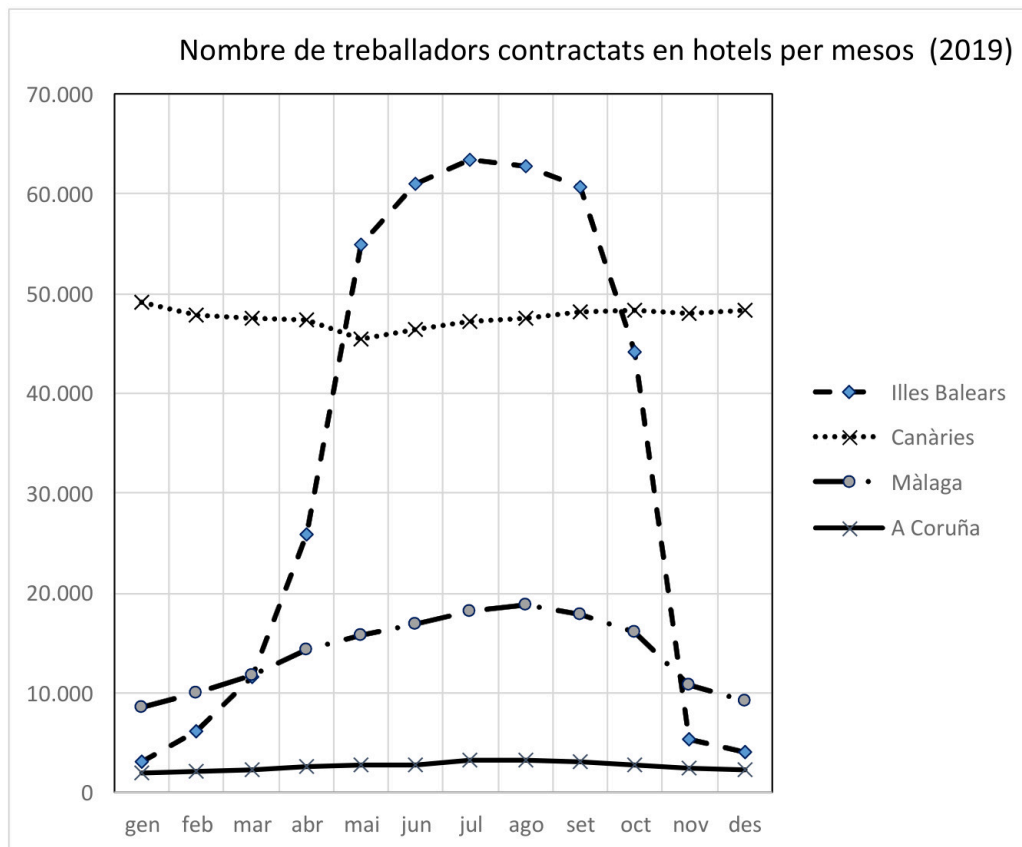


2. Definiu o descriu breument **5** termes escollits entre els següents: Terme municipal, Modelat càrstic, Sequera, Migració pendular, Calador, Pesca d'altura, Lloguer turístic, Fons europeus. *(Es demana una correcta definició amb referència a la matèria de Geografia, i convé que vagi acompanyada de qualche exemple il·lustratiu. No es valorarà res escrit fora dels espais delimitats per a cada terme.)*


Puntuació màxima ..... 2,5 punts

3. Comentau, contestant les qüestions plantejades, el gràfic següent, corresponent a l'evolució del nombre de treballadors ocupats en establiments hotelers els diferents mesos de l'any 2019 a les comunitats autònomes de les Illes Balears i Canàries i a les províncies de Màlaga i A Coruña.

(L'espai per a la resposta és aquest full i la cara posterior. La resposta ha de ser raonada. Cal indicar clarament el número de la qüestió que es respon.)



Font de les dades: Institut Nacional d'Estadística (INE).

1. Quines diferències s'observen entre els diversos territoris (Illes Balears, Canàries, Màlaga i A Coruña) pel que fa al nombre total de persones contractades que treballen en hotels? (0,50 punts)
2. Quins dos models de ritmes mensuals de variació del nombre de persones que treballen en hotels es poden distingir? (0,50 punts)
3. Quins són els motius que expliquen aquestes diferències entre territoris? (0,75 punts)
4. Quines conseqüències socials i econòmiques tenen els canvis radicals per mesos en el nombre de persones que treballen en hotels als territoris on es produeixen aquestes alteracions? (0,75 punts)



selectividad.academy

Puntuació màxima ..... 2,5 punts

4. Comentau, contestant les qüestions plantejades, la taula estadística següent, corresponent a l'evolució del nombre de població nascuda a l'estranger per continents d'origen i el seu pes sobre el total de població entre 1998 i 2019.

(L'espai per a la resposta és aquest full i la cara posterior. La resposta ha de ser raonada. Cal indicar clarament el número de la qüestió que es respon.)

Any	Població espanyola nascuda a l'estranger per continents							
	1998		2005		2012		2019	
Continent d'origen	Nre. de persones	% del total de població	Nre. de persones	% del total de població	Nre. de persones	% del total de població	Nre. de persones	% del total de població
<b>Europa</b>	562.356	1,41	1.573.782	3,57	2.757.271	5,83	2.174.870	4,62
<b>Àfrica</b>	244.577	0,61	774.240	1,76	1.102.351	2,33	1.220.264	2,59
<b>Amèrica</b>	311.054	0,78	1.832.144	4,15	2.503.709	5,30	2.859.949	6,08
<b>Àsia</b>	51.897	0,13	205.326	0,47	389.506	0,82	489.897	1,04
<b>Oceania</b>	3.883	0,01	5.992	0,01	6.943	0,01	8.118	0,02
<b>Total immigrants</b>	1.173.767	2,95	4.391.484	9,96	6.759.780	14,30	6.753.098	14,36
Població espanyola total								
	1998		2005		2012		2019	
<b>Població total</b>	39.852.651		44.108.530		47.265.321		47.026.208	

Font: INE, dades processades.

1. Quina ha estat l'evolució del nombre de població immigrada a Espanya i el seu pes sobre el total de població entre 1998 i 2019? (0,50 punts)
2. Quina ha estat l'evolució del pes de la població immigrada a Espanya per continents d'origen entre 1998 i 2019? (0,50 punts)
3. Quins són els motius que expliquen l'evolució de l'arribada global d'immigrants a Espanya entre 1998 i 2019? (0,75 punts)
4. Indica alguns dels motius que expliquen els canvis en el percentatge de població originària dels diversos continents entre 1998 i 2019. (0,75 punts)



selectividad.academy

Puntuació màxima ..... 2,5 punts

**Aferrau una etiqueta identificativa  
amb codi de barres**





# Selectividad Academy

Tu academia de selectividad online

● Mejor academia online de selectividad

## Prueba sin compromiso

Primera clase gratis. Sin permanencia. Sin letra pequeña.

- ✓ Profesores especialistas en cada asignatura
- ✓ Clases adaptadas a tu nivel y tus objetivos
- ✓ Todos los exámenes oficiales resueltos paso a paso
- ✓ Calculadora de nota y guía completa en la web

**623 769 002**

Escríbenos por WhatsApp

[www.selectividad.academy](http://www.selectividad.academy)

→ Calcula tu nota en [selectividad.academy/calculadora-selectividad](http://selectividad.academy/calculadora-selectividad)

→ Guía completa en [selectividad.academy/guia-selectividad](http://selectividad.academy/guia-selectividad)

→ ¿Tienes dudas? Escríbenos sin compromiso