



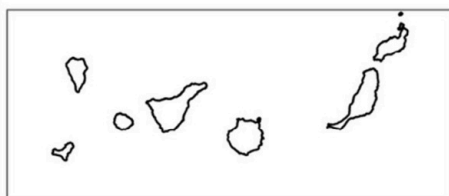
Aferrau la capçalera d'examen
un cop acabat l'exercici

IMPORTANT: Heu de respondre a una qüestió de cada tipus (1, 2, 3 i 4) indistintament del model A o del B.

Opció A

1. Distingiu al mapa adjunt tres aeroports amb una marcada estacionalitat en el trànsit de passatgers i dos ports amb especialització en turisme de creuers.

(Identifiqueu els elements que es demanen, assenyalau-los al mapa, acolorint-los o amb símbols convencionals i amb el nom localitzat sobre l'indret. Afegiu la llegenda i alguna nota explicativa breu al rectangle en blanc.)



0 100 200 Km



Puntuació màxima 2,5 punts



2. Definiu o descriuiu breument **5** termes escollits entre els següents: Mapa topogràfic, *Meseta*, Endorreisme, Pis o estatge de vegetació, Població concentrada, Recurs renovable, Parc tecnològic, Franquícia comercial.

(Es demana una correcta definició amb referència a la matèria de Geografia, i convé que vagi acompanyada de qualche exemple il·lustratiu. No es valorarà res escrit fora dels espais delimitats per a cada terme.)

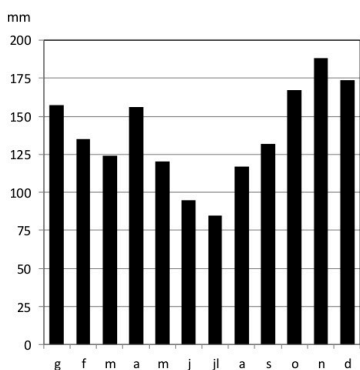
Puntuació màxima 2,5 punts

3. Comentau, contestant les qüestions plantejades, els gràfics següents, referits al repartiment mensual de la precipitació en diferents observatoris.

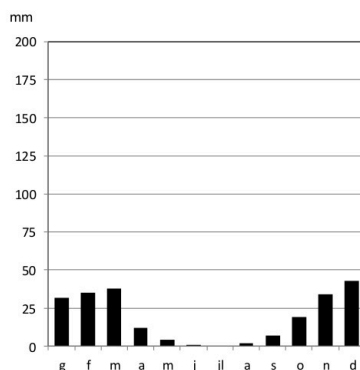
(L'espai per a la resposta és aquest full i la cara posterior. La resposta ha de ser raonada. Cal indicar clarament el número de la qüestió que es respon.)

Precipitació mitjana mensual (1981-2010)

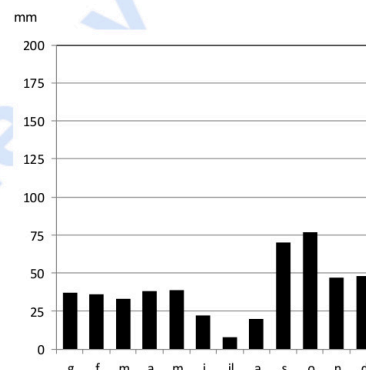
Hondarribia



Santa Cruz de Tenerife



València



Font: AEMET

1. Quins tipus de distribució de la precipitació al llarg de l'any es poden destriar als gràfics adjunts? (0,50 punts)
2. Quines són les èpoques més plujoses i més seques en cada un dels observatoris assenyalats? (0,50 punts)
3. Quins tipus de clima tenen cada un dels indrets representats? Quines són les seves característiques generals? (0,75 punts)
4. Esmentau les conseqüències que per a l'activitat econòmica en general i per a l'activitat agrària en particular pot tenir que un indret tingui un o altre dels climes representats. (0,75 punts)



selectividad.academy

Puntuació màxima 2,5 punts

4. Comentau, contestant les qüestions plantejades, la següent taula estadística, referida a l'evolució de les taxes de natalitat i de mortalitat (expressades en ‰) a Espanya entre 1940 i 2017. (L'espai per a la resposta és aquest full i la cara posterior. La resposta ha de ser raonada. Cal indicar clarament el número de la qüestió que es respon.)

Evolució de les taxes de natalitat i mortalitat (‰) de 1940 a 2017

Any	Natalitat	Mortalitat
1940	24,3	16,5
1950	20,0	10,8
1960	21,6	8,6
1970	19,5	8,3
1980	15,0	7,9
1990	10,3	8,6
2000	9,9	9,0
2010	10,5	8,2
2017	8,4	9,1

Font: INE

1. Quina ha estat l'evolució de la taxa de natalitat al llarg de la segona meitat del segle XX i els primers anys del segle XXI?, quines fases s'hi poden establir? (0,50 punts)
2. Quina ha estat l'evolució de la taxa de mortalitat al llarg de la segona meitat del segle XX i els primers anys del segle XXI?, quines fases s'hi poden establir? (0,50 punts)
3. Quins motius expliquen els canvis observats en els indicadors demogràfics assenyalats? (0,75 punts)
4. Quines conseqüències socials i econòmiques poden tenir els valors actuals de natalitat i mortalitat en cas de mantenir-se durant un període perllongat de temps? (0,75 punts)



selectividad.academy

Puntuació màxima 2,5 punts

Opció B

1. Distingiu al mapa tres sectors amb un clima mediterrani d'influència continental i dos sectors amb un clima semiàrid.

(Identificau els elements que es demanen, assenyalau-los al mapa, acolorint-los o amb símbols convencionals i amb el nom localitzat sobre l'indret. Afegiu la llegenda i alguna nota explicativa breu al rectangle en blanc.)



Puntuació màxima 2,5 punts



2. Definiu o descriu breument **5** termes escollits entre els següents: Coordenades geogràfiques, Plana litoral, Estiatge, Desforestació, Sector secundari, Aigües jurisdiccionals, Indústria pesant, Transports discrecionals.

(Es demana una correcta definició amb referència a la matèria de Geografia, i convé que vagi acompanyada de qualche exemple il·lustratiu. No es valorarà res escrit fora dels espais delimitats per a cada terme.)

Blank response box for the first term.

Blank response box for the second term.

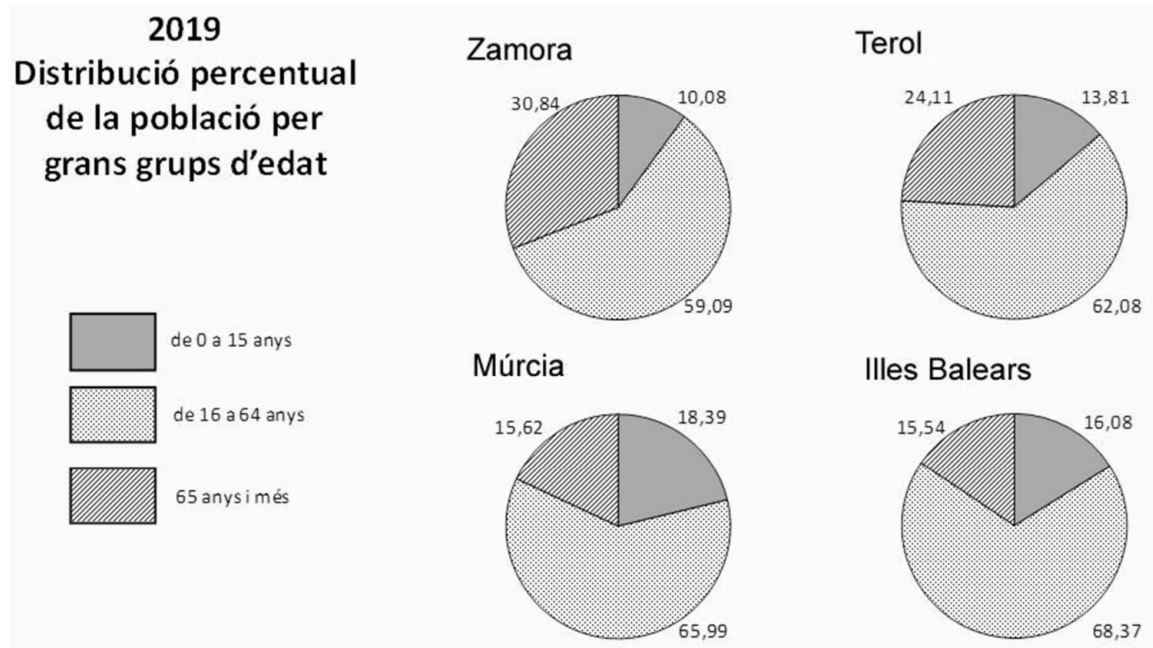
Blank response box for the third term.

Blank response box for the fourth term.

Blank response box for the fifth term.

Puntuació màxima 2,5 punts

3. Comentau, contestant les qüestions plantejades, els següents gràfics, corresponents a la distribució percentual de la població per grans grups d'edat en diferents entitats territorials.
(L'espai per a la resposta és aquest full i la cara posterior. La resposta ha de ser raonada. Cal indicar clarament el número de la qüestió que es respon.)



Font de les dades: Institut Nacional d'Estadística (INE).

1. Quines característiques comunes té la distribució de la població per grans grups d'edat al conjunt de les entitats territorials assenyalades? (0,50 punts)
2. Quines diferències s'aprecien pel que fa a la distribució de la població per grans grups d'edat entre les entitats territorials assenyalades? (0,50 punts)
3. Quins són els motius socioeconòmics que expliquen les diferències en la distribució de la població per edats entre les diferents províncies que es mostren? (0,75 punts)
4. Quines conseqüències socioeconòmiques futures es poden derivar d'una distribució per edats com la que presenten cada una de les entitats territorials dels gràfics? (0,75 punts)



selectividad.academy

Puntuació màxima 2,5 punts

4. Comentau, contestant les qüestions plantejades, la taula estadística següent, corresponent al pes percentual que representava la població de cada comunitat autònoma en relació amb el total de població d'Espanya el 1996 i el 2019.

(L'espai per a la resposta és aquest full i la cara posterior. La resposta ha de ser raonada. Cal indicar clarament el número de la qüestió que es respon.)

Comunitat autònoma	1996 (% sobre el total nacional)	2019 (% sobre el total nacional)
Andalusia	18,24	17,89
Aragó	2,99	2,81
Astúries	2,74	2,17
Canàries	4,05	4,58
Cantàbria	1,33	1,24
Castella-la Manxa	4,32	4,32
Castella i Lleó	6,32	5,10
Catalunya	15,35	16,32
Ceuta	0,17	0,18
Comunitat de Madrid	12,66	14,17
Comunitat Valenciana	10,11	10,64
Euskadi	5,29	4,69
Extremadura	2,70	2,27
Galícia	6,91	5,74
Illes Balears	1,92	2,44
La Rioja	0,67	0,67
Melilla	0,15	0,18
Múrcia	2,77	3,18
Navarra	1,31	1,39

Font: INE, dades processades

1. Quines són les cinc comunitats autònomes que tenen un major pes demogràfic sobre el conjunt de la població espanyola? (0,50 punts)
2. Quins motius expliquen la major concentració de la població en aquests territoris? (0,50 punts)
3. Quines comunitats han guanyat o han perdut pes demogràfic sobre el conjunt de l'Estat entre 1996 i 2019? (s'han de considerar totes les comunitats de la taula)(0,75 punts)
4. Quins motius principals expliquen els canvis observats, pel que fa a les regions que han augmentat o disminuït de manera més important el seu pes poblacional? (0,75 punts)



selectividad.academy

Puntuació màxima 2,5 punts

**Aferrau una etiqueta identificativa
amb codi de barres**





Selectividad Academy

Tu academia de selectividad online

● Mejor academia online de selectividad

Prueba sin compromiso

Primera clase gratis. Sin permanencia. Sin letra pequeña.

- ✓ Profesores especialistas en cada asignatura
- ✓ Clases adaptadas a tu nivel y tus objetivos
- ✓ Todos los exámenes oficiales resueltos paso a paso
- ✓ Calculadora de nota y guía completa en la web

623 769 002

Escríbenos por WhatsApp

www.selectividad.academy

→ [Calcula tu nota en selectividad.academy/calculadora-selectividad](http://selectividad.academy/calculadora-selectividad)

→ [Guía completa en selectividad.academy/guia-selectividad](http://selectividad.academy/guia-selectividad)

→ ¿Tienes dudas? Escríbenos sin compromiso