



Prova de batxillerat per a l'accés a la Universitat (PBAU)

Geografia

Versió en català

Instruccions generals:

- No podeu llegir l'enunciat fins que el professor no us autoritzi.
- No us podeu moure del lloc per demanar dubtes sobre l'examen, sinó que heu de fer-ho des del vostre lloc.
- Durant l'examen no està permès emprar telèfon mòbil (l'haureu de tenir apagat dins la bossa), rellotge ni qualsevol altre dispositiu electrònic.
- Recordau aferrar l'etiqueta identificadora al full de respostes als llocs indicats.
- Recordau que durant l'examen no està permès passar cap tipus de material a una altra persona.
- Si acabau la prova abans que expiri el temps assignat, heu d'aixecar el braç per esperar instruccions.



Geografía: mapas, gráficos y desarrollo bien organizados.

selectividad.academy - 623 769 002

selectividad.academy



Guía completa en selectividad.academy/guia-selectividad

Todo sobre la selectividad



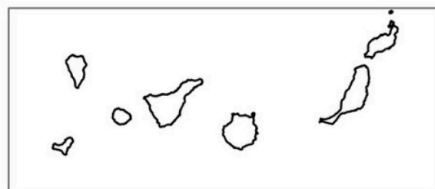
Aferrau la capçalera d'examen
un cop acabat l'exercici

IMPORTANT: Heu de respondre a una qüestió de cada tipus (1, 2, 3 i 4) indistintament del model A o del B.

Opció A

1. Distingiu al mapa adjunt tres àrees amb indústries agroalimentàries i dues àrees on l'activitat industrial ha estat sotmesa a reconversió.

(Identificau els elements que es demanen, assenyalau-los al mapa, acolorint-los o amb símbols convencionals i amb el nom localitzat sobre l'indret. Afegiu la llegenda i alguna nota explicativa breu al rectangle en blanc.)



0 100 200 Km



Puntuació màxima 2,5 punts



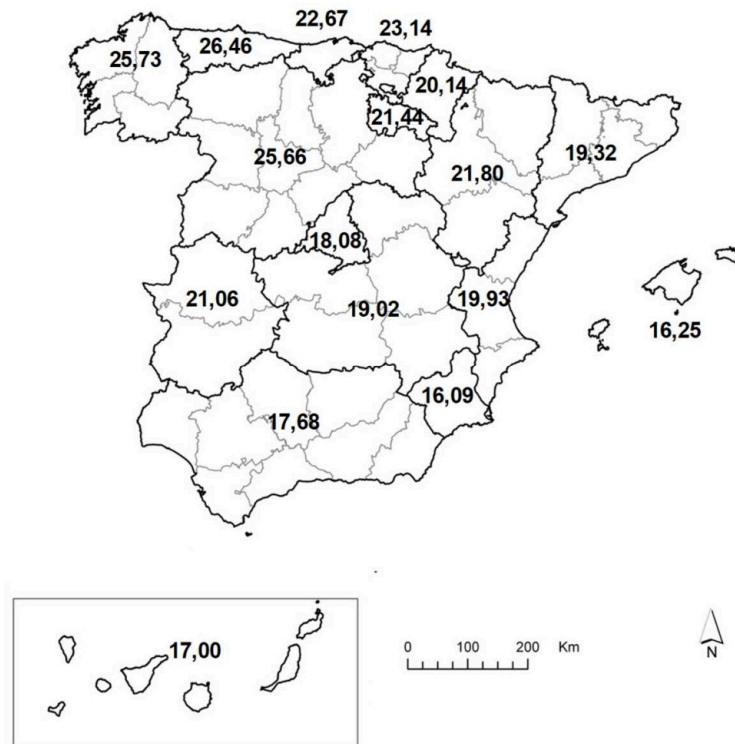
2. Definiu o descriuiu breument **5** termes escollits entre els següents: isolínia, longitud, endorreisme, continentalitat climàtica, població disseminada, mortalitat infantil, barraquisme, recurs no renovable. *(Es demana una correcta definició amb referència a la matèria de Geografia, i convé que vagi acompanyada de qualche exemple il·lustratiu. No es valorarà res escrit fora dels espais delimitats per a cada terme.)*

| |
|--|
| |
| |
| |
| |
| |
| |

Puntuació màxima 2,5 punts

3. Comentau, contestant les qüestions plantejades, aquest mapa que mostra el percentatge de població més gran de 65 anys a les diverses comunitats autònomes.

(L'espai per a la resposta és aquest full i la cara posterior. La resposta ha de ser raonada. Cal indicar clarament el número de la qüestió que es respon.)



Font INE

1. Quines són les comunitats autònomes amb major nivell d'envelliment? *(0,50 punts)*
2. Quines són les comunitats autònomes amb menor envelliment? *(0,50 punts)*
3. Quins són els motius del major o menor envelliment de les diverses comunitats? *(0,75 punts)*
4. Quines conseqüències socials i econòmiques suposa un elevat percentatge de població amb edats superiors a 65 anys? *(0,75 punts)*



selectividad.academy

Puntuació màxima 2,5 punts

4. Comentau, contestant les qüestions plantejades, la taula següent, referida al trànsit mitjà de passatgers de creuers turístics en diversos ports espanyols en el període 2010-2014.

(L'espai per a la resposta és aquest full i la cara posterior. La resposta ha de ser raonada. Cal indicar clarament el número de la qüestió que es respon.)

| Port | Nombre passatgers de creuers |
|------------|------------------------------|
| A Coruña | 125.327 |
| Alacant | 67.900 |
| Almeria | 30.611 |
| Cadis | 359.809 |
| Barcelona | 2.471.980 |
| Bilbao | 64.571 |
| Cartagena | 109.700 |
| Eivissa | 147.360 |
| Las Palmas | 825.510 |
| Maó | 98.767 |
| Màlaga | 550.890 |
| Palma | 1.269.467 |
| Santa Cruz | 819.329 |
| València | 390.328 |
| Vigo | 215.090 |

Font: Revista Pasos (2018)

1. Quins són els principals ports especialitzats en turisme de creuers? (0,50 punts)
2. En quins sectors litorals se situen? (0,50 punts)
3. Quins motius expliquen la distribució en uns o altres ports del trànsit d'aquesta modalitat turística? (0,75 punts)
4. Quines conseqüències econòmiques, ambientals i socials provoca l'auge d'aquest tipus d'activitat econòmica i de lleure? (0,75 punts)



selectividad.academy

Puntuació màxima 2,5 punts

Opció B

1. Distingiu al mapa tres àrees amb predomini de materials calcaris i dues àrees amb predomini de materials silícis.

(Identificau els elements que es demanen, assenyalau-los al mapa, acolorint-los o amb símbols convencionals i amb el nom localitzat sobre l'indret. Afegiu la llegenda i alguna nota explicativa breu al rectangle en blanc.)



Puntuació màxima 2,5 punts



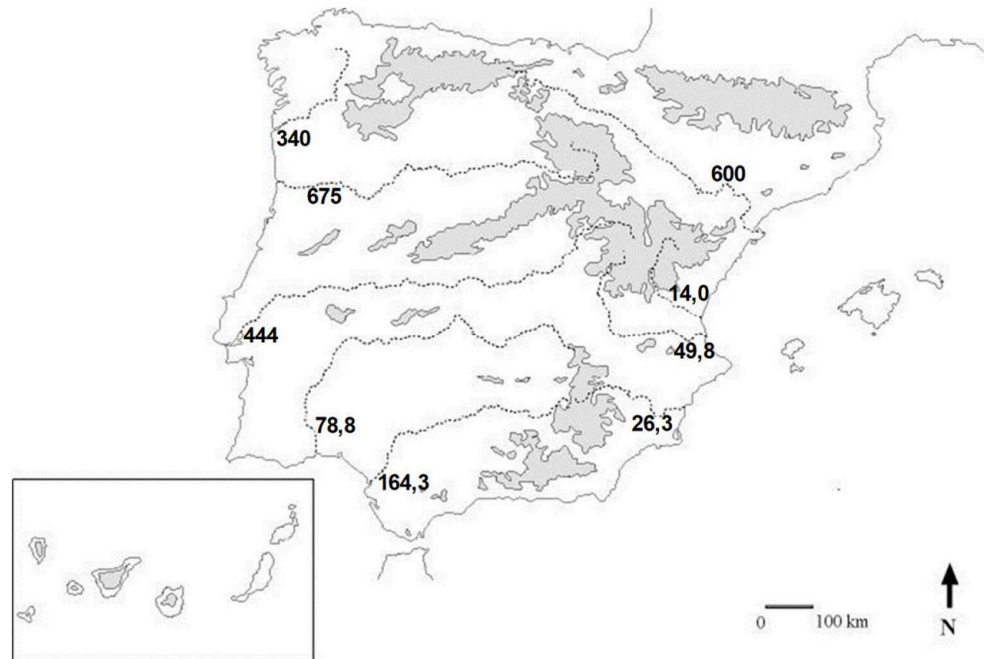
2. Definiu o descriuiu breument **5** termes escollits entre els següents: província, relleu volcànic, estiatge, desastre natural, vegetació macaronèsica, privatització, sector terciari, deslocalització industrial. *(Es demana una correcta definició amb referència a la matèria de Geografia, i convé que vagi acompanyada de qualque exemple il·lustratiu. No es valorarà res escrit fora dels espais delimitats per a cada terme.)*

| |
|--|
| |
| |
| |
| |
| |
| |

Puntuació màxima 2,5 punts

3. Comentau, contestant les qüestions plantejades, el mapa següent, amb informació sobre els cabals mitjans dels principals rius peninsulars, expressats en m³/s.

(L'espai per a la resposta és aquest full i la cara posterior. La resposta ha de ser raonada. Cal indicar clarament el número de la qüestió que es respon.)



1. Quins són els rius principals més cabalosos de la península Ibèrica? *(0,50 punts)*
2. Quins són els rius principals menys cabalosos de la península Ibèrica? *(0,50 punts)*
3. Quins motius expliquen les diferències de cabal observades entre els diversos cursos? *(0,75 punts)*
4. Quines conseqüències ambientals i econòmiques/socials té aquest diferent repartiment de les aportacions dels rius? *(0,75 punts)*



selectividad.academy

Puntuació màxima 2,5 punts

4. Comentau, contestant les qüestions plantejades, la taula estadística següent, que correspon a la distribució percentual de la població ocupada per sectors econòmics el 2018.

(L'espai per a la resposta és aquest full i la cara posterior. La resposta ha de ser raonada. Cal indicar clarament el número de la qüestió que es respon.)

| Província | Població ocupada per sectors econòmics (%) | | | | |
|-----------------|--|-----------|-------------|---------|-------|
| | S.Primari | Indústria | Construcció | Serveis | Total |
| Badajoz | 18,24 | 8,33 | 5,07 | 68,36 | 100 |
| Madrid | 0,21 | 8,78 | 6,21 | 84,8 | 100 |
| Navarra | 4,3 | 26,58 | 6,20 | 62,92 | 100 |
| Tenerife | 3,27 | 4,06 | 7,34 | 85,33 | 100 |

Font: INE

1. Quins són els sectors productius amb major percentatge de treballadors ocupats a les diverses províncies que apareixen a la taula? (0,50 punts)
2. Quins models diferents de distribució de la població ocupada s'hi poden distingir? (0,50 punts)
3. Quins són els motius que expliquen les diferències territorials apreciades? (0,75 punts)
4. Quines conseqüències sobre la societat i el territori es deriven de la major o menor especialització en un o altre sector econòmic a les províncies que apareixen a la taula? (0,75 punts)



selectividad.academy

Puntuació màxima 2,5 punts

**Aferrau una etiqueta identificativa
amb codi de barres**





Selectividad Academy

Tu academia de selectividad online

● Mejor academia online de selectividad

Prueba sin compromiso

Primera clase gratis. Sin permanencia. Sin letra pequeña.

- ✓ Profesores especialistas en cada asignatura
- ✓ Clases adaptadas a tu nivel y tus objetivos
- ✓ Todos los exámenes oficiales resueltos paso a paso
- ✓ Calculadora de nota y guía completa en la web

623 769 002

Escríbenos por WhatsApp

www.selectividad.academy

→ Calcula tu nota en selectividad.academy/calculadora-selectividad

→ Guía completa en selectividad.academy/guia-selectividad

→ ¿Tienes dudas? Escríbenos sin compromiso