

### Instruccions generals

1. L'examen de Geografia de les PAU consta de set exercicis distribuïts de la manera següent:

- Part 1: exercici de mapatge i localització dels blocs B i C. Aquesta pregunta no té opcions; per tant, tothom l'ha de contestar.
- Part 2: exercici del bloc B (comentari guiat a partir de quatre preguntes, introduït per un mapa, gràfic, taula o text). S'ha d'escollir i desenvolupar només una de les dues opcions proposades.
- Part 3: exercici del bloc C (comentari guiat a partir de quatre preguntes, introduït per un mapa, gràfic, taula o text). S'ha d'escollir i desenvolupar només una de les dues opcions proposades.
- Part 4: exercici dels blocs A i C (comentari guiat a partir de quatre preguntes, introduït per un mapa, gràfic, taula o text). S'ha d'escollir i desenvolupar només una de les dues opcions proposades.

2. Tots els exercicis tenen una valoració de 2,5 punts. Vegeu les puntuacions específiques a les diferents parts de l'examen.

3. Es valorarà la coherència, la cohesió i la correcció gramatical, lèxica i ortogràfica, així com la presentació.

4. Temps per fer l'examen: 90 minuts.

5. Material que es pot utilitzar per contestar la prova: l'examen s'ha de contestar amb bolígraf blau o negre.

6. Material auxiliar: es poden fer servir pintures o subratlladors de colors que no siguin vermell o verd, que són els que es faran servir per a la correcció.



**Geografía: mapas, gráficos y desarrollo bien organizados.**

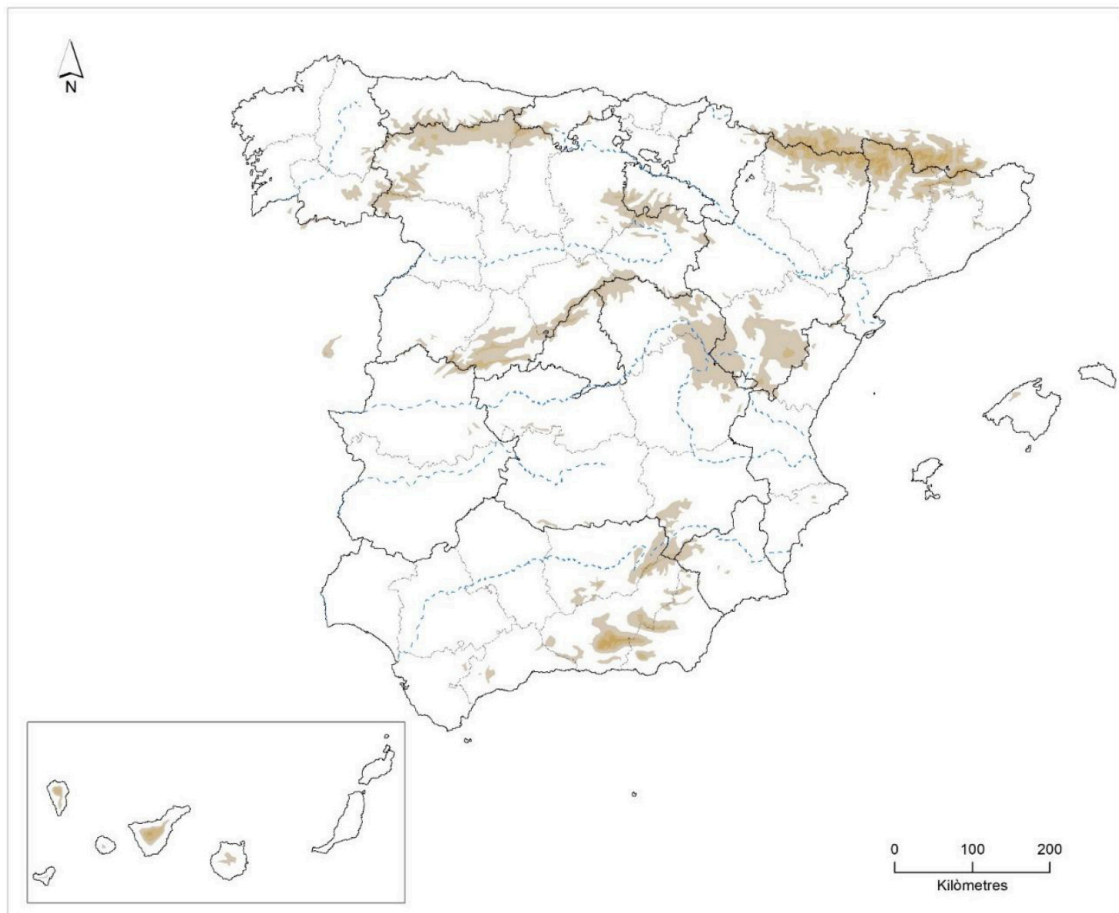
selectividad.academy - 623 769 002

**Part 1**

Puntuació màxima ..... 2,5 punts

**1.** Distingiu, al mapa adjunt, dos rius del vessant mediterrani i tres províncies de l'Espanya buida o despoblada.

*(Identificau els elements que es demanen, assenyalau-los al mapa acolorint-los o amb símbols convencionals i amb el nom localitzat sobre l'indret. Afegiu la llegenda i alguna nota explicativa breu al rectangle en blanc.)*



**Part 2** (*Escolliu una de les dues opcions i desenvolupau-la*)

Puntuació màxima ..... 2,5 punts

**OPCIÓ A.** Comentau, contestant les qüestions plantejades, el text següent.

*(L'espai per a la resposta és aquest full i la cara posterior. La resposta ha de ser raonada i reforçada amb referències al text. Cal indicar clarament el número de la qüestió que es respon. La coherència, cohesió i correcció gramatical, lèxica i ortogràfica dels texts produïts, així com la presentació, es valoren amb 0,25 punts.)*

La necessitat de posar en marxa mesures d'adaptació al canvi climàtic ha quedat de manifest després de la tragèdia meteorològica que ha deixat més de 200 morts a València. El director científic del Centre en Resiliència Climàtica (CRC), Carles Ibáñez, creu que la reconstrucció de la zona després del pas de la DANA serà una bona oportunitat per engegar noves idees i estratègies que evitin que el drama es repeteixi.

Segons el parer de l'expert, les autoritats han ignorat durant dècades el problema de la circulació de l'aigua a l'hora de planificar el territori, cosa que ha propiciat les condicions perquè es produís el pitjor escenari possible després de les pluges torrencials. Mesures com aclarir les zones per on circula l'aigua o construir amb criteris de resiliència són algunes de les seves propostes. I sobretot, escoltar la veu dels experts en prendre decisions en què tots ens juguem el nostre futur.

El més prudent és aprendre del que ha passat, analitzar bé quines zones s'han vist afectades i per què. I, a partir d'aquí, prendre decisions per reconstruir les infraestructures que permetin que, la propera vegada que passi, l'aigua tingui més espai per fluir.

**Carles Ibáñez, 2024** (modificat)

1. A quin tipus de risc natural fa referència el text? En què consisteix? (0,5 punts)
2. Quines mesures proposa l'autor per fer front al risc? (0,5 punts)
3. Quines àrees d'Espanya són les més afectades per aquest tipus d'esdeveniments i per què? (0,75 punts)
4. Escull un dels tres termes següents i defineix-lo: canvi climàtic, aridesa, desastre natural. (Es demana una definició correcta amb referència a la matèria de Geografia, i convé que vagi acompanyada de qualche exemple il·lustratiu.) (0,5 punts)



**Guía completa en [selectividad.academy/guia-selectividad](https://selectividad.academy/guia-selectividad)**

Todo sobre la selectividad



- Cada examen practicado te acerca a tu objetivo

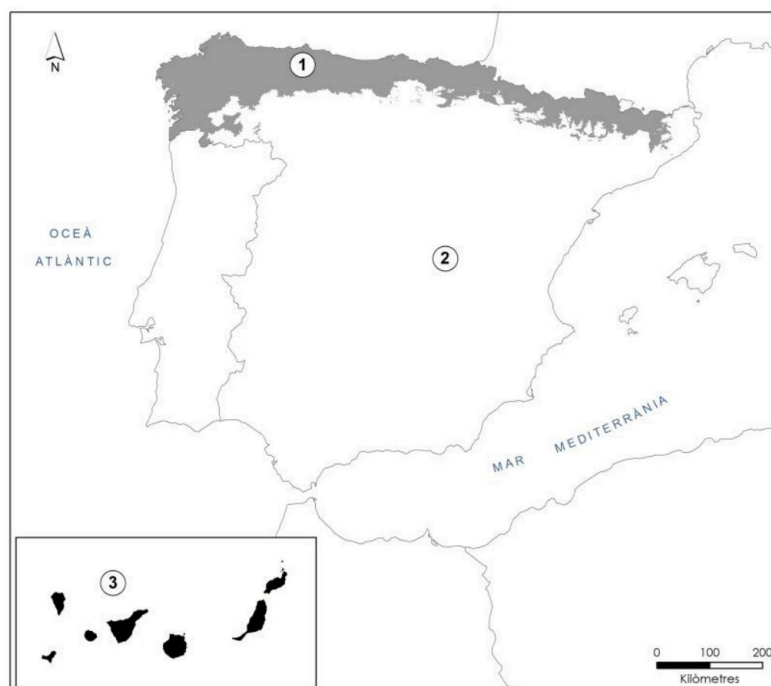
[Prueba gratis](#)

**Part 2** (Escolliu una de les dues opcions i desenvolupau-la)

Puntuació màxima ..... 2,5 punts

**OPCIÓ B.** Comentau, contestant les qüestions plantejades, el mapa següent, referit a la distribució de les regions biogeogràfiques.

(L'espai per a la resposta és aquest full i la cara posterior. La resposta ha de ser raonada i reforçada amb referències al mapa. Cal indicar clarament el número de la qüestió que es respon. La coherència, cohesió i correcció gramatical, lèxica i ortogràfica dels texts produïts, així com la presentació, es valoren amb 0,25 punts.)



1. Quines regions biogeogràfiques corresponen a cada un dels números indicats al mapa? (0,5 punts)
2. Quines són les característiques de la vegetació de la regió biogeogràfica 1? (0,5 punts)
3. Quines condicions climàtiques expliquen la vegetació de la regió biogeogràfica 1? (0,75 punts)
4. Escull un dels tres termes següents i defineix-lo: endemisme, paisatge natural, parc natural. (Es demana una definició correcta amb referència a la matèria de Geografia, i convé que vagi acompanyada de qualche exemple il·lustratiu.) (0,5 punts)



**Te ayudamos a sacar la nota que necesitas**

selectividad.academy · 623 769 002



**Tú puedes. Y nosotros te ayudamos a demostrarlo.**

selectividad.academy

**Part 3** (Escolliu una de les dues opcions i desenvolupau-la)

Puntuació màxima ..... 2,5 punts

**OPCIÓ A.** Comentau, contestant les qüestions plantejades, la taula següent, corresponent als estrangers a Espanya i a les Illes Balears, segons el lloc d'origen. (L'espai per a la resposta és aquest full i la cara posterior. La resposta ha de ser raonada i reforçada amb valors numèrics. Cal indicar clarament el número de la qüestió que es respon. La coherència, cohesió i correcció gramatical, lèxica i ortogràfica dels texts produïts, així com la presentació, es valoren amb 0,25 punts.)

	Espanya		Illes Balears	
	Estrangers	%	Estrangers	%
Unió Europea	1.617.911	29,2%	82.116	37,02%
Resta d'Europa	588.050	10,6%	26.834	12,10%
Àfrica	1.217.706	22,0%	40.414	18,22%
Amèrica Central i el Carib	368.461	6,7%	6.609	2,98%
Amèrica del Nord	76.628	1,4%	2.351	1,06%
Amèrica del Sud	1.173.900	21,2%	48.455	21,84%
Àsia	493.065	8,9%	14.648	6,60%
Oceania	3.580	0,1%	386	0,17%
<b>Total</b>	<b>5.539.301</b>	<b>100</b>	<b>221.813</b>	<b>100%</b>

Font: INE, 2022

1. Quins són els grups de població estrangera més nombrosos a Espanya i a les Balears? (0,5 punts)
2. Quines diferències s'observen entre les distribucions d'Espanya i de les Balears? (0,5 punts)
3. Quines són les causes de les migracions i quins motius expliquen les diferències que s'aprecien entre Espanya i les Balears? (0,75 punts)
4. Escull un dels tres termes següents i defineix-lo: emigració intercontinental, població activa, mortalitat infantil. (Es demana una definició correcta amb referència a la matèria de Geografia, i convé que vagi acompanyada de qualche exemple il·lustratiu.) (0,5 punts)



selectividad.academy

**Part 3** (Escolliu una de les dues opcions i desenvolupau-la)

Puntuació màxima ..... 2,5 punts

**OPCIÓ B.** Comentau, contestant les qüestions plantejades, el plànol de la ciutat de Palma.

(L'espai per a la resposta és aquest full i la cara posterior. La resposta ha de ser raonada i reforçada amb referències al plànol. Cal indicar clarament el número de la qüestió que es respon. La coherència, cohesió i correcció gramatical, lèxica i ortogràfica dels texts produïts, així com la presentació, es valoren amb 0,25 punts.)



1. Quin tipus de trama urbana correspon a cada un dels números indicats? A quines èpoques històriques respon el seu origen? (0,5 punts)
2. A quines dues parts de la ciutat corresponen i quines són les seves característiques morfològiques? (0,5 punts)
3. Quines són les funcions econòmiques i socials que sol exercir cada una d'aquestes parts de la ciutat? (0,75 punts)
4. Escull un dels tres termes següents i defineix-lo: perifèria urbana, districte central de negocis o CBD, àrea metropolitana. (Es demana una definició correcta amb referència a la matèria de Geografia, i convé que vagi acompanyada de qualche exemple il·lustratiu.) (0,5 punts)



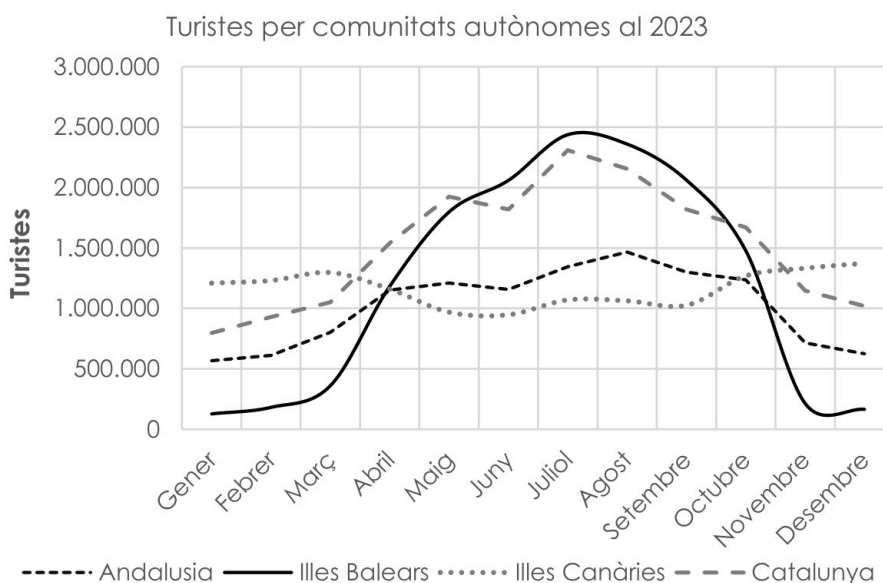
selectividad.academy

**Part 4** (Escolliu una de les dues opcions i desenvolupau-la)

Puntuació màxima ..... 2,5 punts

**OPCIÓ A.** Comentau, contestant les qüestions plantejades, el gràfic següent, corresponent al nombre de turistes arribats per mesos a diferents comunitats autònomes el 2023.

(L'espai per a la resposta és aquest full i la cara posterior. La resposta ha de ser raonada i reforçada amb referències al gràfic. Cal indicar clarament el número de la qüestió que es respon. La coherència, cohesió i correcció gramatical, lèxica i ortogràfica dels texts produïts, així com la presentació, es valoren amb 0,25 punts.)



Font: INE, 2023

1. Quines diferències es poden observar en la distribució per mesos del nombre de turistes entre les diferents comunitats autònomes? (0,5 punts)
2. Quines comunitats autònomes presenten més estacionalitat turística i quines menys, segons es desprèn del gràfic? (0,5 punts)
3. Quins són els motius que expliquen aquestes diferències entre territoris? (0,75 punts)
4. Escull un dels tres termes següents i defineix-lo: lloguer turístic, estacionalitat turística, turisme alternatiu. (Es demana una definició correcta amb referència a la matèria de Geografia, i convé que vagi acompanyada de qualche exemple il·lustratiu.) (0,5 punts)

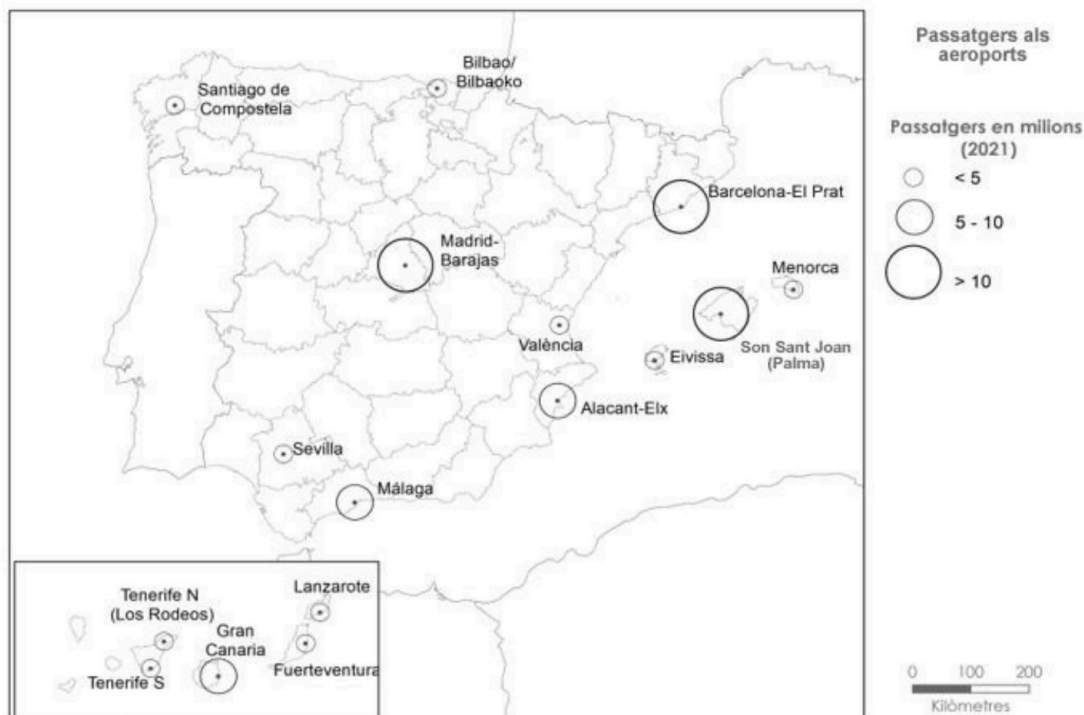


selectividad.academy

**Part 4** (Escolliu una de les dues opcions i desenvolupau-la)

Puntuació màxima ..... 2,5 punts

**OPCIÓ B.** Comentau, contestant les qüestions plantejades, el mapa següent, corresponent al nombre de passatgers totals als principals aeroports espanyols el 2021. (L'espai per a la resposta és aquest full i la cara posterior. La resposta ha de ser raonada i reforçada amb referències al mapa. Cal indicar clarament el número de la qüestió que es respon. La coherència, cohesió i correcció gramatical, lèxica i ortogràfica dels texts produïts, així com la presentació, es valoren amb 0,25 punts.)



Font: AENA, 2021

1. Quins són els aeroports amb un nombre total de passatgers més elevat i a quines comunitats autònomes pertanyen? (0,5 punts)
2. Indica el nom de 5 comunitats autònomes que no tinguin cap dels aeroports amb un nombre de passatgers més elevat mostrats al mapa. (0,5 punts)
3. Quins són els motius que expliquen les diferències en el nombre de passatgers dels aeroports? (0,75 punts)
4. Escull un dels tres termes següents i defineix-lo: transports regulars, cadena hotelera, turisme de masses. (Es demana una definició correcta amb referència a la matèria de Geografia, i convé que vagi acompanyada de qualche exemple il·lustratiu.) (0,5 punts)



selectividad.academy

Aferrau una etiqueta identificativa  
amb codi de barres





# Selectividad Academy

Tu academia de selectividad online

● Mejor academia online de selectividad

## Prueba sin compromiso

Primera clase gratis. Sin permanencia. Sin letra pequeña.

- ✓ Profesores especialistas en cada asignatura
- ✓ Clases adaptadas a tu nivel y tus objetivos
- ✓ Todos los exámenes oficiales resueltos paso a paso
- ✓ Calculadora de nota y guía completa en la web

**623 769 002**

Escríbenos por WhatsApp

[www.selectividad.academy](http://www.selectividad.academy)

→ Calcula tu nota en [selectividad.academy/calculadora-selectividad](http://selectividad.academy/calculadora-selectividad)

→ Guía completa en [selectividad.academy/guia-selectividad](http://selectividad.academy/guia-selectividad)

→ ¿Tienes dudas? Escríbenos sin compromiso