

Instruccions generals

1. L'examen de Geografia de les PAU consta de set exercicis distribuïts de la manera següent:

- Part 1: exercici de mapatge i localització dels blocs B i C. Aquesta pregunta no té opcions; per tant, tothom l'ha de contestar.
- Part 2: exercici del bloc B (comentari guiat a partir de quatre preguntes, introduït per un mapa, gràfic, taula o text). S'ha d'escollir i desenvolupar només una de les dues opcions proposades.
- Part 3: exercici del bloc C (comentari guiat a partir de quatre preguntes, introduït per un mapa, gràfic, taula o text). S'ha d'escollir i desenvolupar només una de les dues opcions proposades.
- Part 4: exercici dels blocs A i C (comentari guiat a partir de quatre preguntes, introduït per un mapa, gràfic, taula o text). S'ha d'escollir i desenvolupar només una de les dues opcions proposades.

2. Tots els exercicis tenen una valoració de 2,5 punts. Vegeu les puntuacions específiques a les diferents parts de l'examen.

3. Es valorarà la coherència, la cohesió i la correcció gramatical, lèxica i ortogràfica, així com la presentació.

4. Temps per fer l'examen: 90 minuts.

5. Material que es pot utilitzar per contestar la prova: l'examen s'ha de contestar amb bolígraf blau o negre.

6. Material auxiliar: es poden fer servir pintures o subratlladors de colors que no siguin vermell o verd, que són els que es faran servir per a la correcció.



Geografía: mapas, gráficos y desarrollo bien organizados.

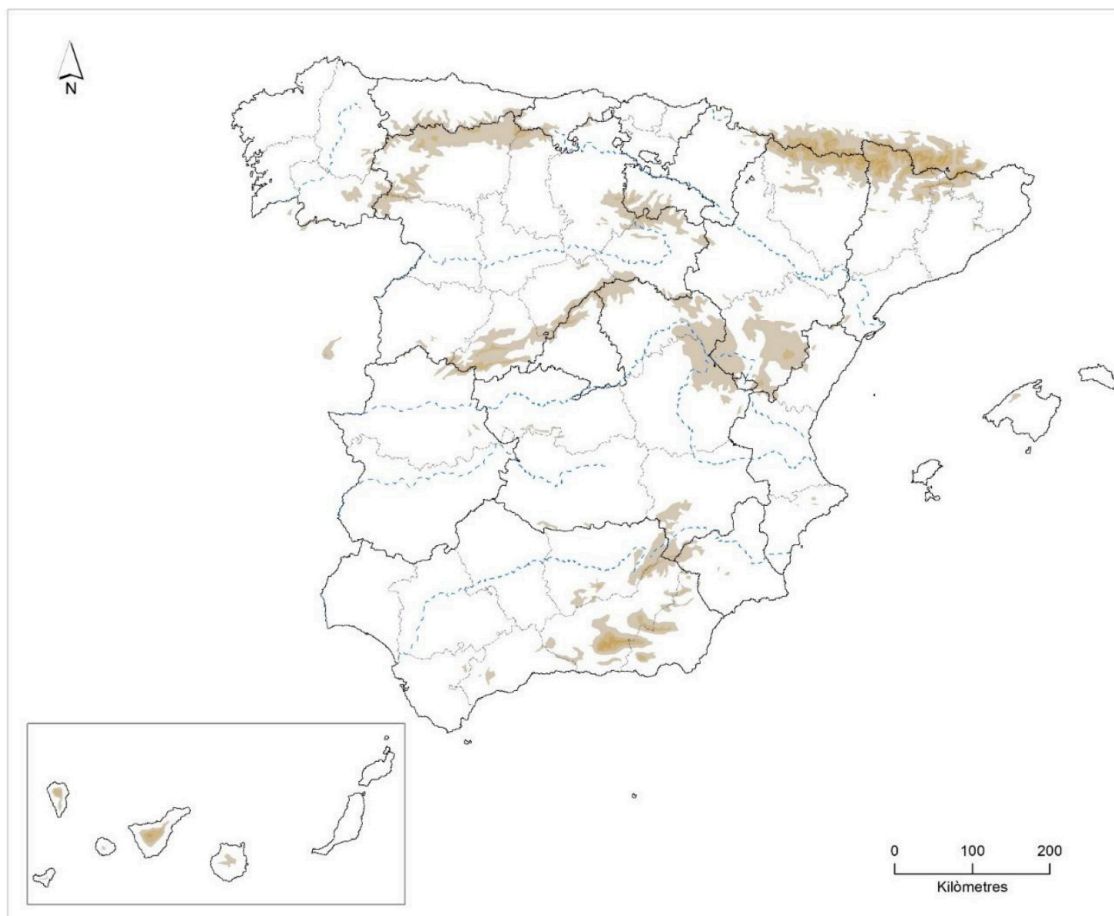
selectividad.academy - 623 769 002

Part 1

Puntuació màxima 2,5 punts

1. Distingiu, al mapa adjunt, tres àrees de domini de materials calcaris i dues àrees on domini la ramaderia intensiva.

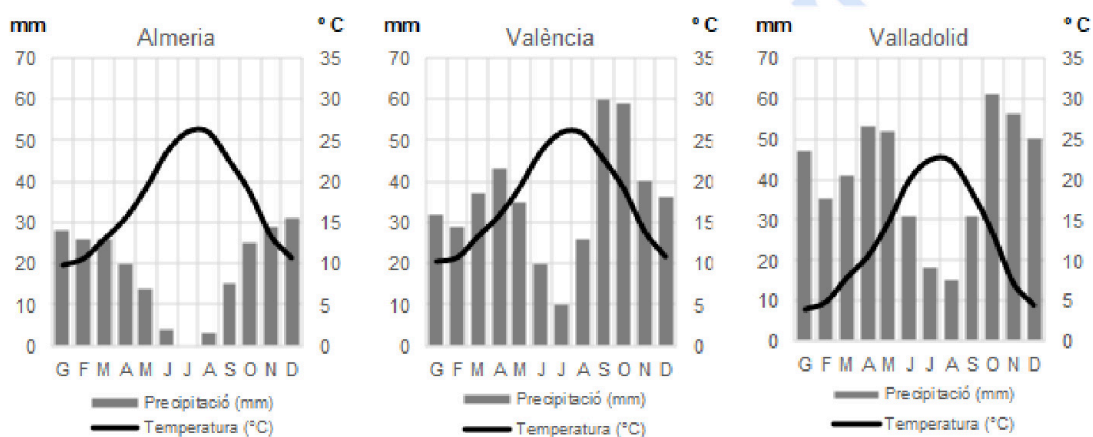
(Identificau els elements que es demanen, assenyalau-los al mapa acolorint-los o amb símbols convencionals i amb el nom localitzat sobre l'indret. Afegiu la llegenda i alguna nota explicativa breu al rectangle en blanc.)



Part 2 (Escolliu una de les dues opcions i desenvolupau-la)

Puntuació màxima 2,5 punts

OPCIÓ A. Comentau, contestant les qüestions plantejades, els gràfics següents. (L'espai per a la resposta és aquest full i la cara posterior. La resposta ha de ser raonada i reforçada amb referències als gràfics. Cal indicar clarament el número de la qüestió que es respon. La coherència, cohesió i correcció gramatical, lèxica i ortogràfica dels texts produïts, així com la presentació, es valoren amb 0,25 punts.)



Font: <https://es.climate-data.org/>

1. Quines diferències en la distribució de la precipitació i les temperatures hi ha entre els diversos climogrames? (0,5 punts)
2. A quins tipus de clima pertanyen els gràfics que s'adjunten? (0,5 punts)
3. Quines conseqüències sobre la vegetació tenen aquests tres models de distribució de les precipitacions i temperatures al llarg de l'any? (0,75 punts)
4. Escull un dels tres termes següents i defineix-lo: desertització, aridesa, vegetació xeròfila. (Es demana una definició correcta amb referència a la matèria de Geografia, i convé que vagi acompanyada de qualche exemple il·lustratiu.) (0,5 punts)



Guía completa en selectividad.academy/guia-selectividad

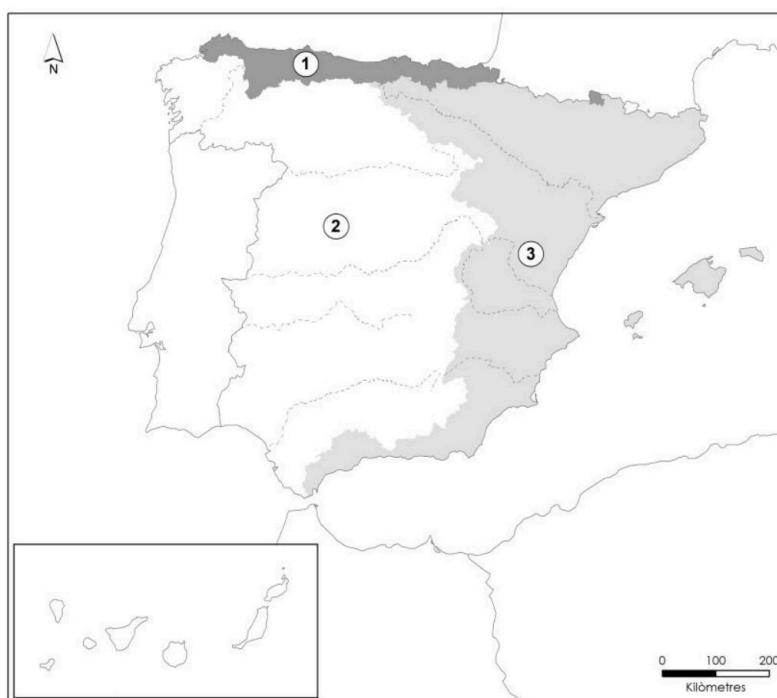
Todo sobre la selectividad

Part 2 (Escolliu una de les dues opcions i desenvolupau-la)

Puntuació màxima 2,5 punts

OPCIÓ B. Comentau, contestant les qüestions plantejades, el mapa següent, referit als vessants hidrogràfics.

(L'espai per a la resposta és aquest full i la cara posterior. La resposta ha de ser raonada i reforçada amb referències al mapa. Cal indicar clarament el número de la qüestió que es respon. La coherència, cohesió i correcció gramatical, lèxica i ortogràfica dels texts produïts, així com la presentació, es valoren amb 0,25 punts.)



1. Quins vessants hidrogràfics corresponen a cada un dels números indicats al mapa? (0,5 punts)
2. Quines són les característiques principals dels rius de cada vessant? (0,5 punts)
3. Quines condicions climàtiques i geomorfològiques expliquen les característiques dels rius de cada un dels vessants? (0,75 punts)
4. Escull un dels tres termes següents i defineix-lo: exorreisme, estiatge, torrent. (Es demana una definició correcta amb referència a la matèria de Geografia, i convé que vagi acompanyada de qualque exemple il·lustratiu.) (0,5 punts)

● Cada examen practicado te acerca a tu objetivo

Prueba gratis



Te ayudamos a sacar la nota que necesitas

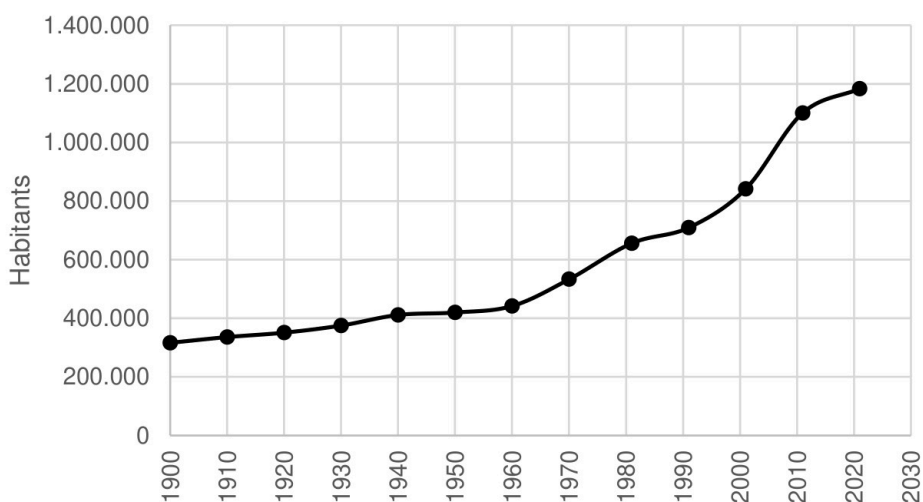
selectividad.academy · 623 769 002

Part 3 (Escolliu una de les dues opcions i desenvolupau-la)

Puntuació màxima 2,5 punts

OPCIÓ A. Comentau, contestant les qüestions plantejades, el gràfic següent, corresponent a l'evolució de la població de les Illes Balears entre 1900 i 2021.
(L'espai per a la resposta és aquest full i la cara posterior. La resposta ha de ser raonada i reforçada amb referències al gràfic. Cal indicar clarament el número de la qüestió que es respon. La coherència, cohesió i correcció gramatical, lèxica i ortogràfica dels texts produïts, així com la presentació, es valoren amb 0,25 punts.)

Evolució de la població de les Illes Balears (1900-2021)



Font: Censos de població. IBESTAT

1. Quina ha estat l'evolució de la població de les Illes Balears entre 1900 i 2021? (0,5 punts)
2. Quins han estat els períodes amb un creixement més important? (0,5 punts)
3. Quins han estat els motius que expliquen els diversos moments de major increment de la població? (0,75 punts)
4. Escull un dels tres termes següents i defineix-lo: cens, cicle demogràfic modern, creixement real de la població. (Es demana una definició correcta amb referència a la matèria de Geografia, i convé que vagi acompanyada de qualche exemple il·lustratiu.) (0,5 punts)



Tú puedes. Y nosotros te ayudamos a demostrarlo.

selectividad.academy



selectividad.academy

Part 3 (Escolliu una de les dues opcions i desenvolupau-la)

Puntuació màxima 2,5 punts

OPCIÓ B. Comentau, contestant les qüestions plantejades, el plànol de Ciutadella. (L'espai per a la resposta és aquest full i la cara posterior. La resposta ha de ser raonada i reforçada amb referències al plànol. Cal indicar clarament el número de la qüestió que es respon. La coherència, cohesió i correcció gramatical, lèxica i ortogràfica dels texts produïts, així com la presentació, es valoren amb 0,25 punts.)



1. Quin tipus de trama urbana correspon a cada un dels números indicats? A quines èpoques històriques respon el seu origen? (0,5 punts)
2. A quines dues parts de la ciutat corresponen i quines són les seves característiques morfològiques? (0,5 punts)
3. Quines són les funcions econòmiques i socials que sol exercir cada una d'aquestes parts de la ciutat? (0,75 punts)
4. Escull un dels tres termes següents i defineix-lo: trama urbana, planejament urbanístic, àrea metropolitana. (Es demana una definició correcta amb referència a la matèria de Geografia, i convé que vagi acompanyada de qualque exemple il·lustratiu.) (0,5 punts)



Universitat
de les Illes Balears

Proves d'accés
a la Universitat

Geografia

Model 2

selectividad.academy

Part 4 (Escolliu una de les dues opcions i desenvolupau-la)

Puntuació màxima 2,5 punts

OPCIÓ A. Comentau, contestant les qüestions plantejades, la taula següent, corresponent a la distribució del percentatge del PIB per sectors econòmics el 2022. (L'espai per a la resposta és aquest full i la cara posterior. La resposta ha de ser raonada i reforçada amb referències als valors de la taula. Cal indicar clarament el número de la qüestió que es respon. La coherència, cohesió i correcció gramatical, lèxica i ortogràfica dels texts produïts, així com la presentació, es valoren amb 0,25 punts.)

	% PIB per sectors econòmics		
	Primari	Secundari	Terciari
Andalusia	6,2	18,7	75,2
Aragó	5,5	29,0	65,5
Astúries	1,2	28,8	70,0
Illes Balears	0,4	13,8	85,7
Canàries	1,5	13,2	85,3
Cantàbria	1,2	29,5	69,3
Castella i Lleó	5,2	27,4	67,5
Castella-la Manxa	8,2	27,6	64,2
Catalunya	0,9	25,4	73,7
Comunitat Valenciana	1,8	26,3	71,9
Extremadura	7,7	22,4	69,9
Galícia	4,1	25,7	70,2
Comunitat de Madrid	0,1	15,8	84,1
Regió de Múrcia	4,5	26,0	69,5
Comunitat Foral de Navarra	3,4	36,0	60,6
País Basc	0,4	31,3	68,2
La Rioja	5,2	31,4	63,5

Font: INE, 2022

1. Quines són les comunitats autònomes que tenen més pes del sector secundari i del terciari? (0,5 punts)
2. Quin tipus d'activitats s'inclouen en el sector secundari? I en el terciari? (0,5 punts)
3. Quins són els motius que expliquen la major especialització en els sectors secundari i terciari a les comunitats indicades a la pregunta 1? (0,75 punts)
4. Escull un dels tres termes següents i defineix-lo: producte interior brut (PIB), reindustrialització, balança comercial. (Es demana una definició correcta amb referència a la matèria de Geografia, i convé que vagi acompanyada de qualche exemple il·lustratiu.) (0,5 punts)



Universitat
de les Illes Balears

Proves d'accés
a la Universitat

Geografia

Model 2

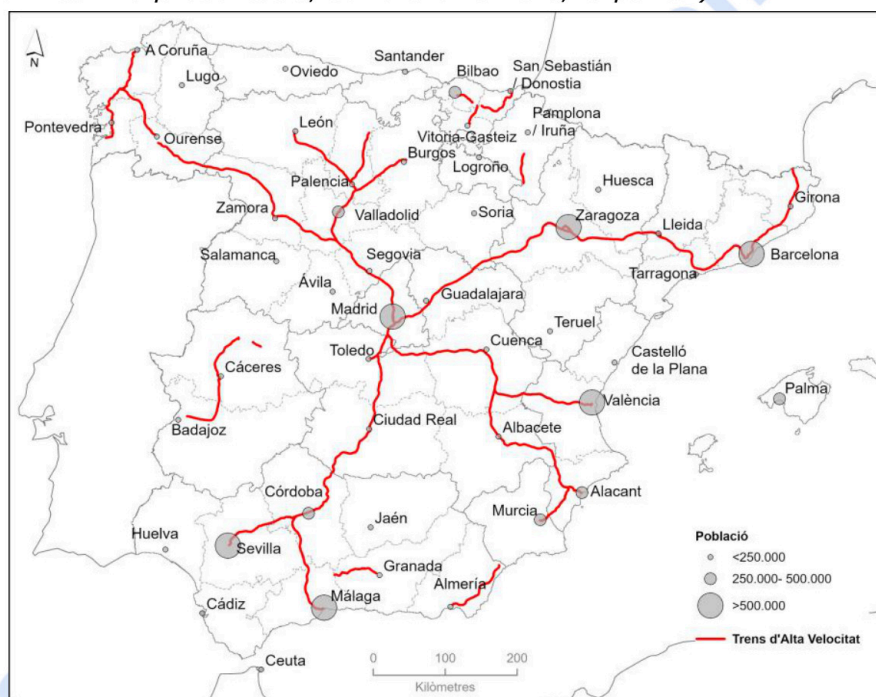
selectividad.academy

Part 4 (Escolliu una de les dues opcions i desenvolupau-la)

Puntuació màxima 2,5 punts

OPCIÓ B. Comentau, contestant les qüestions plantejades, el mapa següent, corresponent a les línies de tren d'alta velocitat.

(L'espai per a la resposta és aquest full i la cara posterior. La resposta ha de ser raonada i reforçada amb referències al mapa. Cal indicar clarament el número de la qüestió que es respon. La coherència, cohesió i correcció gramatical, lèxica i ortogràfica dels texts produïts, així com la presentació, es valoren amb 0,25 punts.)



Font: INE i IGN, 2023

1. Quin tipus d'organització de xarxa segueix el traçat del ferrocarril d'alta velocitat a Espanya? (0,5 punts)
2. Quines són les principals línies que surten des de Madrid? Quines capitals de província de més de 500.000 habitants estan connectades directament entre elles, sense passar per Madrid? (0,5 punts)
3. Quines conseqüències per a la connectivitat entre territoris es deriven de la configuració de la xarxa? Quines alternatives de comunicació es poden desenvolupar per millorar la connectivitat entre els diferents territoris? (0,75 punts)
4. Escull un dels tres termes següents i defineix-lo: desequilibris territorials, centralisme politicoadministratiu, província. (Es demana una definició correcta amb referència a la matèria de Geografia, i convé que vagi acompanyada de qualche exemple il·lustratiu.) (0,5 punts)



selectividad.academy

Aferrau una etiqueta identificativa
amb codi de barres





Selectividad Academy

Tu academia de selectividad online

● Mejor academia online de selectividad

Prueba sin compromiso

Primera clase gratis. Sin permanencia. Sin letra pequeña.

- ✓ Profesores especialistas en cada asignatura
- ✓ Clases adaptadas a tu nivel y tus objetivos
- ✓ Todos los exámenes oficiales resueltos paso a paso
- ✓ Calculadora de nota y guía completa en la web

623 769 002

Escríbenos por WhatsApp

www.selectividad.academy

→ Calcula tu nota en selectividad.academy/calculadora-selectividad

→ Guía completa en selectividad.academy/guia-selectividad

→ ¿Tienes dudas? Escríbenos sin compromiso