

Prova de batxillerat per a l'accés a la Universitat (PBAU)

Química

Versió en català

Instruccions generals

- Emplenau la caràtula amb el número del document d'identitat, nom i cognoms.
- ÉS IMPORTANT** que marqueu correctament totes les caselles corresponents al document d'identitat, codi de matèria i opció. La marca ha de quedar com aquesta:

Fixau-vos bé que marcau correctament la fila i la columna corresponents al número que heu de marcar. Un error freqüent és marcar l'1 a la fila 0. Després d'emplenar les caselles del document d'identitat i el codi d'examen, revisau que les heu marcades correctament.

Instruccions per marcar el document d'identitat al full de respostes

	Document	Instrucció								
1	DNI / NIE	Heu de marcar la part numèrica del document. Si el document té menys de 8 dígits numèrics, mirau el punt 3 d'aquesta taula.								
2	Identificadors de més de 8 dígits numèrics	Heu de marcar els primers 8 dígits numèrics del document començant per l'esquerra. Exemple d'identificador: 800A12B7457 <table border="1" style="display: inline-table; vertical-align: middle;"><tr><td>8</td><td>0</td><td>0</td><td>1</td><td>2</td><td>7</td><td>4</td><td>5</td></tr></table>	8	0	0	1	2	7	4	5
8	0	0	1	2	7	4	5			
3	Identificadors de menys de 8 dígits numèrics	Per exemple, si el document té 6 dígits numèrics, heu de marcar 2 zeros començant per l'esquerra i després marcar-ne la part numèrica. Exemple d'identificador: 81A2B745 <table border="1" style="display: inline-table; vertical-align: middle;"><tr><td>0</td><td>0</td><td>8</td><td>1</td><td>2</td><td>7</td><td>4</td><td>5</td></tr></table>	0	0	8	1	2	7	4	5
0	0	8	1	2	7	4	5			

- Indicau a la pàgina 1 el nom de la matèria i marcau-ne el codi, tal com s'indica a la figura:

Codi de la matèria:

222

	0	1	2	3	4	5	6	7	8	9
2	<input type="checkbox"/>	<input type="checkbox"/>	<input checked="" type="checkbox"/>	<input type="checkbox"/>	<input type="checkbox"/>	<input type="checkbox"/>	<input type="checkbox"/>	<input type="checkbox"/>	<input type="checkbox"/>	<input type="checkbox"/>
2	<input type="checkbox"/>	<input type="checkbox"/>	<input checked="" type="checkbox"/>	<input type="checkbox"/>	<input type="checkbox"/>	<input type="checkbox"/>	<input type="checkbox"/>	<input type="checkbox"/>	<input type="checkbox"/>	<input type="checkbox"/>
2	<input type="checkbox"/>	<input type="checkbox"/>	<input checked="" type="checkbox"/>	<input type="checkbox"/>	<input type="checkbox"/>	<input type="checkbox"/>	<input type="checkbox"/>	<input type="checkbox"/>	<input type="checkbox"/>	<input type="checkbox"/>

- Independentment de les preguntes que contesteu, heu de marcar obligatòriament l'opció A, tal com s'indica a la imatge:
Opció / Opción: A
- Començau a respondre l'examen per la pàgina 2, seguint la numeració i no heu d'escriure fora dels marges superior (per damunt del codi de barres) i inferior (després del peu de pàgina).
- Si acabau la prova abans que expiri el temps assignat, heu d'aixecar el braç per esperar instruccions.
- No heu de llevar la grapa del full de respostes.



Química paso a paso. Formulación, problemas y teoría clara.

selectividad.academy - 623 769 002

selectividad.academy



Calcula tu nota en selectividad.academy/calculadora-selectividad
Herramienta gratuita

Contesta fins a un màxim de 5 preguntes d'entre totes les proposades a les opcions A i B de l'examen. Utilitza la taula periòdica adjunta. Pots usar la calculadora.

La puntuació màxima de cada pregunta està indicada a l'inici de la pregunta. La nota de l'examen és la suma de les puntuacions.

OPCIÓ A

1A. (2 punts)

El premi Nobel de Química de l'any 2021 va ser concedit als investigadors Benjamin List i David WC MacMillan (figura 1) pel desenvolupament d'un nou tipus de catalitzadors, els quals regulen l'obtenció de molècules d'una forma més eficient i més respectuosa amb el medi ambient.

En concret, aquests investigadors utilitzaren la prolina (figura 2) com a catalitzador per a la producció de nous composts de gran interès per a la indústria farmacèutica.




Figura 1. Benjamin List i David WC MacMillan

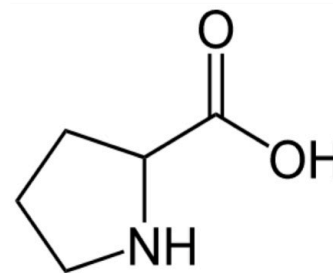


Figura 2. Estructura química de la prolina

- Anomena els grups funcionals que apareixen a la prolina.
- Indica, de forma raonada, la veracitat de l'afirmació següent:
«l'ús d'un catalitzador disminueix la constant de velocitat de la reacció».
- Anomena els composts següents: HNO_3 i NH_4Cl .

2A. (2 punts)

El trihidru de fòsfor, PH_3 (també conegut com a fosfina), a temperatura ambient és un gas incolor que es reconeix fàcilment per la forta olor d'all.

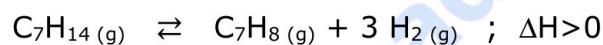
- Explica la geometria de la molècula de PH_3 segons la teoria de la repulsió de parells electrònics de la capa de valència (TRPECV).
- Indica si es tracta d'una molècula polar o apolar. Justifica la resposta.
- Justifica, de forma raonada, per què el punt d'ebullició de l'amoníac, NH_3 ($-33\text{ }^\circ\text{C}$), és més elevat que el punt d'ebullició del PH_3 ($-87,7\text{ }^\circ\text{C}$).

- d) Quin és el significat del següent pictograma, el qual apareix a la fitxa tècnica del PH_3 ?



3A. (2 punts)

El toluè (C_7H_8) és un hidrocarbur aromàtic que s'utilitza per a la producció d'explosius, com el TNT, colorants, detergents i altres productes. El toluè es pot obtenir a partir de la deshidrogenació del metilciclohexà (C_7H_{14}) mitjançant la reacció química següent:



En un recipient d'1 litre, inicialment buit, s'introdueixen 0,6 mols de metilciclohexà i s'escalfen a 700 K, de forma que, una vegada assolit l'equilibri, hi ha 0,45 mols de dihidrogen dins la mescla gasosa.

- Determina la constant d'equilibri en concentracions (K_c) i la constant d'equilibri en pressions (K_p), ambdues a 700 K.
- Quin efecte tindrà sobre la concentració de toluè present a la mescla gasosa en equilibri un augment de la temperatura? Justifica la resposta.

4A. (2 punts)

La indústria química produeix grans quantitats d'àcid cianhídric (HCN) arreu del món. S'utilitza per fabricar explosius, fibres sintètiques, plàstics, pesticides, etc.

Una dissolució aquosa d'aquest compost, a 25 °C, presenta un pH = 4,3.

Calcula:

- La concentració, en mol/L, d'aquesta dissolució.
- El grau de dissociació de l'àcid cianhídric.
- Sense necessitat de fer càlculs numèrics, explica si una dissolució de NaCN presentarà un pH àcid, bàsic o neutre.

Dades: constant d'acidesa de l'àcid cianhídric a 25 °C, $K_a = 6,2 \times 10^{-10}$

5A. (2 punts)


Indica, de forma raonada, la veracitat de les següents afirmacions relacionades amb l'estructura atòmica i les propietats periòdiques dels elements:

- El valor del nombre quàntic principal, n , està associat a l'energia i a la forma d'un orbital.
- El radi de l'àtom de sodi (Na) és més gran que el radi del seu catió (Na^+).
- La següent combinació de nombres quàntics (2,0,0,+1/2) correspon a un electró de l'orbital 2p.
- El liti (Li) és més electronegatiu que el fluor (F).

OPCIÓ B

1B. (2 punts)

Una indústria química obté alumini metàl·lic, $\text{Al}_{(s)}$, a partir del mineral criolita. Posteriorment, i per protegir-lo de la corrosió, la capa superficial d'alumini metàl·lic es transforma en $\text{Al}_2\text{O}_3_{(s)}$ mitjançant la reacció química no ajustada següent:

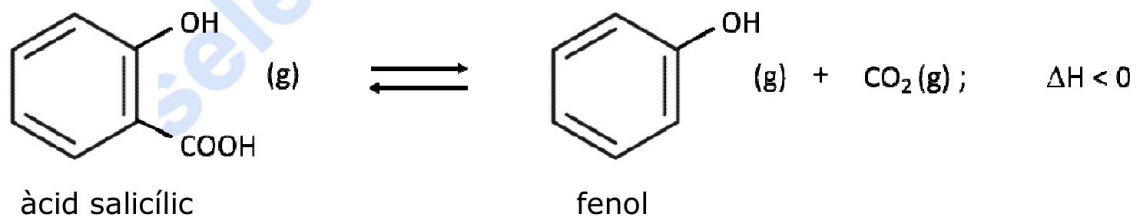


- Ajusta la reacció iònica mitjançant el mètode ió-electró.
- Indica quina és l'espècie que actua com a oxidant. Justifica la resposta.
- Explica, de forma raonada, per què en les mateixes condicions ambientals és més fàcil que es corroeixi el magnesi (Mg) que l'alumini.

Dades: potencials estàndard de reducció a 25 °C, $E^0(\text{Al}^{3+}/\text{Al}) = -1,66 \text{ V}$ i $E^0(\text{Mg}^{2+}/\text{Mg}) = -2,37 \text{ V}$

2B. (2 punts)

L'àcid salicílic ($\text{C}_7\text{H}_6\text{O}_3$) és un compost que es troba present en molts productes utilitzats en medicina. A una temperatura de 473 K, aquest àcid es descompon i produeix fenol ($\text{C}_6\text{H}_6\text{O}$) i diòxid de carboni, segons la reacció química ajustada següent:



Al laboratori, introduïm 0,345 g d'àcid salicílic en un recipient de 50 mL i l'escalfam a 473 K. Una vegada la mescla assoleix l'equilibri químic, recollim el CO_2 gasós obtingut en un altre recipient i comprovam que aquest gas ocupa un volum de 48,9 mL, mesurat a 1 atm i a 298 K.

- Calcula la constant d'equilibri en concentracions (K_c) corresponent a la reacció de descomposició de l'àcid salicílic a 473 K.
- Si féssim el mateix experiment en un recipient de 1000 mL, mantenint la temperatura a 473 K, augmentaria la descomposició d'àcid salicílic? Justifica la resposta.
- Indica, de forma raonada, si aquest procés és espontani a qualsevol temperatura.

3B. (2 punts)

L'àcid sulfúric (H_2SO_4) és, probablement, un dels reactius més utilitzats en un laboratori de química.

- Quin volum es necessita d'una dissolució d'àcid sulfúric concentrat, el qual té una riquesa del 96% (en pes) i una densitat d'1,82 g/mL, per preparar 250 mL d'una dissolució d'àcid sulfúric de concentració 70 g/L?
- Explica el procediment i el material de laboratori necessari per preparar la dissolució de l'apartat anterior.

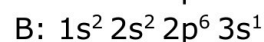
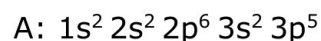
4B. (2 punts)

L'àcid benzoic ($\text{C}_6\text{H}_5\text{COOH}$) és un àcid carboxílic monopròtic que s'utilitza en l'elaboració de cosmètics, tints, plàstics i repel·lents d'insectes. La constant d'acidesa (K_a) de l'àcid benzoic, a 25 °C, presenta un valor de $6,4 \times 10^{-5}$.

- Al laboratori es preparen 500 mL d'una solució aquosa que conté 6,10 g d'àcid benzoic. Calcula el pH d'aquesta dissolució a 25 °C.
- Una indústria química ha comprat una solució aquosa d'àcid benzoic. Per conèixer-ne la concentració, es valoren 25 mL d'aquesta solució amb una solució aquosa d'hidròxid sòdic (NaOH) 0,115 M, i es consumeixen 38,6 mL d'aquesta base per arribar al punt final de la valoració.
Escriu la reacció de neutralització que té lloc i calcula la concentració de la solució aquosa d'àcid benzoic, expressada en g/L.

5B. (2 punts)

Dos elements químics, A i B, presenten les configuracions electròniques següents:



- Indica, de forma raonada, la posició (grup i període) de cada un d'aquests dos elements a la taula periòdica.
- Si se sap que els valors de les primeres energies d'ionització són 496 i 1250 kJ/mol, justifica quin és el valor que correspon a cada un dels dos elements (A i B).
- Raona quin dels dos elements presenta més tendència a formar enllaços de caràcter metàl·lic.
- Explica, de forma raonada, el tipus d'enllaç que presentarà la molècula A_2 .

● Tu esfuerzo tiene recompensa. Estamos contigo.

Prueba gratis



Taula Periòdica dels Elements

	1	2	3	4	5	6	7	8	9	10	11	12	13	14	15	16	17	18
	Ia	Ila	IIIb	IVb	Vb	VIb	VIIb	VIII			Ib	IIb	IIIa	IVa	Va	VIa	VIIa	0
1	1 H 1,00794																	2 He 4,0026
2	3 Li 6,941	4 Be 9,0122											5 B 10,811	6 C 12,0107	7 N 14,0067	8 O 15,9994	9 F 18,9984	10 Ne 20,1797
3	11 Na 22,9898	12 Mg 24,3050											13 Al 26,9815	14 Si 28,0855	15 P 30,9738	16 S 32,066	17 Cl 35,4527	18 Ar 39,948
4	19 K 39,0983	20 Ca 40,078	21 Sc 44,9559	22 Ti 47,867	23 V 50,9415	24 Cr 51,9961	25 Mn 54,9380	26 Fe 55,845	27 Co 58,9332	28 Ni 58,6934	29 Cu 63,546	30 Zn 65,39	31 Ga 69,723	32 Ge 72,61	33 As 74,9216	34 Se 78,96	35 Br 79,904	36 Kr 83,80
5	37 Rb 85,4678	38 Sr 87,62	39 Y 88,9059	40 Zr 91,224	41 Nb 92,9063	42 Mo 95,94	43 Tc (98,9063)	44 Ru 101,07	45 Rh 102,905	46 Pd 106,42	47 Ag 107,8682	48 Cd 112,411	49 In 114,818	50 Sn 118,710	51 Sb 121,760	52 Te 127,60	53 I 126,9045	54 Xe 131,29
6	55 Cs 132,905	56 Ba 137,327	57* La 138,906	72 Hf 178,49	73 Ta 180,948	74 W 183,84	75 Re 186,207	76 Os 190,23	77 Ir 192,217	78 Pt 195,078	79 Au 196,967	80 Hg 200,59	81 Tl 204,383	82 Pb 207,2	83 Bi 208,980	84 Po (208,98)	85 At (209,99)	86 Rn (222,02)
7	87 Fr (223,02)	88 Ra (226,03)	89* Ac (227,03)	104 Rf (261,11)	105 Db (262,10)	106 Sg (263,12)	107 Bh (264,12)	108 Hs (265,13)	109 Mt (268)	110 Ds (271)	111 Rg (272)	112 Cn (277)	113 Nh ()	114 Fl (285)	115 Mc (288)	116 Lv (289)	117 Ts ()	118 Og (293)

58 Ce 140,116	59 Pr 140,908	141 Pm (144,913)
90 Th 232,038	91 Pa 231,036	232 U 238,02891

61 Pm (144,913)	62 Sm 150,36	63 Eu 151,964	64 Gd 157,25	65 Tb 158,925	66 Dy 162,50	67 Ho 164,930	68 Er 167,26	69 Tm 168,934	70 Yb 173,04	71 Lu 174,967
93 Np (237,048)	94 Pu (244,06)	95 Am (243,06)	96 Cm (247,07)	97 Bk (247,07)	98 Cf (251,08)	99 Es (252,08)	100 Fm (257,10)	101 Md (258,10)	102 No (259,10)	103 Lr (262,11)

Constants: $R = 0,082 \text{ atm L mol}^{-1} \text{ K}^{-1} = 8,3 \text{ J mol}^{-1} \text{ K}^{-1}$



Selectividad Academy

Tu academia de selectividad online

● Mejor academia online de selectividad

Prueba sin compromiso

Primera clase gratis. Sin permanencia. Sin letra pequeña.

- ✓ Profesores especialistas en cada asignatura
- ✓ Clases adaptadas a tu nivel y tus objetivos
- ✓ Todos los exámenes oficiales resueltos paso a paso
- ✓ Calculadora de nota y guía completa en la web

623 769 002

Escríbenos por WhatsApp

www.selectividad.academy

→ Calcula tu nota en selectividad.academy/calculadora-selectividad

→ Guía completa en selectividad.academy/guia-selectividad

→ ¿Tienes dudas? Escríbenos sin compromiso