

Contesta fins a un màxim de 5 preguntes d'entre totes les proposades a les opcions A i B de l'examen. Utilitza la taula periòdica adjunta. Pots usar la calculadora.

La puntuació màxima de cada pregunta està indicada a l'inici de la qüestió. La nota de l'examen és la suma de les puntuacions.

OPCIÓ A

1A. (2 punts)

- a) El premi Nobel de Química de l'any 2018 va ser concedit als investigadors Frances H. Arnold, George P. Smith i Sir Gregory P. Winter (figura 1), pel descobriment d'un nou mètode usat a l'enginyeria de proteïnes, el qual imita el procés de selecció natural amb el propòsit de dirigir les proteïnes cap a un objectiu definit. La treonina (figura 2) és un dels aminoàcids essencials utilitzats per aquests investigadors.



Figura 1. Frances H. Arnold, George P. Smith i Sir Gregory P. Winter

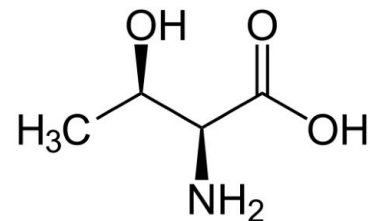


Figura 2. Estructura química de la treonina

- i) A partir de l'estructura química de la treonina (figura 2), determina'n la massa molecular.
- ii) Anomena dos grups funcionals presents a la molècula de la treonina.
- b) Anomena els composts següents: KOH i FeSO₄

2A. (2 punts) En diferents països, la fluoració de l'aigua de consum humà és utilitzada per prevenir la càries dental.

- a) Si el valor del producte de solubilitat (K_{ps}) del difluorur de calci (CaF₂), a 25 °C, és igual a $3,4 \cdot 10^{-11}$, quina és la solubilitat (en mol/L) d'una dissolució saturada de CaF₂?

b) Quants de mols de fluorur de sodi (NaF) cal afegir a 2 L d'una dissolució aquosa, la qual conté 20 mg/L de Ca^{2+} , perquè comenci a precipitar CaF_2 ?

3A. (2 punts) A partir dels següents elements químics de la taula periòdica: fluor (F), neó (Ne) i sodi (Na),

- Determina la configuració electrònica dels elements fluor i sodi.
- Considerant els elements fluor i neó, quin té la primera energia d'ionització més elevada? Justifica la resposta.
- Considerant els elements fluor i sodi, explica de forma raonada quin formarà el catió més estable.
- Considerant els elements neó i sodi, quin té el radi atòmic més petit? Justifica la resposta.

4A. (2 punts) L'àcid acètic o etanoic (CH_3COOH) és el principal component del vinagre i és el responsable dels seus sabor i olor característics. Al laboratori tenim una dissolució d'àcid acètic de concentració desconeguda amb un valor de pH igual a 4,0.

- Calcula la molaritat de la dissolució d'àcid acètic.
- Es valoren 10 mL de la dissolució anterior d'àcid acètic amb una dissolució d'hidròxid de sodi (NaOH) 10^{-4} M.
 - Escriu la reacció de neutralització de l'àcid acètic.
 - Indica de manera raonada si el pH de la dissolució, en el punt d'equivalència de la valoració, serà àcid, bàsic o neutre.

Dades: $K_a(\text{CH}_3\text{COOH}) = 1,8 \cdot 10^{-5}$

5A. (2 punts) Indica de manera raonada si les següents afirmacions són vertaderes o falses.

- Per a qualsevol reacció química, el nombre inicial de mols de reactius coincideix amb el nombre total de mols de productes que es formen una vegada acabada la reacció.
- Per a qualsevol reacció química, el nombre total de molècules presents a la mescla reaccionant augmenta a mesura que té lloc la reacció.
- La velocitat de qualsevol reacció química augmenta a mesura que disminueix la temperatura de reacció.
- A les mateixes condicions de pressió i temperatura, volums iguals de dues substàncies en estat gasós contenen el mateix nombre de molècules.

OPCIÓ B

1B. (2 punts) Una dissolució aquosa A conté 1,26 g/L d'àcid nítric (HNO_3). Una segona dissolució aquosa B conté 0,4 g/L d'hidròxid de sodi (NaOH). Es mesclen 50 mL de la dissolució A amb 50 mL de la dissolució B.

- Calcula el pH resultant després de mesclar els volums indicats de les dissolucions A i B, suposant que els volums són additius.
- Indica el significat del següent pictograma que apareix en una botella d'àcid nítric comercial:



2B. (2 punts) A 427 °C, el clorur d'amoni (NH_4Cl) es descompon parcialment en amoníac (NH_3) i clorur d'hidrogen (HCl) segons el següent equilibri químic:



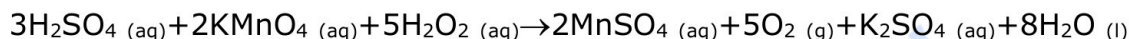
S'introdueix una certa quantitat de $\text{NH}_4\text{Cl} (\text{s})$ dins un recipient de 5 L de capacitat, en el qual s'havia fet prèviament el buit, i s'escalfa a 427 °C. Quan s'assoleix l'equilibri a aquesta temperatura, la pressió a l'interior del recipient és de 4560 mm Hg.

- Calcula la constant d'equilibri en pressions (K_p) a 427 °C.
- Calcula la quantitat de NH_4Cl (en grams) que s'haurà descompost.
- Quin efecte tindrà sobre la concentració de $\text{NH}_3 (\text{g})$ una disminució del volum del recipient? Raona la resposta.

3B. (2 punts) Indica de manera raonada si les afirmacions següents són vertaderes o falses:

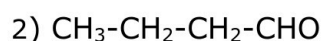
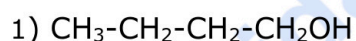
- La molècula de triclorur de nitrogen (NCl_3) és apolar.
- L'etanol ($\text{CH}_3\text{-CH}_2\text{OH}$) té un punt d'ebullició més elevat que el dimetil èter ($\text{CH}_3\text{-O-CH}_3$).
- Segons la teoria de repulsió de parells electrònics de la capa de valència (TRPECV), la molècula BeCl_2 presenta una geometria lineal.
- En valor absolut, l'energia reticular del clorur de sodi (NaCl) és més elevada que l'energia reticular del clorur de potassi (KCl).

4B. (2 punts) L'anàlisi química de l'aigua oxigenada (H_2O_2) es pot dur a terme dissolent la mostra en àcid sulfúric (H_2SO_4) i valorant amb permanganat de potassi (KMnO_4), segons la següent reacció química ajustada:



- Indica, de manera raonada, quina és l'espècie que actua com a oxidant a la reacció anterior. Escriu la semireacció corresponent a l'espècie oxidant.
- A una mostra d'aigua oxigenada s'hi afegeix un excés d'àcid sulfúric i es valora amb permanganat de potassi 0,2 M, de manera que es consumeixen 25 mL d'aquesta dissolució. Calcula el volum d'oxigen (O_2), mesurat a 0 °C i 1 atm, que es produeix durant la valoració.

5B. (2 punts) Considera els composts orgànics següents:



- Anomena els composts 1) i 2).
- Formula un **isòmer de posició** del compost 1).
- Formula un **isòmer de funció** del compost 2).



Química paso a paso. Formulación, problemas y teoría clara.

selectividad.academy - 623 769 002



Taula Periòdica dels Elements

	1	2	3	4	5	6	7	8	9	10	11	12	13	14	15	16	17	18
	Ia	Ila	IIIb	IVb	Vb	VIb	VIIb	VIII			Ib	IIb	IIIa	IVa	Va	VIa	VIIa	0
1	1 H 1,00794																	2 He 4,0026
2	3 Li 6,941	4 Be 9,0122											5 B 10,811	6 C 12,0107	7 N 14,0067	8 O 15,9994	9 F 18,9984	10 Ne 20,1797
3	11 Na 22,9898	12 Mg 24,3050											13 Al 26,9815	14 Si 28,0855	15 P 30,9738	16 S 32,066	17 Cl 35,4527	18 Ar 39,948
4	19 K 39,0983	20 Ca 40,078	21 Sc 44,9559	22 Ti 47,867	23 V 50,9415	24 Cr 51,9961	25 Mn 54,9380	26 Fe 55,845	27 Co 58,9332	28 Ni 58,6934	29 Cu 63,546	30 Zn 65,39	31 Ga 69,723	32 Ge 72,61	33 As 74,9216	34 Se 78,96	35 Br 79,904	36 Kr 83,80
5	37 Rb 85,4678	38 Sr 87,62	39 Y 88,9059	40 Zr 91,224	41 Nb 92,9064	42 Mo 95,94	43 Tc (98,9063)	44 Ru 101,07	45 Rh 102,905	46 Pd 106,42	47 Ag 107,8682	48 Cd 112,411	49 In 114,818	50 Sn 118,710	51 Sb 121,760	52 Te 127,60	53 I 126,9045	54 Xe 131,29
6	55 Cs 132,905	56 Ba 137,327	57* La 138,906	72 Hf 178,49	73 Ta 180,948	74 W 183,84	75 Re 186,207	76 Os 190,23	77 Ir 192,217	78 Pt 195,078	79 Au 196,967	80 Hg 200,59	81 Tl 204,383	82 Pb 207,2	83 Bi 208,980	84 Po (208,98)	85 At (209,99)	86 Rn (222,02)
7	87 Fr (223,02)	88 Ra (226,03)	89* Ac (227,03)	104 Rf (261,11)	105 Db (262,11)	106 Sg (263,12)	107 Bh (264,12)	108 Hs (265,13)	109 Mt (268)	110 Ds (271)	111 Rg (272)	112 Cn (277)	113 Nh ()	114 Fl (285)	115 Mc (288)	116 Lv (289)	117 Ts ()	118 Og (293)

58 Ce 140,116	59 Pr 140,908	60 Nd 144,24	61 Pm (144,913)	62 Sm 150,36	63 Eu 151,964	64 Gd 157,25	65 Tb 158,925	66 Dy 162,50	67 Ho 164,930	68 Er 167,26	69 Tm 168,934	70 Yb 173,04	71 Lu 174,967
90 Th 232,038	91 Pa 231,036	92 U 238,029	93 Np (237,048)	94 Pu (244,06)	95 Am (243,06)	96 Cm (247,07)	97 Bk (247,07)	98 Cf (251,08)	99 Es (252,08)	100 Fm (257,10)	101 Md (258,10)	102 No (259,10)	103 Lr (262,11)

Constants: $R = 0,082 \text{ atm L mol}^{-1} \text{ K}^{-1} = 8,3 \text{ J mol}^{-1} \text{ K}^{-1}$



Selectividad Academy

Tu academia de selectividad online

● Mejor academia online de selectividad

Prueba sin compromiso

Primera clase gratis. Sin permanencia. Sin letra pequeña.

- ✓ Profesores especialistas en cada asignatura
- ✓ Clases adaptadas a tu nivel y tus objetivos
- ✓ Todos los exámenes oficiales resueltos paso a paso
- ✓ Calculadora de nota y guía completa en la web

623 769 002

Escríbenos por WhatsApp

www.selectividad.academy

→ Calcula tu nota en selectividad.academy/calculadora-selectividad

→ Guía completa en selectividad.academy/guia-selectividad

→ ¿Tienes dudas? Escríbenos sin compromiso