

PROVES D'ACCÉS A LA UNIVERSITAT

PRUEBAS DE ACCESO A LA UNIVERSIDAD

CONVOCATÒRIA: SETEMBRE 2020	CONVOCATORIA: SEPTIEMBRE 2020
Assignatura: GEOGRAFIA	Asignatura: GEOGRAFÍA

BAREM DE L'EXAMEN:

Es pot contestar fins un màxim de 4 preguntes a elegir entre les 8 de què consta l'examen.

Pregunta 1: 2,5 punts; Pregunta 2: 2,5 punts; Pregunta 3: 2,5 punts; Pregunta 4: 2,5 punts; Pregunta 5: 2,5 punts; Pregunta 6: 2,5 punts; Pregunta 7: 2,5 punts; Pregunta 8: 2,5 punts.

BAREMO DEL EXAMEN:

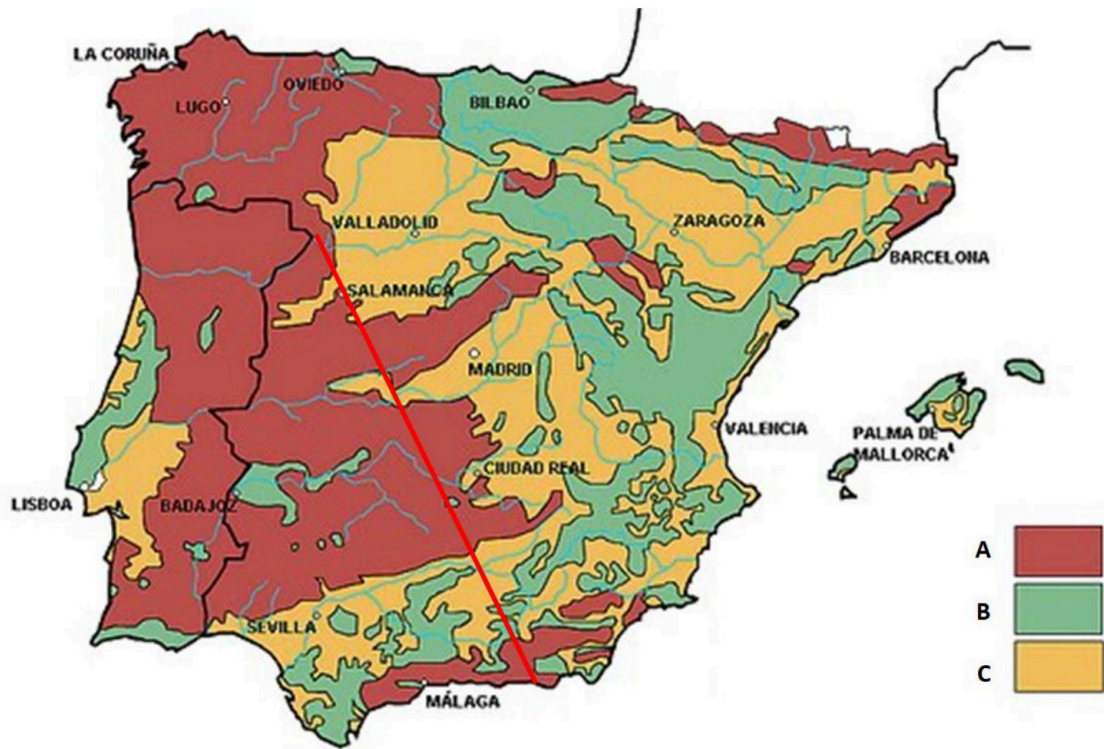
Se puede responder hasta un máximo de 4 preguntas a elegir entre las 8 de que consta el examen.

Pregunta 1: 2,5 puntos; Pregunta 2: 2,5 puntos; Pregunta 3: 2,5 puntos; Pregunta 4: 2,5 puntos; Pregunta 5: 2,5 puntos; Pregunta 6: 2,5 puntos; Pregunta 7: 2,5 puntos; Pregunta 8: 2,5 puntos.

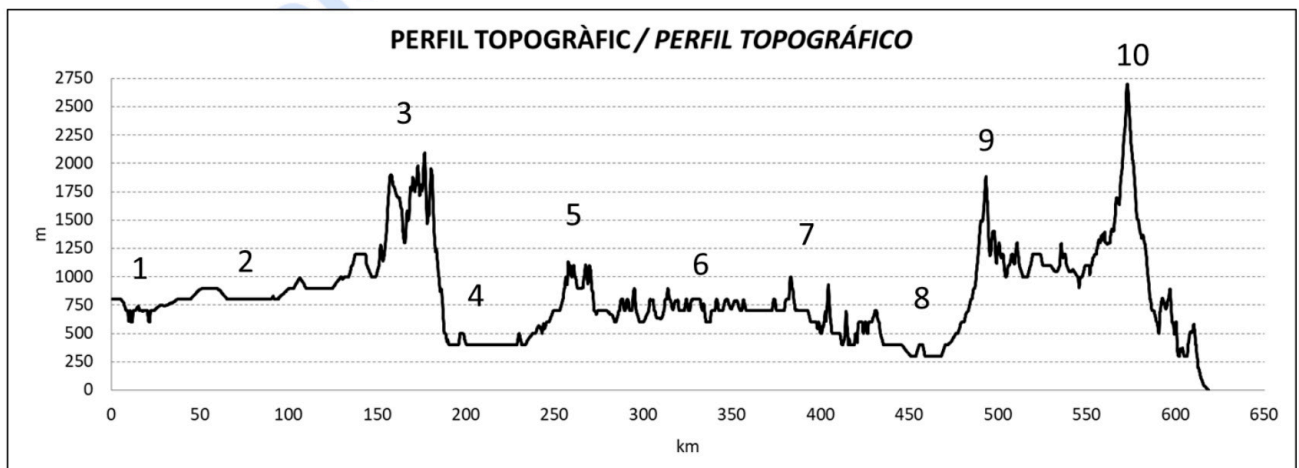
1. En el Document 1 apareix un mapa dels principals dominis litològics de la Península Ibèrica. Indiqueu quins són i les seues principals característiques.
2. En el Document 2 apareix un perfil topogràfic del segment roig marcat sobre el mapa del Document 1. Identifiqueu cada una de les grans valls fluvials i estructures de relleu que apareixen identificades en el perfil topogràfic amb un número i indiqueu, per a cada una de les grans morfoestructures, les seues principals característiques litològiques.
3. Indiqueu quines són les serralades que voregen l'Altiplà (*Meseta*) i expliqueu les seues principals característiques (altitud, desnivell, litologia dominant).
4. Expliqueu les principals semblances i diferències que hi ha entre l'Altiplà nord i sud (*Submeseta norte y sur*) i assenyalau quins grans rius recorren cada un d'aquests. Indiqueu per a cada un d'aquests rius de quins grans sistemes muntanyencs reben aigües.
5. Amb les dades del Document 3 realitzeu un gràfic amb tots els seus elements en el Document Annex.
6. Comenteu les principals procedències del turisme que rep Espanya i els factors que ajuden a explicar-lo. Podeu ajudar-vos del Document 4.
7. L'arribada a Espanya d'un altíssim nombre de turistes té conseqüències positives i negatives de tot tipus (econòmiques, socioculturals, mediambientals...). Expliqueu-les.
8. Expliqueu els principals factors que influeixen en la desigual distribució territorial del turisme a Espanya.

1. En el Documento 1 aparece un mapa de los principales dominios litológicos de la Península Ibérica. Indica cuáles son y sus principales características.
2. En el Documento 2 aparece un perfil topográfico del segmento rojo marcado sobre el mapa del Documento 1. Identifica cada uno de los grandes valles fluviales y estructuras del relieve que aparecen identificadas en el perfil topográfico con un número e indica, para cada una de las grandes morfoestructuras, sus principales características litológicas.
3. Indica cuáles son las cordilleras que bordean la Meseta y explica sus principales características (altitud, desnivel, litología dominante).
4. Explica las principales semejanzas y diferencias que hay entre la submeseta norte y sur y señala qué grandes ríos recorren cada una de ellas. Indica para cada uno de estos ríos de qué grandes sistemas montañosos reciben aguas.
5. Con los datos del Documento 3 realiza un gráfico con todos sus elementos en el Documento Anexo.
6. Comenta las principales procedencias del turismo que recibe España y los factores que ayudan a explicarlo. Puedes apoyarte en el Documento 4.
7. La llegada a España de un altísimo número de turistas tiene consecuencias positivas y negativas de todo tipo (económicas, socioculturales, medioambientales...). Explícalas.
8. Explica los principales factores que influyen en la desigual distribución territorial del turismo en España.

Document 1 /Documento 1



Document 2 /Documento 2



Document 3 /Documento 3

Espanya, 2002-2018: Milions de viatgers allotjats en establiments hotelers
España, 2002-2018: Millones de viajeros alojados en establecimientos hoteleros

Lloc de residència/ <i>Lugar de residencia</i>	Any/Año 2004	Any/Año 2007	Any/Año 2010	Any/Año 2014	Any/Año 2018
Espanya/España	39,2	48,6	46,2	42,6	51,2
Estranger/Extranjero	27,6	35,8	35,7	45,2	54,1
Total	66,8	84,4	81,9	87,8	105,3

Font/Fuente: INE: Anuario Estadístico de España y Encuesta de Ocupación Hotelera

Document 4 /Documento 4

Principals països de procedència dels viatgers arribats a Espanya en 2016 i 2019.
(Millions de viatgers)

Principales países de procedencia de los viajeros llegados a España en 2016 y 2019.
(Millones de viajeros)

Països de procedència/ <i>Países de procedencia</i>	Any/Año 2019	Any/Año 2016	Percentatge d'increment entre 2016 i 2019 / <i>Porcentaje de incremento entre 2016 y 2019</i>
Regne Unit/ <i>Reino Unido</i>	18,1	17,7	2,3
Alemanya/ <i>Alemania</i>	11,2	11,2	-0,3
França/ <i>Francia</i>	11,2	11,3	-0,9
Països Nòrdics/ <i>Países Nórdicos</i>	5,5	5,1	8,2
Itàlia/ <i>Italia</i>	4,5	4,0	14,4
Països Baixos/ <i>Países Bajos</i>	3,7	3,4	10,3
Estats Units/ <i>Estados Unidos</i>	3,3	2,0	66,5
Bèlgica/ <i>Bélgica</i>	2,5	2,3	10,3
Portugal	2,4	2,0	22,3
Irlanda	2,2	1,8	20,4
TOTAL	83,7	75,3	11,1

Font/Fuente: INE: Movimientos turísticos en fronteras

PROVES D'ACCÉS A LA UNIVERSITAT

PRUEBAS DE ACCESO A LA UNIVERSIDAD

CONVOCATÒRIA:

SETEMBRE 2020

CONVOCATORIA:


SEPTIEMBRE 2020

Assignatura: GEOGRAFIA

Asignatura: GEOGRAFÍA

Codi barres alumnat / Código barras alumnado

DOCUMENT ANNEX / DOCUMENTO ANEXO





Selectividad Academy

Tu academia de selectividad online

● Mejor academia online de selectividad

Prueba sin compromiso

Primera clase gratis. Sin permanencia. Sin letra pequeña.

- ✓ Profesores especialistas en cada asignatura
- ✓ Clases adaptadas a tu nivel y tus objetivos
- ✓ Todos los exámenes oficiales resueltos paso a paso
- ✓ Calculadora de nota y guía completa en la web

623 769 002

Escríbenos por WhatsApp

www.selectividad.academy

→ Calcula tu nota en selectividad.academy/calculadora-selectividad

→ Guía completa en selectividad.academy/guia-selectividad

→ ¿Tienes dudas? Escríbenos sin compromiso