

PROVES D'ACCÉS A LA UNIVERSITAT

PRUEBAS DE ACCESO A LA UNIVERSIDAD

| | |
|---------------------------|--------------------------|
| CONVOCATÒRIA: JULIOL 2021 | CONVOCATORIA: JULIO 2021 |
| Assignatura: GEOGRAFIA | Asignatura: GEOGRAFÍA |

BAREM DE L'EXAMEN:

Es pot contestar fins un màxim de quatre preguntes a elegir entre les huit de què consta l'examen. Cada pregunta val 2,5 punts.

BAREMO DEL EXAMEN:

Se puede responder hasta un máximo de cuatro preguntas a elegir entre las ocho de que consta el examen. Cada pregunta vale 2,5 puntos.

1. A partir de les dades de temperatura mitjana mensual (°C) i precipitació mitjana mensual (mm) que figuren en la taula del Document 1, elaboreu un diagrama de Gaussen en el Document Annex 1. Indiqueu a quina lletra (A, B, C, o D) de les que apareixen assenyalades en el Document 2 pertany el diagrama de Gaussen elaborat.
2. Descriviu les característiques del clima de la ciutat representada amb la lletra A en el Document 2.
3. Amb el suport del mapa representat en el Document 2, expliqueu la influència de la precipitació mitjana anual en els paisatges naturals d'Espanya.
4. Expliqueu l'efecte del relleu sobre el règim de precipitacions.
5. Amb les dades del Document 3, elaboreu un gràfic lineal amb tots els seus elements. Realitzeu el gràfic en el Document Annex 2.
6. Expliqueu raonadament la desigual distribució de l'oferta hotelera espanyola. Podeu ajudar-vos del mapa del Document 4.
7. Definiu de la manera més precisa possible els conceptes següents: a) Touroperador; b) Turisme de sol i platja; c) Estacionalitat turística; d) Excursionista; e) Destinacions turístiques.
8. Expliqueu les repercussions econòmiques i mediambientals del turisme a Espanya.

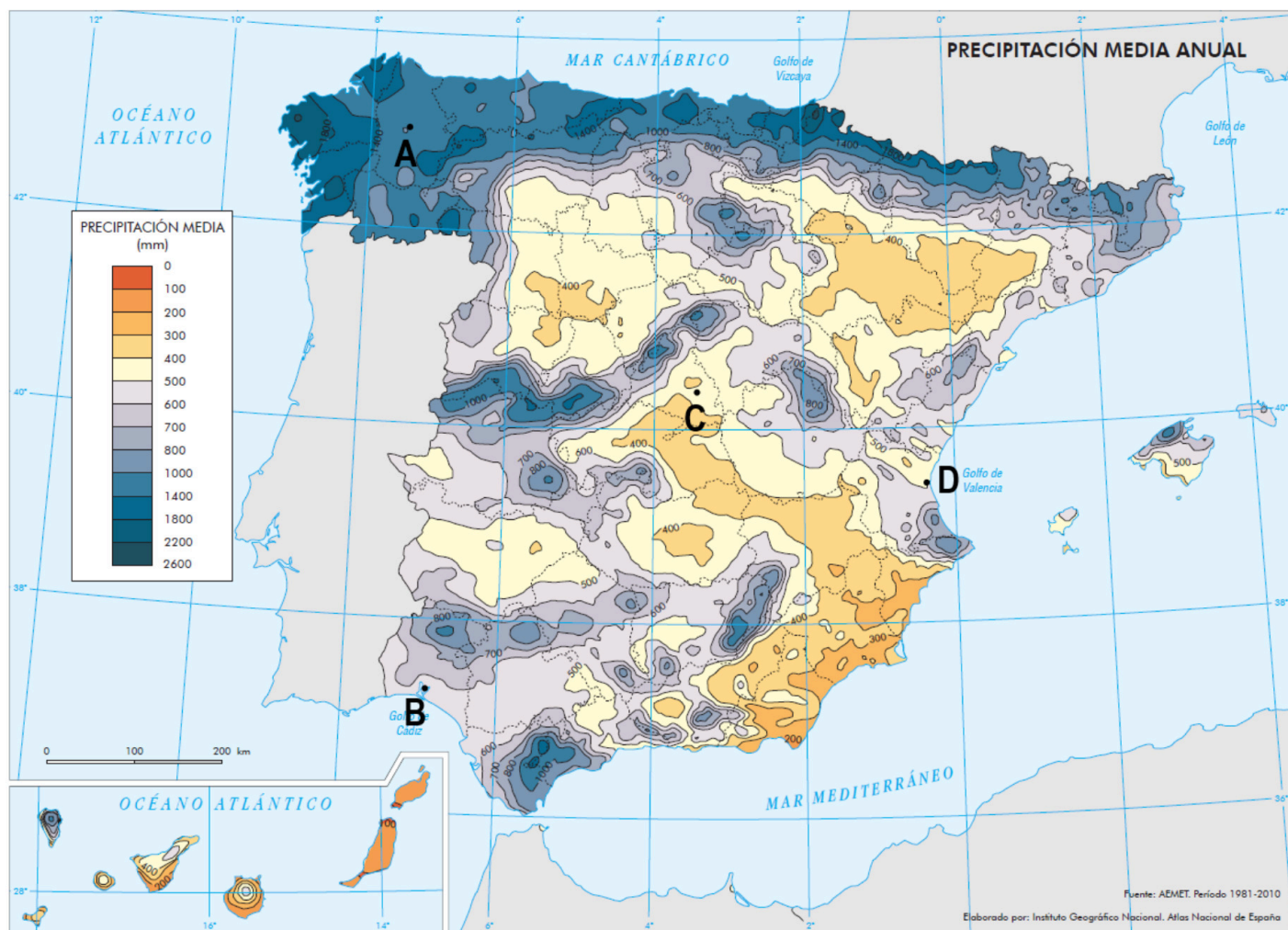
1. A partir de los datos de temperatura media mensual (°C) y precipitación media mensual (mm) que figuran en la tabla del Documento 1, elabore un diagrama de Gaussen en el Documento Anexo 1. Indique a qué letra (A, B, C, o D) de las que aparecen señaladas en el Documento 2 pertenece el diagrama de Gaussen elaborado.
2. Describa las características del clima de la ciudad representada con la letra A en el Documento 2.
3. Apoyándose en el mapa representado en el Documento 2, explique la influencia de la precipitación media anual en los paisajes naturales de España.
4. Explique el efecto del relieve sobre el régimen de precipitaciones.
5. Con los datos del Documento 3, elabore un gráfico lineal con todos sus elementos. Haga el gráfico en el Documento Anexo 2.
6. Explique razonadamente la desigual distribución de la oferta hotelera española. Puede apoyarse en el mapa del Documento 4.
7. Defina de la manera más precisa posible los siguientes conceptos: a) Touroperador; b) Turismo de sol y playa; c) Estacionalidad turística; d) Excursionista; e) Destinos turísticos.
8. Explique las repercusiones económicas y medioambientales del turismo en España.

Document 1/ Documento 1

| DADES DE TEMPERATURA MITJANA MENSUAL I PRECIPITACIÓ MITJANA MENSUAL | | | | | | | | | | | | |
|---|----------------|-------------------|---------------|----------------|--------------|---------------|-----------------|-----------------|------------------------|--------------------|-----------------------|-----------------------|
| DATOS DE TEMPERATURA MEDIA MENSUAL Y PRECIPITACIÓN MEDIA MENSUAL | | | | | | | | | | | | |
| Mes | Gener Enero | Febrer Febrero | Març Marzo | Abril Abril | Maig Mayo | Juny Junio | Juliol Julio | Agost Agosto | Setembre Septiembre | Octubre Octubre | Novembre Noviembre | Desembre Diciembre |
| °C | 6,2 | 7 | 9,2 | 10 | 13,2 | 16,1 | 18,2 | 18,5 | 16,4 | 12,9 | 8,9 | 6,9 |
| mm | 114 | 87 | 80 | 102 | 81 | 52 | 34 | 36 | 68 | 137 | 144 | 134 |

Font / Fuente: AEMET (1985-2010)

Document 2/ Documento 2



Document 3 / Documento 3

| Espanya, 2016-2019: turistes arribats des de l'exterior (milions de viatgers) | | |
|---|--|--|
| España, 2016-2019: Turistas llegados desde el exterior (millones de viajeros) | | |
| Any Año | Total de turistes Total de turistas | Turistes arribats per aeroport Turistas llegados por aeropuerto |
| 2016 | 75,3 | 60,3 |
| 2017 | 81,9 | 66,6 |
| 2018 | 82,8 | 67,5 |
| 2019 | 83,5 | 68,7 |

Font / Fuente: INE: *Movimientos Turísticos en Fronteras*

Document 4 / Documento 4



PROVES D'ACCÉS A LA UNIVERSITAT

PRUEBAS DE ACCESO A LA UNIVERSIDAD

CONVOCATÒRIA: JULIOL 2021


CONVOCATORIA: JULIO 2021

Assignatura: GEOGRAFIA

Asignatura: GEOGRAFÍA

Etiqueta de l'estudiant / Etiqueta del estudiante

DOCUMENT ANNEX 1 / DOCUMENTO ANEXO 1



PROVES D'ACCÉS A LA UNIVERSITAT

PRUEBAS DE ACCESO A LA UNIVERSIDAD

CONVOCATÒRIA: JULIOL 2021


CONVOCATORIA: JULIO 2021

Assignatura: GEOGRAFIA

Asignatura: GEOGRAFÍA

Etiqueta de l'estudiant / Etiqueta del estudiante

DOCUMENT ANNEX 2/ DOCUMENTO ANEXO 2





Selectividad Academy

Tu academia de selectividad online

● Mejor academia online de selectividad

Prueba sin compromiso

Primera clase gratis. Sin permanencia. Sin letra pequeña.

- ✓ Profesores especialistas en cada asignatura
- ✓ Clases adaptadas a tu nivel y tus objetivos
- ✓ Todos los exámenes oficiales resueltos paso a paso
- ✓ Calculadora de nota y guía completa en la web

623 769 002

Escríbenos por WhatsApp

www.selectividad.academy

→ Calcula tu nota en selectividad.academy/calculadora-selectividad

→ Guía completa en selectividad.academy/guia-selectividad

→ ¿Tienes dudas? Escríbenos sin compromiso