

CONVOCATÒRIA: JUNY 2025	CONVOCATORIA: JUNIO 2025
ASSIGNATURA: GEOGRAFIA	ASIGNATURA: GEOGRAFÍA

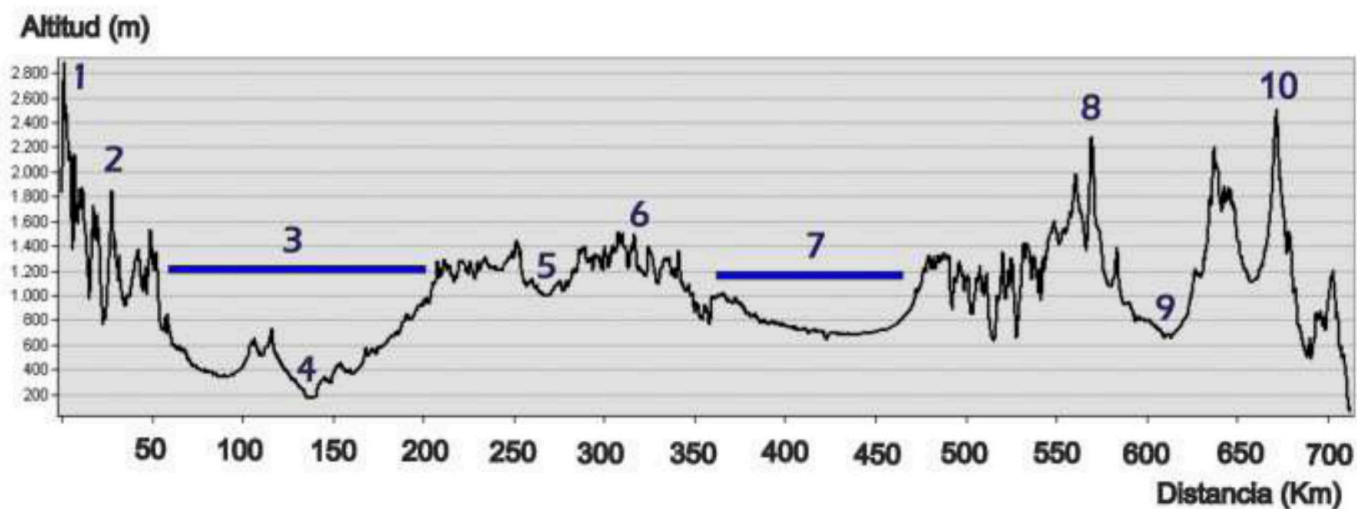
BAREM DE L'EXAMEN: la pregunta 1 és de resposta única. En les preguntes 2, 3 i 4 cal triar una de les dues opcions. Cada pregunta val 2,5 punts.

BAREMO DEL EXAMEN: la pregunta 1 es de respuesta única. En las preguntas 2, 3 y 4, habrá que elegir una de las dos opciones. Cada pregunta vale 2,5 puntos

1. En el Document 1 es mostra un perfil topogràfic corresponent a l'eix dibuixat en negre en el mapa del Document 2. Identifica les grans estructures del relleu i les valls fluvials a les quals s'han assignat números.
 2. Respon a un dels dos apartats:
 - a) Explica els factors geogràfics que condicionen el clima a Espanya.
 - b) Explica els factors termodinàmics que condicionen el clima a Espanya.
 3. Respon a un dels dos apartats:
 - a) Considerant les dades facilitades pel Document 3, explica els dos principals tipus de turisme a l'Espanya actual i indica alguna de les seues característiques.
 - b) Explica la distribució territorial de l'oferta turística espanyola.
 4. Respon a un dels dos apartats:
 - a) Amb el suport del mapa del Document 4, on es representa la mitjana de persones ocupades en la indústria (2008-2013), enumera les principals àrees i eixos industrials de concentració de la indústria espanyola i determina, de manera general, quins factors incideixen en el seu dinamisme actual.
 - b) Reflexiona sobre els avantatges i inconvenients que presenten actualment les fonts d'energia renovable.
-
1. En el Documento 1 se muestra un perfil topográfico correspondiente al eje dibujado en negro en el mapa del Documento 2. Identifica las grandes estructuras del relieve y los valles fluviales a los que se han asignado números.
 2. Responde a uno de los dos apartados:
 - a) Explica los factores geográficos que condicionan el clima en España.
 - b) Explica los factores termodinámicos que condicionan el clima en España.
 3. Responde a uno de los dos apartados:
 - a) Considerando los datos facilitados por el Documento 3, explica los dos principales tipos de turismo en la España actual e indica alguna de sus características.
 - b) Explica la distribución territorial de la oferta turística española.
 4. Responde a uno de los dos apartados:
 - a) Apoyándote en el mapa del Documento 4, en el que se representa el promedio de personas ocupadas en la industria (2008-2013), enumera las principales áreas y ejes industriales de concentración de la industria española, y determina, de manera general, qué factores inciden en su dinamismo actual.
 - b) Reflexiona sobre las ventajas e inconvenientes que presentan actualmente las fuentes de energía renovable.

DOCUMENT 1 / DOCUMENTO 1

PERFIL TOPOGRÀFIC/TOPOGRÁFICO

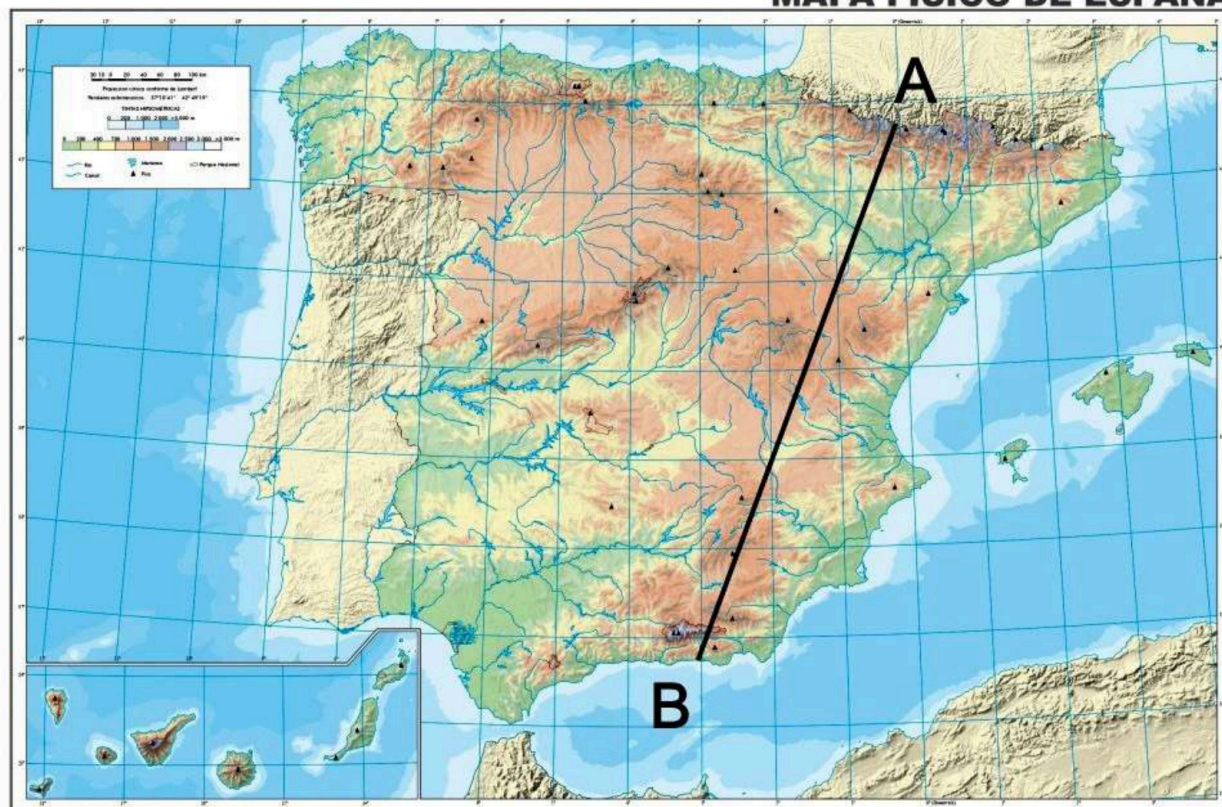


Font: elaborat a partir del model digital del terreny (MDT) de l'Institut Geogràfic Nacional (IGN)

Fuente: Elaborado a partir del Modelo Digital del Terreno (MDT) del Instituto Geográfico Nacional (IGN)

DOCUMENT 2 / DOCUMENTO 2

MAPA FÍSICO DE ESPAÑA



Font: Institut Geogràfic Nacional (IGN)

Fuente: Instituto Geográfico Nacional (IGN)

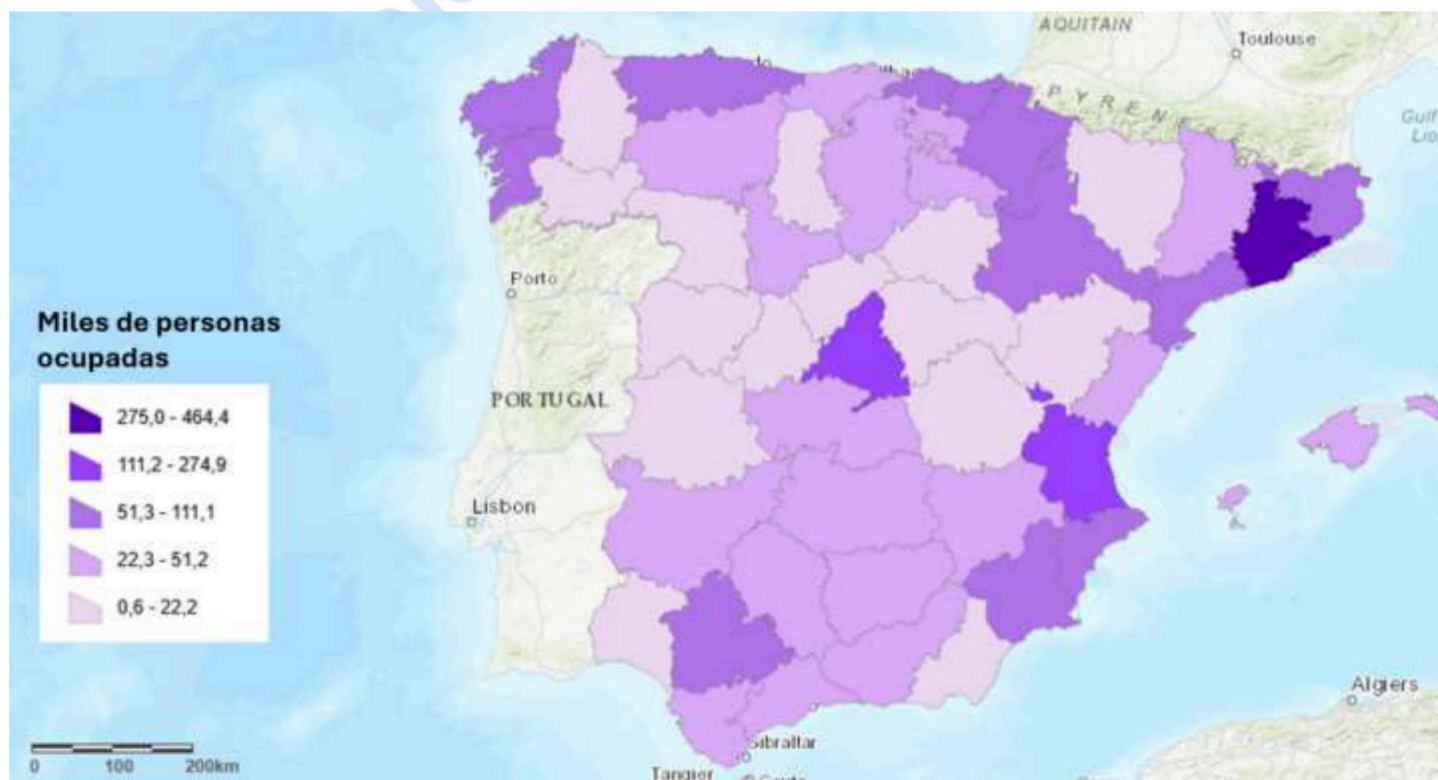
DOCUMENT 3 / DOCUMENTO 3

Principals punts turístics d'Espanya per nombre de viatgers el 2024 <i>Principales puntos turísticos de España por número de viajeros en 2024</i>			
Punt turístic <i>Punto turístico</i>	Milions de viatgers <i>Millones de viajeros</i>	Punt turístic <i>Punto turístico</i>	Milions de viatgers <i>Millones de viajeros</i>
1.-Madrid	9,9	9.- Calvià	1,7
2.-Barcelona	8,2	10.-Adeje (Tenerife)	1,6
3.-Sevilla	3,0	11.-Màlaga/Málaga	1,5
4.-Palma de Mallorca	2,5	12.-Salou (Tarragona)	1,3
5.-Benidorm	2,2	13.-Torremolinos (Màlaga/Málaga)	1,2
6.-València	2,1	14.-Lloret de Mar (Girona)	1,1
7.-S.B. de Tirajana (Gran Canària / Gran Canaria)	1,8	15.-Zaragoza	1,1
8.-Granada	1,7	16.-Bilbao (Biscaia/Vizcaya)	1,1

Font: INE. Enquesta d'ocupació hotelera
 Fuente: INE: Encuesta de ocupación hotelera

DOCUMENT 4 / DOCUMENTO 4

Distribució territorial de l'ocupació industrial a Espanya (2008-13)
 Distribución territorial de la ocupación industrial en España (2008-13)



Font: Elaborat per Arcgis a partir de dades de l'INE
 Fuente: Elaborado por Arcgis a partir de datos del INE



Selectividad Academy

Tu academia de selectividad online

● Mejor academia online de selectividad

Prueba sin compromiso

Primera clase gratis. Sin permanencia. Sin letra pequeña.

- ✓ Profesores especialistas en cada asignatura
- ✓ Clases adaptadas a tu nivel y tus objetivos
- ✓ Todos los exámenes oficiales resueltos paso a paso
- ✓ Calculadora de nota y guía completa en la web

623 769 002

Escríbenos por WhatsApp

www.selectividad.academy

→ [Calcula tu nota en selectividad.academy/calculadora-selectividad](http://selectividad.academy/calculadora-selectividad)

→ [Guía completa en selectividad.academy/guia-selectividad](http://selectividad.academy/guia-selectividad)

→ ¿Tienes dudas? Escríbenos sin compromiso