

**MATERIA: GEOGRAFÍA (3)**

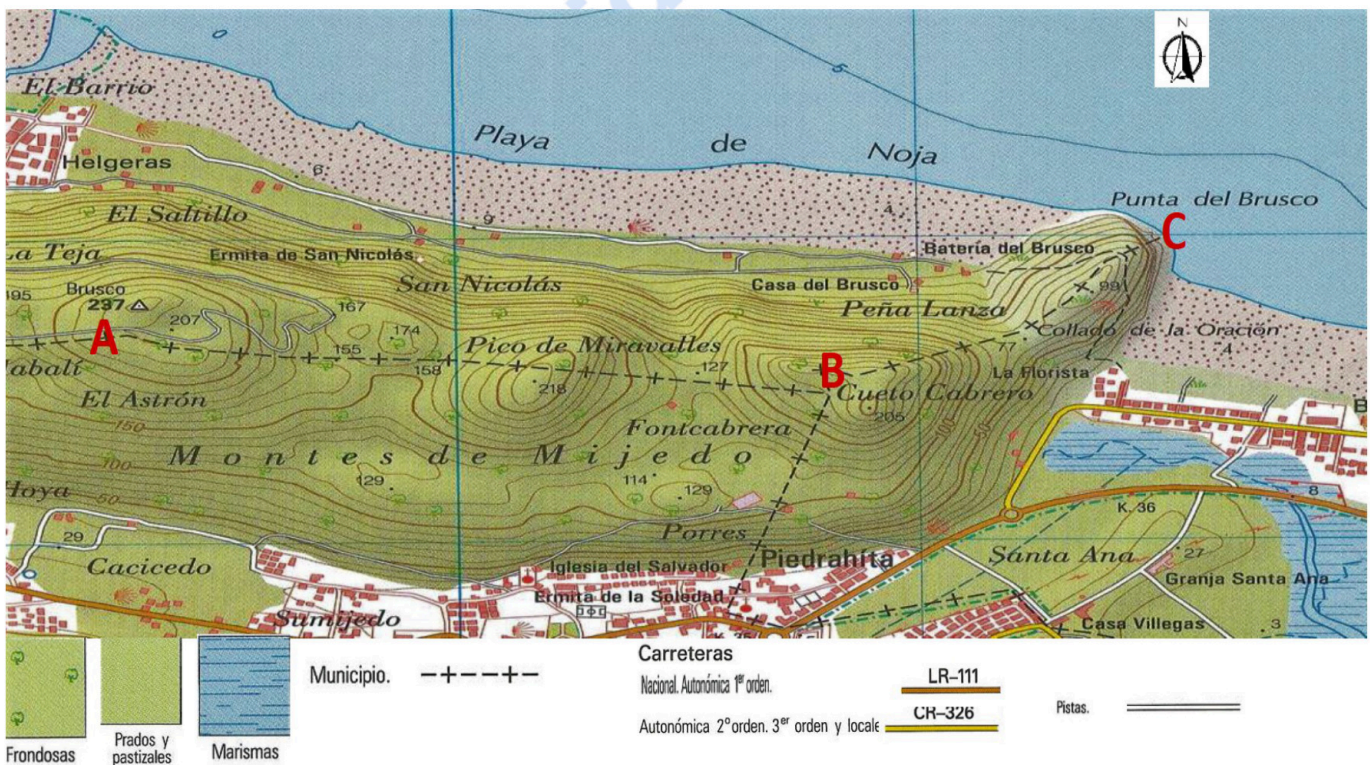
**Convocatoria: JULIO**

**Instrucciones:** El examen se organiza en dos grupos (A y B), con preguntas de cuatro tipos en cada uno de ellos. Se podrán elegir preguntas del mismo tipo de cualquiera de los dos grupos hasta completar una prueba compuesta por: 1 Ejercicio práctico, 4 Conceptos, 2 Preguntas teóricas y 1 Pregunta práctica. Las preguntas elegidas se anotarán en las casillas correspondientes de la hoja “Estructura de la Prueba”.

**GRUPO A**

**1) EJERCICIO PRÁCTICO.** Se proponen 2 ejercicios prácticos (uno en cada grupo). **Se deberá elegir y contestar 1 de ellos. Puntuación: 2 puntos.** El ejercicio escogido se anotará en la casilla correspondiente de la hoja ESTRUCTURA DE LA PRUEBA.

**A1.1 Lectura e interpretación del mapa topográfico. A partir del mapa que se presenta, responde las siguientes cuestiones (1 punto cada cuestión) (Total 2 puntos):**



- a) Describe la orografía del recorrido entre A - B y B - C siguiendo la línea que representa el límite entre municipios (---+---+---), utiliza para ello la toponimia.
- b) ¿Qué dirección dominante sigues cuando te desplazas, por la referida línea de límite municipal, desde A hacia B y desde B hasta C, respectivamente?

**2) CONCEPTOS.** Se proponen 8 conceptos (cuatro en cada grupo). **Se deben elegir y contestar sólo 4**, que pueden ser del mismo grupo o de ambos (combinándolos). **Puntuación total: 2 puntos (0,5 cada concepto).** Los conceptos escogidos se anotarán en las casillas correspondientes de la hoja ESTRUCTURA DE LA PRUEBA.

Ha de **copiarse correcta e íntegramente el enunciado del concepto y la respuesta elegida** (no se admitirán contestaciones abreviadas mediante letras o números). Se calificarán como erróneas las respuestas que no se ajusten a este requisito.

**A2.1 El Parlamento Europeo:**

- \* Es elegido por la Comisión Europea.
- \* Es la única institución europea que representa directamente a los ciudadanos.
- \* Es elegido por el gobierno de los países miembros.

**A2.2 En el Estado del Bienestar:**

- \* La protección social de los ciudadanos corresponde a la iniciativa privada mediante una serie de servicios y prestaciones.
- \* El Estado asume la responsabilidad del bienestar de los ciudadanos mediante una serie de servicios y prestaciones.
- \* Los países de la Unión Europea siguen una misma política social proporcionando una serie de servicios y prestaciones.

**A2.3 El espacio Schengen es:**

- \* Un acuerdo entre los países de la Unión Europea para impedir la importación de terceros países.
- \* La creación de un espacio común en el que se suprimen las fronteras entre los países firmantes y permite la libre circulación de personas.
- \* Un convenio suscrito por todos los Estados miembros de la U.E. para impedir la entrada de ciudadanos de otros países.

**A2.4 Las Regiones Ultraperiféricas de la Unión Europea son:**

- \* Islas y territorios que conforman la región macaronésica.
- \* Islas y territorios alejados geográficamente del espacio de la Unión Europea.
- \* Islas y territorios que renuevan cada diez años su presencia en la Unión Europea.

**3) PREGUNTAS TEÓRICAS.** Se proponen 4 preguntas de esta modalidad (dos en cada grupo). **Se deberán escoger y contestar sólo 2** que podrán pertenecer o no al mismo grupo. **Puntuación total: 4 puntos (2 puntos cada pregunta).** Las preguntas teóricas escogidas se anotarán en las casillas correspondientes de la hoja ESTRUCTURA DE LA PRUEBA.

**A3.1 La influencia de la actividad humana en el medio natural.**

*Criterios de evaluación: Identificar los problemas derivados de la interacción de las actividades humanas con el medio natural (ciñéndose a la alteración del relieve, la deforestación y la reducción de la biodiversidad) y señalar las principales políticas medioambientales.*

**A3.2 La terciarización económica española.**

*Criterio de evaluación: Explicar las causas del proceso de "terciarización" y la desigualdad territorial.*

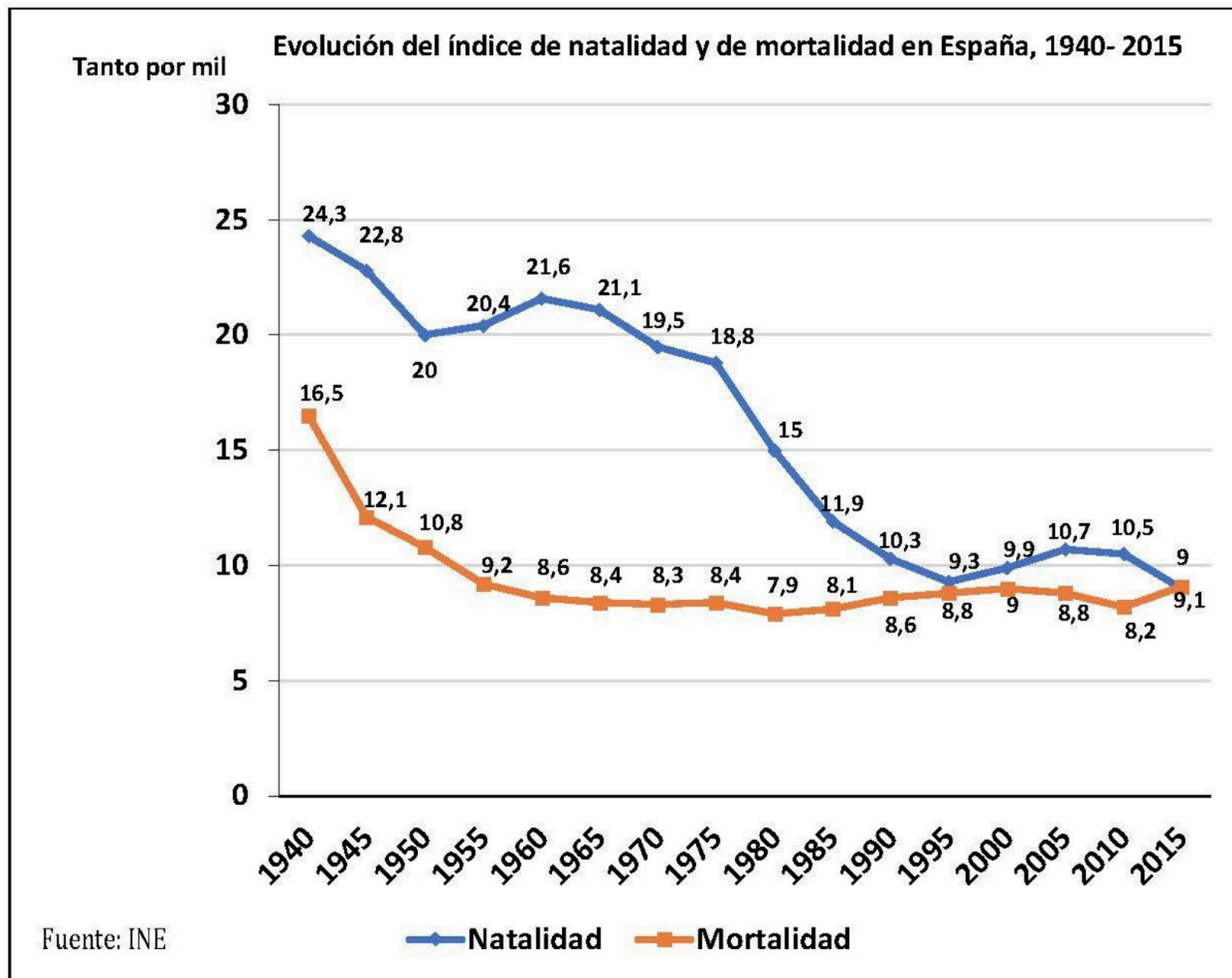


**Geografía: mapas, gráficos y desarrollo bien organizados.**

selectividad.academy - 623 769 002

**4) PREGUNTA PRÁCTICA.** Se proponen 2 preguntas de esta modalidad (una en cada grupo). **Se deberá elegir y contestar 1 de ellas. Puntuación: 2 puntos.** La pregunta práctica escogida se anotará en la casilla correspondiente de la hoja ESTRUCTURA DE LA PRUEBA.

**A4.1 Evolución del índice de natalidad y de mortalidad en España entre 1940 y 2015. (1 punto cada cuestión) (Total: 2 puntos).**



- a) Describe la gráfica de los índices de natalidad y de mortalidad en España entre 1940 y 2015.
- b) Explica las causas de las tendencias de dichos índices y sus consecuencias en el crecimiento natural, prestando especial atención a los cambios más recientes.



**Guía completa en [selectividad.academy/guia-selectividad](https://selectividad.academy/guia-selectividad)**

Todo sobre la selectividad

**EVALUACIÓN DE BACHILLERATO  
 PARA EL ACCESO A LA UNIVERSIDAD (EBAU)  
 FASE DE OPCIÓN  
 CURSO 2019–2020**

<b>MATERIA:</b> GEOGRAFIA	<b>(3)</b>
<b>Convocatoria:</b> JULIO	

**Instrucciones:** El examen se organiza en dos grupos (A y B), con preguntas de cuatro tipos en cada uno de ellos. Se podrán elegir preguntas del mismo tipo de cualquiera de los dos grupos hasta completar una prueba compuesta por: 1 Ejercicio práctico, 4 Conceptos, 2 Preguntas teóricas y 1 Pregunta práctica. Las preguntas elegidas se anotarán en las casillas correspondientes de la hoja “Estructura de la Prueba”.

**GRUPO B**

**1) EJERCICIO PRÁCTICO.** Se proponen 2 ejercicios prácticos (uno en cada grupo). **Se deberá elegir y contestar 1 de ellos. Puntuación: 2 puntos.** El ejercicio escogido se anotará en la casilla correspondiente de la hoja ESTRUCTURA DE LA PRUEBA.

**B1.1 Analiza el siguiente paisaje. (0,5 puntos la primera cuestión y 1,5 la segunda) (Total: 2 puntos).**



Fuente: [https://cadenaser.com/ser/2018/03/15/economia/1521103739\\_095008.html](https://cadenaser.com/ser/2018/03/15/economia/1521103739_095008.html)

**Clasificación de paisajes según los elementos dominantes, respondiendo a las siguientes cuestiones:**

a) Señala si se trata de un paisaje natural o humanizado.

b) Justifica tu respuesta comentando en orden a su importancia los elementos principales de cada tipo -naturales o introducidos por la actividad humana- que aparecen, utilizando un vocabulario geográfico.

**2) CONCEPTOS.** Se proponen 8 conceptos (cuatro en cada grupo). **Se deben elegir y contestar sólo 4**, que pueden ser del mismo grupo o de ambos (combinándolos). **Puntuación total: 2 puntos (0,5 cada concepto).** Los conceptos escogidos se anotarán en las casillas correspondientes de la hoja ESTRUCTURA DE LA PRUEBA.

Ha de **copiarse correcta e íntegramente el enunciado del concepto y la respuesta elegida** (no se admitirán contestaciones abreviadas mediante letras o números). Se calificarán como erróneas las respuestas que no se ajusten a este requisito.

**B2.1 El diputado del Común realiza la función de:**

- \* Representación de los ciudadanos canarios en el Gobierno de Canarias.
- \* Representación de los ciudadanos canarios en el Gobierno de España.
- \* Defensor de los derechos fundamentales y las libertades públicas de los ciudadanos de Canarias.

**B2.2 ¿Qué es un municipio?**

- \* Es la división administrativa más pequeña y cercana a los ciudadanos de nuestro país.
- \* Es la institución responsable del mantenimiento de la red insular de carreteras.
- \* Es una reunión de ayuntamientos próximos que se benefician de servicios mancomunados.

**B2.3 El Estado de las Autonomías reconoce:**

- \* La capacidad de las comunidades autónomas para firmar tratados internacionales.
- \* La división del territorio en provincias y archipiélagos.
- \* La diversidad de los territorios que integran España y su capacidad de autogobierno.

**B2.4 Los Cabildos son:**

- \* Entidades territoriales que agrupan los municipios de una provincia.
- \* Corporaciones comarcales del Estado Español.
- \* Órganos de gobierno de las Islas Canarias.

**3) PREGUNTAS TEÓRICAS.** Se proponen 4 preguntas de esta modalidad (dos en cada grupo). **Se deberán escoger y contestar sólo 2** que podrán pertenecer o no al mismo grupo. **Puntuación total: 4 puntos (2 puntos cada pregunta).** Las preguntas teóricas escogidas se anotarán en las casillas correspondientes de la hoja ESTRUCTURA DE LA PRUEBA.

**B3.1 Las repercusiones del cambio climático en España.**

*Criterios de evaluación: Valorar las repercusiones ambientales, sociales y económicas derivadas del cambio climático en el territorio español e identificar las posibles soluciones para invertir este proceso.*

**B3.2 Las aglomeraciones urbanas. El caso de Canarias.**

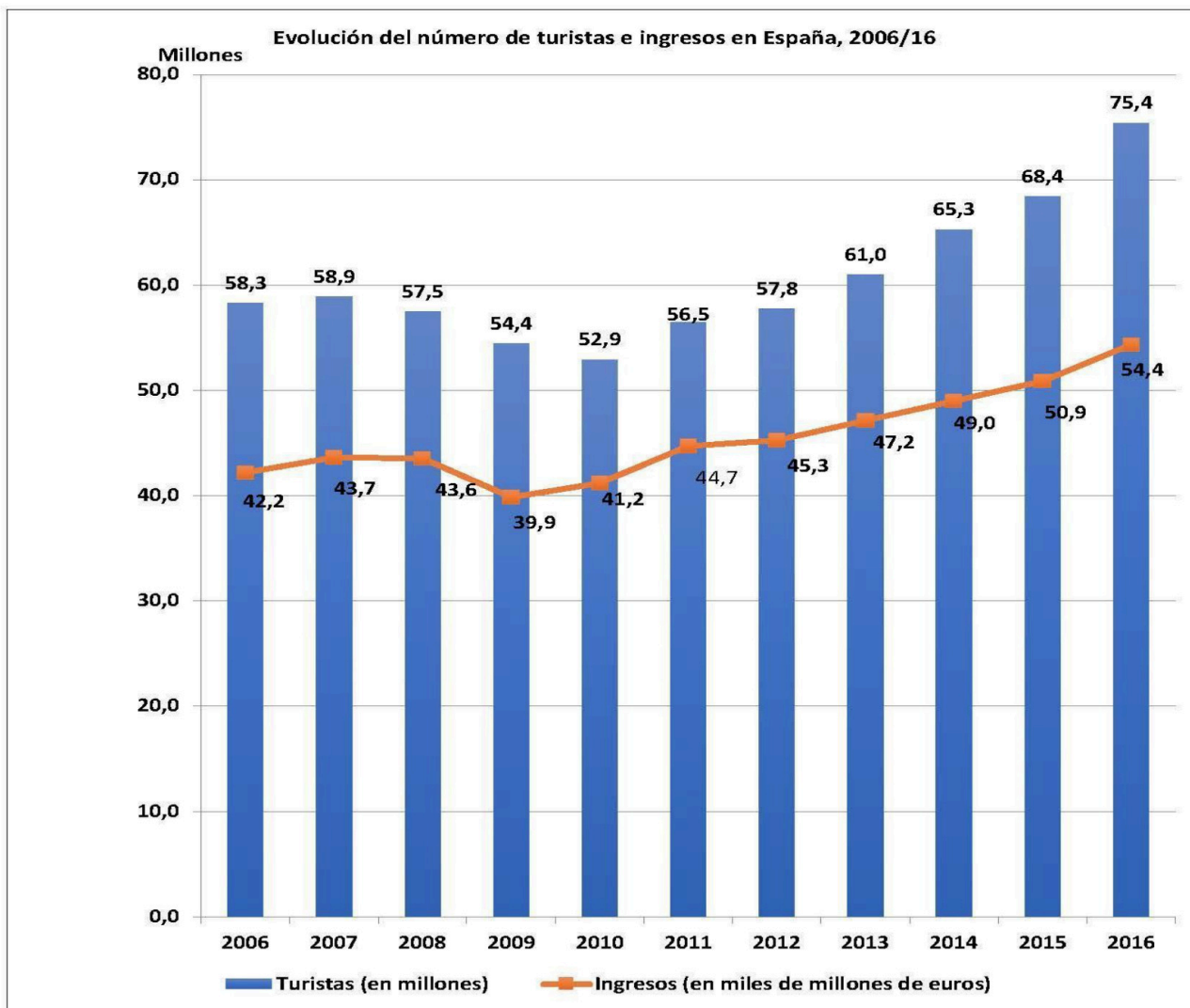
*Criterio de evaluación: Se trata de estudiar el sistema urbano canario, el tamaño de las ciudades, la distribución urbana y su jerarquía urbana.*

● Tu esfuerzo tiene recompensa. Estamos contigo.

Prueba gratis

**4) PREGUNTA PRÁCTICA.** Se proponen 2 preguntas de esta modalidad (una en cada grupo). **Se deberá elegir y contestar 1 de ellas. Puntuación: 2 puntos.** La pregunta práctica escogida se anotará en la casilla correspondiente de la hoja ESTRUCTURA DE LA PRUEBA.

**B4.1 Partiendo de la gráfica sobre el número de turistas e ingresos por turismo entre los años 2006 /16, responde a las siguientes cuestiones (1 punto cada cuestión) (Total 2 puntos):**



Fuente: Exceltur. Elaboración: Subcomisión EBAU Geografía

- Describe la gráfica del número de turistas e ingresos por turismo entre los años 2006-16.
- Señala las características del modelo turístico tradicional: factores internos que favorecieron el turismo de masas; características de ese tipo de turismo; repercusiones y vías de mejora.



**Si algo no entiendes, pregúntanos sin compromiso**

623 769 002 · WhatsApp



# Selectividad Academy

Tu academia de selectividad online

● Mejor academia online de selectividad

## Prueba sin compromiso

Primera clase gratis. Sin permanencia. Sin letra pequeña.

- ✓ Profesores especialistas en cada asignatura
- ✓ Clases adaptadas a tu nivel y tus objetivos
- ✓ Todos los exámenes oficiales resueltos paso a paso
- ✓ Calculadora de nota y guía completa en la web

**623 769 002**

Escríbenos por WhatsApp

[www.selectividad.academy](http://www.selectividad.academy)

→ Calcula tu nota en [selectividad.academy/calculadora-selectividad](http://selectividad.academy/calculadora-selectividad)

→ Guía completa en [selectividad.academy/guia-selectividad](http://selectividad.academy/guia-selectividad)

→ ¿Tienes dudas? Escríbenos sin compromiso