

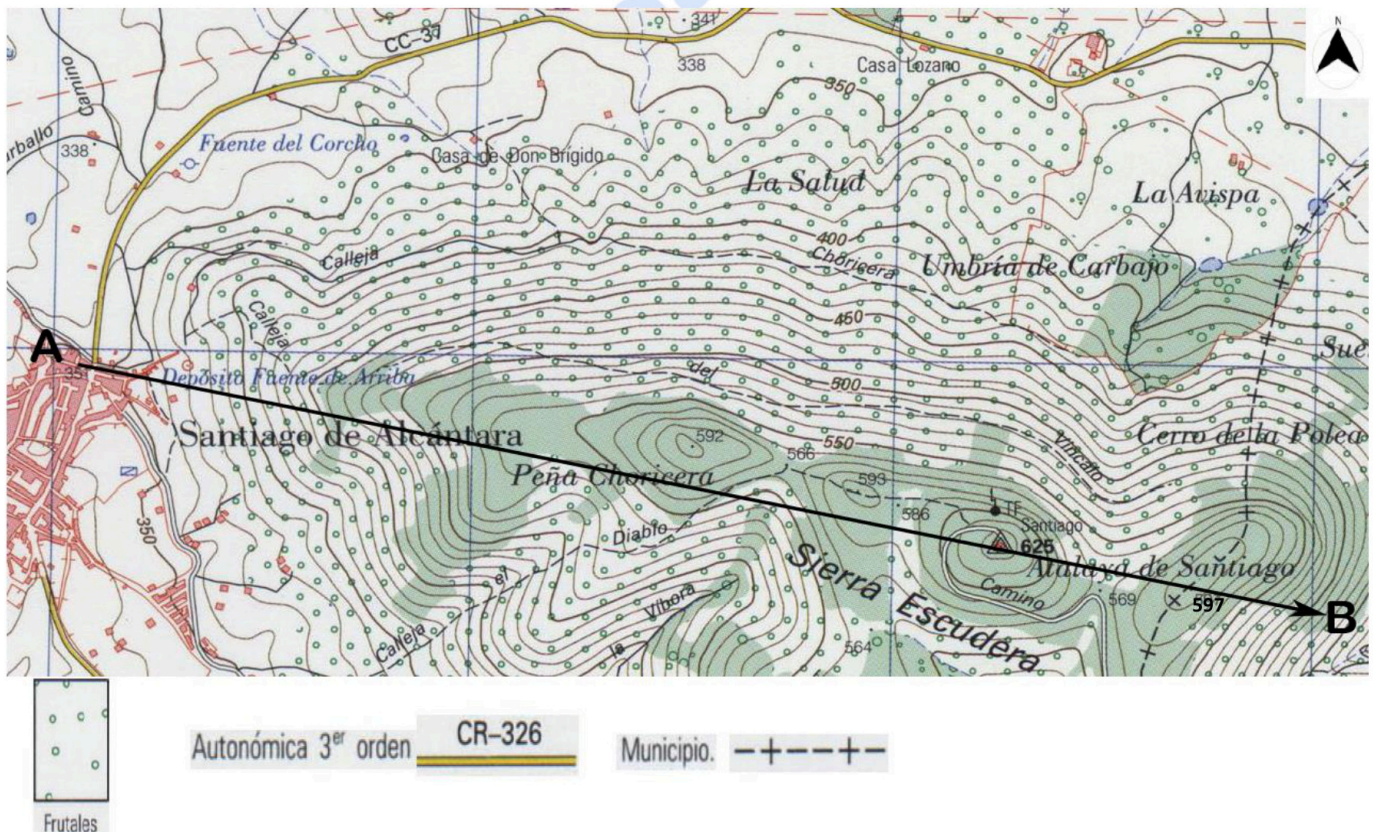
MATERIA: GEOGRAFÍA	
Convocatoria:	JULIO

INSTRUCCIONES: El examen se organiza en dos grupos (A y B), con preguntas de cinco tipos en cada uno de ellos. Se podrán elegir preguntas del mismo tipo de cualquiera de los dos grupos hasta completar una prueba compuesta por: Ejercicio práctico 1, Ejercicio práctico 2: Paisaje, Conceptos, Pregunta teórica y Pregunta práctica. Las preguntas elegidas se anotarán en las casillas correspondientes de la hoja "Estructura de la Prueba".

GRUPO A

1) EJERCICIO PRÁCTICO 1. Se proponen dos ejercicios prácticos (uno en cada grupo). **Se deberá elegir y contestar uno de ellos. Puntuación: 2 puntos.** El ejercicio elegido se anotará en la casilla correspondiente de la hoja ESTRUCTURA DE LA PRUEBA.

A1.1 Lectura e interpretación del mapa topográfico. A partir del mapa que se presenta, responde las siguientes cuestiones (1 punto cada cuestión) (Total 2 puntos):



- Describe la orografía del terreno a lo largo del recorrido señalado por la flecha entre los puntos A - B, utilizando para ello la toponimia.
- ¿Qué dirección dominante sigues cuando te desplazas desde A hacia B? ¿Qué equidistancia hay entre las curvas de nivel o isohipsas?

2) EJERCICIO PRÁCTICO 2: PAISAJE. Se proponen dos paisajes (uno en cada grupo). **Se deberá elegir y contestar uno de ellos. Puntuación: 2 puntos.** El ejercicio elegido se anotará en la casilla correspondiente de la hoja ESTRUCTURA DE LA PRUEBA.

A2.1 Analiza el siguiente paisaje contestando a las dos preguntas (0,5 puntos la primera cuestión y 1,5 la segunda) (Total: 2 puntos).



Fuente: <http://www.eltiempo.es/isla-bonita/5280-la-sequia-pone-en-jaque-a-la-caldera-de-taburiente.html>

a) Clasificación, justificación y tipología del paisaje.

b) Comentario del paisaje.

3) CONCEPTOS. Se proponen ocho conceptos (cuatro en cada grupo). **Obligatoriamente**, el alumnado deberá elegir **dos conceptos del Bloque IV** y **dos conceptos del Bloque V (en total cuatro conceptos)**. **Puntuación total: 2 puntos (0,5 cada concepto)**. Los conceptos elegidos se anotarán en las casillas correspondientes de la hoja ESTRUCTURA DE LA PRUEBA.

Ha de copiarse correcta e íntegramente el enunciado del concepto y la respuesta elegida (no se admitirán contestaciones abreviadas mediante letras o números). Se calificarán como erróneas las respuestas que no se ajusten a este requisito.

A3.1 Bloque V. En Canarias, la “capitalidad compartida” se refiere a que:

- * Cada año va rotando por islas la capital de la Comunidad Autónoma de Canarias.
- * Cada tres años se alterna la capital de la Comunidad Autónoma entre Las Palmas de Gran Canaria y Santa Cruz de Tenerife.
- * Las ciudades de Las Palmas de Gran Canaria y Santa Cruz de Tenerife son las capitales de la Comunidad Autónoma de Canarias.

A3.2 Bloque V. ¿Qué es un municipio?

- * Es la división administrativa más pequeña y cercana a los ciudadanos de nuestro país.
- * Es la institución responsable del mantenimiento de la red insular de carreteras.
- * Es una reunión de ayuntamientos próximos que se benefician de servicios mancomunados.

A3.3 Bloque IV. La ganadería extensiva:

- * Está desvinculada del medio físico.
- * Depende del medio físico.
- * Está estabulada.

A3.4 Bloque IV. En los Polígonos industriales se sitúan, mayoritariamente, empresas pertenecientes a los sectores:

- * Secundario y terciario.
- * Primario y secundario.
- * Primario y terciario.

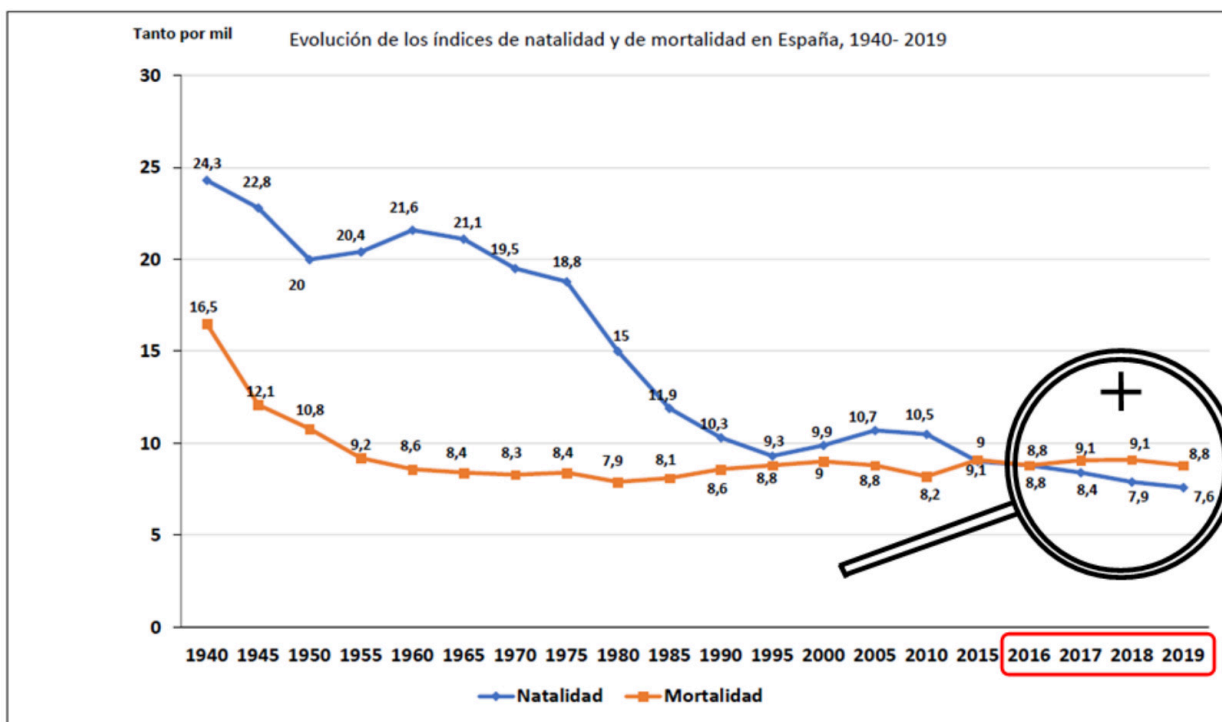
4) PREGUNTA TEÓRICA. Se proponen dos preguntas de esta modalidad (una en cada grupo). **Se deberá elegir y contestar sólo una. Puntuación total: 2 puntos.** La pregunta teórica elegida se anotará en la casilla correspondiente de la hoja ESTRUCTURA DE LA PRUEBA.

A4.1 La terciarización de la economía española.

Criterio de evaluación: Se trata de explicar las causas del proceso de "terciarización" y la desigualdad territorial.

5) PREGUNTA PRÁCTICA. Se proponen dos preguntas de esta modalidad (una en cada grupo). **Se deberá elegir y contestar una de ellas. Puntuación: 2 puntos.** La pregunta práctica elegida se anotará en la casilla correspondiente de la hoja ESTRUCTURA DE LA PRUEBA.

A5.1 Evolución de los índices de natalidad y mortalidad en España, 1940-2019. Responde a las siguientes cuestiones (1 punto cada cuestión) (Total: 2 puntos):



Fuente INE. Elaboración Subcomisión EBAU Geografía

a) Describe la gráfica de los índices de natalidad y de mortalidad en España entre 1940 y 2019.

b) Explica las causas de las tendencias de dichos índices y sus consecuencias en el crecimiento natural, prestando especial atención a los cambios más recientes.

**EVALUACIÓN DE BACHILLERATO
 PARA EL ACCESO A LA UNIVERSIDAD (EBAU)
 FASE DE OPCIÓN
 CURSO 2020-2021**

MATERIA: GEOGRAFÍA	
	Convocatoria: Julio

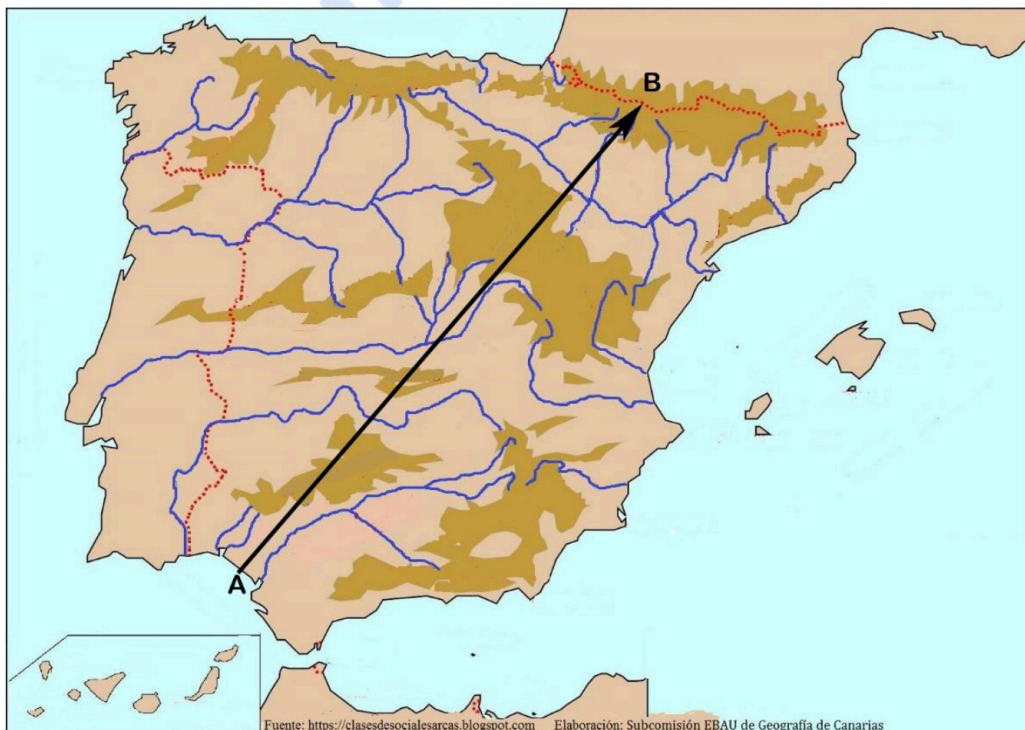
INSTRUCCIONES: El examen se organiza en dos grupos (A y B), con preguntas de cinco tipos en cada uno de ellos. Se podrán elegir preguntas del mismo tipo de cualquiera de los dos grupos hasta completar una prueba compuesta por: Ejercicio práctico 1, Ejercicio práctico 2: Paisaje, Conceptos, Pregunta teórica y Pregunta práctica. Las preguntas elegidas se anotarán en las casillas correspondientes de la hoja "Estructura de la Prueba".

GRUPO B

1) EJERCICIO PRÁCTICO 1. Se proponen 2 ejercicios prácticos (uno en cada grupo). **Se deberá elegir y contestar 1 de ellos. Puntuación: 2 puntos.** El ejercicio escogido se anotará en la casilla correspondiente de la hoja ESTRUCTURA DE LA PRUEBA.

B1.1 Mapa Físico: Identificación y localización de las grandes unidades de relieve (1 punto cada cuestión) (Total: 2 puntos).

Vas a realizar un viaje por la Península Ibérica entre los puntos A y B siguiendo la dirección y el sentido de la flecha trazada en el mapa. A partir de lo indicado, contesta a las siguientes cuestiones:



- a)** Escribe los nombres de los relieves montañosos (cordilleras, sistemas, montes...) atravesados por la flecha, citándolos en el orden propuesto.
- b)** Indica los nombres de las depresiones (cuencas hidrográficas, ríos...) atravesadas por la flecha, citándolas en el orden propuesto.

2) EJERCICIO PRÁCTICO 2: PAISAJE. Se proponen dos paisajes (uno en cada grupo). **Se deberá elegir y contestar uno de ellos. Puntuación: 2 puntos.** El ejercicio elegido se anotará en la casilla correspondiente de la hoja ESTRUCTURA DE LA PRUEBA.

B2.1 Analiza el siguiente paisaje contestando a las dos preguntas (0,5 puntos la primera cuestión y 1,5 la segunda) (Total: 2 puntos).



Fuente: <https://www.turismoasturias.es/descubre/naturaleza/otros-espacios/lagos/lago-enol>

- a) Clasificación, justificación y tipología del paisaje.
b) Comentario del paisaje.

3) CONCEPTOS. Se proponen ocho conceptos (cuatro en cada grupo). **Obligatoriamente**, el alumnado deberá elegir **dos conceptos del Bloque IV** y **dos conceptos del Bloque V (en total cuatro conceptos)**. **Puntuación total: 2 puntos (0,5 cada concepto)**. Los conceptos elegidos se anotarán en las casillas correspondientes de la hoja ESTRUCTURA DE LA PRUEBA.

Ha de copiarse correcta e íntegramente el enunciado del concepto y la respuesta elegida (no se admitirán contestaciones abreviadas mediante letras o números). Se calificarán como erróneas las respuestas que no se ajusten a este requisito.

B3.1 Bloque V. El Acuerdo Schengen es:

- * Un compromiso entre los países de la Unión Europea para impedir la importación de terceros países.
- * La creación de un espacio en el que se suprimen las fronteras interiores entre los países firmantes y se refuerzan las fronteras exteriores.
- * Un convenio suscrito por todos los Estados miembros de la U.E. para impedir la entrada de ciudadanos de otros países.

B3.2 Bloque V. Los Fondos Estructurales son:

- * Un conjunto de ayudas de la Unión Europea para los países que apuestan por un desarrollo no sostenible.
- * Recursos financieros de la Política Comunitaria para reducir los desequilibrios entre las regiones de la Unión Europea.
- * Instrumentos financieros de la Unión Europea destinados a los Estados fundadores de la Comunidad Económica Europea.



Selectividad Academy

Tu academia de selectividad online

● Mejor academia online de selectividad

Prueba sin compromiso

Primera clase gratis. Sin permanencia. Sin letra pequeña.

- ✓ Profesores especialistas en cada asignatura
- ✓ Clases adaptadas a tu nivel y tus objetivos
- ✓ Todos los exámenes oficiales resueltos paso a paso
- ✓ Calculadora de nota y guía completa en la web

623 769 002

Escríbenos por WhatsApp

www.selectividad.academy

→ Calcula tu nota en selectividad.academy/calculadora-selectividad

→ Guía completa en selectividad.academy/guia-selectividad

→ ¿Tienes dudas? Escríbenos sin compromiso