

**EVALUACIÓN DE BACHILLERATO
PARA EL ACCESO A LA UNIVERSIDAD (EBAU)
CURSO 2020–2021**

ESTRUCTURA DE LA PRUEBA

MATERIA:

GEOGRAFÍA DE ESPAÑA

**LA PRUEBA ESTÁ ESTRUCTURADA COMO
GRUPO A – GRUPO B**

Las preguntas pueden escogerse de cualquier grupo

	<u>Elección</u>				
<p align="center">EJERCICIO PRÁCTICO 1 A1.1 – B1.1 Debe elegir 1 Puntúa un máximo de 2 puntos</p>	<input type="checkbox"/>				
<p align="center">EJERCICIO PRÁCTICO 2: PAISAJE A2.1 – B2.1 Debe elegir 1 Puntúa un máximo de 2 puntos</p>	<input type="checkbox"/>				
<p align="center">CONCEPTOS: Elige dos conceptos de la fila siguiente: A3.1- A3.2 – B3.1 – B3.2 →</p> <p align="center">Elige dos conceptos de la fila siguiente: A3.3- A3.4 – B3.3 – B3.4 →</p> <p align="center">En total, cuatro (como máximo), dos de cada fila Cada concepto puntúa 0.5 puntos Puntúa un máximo de 2 puntos</p>	<table border="1"> <tr> <td><input type="checkbox"/></td> <td><input type="checkbox"/></td> </tr> <tr> <td><input type="checkbox"/></td> <td><input type="checkbox"/></td> </tr> </table>	<input type="checkbox"/>	<input type="checkbox"/>	<input type="checkbox"/>	<input type="checkbox"/>
<input type="checkbox"/>	<input type="checkbox"/>				
<input type="checkbox"/>	<input type="checkbox"/>				
<p align="center">PREGUNTA TEÓRICA A4.1 – B4.1 Debe elegir 1 Puntúa un máximo de 2 puntos</p>	<input type="checkbox"/>				
<p align="center">PREGUNTA PRÁCTICA: A5.1 – B5.1 Debe elegir 1 Puntúa un máximo de 2 puntos</p>	<input type="checkbox"/>				

Se aconseja revisar la selección marcada al finalizar la prueba para verificar que se corresponde con las preguntas contestadas.

**EVALUACIÓN DE BACHILLERATO
 PARA EL ACCESO A LA UNIVERSIDAD (EBAU)
 FASE DE OPCIÓN
 CURSO 2020-2021**

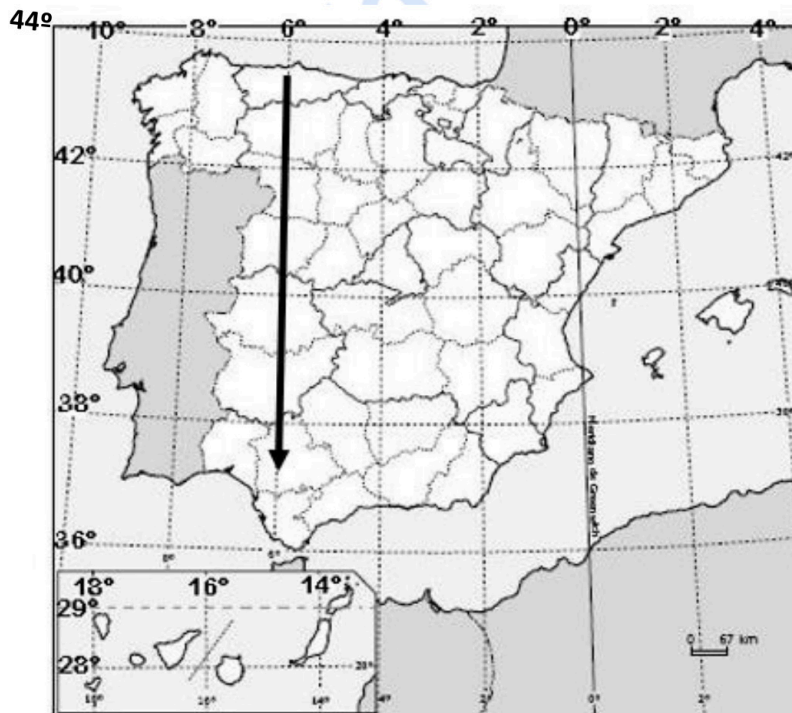
MATERIA: GEOGRAFÍA DE ESPAÑA	(1)
	Convocatoria:

INSTRUCCIONES: El examen se organiza en dos grupos (A y B), con preguntas de cinco tipos en cada uno de ellos. Se podrán elegir preguntas del mismo tipo de cualquiera de los dos grupos hasta completar una prueba compuesta por: Ejercicio práctico 1, Ejercicio práctico 2: Paisaje, Conceptos, Pregunta teórica y Pregunta práctica. Las preguntas elegidas se anotarán en las casillas correspondientes de la hoja “Estructura de la Prueba”.

GRUPO A

1) EJERCICIO PRÁCTICO 1. Se proponen dos ejercicios prácticos (uno en cada grupo). **Se deberá elegir y contestar uno de ellos. Puntuación: 2 puntos.** El ejercicio elegido se anotará en la casilla correspondiente de la hoja ESTRUCTURA DE LA PRUEBA.

A1.1 Mapa de localización: recorrido provincial/comunidades (capitales) y coordenadas geográficas. (1 punto cada cuestión) (Total: 2 puntos).



A partir del mapa, contesta a las siguientes cuestiones:

- a)** ¿Entre qué paralelos y meridianos se encuentran las Islas Baleares? Indica el valor de la latitud y la longitud del punto final de la flecha.
- b)** Si sigues la dirección y el sentido de la flecha recorrerás la denominada “Ruta de la Plata”, cuyo origen se remonta a la presencia romana en Hispania. Indica ordenadamente el nombre de las provincias por las que pasas, las Comunidades Autónomas a las que pertenecen y las capitales de esas Comunidades Autónomas.

2) EJERCICIO PRÁCTICO 2: PAISAJE. Se proponen dos paisajes (uno en cada grupo). **Se deberá elegir y contestar uno de ellos. Puntuación: 2 puntos.** El ejercicio elegido se anotará en la casilla correspondiente de la hoja ESTRUCTURA DE LA PRUEBA.

A2.1 Analiza el siguiente paisaje contestando a las dos preguntas (0,5 puntos la primera cuestión y 1,5 la segunda) (Total: 2 puntos).



Fuente: <https://www.lavanguardia.com/natural/tu-huella/20160828/404238849783/mar-menor-grave-peligro>

a) Clasificación, justificación y tipología del paisaje.

b) Comentario del paisaje.

3) CONCEPTOS. Se proponen ocho conceptos (cuatro en cada grupo). **Obligatoriamente**, el alumnado deberá elegir **dos conceptos del Bloque IV y dos conceptos del Bloque V (en total cuatro conceptos)**. **Puntuación total: 2 puntos (0,5 cada concepto)**. Los conceptos elegidos se anotarán en las casillas correspondientes de la hoja ESTRUCTURA DE LA PRUEBA.

Ha de copiarse correcta e íntegramente el enunciado del concepto y la respuesta elegida (no se admitirán contestaciones abreviadas mediante letras o números). Se calificarán como erróneas las respuestas que no se ajusten a este requisito.

A3.1 Bloque V. La doble insularidad en Canarias:

- * Reduce los costes de vida.
- * Impide el equilibrio regional.
- * Facilita la igualdad de oportunidades.

A3.2 Bloque V. Son territorios forales:

- * Cataluña y Galicia.
- * Canarias y Baleares.
- * Navarra y Euskadi.

A3.3 Bloque IV. La deslocalización industrial es consecuencia de:

- * La globalización económica.
- * Las dificultades de las comunicaciones.
- * El encarecimiento de los transportes.

A3.4 Bloque IV. Entre las características del transporte multimodal podemos indicar:

- * La utilización de un único tipo de transporte para el traslado de mercancías.
- * La reducción de los costes y de los tiempos para el traslado de mercancías.
- * Su predominio en el ámbito local de intercambio de mercancías.

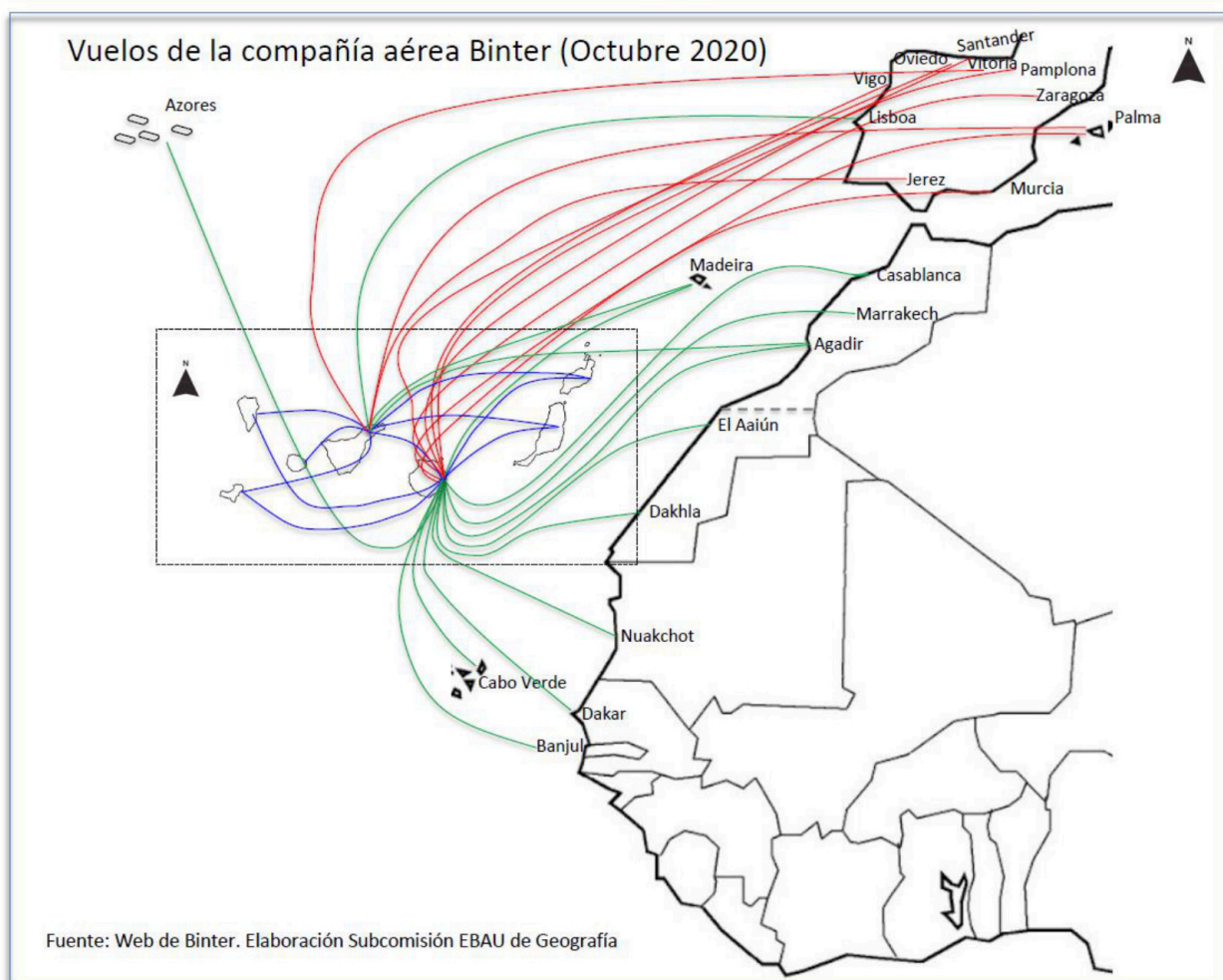
4) PREGUNTA TEÓRICA. Se proponen dos preguntas de esta modalidad (una en cada grupo). **Se deberá elegir y contestar sólo una. Puntuación total: 2 puntos.** La pregunta teórica elegida se anotará en la casilla correspondiente de la hoja ESTRUCTURA DE LA PRUEBA.

A4.1 La influencia de la actividad humana en el medio natural.

Criterio de evaluación: Se trata de identificar los problemas derivados de la interacción de las actividades humanas en el medio natural (alteración del relieve, deforestación, reducción de la biodiversidad) y señalar las principales políticas medioambientales.

5) PREGUNTA PRÁCTICA. Se proponen dos preguntas de esta modalidad (una en cada grupo). **Se deberá elegir y contestar una de ellas. Puntuación: 2 puntos.** La pregunta práctica elegida se anotará en la casilla correspondiente de la hoja ESTRUCTURA DE LA PRUEBA.

A5.1 El transporte en Canarias. Responde a las siguientes cuestiones (1 punto cada cuestión) (Total: 2 puntos):



a) Describe el mapa adjunto.

b) Explica la importancia del transporte aéreo en Canarias, valora sus infraestructuras y comenta sus principales problemas.

**EVALUACIÓN DE BACHILLERATO
 PARA EL ACCESO A LA UNIVERSIDAD (EBAU)
 FASE DE OPCIÓN
 CURSO 2020-2021**

MATERIA: GEOGRAFÍA DE ESPAÑA (1)

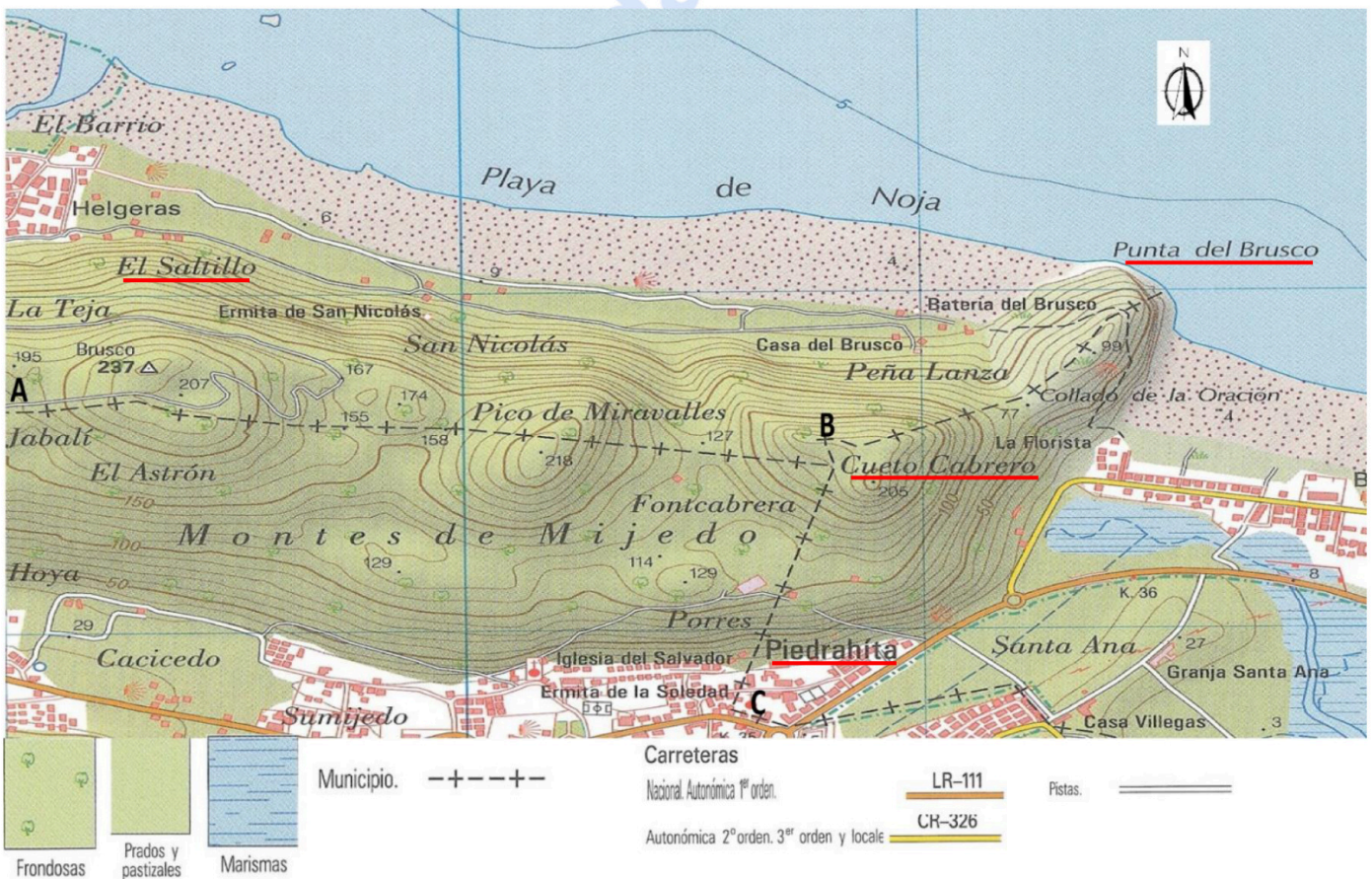
Convocatoria:

INSTRUCCIONES: El examen se organiza en dos grupos (A y B), con preguntas de cinco tipos en cada uno de ellos. Se podrán elegir preguntas del mismo tipo de cualquiera de los dos grupos hasta completar una prueba compuesta por: Ejercicio práctico 1, Ejercicio práctico 2: Paisaje, Conceptos, Pregunta teórica y Pregunta práctica. Las preguntas elegidas se anotarán en las casillas correspondientes de la hoja "Estructura de la Prueba".

GRUPO B

1) EJERCICIO PRÁCTICO 1. Se proponen 2 ejercicios prácticos (uno en cada grupo). **Se deberá elegir y contestar 1 de ellos. Puntuación: 2 puntos.** El ejercicio escogido se anotará en la casilla correspondiente de la hoja ESTRUCTURA DE LA PRUEBA.

B1.1 Lectura e interpretación del mapa topográfico. A partir del mapa que se presenta, responde las siguientes cuestiones (1 punto cada cuestión) (Total 2 puntos):



- a) Describe la orografía que te encontrarías en un desplazamiento entre los puntos A y B, y del B al C.
- b) ¿Qué desnivel altitudinal existe entre Punta del Brusco y Cuetto Cabrero? ¿Qué dirección dominante sigues cuando te desplazas desde Piedrahita a El Saltillo?

2) EJERCICIO PRÁCTICO 2: PAISAJE. Se proponen dos paisajes (uno en cada grupo). **Se deberá elegir y contestar uno de ellos. Puntuación: 2 puntos.** El ejercicio elegido se anotará en la casilla correspondiente de la hoja ESTRUCTURA DE LA PRUEBA.

B2.1 Analiza el siguiente paisaje contestando a las dos preguntas (0,5 puntos la primera cuestión y 1,5 la segunda) (Total: 2 puntos).



Fuente: <http://www.zaragoza.es>

a) Clasificación, justificación y tipología del paisaje.

b) Comentario del paisaje.

3) CONCEPTOS. Se proponen ocho conceptos (cuatro en cada grupo). **Obligatoriamente**, el alumnado deberá elegir **dos conceptos del Bloque IV y dos conceptos del Bloque V (en total cuatro conceptos)**. **Puntuación total: 2 puntos (0,5 cada concepto)**. Los conceptos elegidos se anotarán en las casillas correspondientes de la hoja ESTRUCTURA DE LA PRUEBA.

Ha de copiarse correcta e íntegramente el enunciado del concepto y la respuesta elegida (no se admitirán contestaciones abreviadas mediante letras o números). Se calificarán como erróneas las respuestas que no se ajusten a este requisito.

B3.1 Bloque V. ¿Qué indicadores se tienen en cuenta en el Índice de Desarrollo Humano?:

- * La proporción entre población activa y no activa, la tasa de natalidad y el porcentaje de estudiantes.
- * La media del PIB por cabeza, la esperanza de vida y las tasas de alfabetización y matriculación.
- * La tasa de desempleo, el crecimiento natural de la población y el nivel de analfabetismo.

B3.2 Bloque V. ¿A qué tres países de la Unión Europea pertenecen las Regiones ultraperiféricas?:

- * Francia, Portugal y España.
- * Grecia, Bélgica y Alemania.
- * Reino Unido, Italia y Austria.

B3.3 Bloque IV. El aprovechamiento de la fuerza del viento se realiza a través de:

- * La energía mareomotriz.
- * La energía eólica.
- * La energía biomasa.

B3.4 Bloque IV. Los paquetes turísticos gestionados por los tour-operadores:

- * Permiten a los consumidores precios más asequibles.
- * No incluyen la tramitación de los vuelos y alojamientos.
- * Incrementan considerablemente los gastos vacacionales.

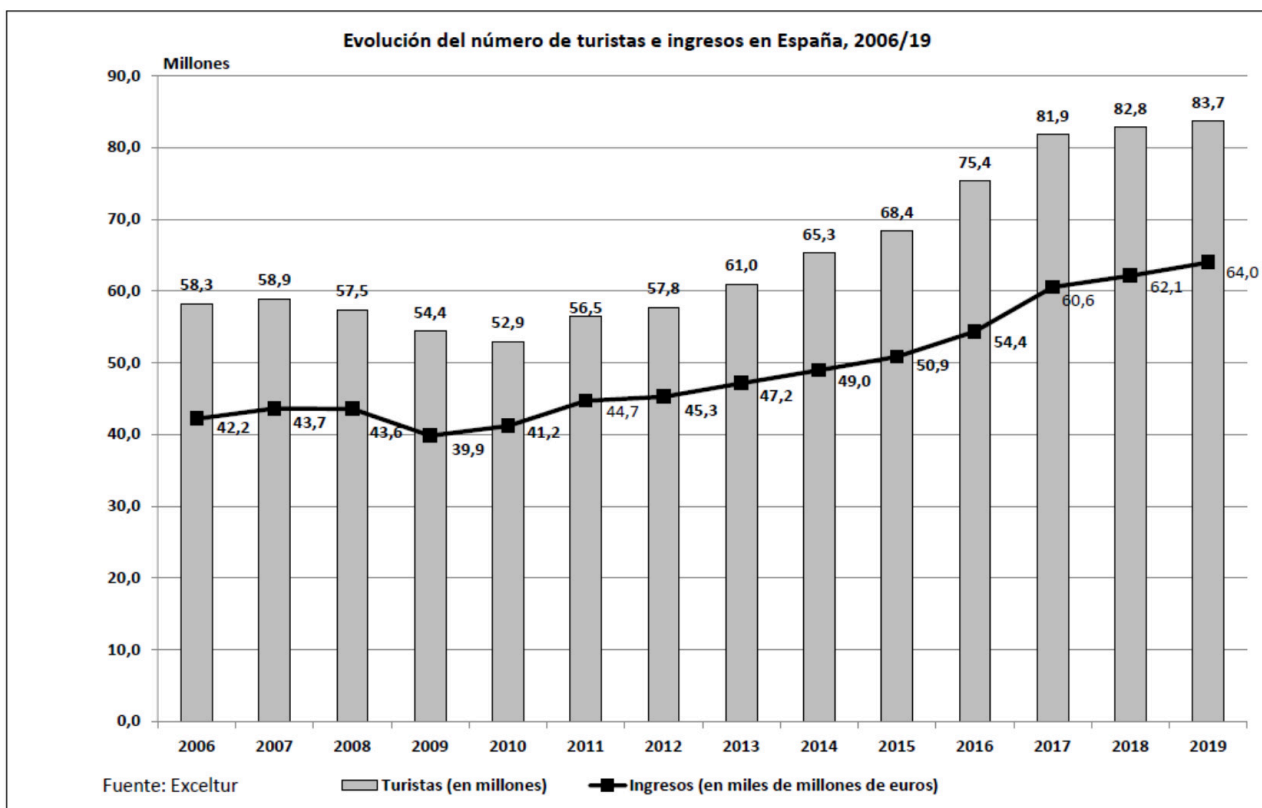
4) PREGUNTA TEÓRICA. Se proponen dos preguntas de esta modalidad (una en cada grupo). **Se deberá elegir y contestar sólo una. Puntuación total: 2 puntos.** La pregunta teórica elegida se anotará en la casilla correspondiente de la hoja ESTRUCTURA DE LA PRUEBA.

B4.1 Las repercusiones del cambio climático en España.

Criterio de evaluación: Se trata de valorar las repercusiones ambientales, sociales y económicas derivadas del cambio climático en el territorio español e identificar las posibles soluciones para invertir este proceso.

5) PREGUNTA PRÁCTICA. Se proponen dos preguntas de esta modalidad (una en cada grupo). **Se deberá elegir y contestar una de ellas. Puntuación: 2 puntos.** La pregunta práctica elegida se anotará en la casilla correspondiente de la hoja ESTRUCTURA DE LA PRUEBA.

B5.1 Evolución del número de turistas e ingresos en España, 2006/19. Responde a las siguientes cuestiones (1 punto cada cuestión) (Total: 2 puntos):



Fuente Exceltour. Elaboración Subcomisión EBAU Geografía

- a) Describe la gráfica del número de turistas e ingresos por turismo entre los años 2006/19.
- b) Señala las características del modelo turístico tradicional: factores internos que favorecieron el turismo de masas, características de ese tipo de turismo, repercusiones y vías de mejora.



Selectividad Academy

Tu academia de selectividad online

● Mejor academia online de selectividad

Prueba sin compromiso

Primera clase gratis. Sin permanencia. Sin letra pequeña.

- ✓ Profesores especialistas en cada asignatura
- ✓ Clases adaptadas a tu nivel y tus objetivos
- ✓ Todos los exámenes oficiales resueltos paso a paso
- ✓ Calculadora de nota y guía completa en la web

623 769 002

Escríbenos por WhatsApp

www.selectividad.academy

→ Calcula tu nota en selectividad.academy/calculadora-selectividad

→ Guía completa en selectividad.academy/guia-selectividad

→ ¿Tienes dudas? Escríbenos sin compromiso