

EVALUACIÓN DE BACHILLERATO
 PARA EL ACCESO A LA UNIVERSIDAD (EBAU)

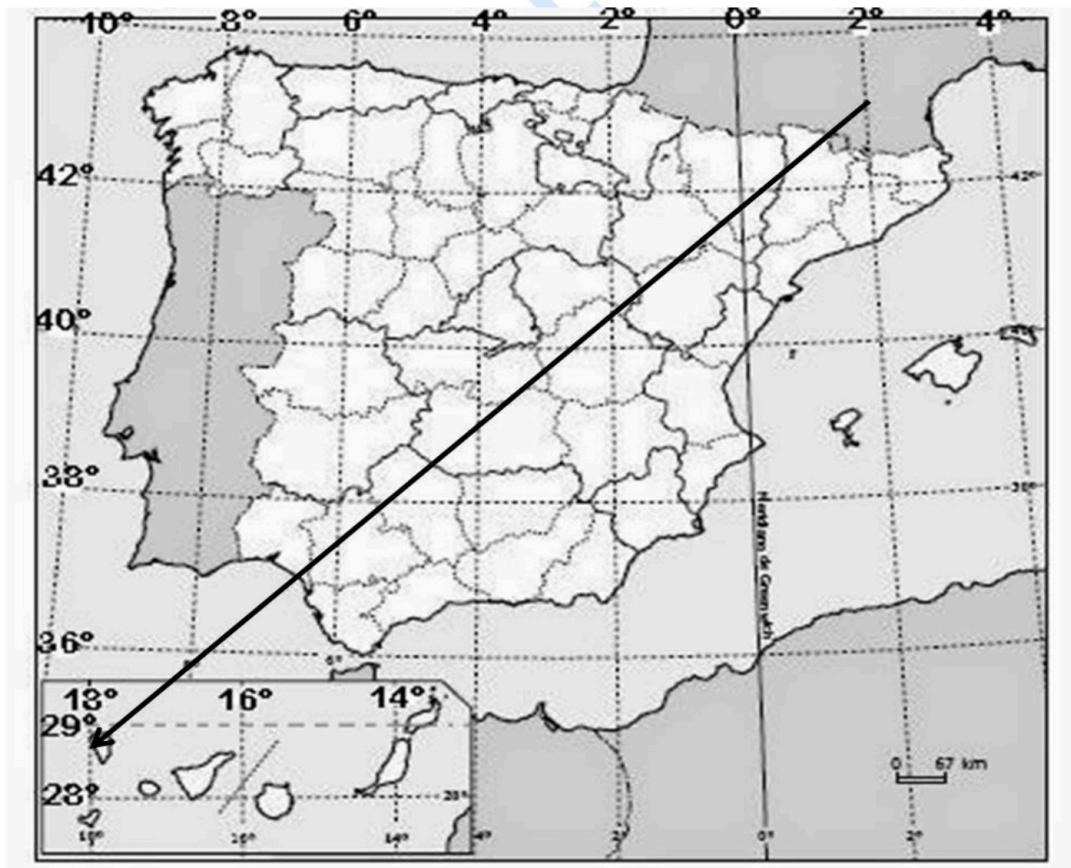
FASE DE OPCIÓN
 CURSO 2021-2022

MATERIA: GEOGRAFÍA		(1)
Convocatoria:	JULIO	

Instrucciones: Debes elegir una de las dos opciones, A o B, y no puedes intercambiar las preguntas de cada una de ellas. Cada opción consta de cinco preguntas valoradas con dos puntos cada una.


OPCIÓN A

1.- EJERCICIO PRÁCTICO. Mapa de localización: recorrido provincial / comunidades (capitales) y coordenadas geográficas. (1 punto cada cuestión. Total: 2 puntos).



- a)** ¿Cuántos grados de longitud hay entre los extremos de la flecha representada? Anota también las longitudes de esos puntos.
- b)** Siguiendo el orden definido por el sentido de la flecha, indica el nombre de las provincias españolas atravesadas por la misma, así como el de las Comunidades Autónomas a las que pertenecen y las capitales de esas Comunidades Autónomas.

2.- COMENTARIO DE PAISAJE. Analiza el siguiente paisaje contestando a las dos preguntas propuestas (0,5 puntos la primera cuestión y 1,5 la segunda. Total 2 puntos).



<http://geografiadebachillerato.wikispaces.com>

- a) Clasificación, justificación y tipología del paisaje.
- b) Comentario del paisaje.

3.- CONCEPTOS (0,5 puntos cada uno). Contesta los CUATRO conceptos (dos del Bloque IV y dos del bloque V) y ESCRIBE, en tu hoja de examen, sus enunciados, así como la correspondiente respuesta correcta de cada uno (Total: 2 puntos).

3.1. BLOQUE IV – La ganadería extensiva:

- está desvinculada del medio físico.
- depende del medio físico.
- está estabulada.

3.2. BLOQUE IV – El desarrollo sostenible es:

- una política económica para proporcionar a todos los ciudadanos un bienestar social.
- un modelo de desarrollo en el que sean compatibles el desarrollo económico, la conservación de los recursos naturales y el bienestar social.
- un conjunto de ayudas para reducir las disparidades entre las regiones europeas.

3.3 BLOQUE V – 1.3.- El Estado de las Autonomías reconoce:

- la capacidad de las comunidades autónomas para firmar tratados internacionales.
- la división administrativa del territorio español en pueblos y ciudades.
- la diversidad de los territorios que integran España y su capacidad de autogobierno en los asuntos de su competencia.

3.4 Bloque V. En Canarias, la “capitalidad compartida” se refiere a que:

- cada año va rotando por islas la capital de la Comunidad Autónoma de Canarias.
- cada tres años se alterna la capital de la Comunidad Autónoma entre Las Palmas de Gran Canaria y Santa Cruz de Tenerife.
- las ciudades de Las Palmas de Gran Canaria y Santa Cruz de Tenerife son las capitales de la Comunidad Autónoma de Canarias.

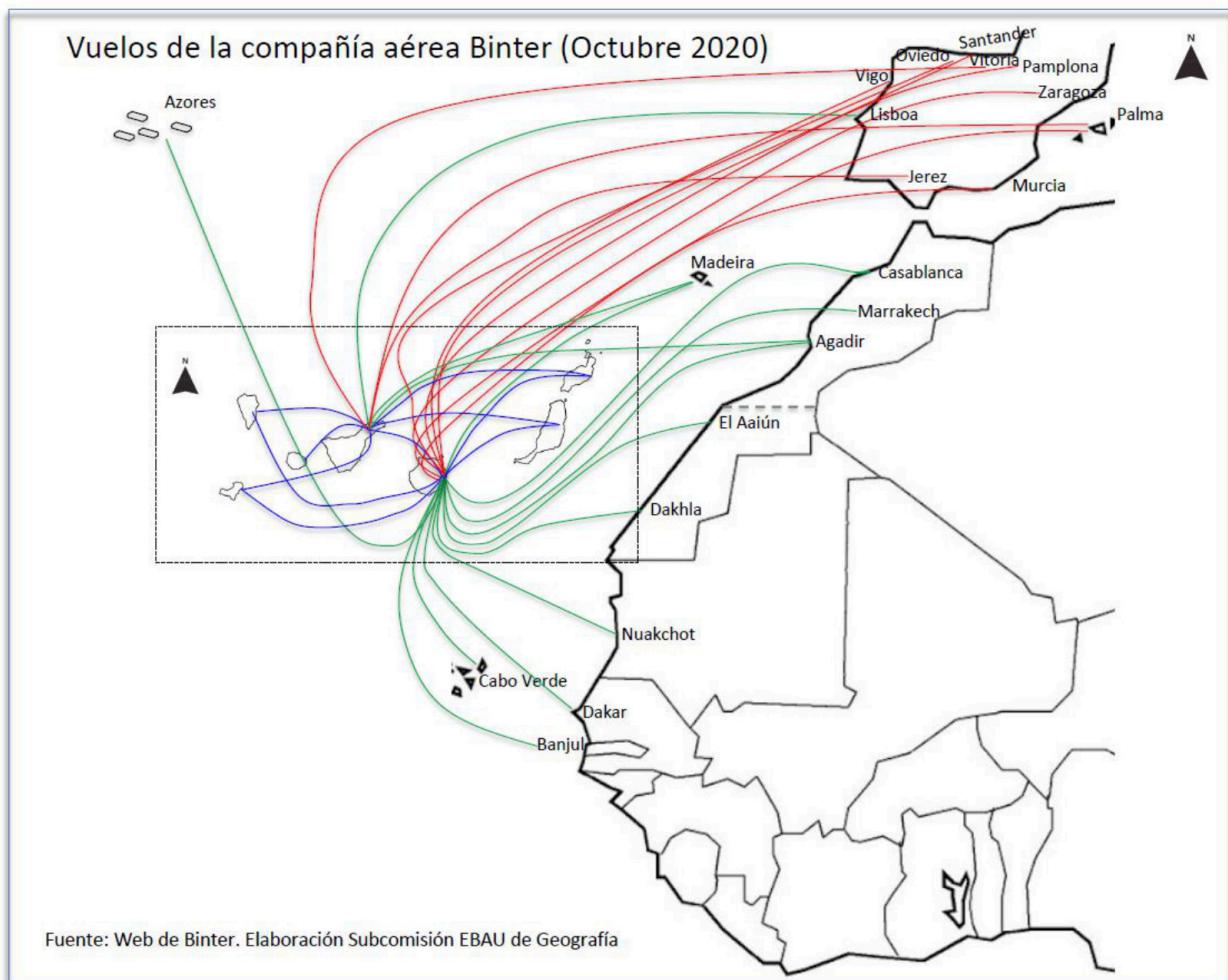
4.- PREGUNTA TEÓRICA. (2 puntos)

Las migraciones exteriores en España a partir de la crisis de 2008.

Criterio de evaluación: se trata de señalar los cambios experimentados en los movimientos migratorios a partir de la crisis de 2008 y reflexionar sobre sus consecuencias.

5.-PREGUNTA PRÁCTICA (1 punto cada cuestión. Total: 2 puntos).

El transporte en Canarias. Responde a las siguientes cuestiones (1 punto cada cuestión):



a) Describe el mapa adjunto.

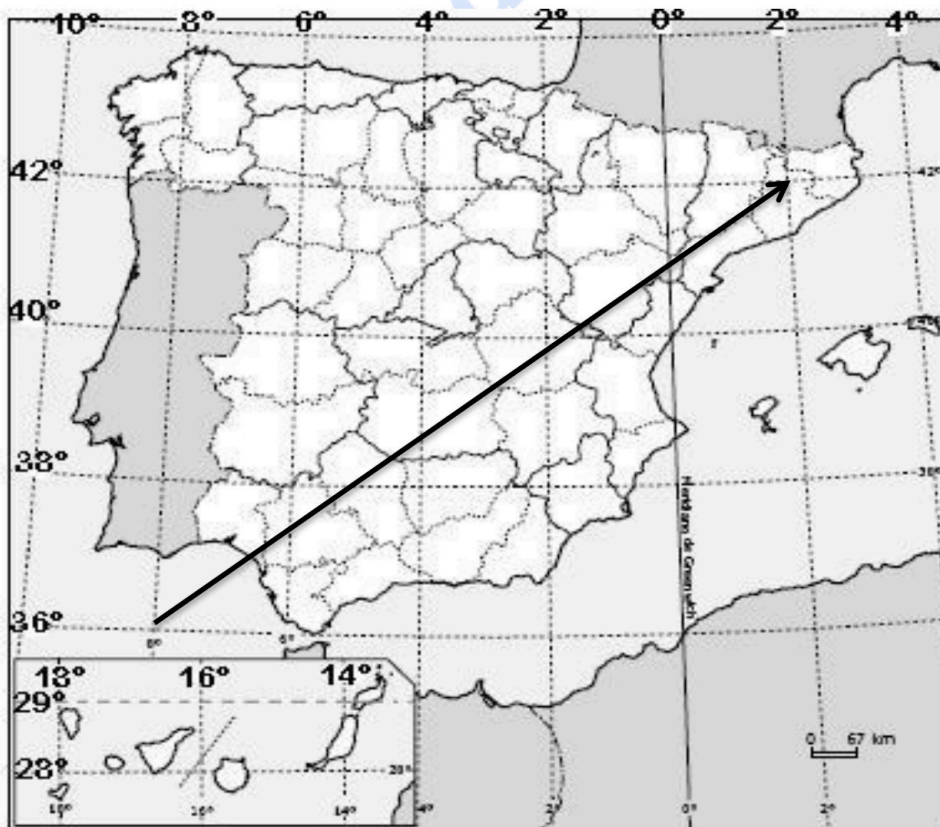
b) Explica la importancia del transporte aéreo en Canarias, valora sus infraestructuras y comenta sus principales problemas.

MATERIA: GEOGRAFÍA		(1)
Convocatoria:	JULIO	

Instrucciones: Debes elegir una de las dos opciones, A o B, y no puedes intercambiar las preguntas de cada una de ellas. Cada opción consta de cinco preguntas valoradas con dos puntos cada una.

OPCIÓN B

1.- EJERCICIO PRÁCTICO. Mapa de localización: recorrido provincial / comunidades (capitales) y coordenadas geográficas. (1 punto cada cuestión. Total: 2 puntos).



a) Indica de suroeste a noreste, ordenadamente, el nombre de las provincias, las Comunidades Autónomas a las que pertenecen y las capitales de dichas Comunidades Autónomas, por las que pasa la flecha en el mapa.

b) ¿Cuántos grados de latitud hay de diferencia entre el inicio y fin de la flecha?

¿Cuántos grados de longitud hay de diferencia entre el inicio y fin de la flecha?

2.- COMENTARIO DE PAISAJE. Analiza el siguiente paisaje contestando a las dos preguntas propuestas (0,5 puntos la primera cuestión y 1,5 la segunda.Total 2 puntos).



Fuente: <http://www.zaragoza.es>

- a) Clasificación, justificación y tipología del paisaje.
- b) Comentario del paisaje.

3.- CONCEPTOS (0,5 puntos cada uno). Contesta los CUATRO conceptos (dos del Bloque IV y dos del bloque V) y **ESCRIBE**, en tu hoja de examen, sus enunciados, así como la correspondiente respuesta correcta de cada uno (Total: 2 puntos).

3.1. BLOQUE IV – La reconversión industrial:

- es el conjunto de decisiones y medidas de política económica tomadas con el fin de renovar aquellos sectores industriales en crisis, por tecnologías obsoletas y cambios en el mercado
- proceso por el cual las industrias reciben mayor inversión por parte del Estado para poder seguir realizando su actividad
- se da en aquellos sectores industriales tales como el automovilístico, informática, alimenticia, construcción, etc.

3.2. BLOQUE IV – El AVE es una red ferroviaria destinada al transporte de pasajeros:

- de larga distancia que entró en funcionamiento en 1992 con la línea Madrid-Barcelona.
- de larga distancia que entró en funcionamiento en 1992 con la línea Madrid-Sevilla.
- de larga distancia que entró en funcionamiento en 1992 con la línea Madrid-Valencia.

3.3. BLOQUE V – ¿A qué tres países de la Unión Europea pertenecen las Regiones Ultraperiféricas?:

- Francia, Portugal y España.
- Grecia, Bélgica y Alemania.
- Italia, Países Bajos y Dinamarca, entre las regiones de la Unión Europea.

3.4. BLOQUE V – En el Estado del Bienestar:

- la protección social de los ciudadanos corresponde a la iniciativa privada.
- los países de la Unión Europea siguen una misma política social.

- el Estado asume la responsabilidad del bienestar de los ciudadanos mediante una serie de servicios y prestaciones.

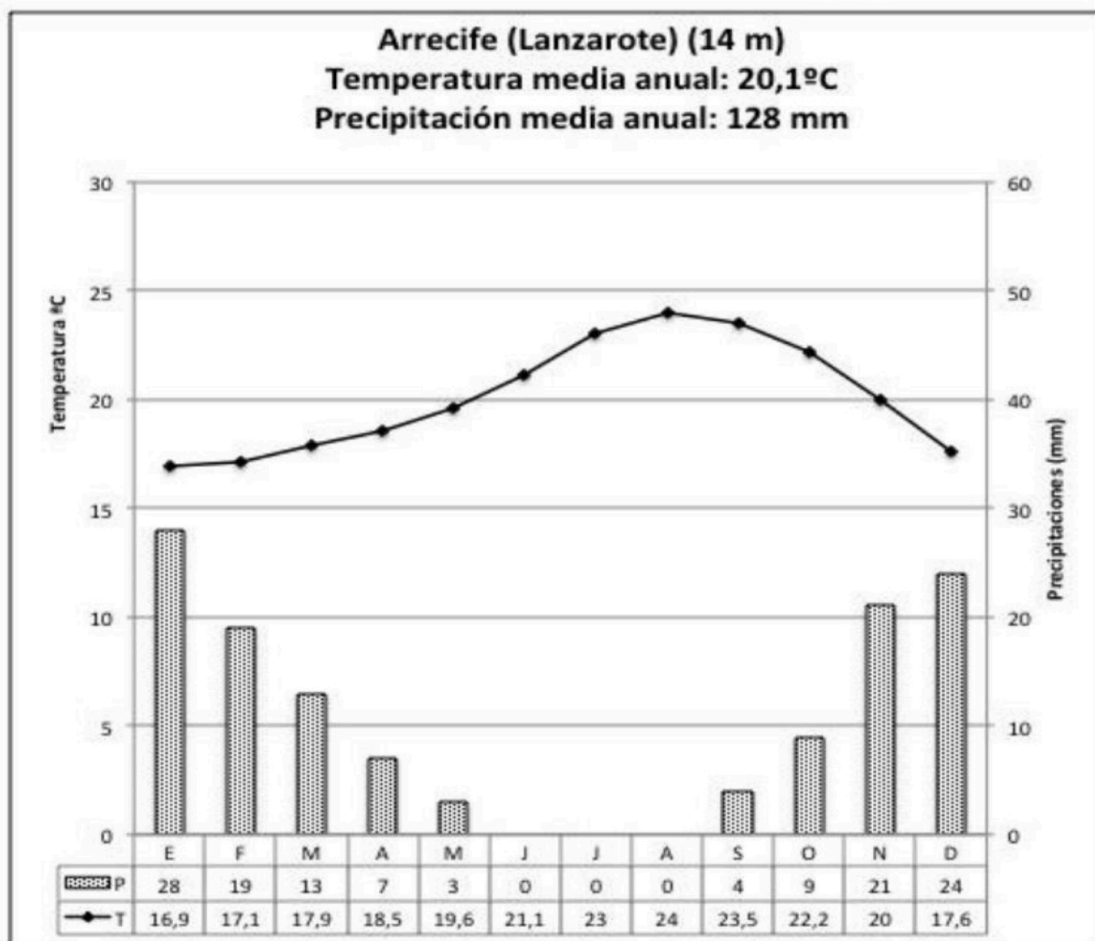
4.- PREGUNTA TEÓRICA. (2 puntos)

Principales problemas del mundo rural.

Criterio de evaluación: señalar los problemas demográficos, económicos y sociales que afectan a la agricultura en España, y exponer algunas medidas para buscar alternativas y revalorizar la actividad agraria y el mundo rural.

5.-PREGUNTA PRÁCTICA.

Climograma de Arrecife. Responde a las siguientes cuestiones (1 punto cada cuestión. Total:2 puntos)



a) Describe la gráfica y comenta las principales características de las temperaturas (media anual, amplitud térmica y reparto estacional), las precipitaciones (precipitación media anual y distribución estacional) y de la aridez (meses secos).

b) Identifica el tipo de clima y comenta sus relaciones con el paisaje vegetal de la zona, hidrografía y actividades económicas.



Selectividad Academy

Tu academia de selectividad online

● Mejor academia online de selectividad

Prueba sin compromiso

Primera clase gratis. Sin permanencia. Sin letra pequeña.

- ✓ Profesores especialistas en cada asignatura
- ✓ Clases adaptadas a tu nivel y tus objetivos
- ✓ Todos los exámenes oficiales resueltos paso a paso
- ✓ Calculadora de nota y guía completa en la web

623 769 002

Escríbenos por WhatsApp

www.selectividad.academy

→ Calcula tu nota en selectividad.academy/calculadora-selectividad

→ Guía completa en selectividad.academy/guia-selectividad

→ ¿Tienes dudas? Escríbenos sin compromiso