

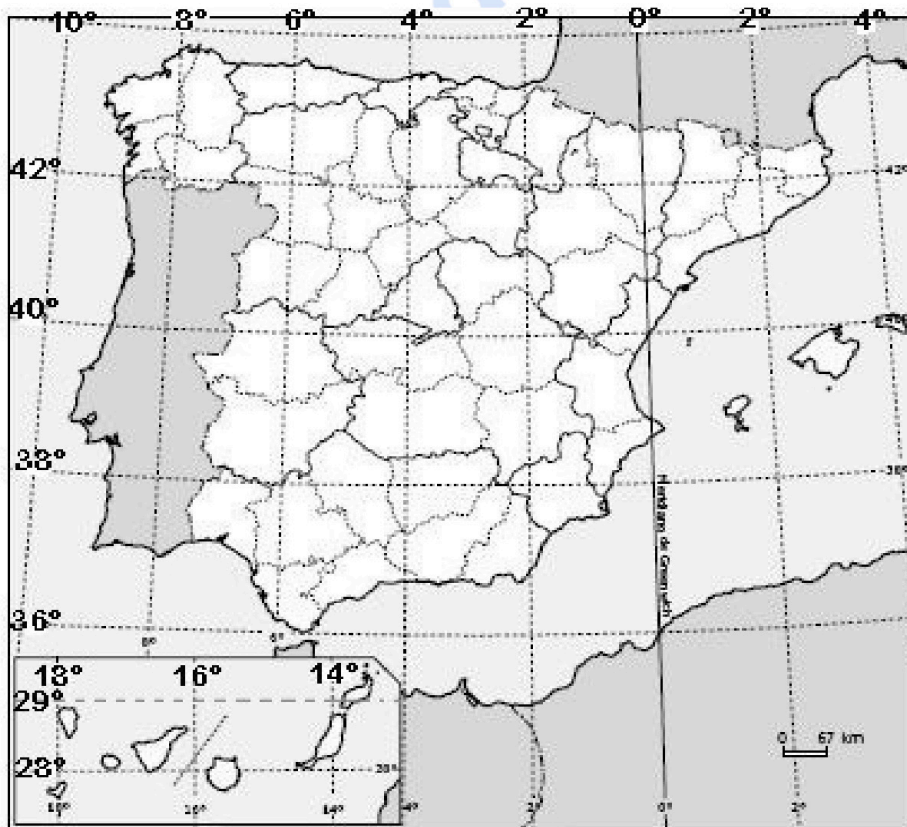
**EVALUACIÓN DE BACHILLERATO  
 PARA EL ACCESO A LA UNIVERSIDAD (EBAU)  
 FASE DE OPCIÓN  
 CURSO 2021-2022**

<b>MATERIA:</b> GEOGRAFÍA	<b>(4)</b>
<b>Convocatoria:</b>	

**Instrucciones:** Debes elegir una de las dos opciones, A o B, y no puedes intercambiar las preguntas de cada una de ellas. Cada opción consta de cinco preguntas valoradas con dos puntos cada una.

**OPCIÓN A**

**1.- EJERCICIO PRÁCTICO.** Mapa de localización: recorrido provincial / comunidades (capitales) y coordenadas geográficas. (1 punto cada cuestión. Total: 2 puntos).



- a) Indica de norte a sur, ordenadamente, el nombre de las provincias, las Comunidades Autónomas a las que pertenecen y las capitales de dichas Comunidades Autónomas, por las que pasa el meridiano 4° Oeste.
- b) ¿Entre qué paralelos y meridianos se encuentra la Península Ibérica?  
 ¿Entre qué paralelos y meridianos se encuentra las Islas Canarias?

**2.- COMENTARIO DE PAISAJE.** Analiza el siguiente paisaje contestando a las dos preguntas propuestas (0,5 puntos la primera cuestión y 1,5 la segunda. Total 2 puntos).



- a) Clasificación, justificación y tipología del paisaje
- b) Comentario del paisaje

**3.- CONCEPTOS (0,5 puntos cada uno).** Contesta los CUATRO conceptos (dos del Bloque IV y dos del bloque V) y **ESCRIBE**, en tu hoja de examen, sus enunciados, así como la correspondiente respuesta correcta de cada uno (Total: 2 puntos).

**3.1. BLOQUE IV. La agroindustria:**

- suele estar en las afueras de las ciudades para acceder a las materias primas importadas.
- es un tipo de industria pesada, necesita una alta tecnología.
- transforma las materias primas agrarias y pesqueras en productos semielaborados o elaborados.

**3.2. BLOQUE IV. La deslocalización industrial es:**

- un proceso de traslado de la producción, solo de la primera fase del proceso productivo, para evitar la emisión de gases a la atmósfera en los países de origen.
- se traslada la producción a otros países porque de esa manera hay más variedad de producción. Es una práctica relacionada con la globalización.
- suelen trasladarse a países menos desarrollados, donde los salarios son más bajos, el suelo más barato, se pagan menos impuestos, etc.

**3.3. BLOQUE V. El concepto de doble insularidad se refiere a:**

- los criterios usados por la administración central para realizar el reparto de los presupuestos autonómicos entre las dos provincias canarias.
- las desventajas y situaciones de agravio comparativo que padecen los habitantes de las islas no capitalinas con respecto a los que residen en Tenerife o Gran Canaria.
- los sobrecostos sociales, políticos y económicos que sufren los residentes en Baleares y Canarias con respecto a los de las otras Comunidades Autónomas del Estado español.

#### 3.4. BLOQUE V. n municipio:

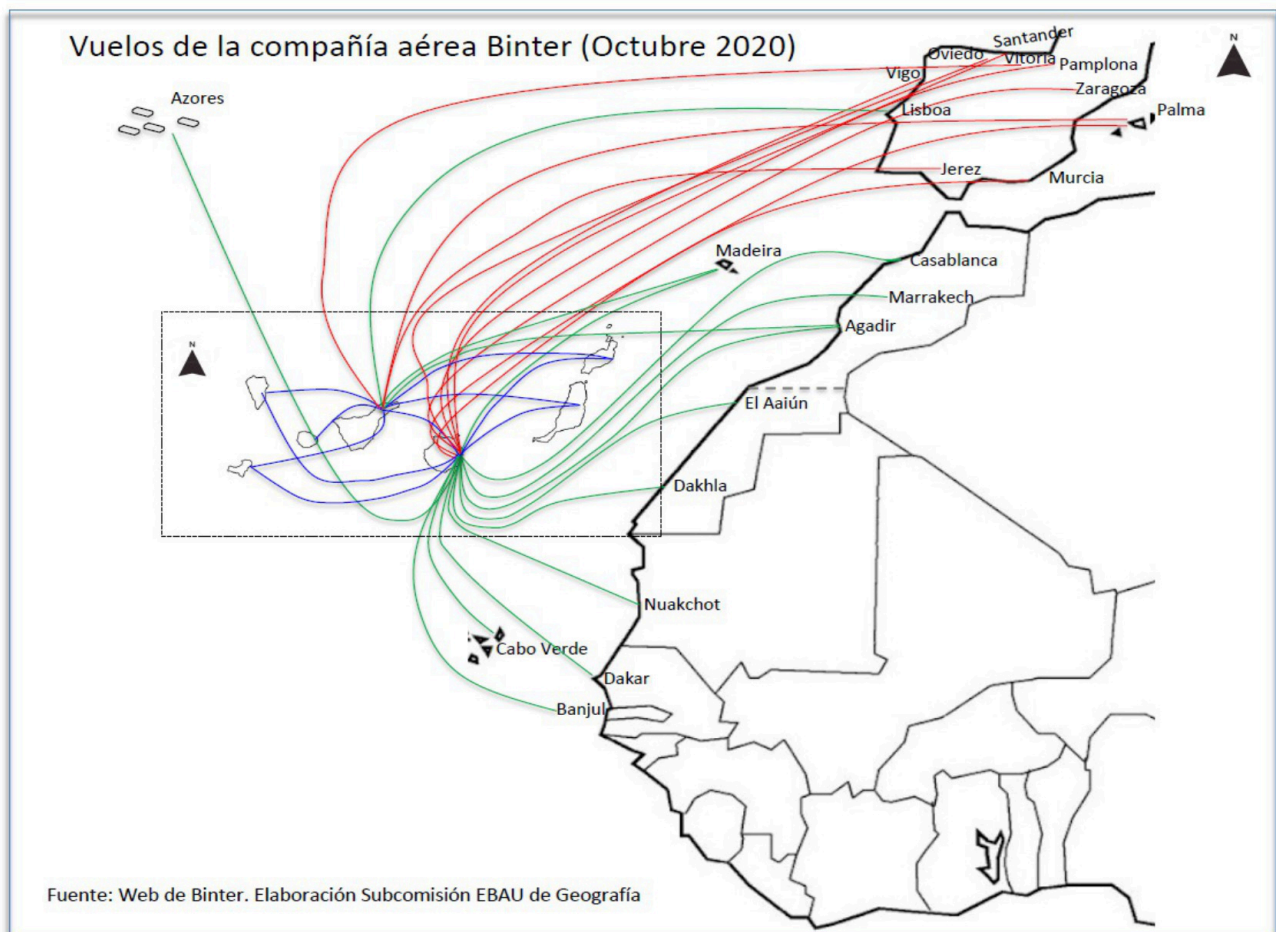
- es la división administrativa más pequeña y cercana a los ciudadanos de nuestro país.
- es la institución responsable del mantenimiento de la red insular de carreteras.
- es una reunión de ayuntamientos próximos que se benefician de servicios mancomunados.

#### 4.- PREGUNTA TEÓRICA. (2 puntos)

##### La influencia de la actividad humana en el medio natural.

Criterio de evaluación: identificar los problemas derivados de la interacción de las actividades humanas en el medio natural (alteración del relieve, deforestación, reducción de la biodiversidad) y señalar las principales políticas medioambientales.

#### 5.-PREGUNTA PRÁCTICA (1 punto cada cuestión. Total: 2 puntos).



a) Describe el mapa adjunto.

b) Explica la importancia del transporte aéreo en Canarias, valora sus infraestructuras y comenta sus principales problemas.



**Geografía: mapas, gráficos y desarrollo bien organizados.**

selectividad.academy - 623 769 002

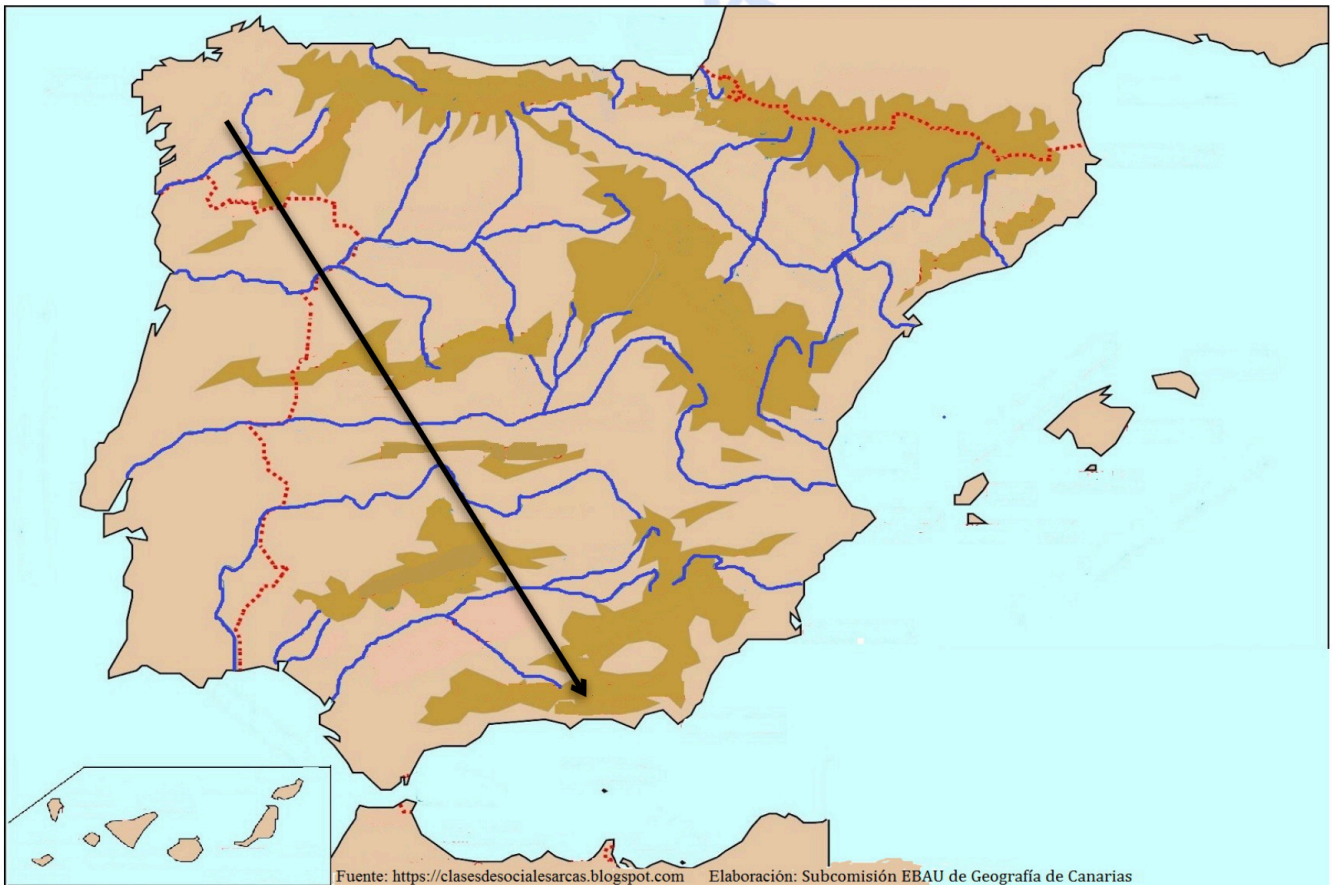
**EVALUACIÓN DE BACHILLERATO  
PARA EL ACCESO A LA UNIVERSIDAD (EBAU)  
FASE DE OPCIÓN  
CURSO 2021-2022**

<b>MATERIA:</b> GEOGRAFÍA	<b>(4)</b>
<b>Convocatoria:</b>	

**Instrucciones:** debes elegir una de las dos opciones, A o B, y no puedes intercambiar las preguntas de cada una de ellas. Cada opción consta de cinco preguntas valoradas con dos puntos cada una.

**OPCIÓN B**

**1.- EJERCICIO PRÁCTICO. Mapa Físico: identificación y localización de las grandes unidades de relieve (1 punto cada cuestión. Total: 2 puntos)**



- Escribe los nombres de los relieves montañosos (cordilleras, sistemas, montes...) atravesados por la flecha, citándolos en el orden propuesto.
- Indica los nombres de las cuencas hidrográficas (ríos, depresiones...) atravesadas por la flecha citándolas en el orden propuesto.



**Guía completa en [selectividad.academy/guia-selectividad](https://selectividad.academy/guia-selectividad)**

Todo sobre la selectividad

**2.- COMENTARIO DE PAISAJE.** Analiza el siguiente paisaje contestando a las dos preguntas propuestas (0,5 puntos la primera cuestión y 1,5 la segunda. Total 2 puntos).



- a) Clasificación, justificación y tipología del paisaje.
- b) Comentario del paisaje.

**3.- CONCEPTOS (0,5 puntos cada uno).** Contesta los CUATRO conceptos (dos del Bloque IV y dos del bloque V) y ESCRIBE, en tu hoja de examen, sus enunciados, así como la correspondiente respuesta correcta de cada uno (Total: 2 puntos).

**3.1. BLOQUE IV – En los paquetes turísticos gestionados por los tour-operadores:**

- la mayor parte del gasto del turista se queda en el país de destino.
- la mayor parte del gasto del turista se queda en el país emisor.
- incrementan considerablemente los gastos vacacionales.

**3.2. BLOQUE IV - La estabulación es:**

- la crianza y cuidado de los animales para el uso humano en explotaciones normalmente abiertas y al aire libre
- una explotación ganadera intensiva realizada en granjas y alimentada de forrajes y piensos.
- la actividad económica que se dedica a la producción, industrialización y comercialización de productos agropecuarios, forestales y otros recursos naturales biológicos.

**3.3. BLOQUE V – Es espacio Schengen es:**

- un espacio común, formado por países de la UE en su mayoría (más otros externos), sin fronteras entre los países firmantes que permite libre circulación de personas.
- un acuerdo entre los países de la UE para impedir la importación de terceros países.
- un acuerdo entre los países de la UE para impedir la entrada de ciudadanos de otros países.

**3.4. BLOQUE V – El Índice de Desarrollo Humano es:**

- un indicador económico que mide la renta per cápita de un país y su Producto Interior Bruto.
- un indicador económico que mide la posición de los países según el empleo y la tasa de desempleo.
- un indicador económico que mide la posición de los países según la esperanza de vida al nacer, el nivel de escolarización y el PIB por habitante.



# Selectividad Academy

Tu academia de selectividad online

● Mejor academia online de selectividad

## Prueba sin compromiso

Primera clase gratis. Sin permanencia. Sin letra pequeña.

- ✓ Profesores especialistas en cada asignatura
- ✓ Clases adaptadas a tu nivel y tus objetivos
- ✓ Todos los exámenes oficiales resueltos paso a paso
- ✓ Calculadora de nota y guía completa en la web

**623 769 002**

Escríbenos por WhatsApp

[www.selectividad.academy](http://www.selectividad.academy)

→ Calcula tu nota en [selectividad.academy/calculadora-selectividad](http://selectividad.academy/calculadora-selectividad)

→ Guía completa en [selectividad.academy/guia-selectividad](http://selectividad.academy/guia-selectividad)

→ ¿Tienes dudas? Escríbenos sin compromiso