

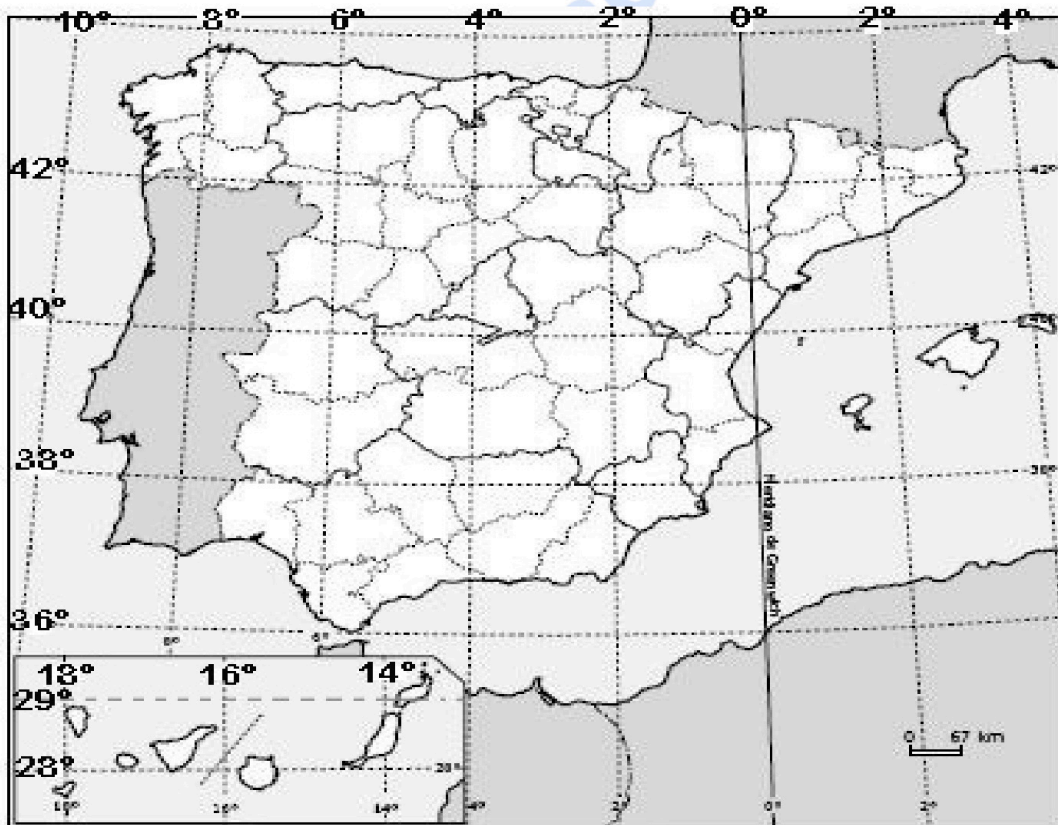
**EVALUACIÓN DE BACHILLERATO  
 PARA EL ACCESO A LA UNIVERSIDAD  
 (EBAU)  
 FASE DE OPCIÓN  
 CURSO 2022-2023**

<b>MATERIA: GEOGRAFÍA</b>	<b>(4)</b>
<b>Convocatoria:</b>	

**Instrucciones:** Debes elegir una de las dos opciones, A o B, y no puedes intercambiar las preguntas de cada una de ellas. Cada opción consta de cinco preguntas valoradas con dos puntos cada una.

**OPCIÓN A**

**1.- EJERCICIO PRÁCTICO.** Mapa de localización: recorrido provincial / comunidades (capitales) y coordenadas geográficas. (1 punto cada cuestión) (Total: 2 puntos).



- Indica de norte a sur, el nombre de las provincias, las Comunidades Autónomas a las que pertenecen, las capitales de las mismas, así como las ciudades autónomas, bañadas por el mar Mediterráneo
- ¿Entre qué paralelos y meridianos se encuentra la Península Ibérica?  
 ¿Entre qué paralelos y meridianos se encuentran las Islas Canarias?

**2.- COMENTARIO DE PAISAJE.** Analiza el siguiente paisaje contestando a las dos preguntas propuestas (0,5 puntos la primera cuestión y 1,5 la segunda) (Total 2 puntos).

- a) Clasificación, justificación y tipología del paisaje
- b) Comentario del paisaje



**3.- CONCEPTOS (0,5 puntos cada uno).** Contesta los CUATRO conceptos (dos del Bloque IV y dos del bloque V) y **ESCRIBE**, en tu hoja de examen, sus enunciados así como la correspondiente respuesta correcta de cada uno (Total: 2 puntos).

**3.1. BLOQUE IV – La agroindustria:**

- \* Aprovecha las materias primas y los recursos rurales.
- \* Se sitúa en el espacio urbano.
- \* Se localiza en el espacio rural y sólo emplea productos no perecederos

**3.2. BLOQUE IV – El desarrollo sostenible defiende:**

- \* Una política económica para proporcionar a todos los ciudadanos un bienestar social.
- \* Unas medidas que hagan compatibles el desarrollo económico, la conservación de los recursos naturales y el bienestar social.
- \* Un conjunto de ayudas para reducir las disparidades entre las regiones europeas.

**3.3. BLOQUE V- Entre las principales funciones del Diputado del Común están:**

- \* Resolver las reclamaciones interpuestas por los españoles ante cualquier organismo oficial de la Unión Europea.
- \* La defensa de los derechos fundamentales y libertades públicas de los ciudadanos en el ámbito de la Comunidad Autónoma de Canarias.
- \* Representar los intereses de los ciudadanos canarios en el Parlamento de la nación

### 3.4. BLOQUE V – ¿Qué es un municipio?:

- \* La institución responsable del mantenimiento de la red insular de carreteras.
- \* Es una reunión de ayuntamientos próximos que se benefician de servicios mancomunados.
- \* Es la división administrativa más pequeña y cercana a los ciudadanos de nuestro país.

### 4.- PREGUNTA TEÓRICA. (2 puntos)

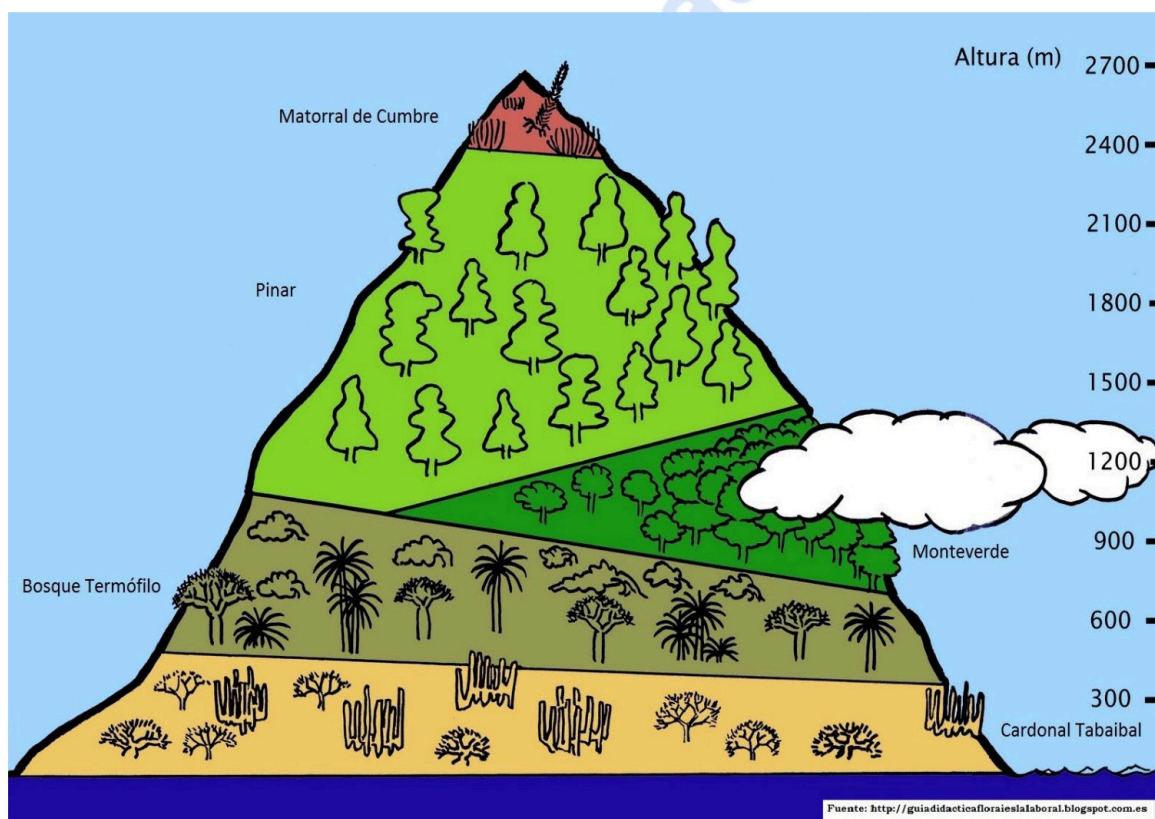
#### Repercusiones positivas y negativas de la actividad turística en Canarias

Criterio de Evaluación: señalar las repercusiones económicas, sociales y medioambientales, tanto positivas como negativas, asociadas a la actividad turística en Canarias.

### 5.-PREGUNTA PRÁCTICA

#### PERFIL IDEAL DE LA VEGETACIÓN DE CANARIAS (REGIÓN MACARONÉSICA)

Criterio de evaluación: Analizar la distribución (potencial y actual), así como las principales características paisajísticas de las formaciones vegetales de Canarias) (1 punto cada cuestión) (Total:2 puntos)



a) Describe el modelo de escalonamiento de la vegetación canaria identificando los pisos que los componen y las diferencias de su distribución según las vertientes.

b) Indica las principales características del Monteverde y del Pinar.

**EVALUACIÓN DE BACHILLERATO  
PARA EL ACCESO A LA UNIVERSIDAD  
(EBAU)  
FASE DE OPCIÓN  
CURSO 2022-2023**

**MATERIA:** GEOGRAFÍA

(4)

**Convocatoria:**

**Instrucciones:** Debes elegir una de las dos opciones, A o B, y no puedes intercambiar las preguntas de cada una de ellas. Cada opción consta de cinco preguntas valoradas con dos puntos cada una.

**OPCIÓN B**

**1.- EJERCICIO PRÁCTICO. Mapa Físico: Identificación y localización de las grandes unidades de relieve (1 punto cada cuestión) (Total: 2 puntos).**



- c)** Escribe los nombres de los relieves montañosos (cordilleras, sistemas, montes...) atravesados por la flecha, citándolos en el orden propuesto.
- d)** Cita al menos dos de las grandes alineaciones montañosas (cordillera, sierra, montes,...) que delimitan la depresión del Ebro.

**2.- COMENTARIO DE PAISAJE.** Analiza el siguiente paisaje contestando a las dos preguntas propuestas (0,5 puntos la primera cuestión y 1,5 la segunda) (Total 2 puntos).



Fuente: Javier Dóniz, 2022

- c) Clasificación, justificación y tipología del paisaje
- d) Comentario del paisaje

**3.- CONCEPTOS (0,5 puntos cada uno).** Contesta los CUATRO conceptos (dos del Bloque IV y dos del bloque V) y **ESCRIBE**, en tu hoja de examen, sus enunciados, así como la correspondiente respuesta correcta de cada uno (Total: 2 puntos).

**3.1. BLOQUE IV – La reconversión industrial**

- \* Conjunto de decisiones y medidas de política económica tomadas con el fin de renovar aquellos sectores industriales en crisis por tecnologías obsoletas y cambios en el mercado
- \* Proceso por el cual industrias reciben mayor inversión por parte del Estado para poder seguir realizando su actividad
- \* Se da en aquellos sectores industriales tales como el automovilístico, informática, alimenticia, construcción, etc.

**3.2. BLOQUE IV – El AVE es una red ferroviaria destinada al transporte de pasajeros:**

- \* De larga distancia que entró en funcionamiento en 1992 con la línea Madrid-Barcelona.
- \* De larga distancia que entró en funcionamiento en 1992 con la línea Madrid-Sevilla.
- \* De larga distancia que entró en funcionamiento en 1992 con la línea Madrid-Valencia.

### 3.3. BLOQUE V ¿A qué tres países de la Unión Europea pertenecen las Regiones Ultraperiféricas?:

- \* Francia, Portugal y España.
- \* Grecia, Bélgica y Alemania.
- \* Italia, Países Bajos y Dinamarca entre las regiones de la Unión Europea.

### 3.4. BLOQUE V – En el Estado del Bienestar:

- \* La protección social de los ciudadanos corresponde a la iniciativa privada.
- \* Los países de la Unión Europea siguen una misma política social.
- \* El Estado asume la responsabilidad del bienestar de los ciudadanos mediante una serie de servicios y prestaciones.

## 4.- PREGUNTA TEÓRICA (Total 2 puntos)

### Principales problemas del mundo rural.

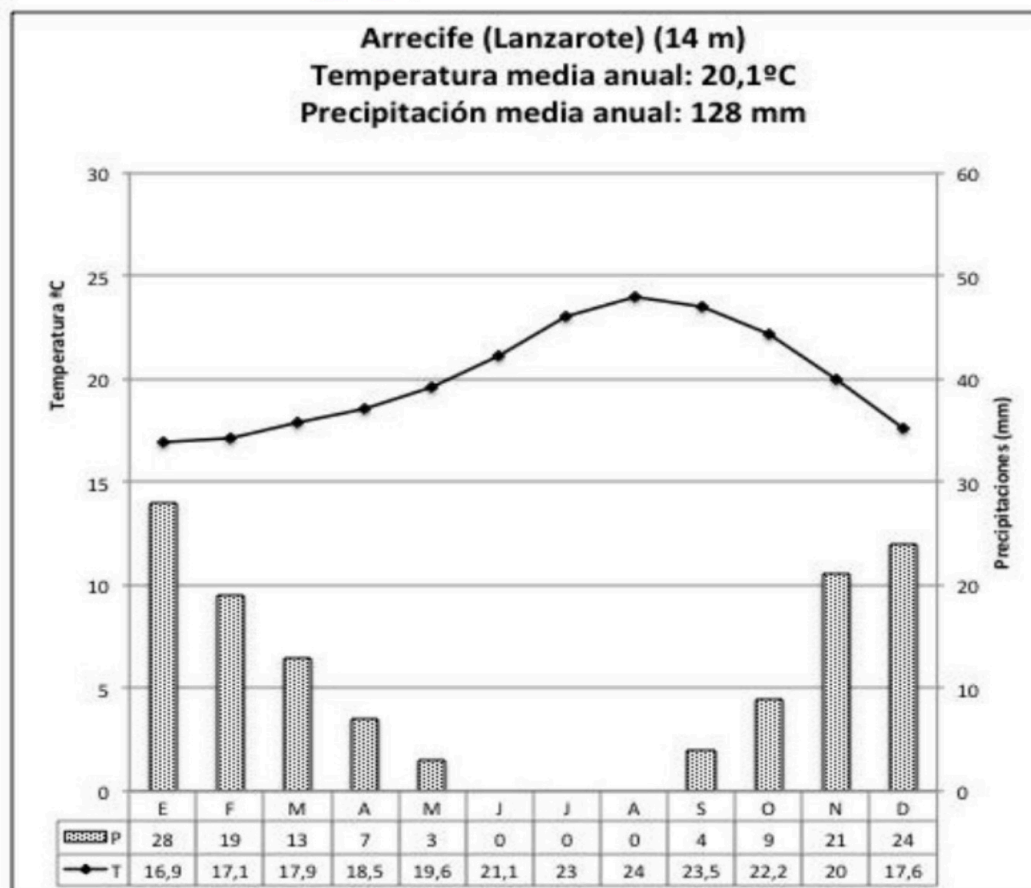
Criterio de Evaluación: Señalar los problemas demográficos, económicos y sociales que afectan a la agricultura en España y exponer algunas medidas para buscar alternativas y revalorizar la actividad agraria y el mundo rural.

## 5.-PREGUNTA PRÁCTICA

### Climograma de Arrecife. Responde a las siguientes cuestiones (1 punto cada cuestión) (Total:2 puntos)

a) Describe la gráfica y comenta las principales características de las temperaturas (media anual, amplitud térmica y reparto estacional), las precipitaciones (precipitación media anual y reparto estacional) y de la aridez (meses secos).

b) Identifica el tipo de clima y comenta sus relaciones con el paisaje vegetal de la zona, hidrografía y actividades económicas.





# Selectividad Academy

Tu academia de selectividad online

● Mejor academia online de selectividad

## Prueba sin compromiso

Primera clase gratis. Sin permanencia. Sin letra pequeña.

- ✓ Profesores especialistas en cada asignatura
- ✓ Clases adaptadas a tu nivel y tus objetivos
- ✓ Todos los exámenes oficiales resueltos paso a paso
- ✓ Calculadora de nota y guía completa en la web

**623 769 002**

Escríbenos por WhatsApp

[www.selectividad.academy](http://www.selectividad.academy)

→ [Calcula tu nota en selectividad.academy/calculadora-selectividad](http://selectividad.academy/calculadora-selectividad)

→ [Guía completa en selectividad.academy/guia-selectividad](http://selectividad.academy/guia-selectividad)

→ ¿Tienes dudas? Escríbenos sin compromiso