

GEOGRAFÍA

INDICACIONES

Si contesta más preguntas de las necesarias para realizar este examen, solo se corregirán las primeras, según el orden en que aparezcan resueltas en el cuadernillo de examen.

1. [2 PUNTOS, 0,5 POR CADA DEFINICIÓN] Defina **4 de los 8 términos** siguientes de uso frecuente en Geografía. Si es posible, mencione algún ejemplo relacionado con ellos y referido a España (máximo 100 palabras o 10 líneas para cada uno de los términos).

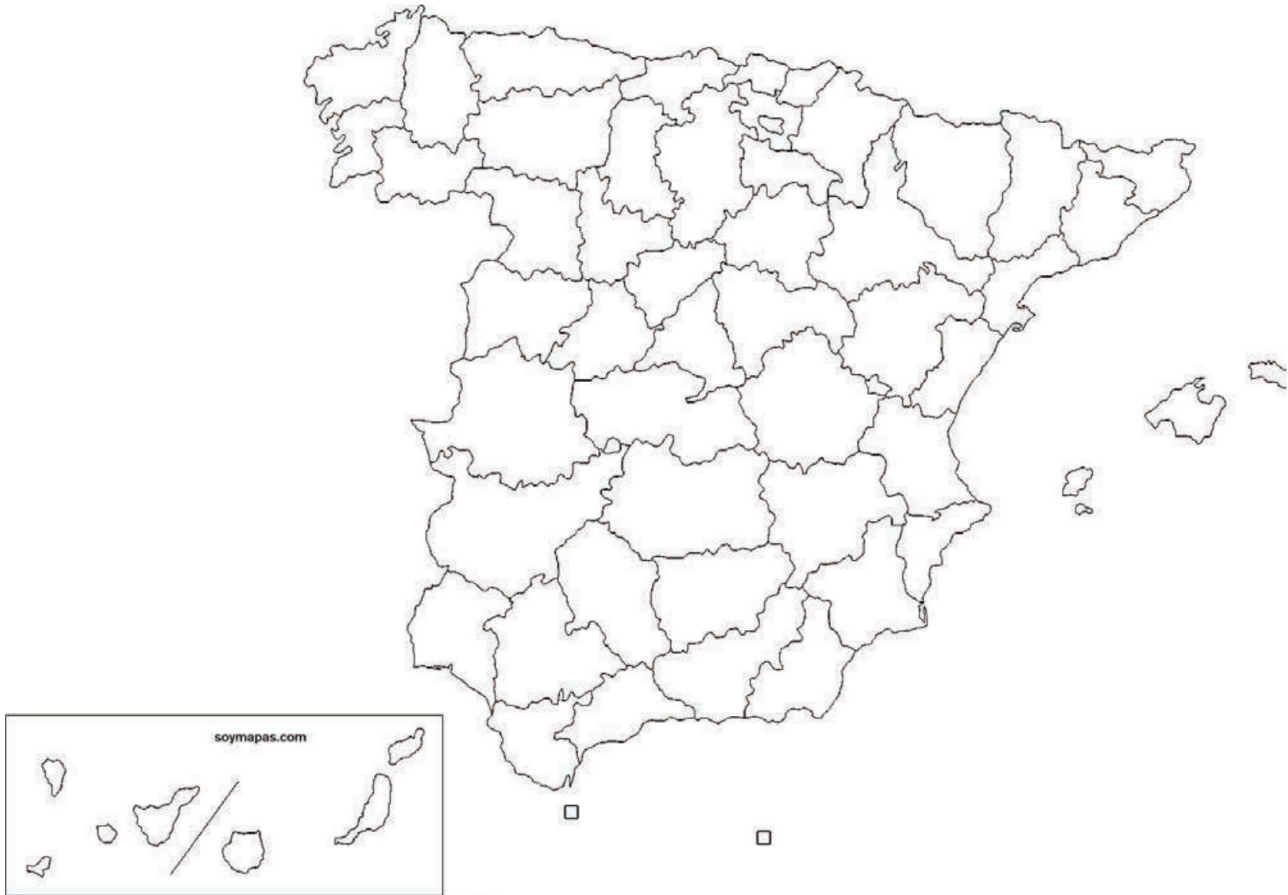
- a) Éxodo rural. b) Relieve cárstico. c) Ciudad Jardín. d) Gota fría.
e) Barrios de promoción oficial. f) Índice de envejecimiento. g) Régimen fluvial. h) Bosque caducifolio.

2. [1 PUNTO] Realice **uno de los dos ejercicios** sobre mapas mudos que figuran a continuación:

- a) En el siguiente mapa mudo, delimite e identifique correctamente 5 de las principales unidades de relieve de España.



- b) En el siguiente mapa mudo, sitúe en el lugar adecuado e identifique correctamente 5 de las provincias con mayor porcentaje de población joven de España.



Geografía: mapas, gráficos y desarrollo bien organizados.

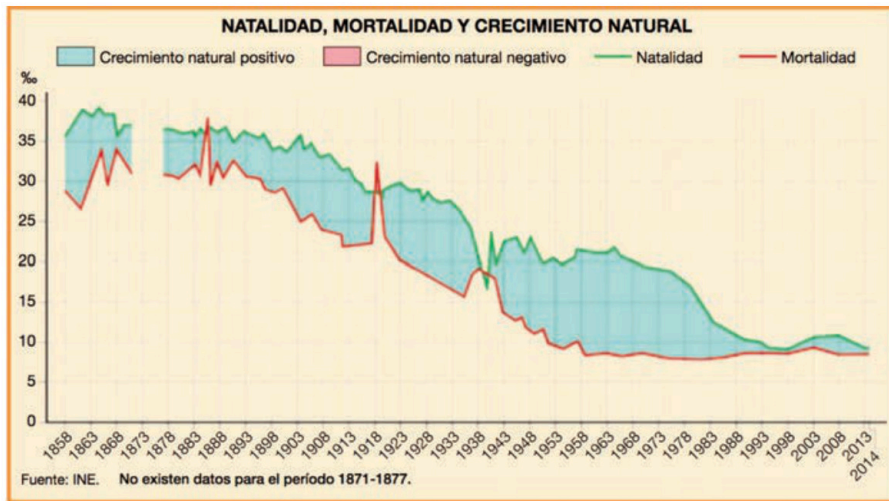
selectividad.academy - 623 769 002

3. [3 PUNTOS] Desarrolle de manera sintética uno de estos dos temas (aproximadamente 600 palabras o 3 caras de folio).
- a) El medio físico en las depresiones exteriores a la Meseta.
1. Describa los principales rasgos del relieve, presentando su evolución geológica y clasificando sus unidades según sus características geomorfológicas.
 2. Identifique y describa su diversidad climática, enumerando los factores y elementos característicos; los diferentes dominios vegetales y sus características, así como su diversidad hídrica, relacionando los regímenes hídricos de los cursos fluviales con las posibilidades de aprovechamiento.
- b) La dinámica demográfica actual en España.
1. Movimientos naturales de la población en la actualidad.
 2. Las migraciones en la actualidad.
 3. El crecimiento real.

4. [4 PUNTOS, 2 POR CADA IMAGEN] A partir de las imágenes o mapas que aparecen a continuación, analice y comente 2 de ellos (aproximadamente 400 palabras o 2 caras de folio por imagen)

a) La evolución de la natalidad, mortalidad y crecimiento natural de la población española. .

1. Delimite temporalmente y describa las características de las fases observadas en el gráfico.
2. Relacione estas fases con la Teoría de la Transición demográfica.
3. Identifique y comente brevemente los fenómenos demográficos más importantes.

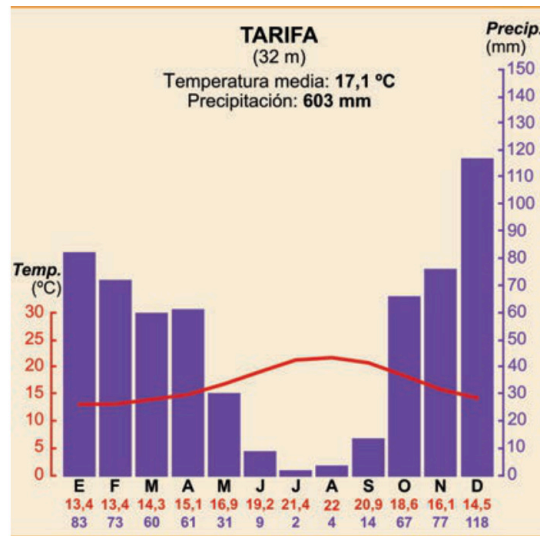


b) El plano urbano de la ciudad de Valencia.

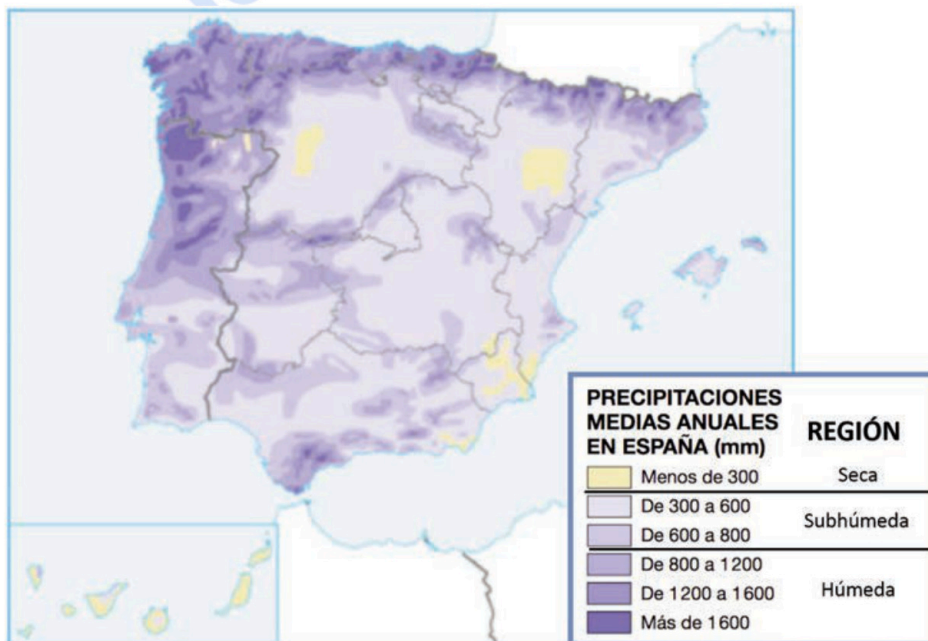
1. Comente el emplazamiento y la situación de la ciudad.
2. Describa las diferentes zonas urbanas, indicando su morfología, origen y usos actuales del suelo.



- c) El climodiagrama correspondiente a la ciudad de Tarifa.
1. Analice los valores de temperatura y precipitación y su variación a lo largo del año.
 2. A partir de lo señalado en el punto anterior, identifique el tipo de clima y sus rasgos fundamentales.
 3. Señale brevemente los factores que explican el clima de ese lugar.



- d) El mapa de las precipitaciones medias anuales en la Península Ibérica.
1. Describa la distribución espacial de las 3 grandes áreas en las que se puede dividir el mapa.
 2. Identifique y explique los factores geográficos y dinámicos que subyacen en esa distribución espacial.





Selectividad Academy

Tu academia de selectividad online

● Mejor academia online de selectividad

Prueba sin compromiso

Primera clase gratis. Sin permanencia. Sin letra pequeña.

- ✓ Profesores especialistas en cada asignatura
- ✓ Clases adaptadas a tu nivel y tus objetivos
- ✓ Todos los exámenes oficiales resueltos paso a paso
- ✓ Calculadora de nota y guía completa en la web

623 769 002

Escríbenos por WhatsApp

www.selectividad.academy

→ Calcula tu nota en selectividad.academy/calculadora-selectividad

→ Guía completa en selectividad.academy/guia-selectividad

→ ¿Tienes dudas? Escríbenos sin compromiso