

GEOGRAFÍA

INDICACIONES

Si contesta más preguntas de las necesarias para realizar este examen, solo se corregirán las primeras, según el orden en que aparezcan resueltas en el cuadernillo de examen.

1. [2 PUNTOS, 0,5 POR CADA DEFINICIÓN] Defina **4 de los 8 términos** siguientes de uso frecuente en Geografía. Si es posible, mencione algún ejemplo relacionado con ellos y referido a España (máximo 100 palabras o 10 líneas para cada uno de los términos).

- | | | | |
|-----------------------|------------------|-------------------------|-------------------------|
| a) Albufera. | b) Tasa de paro. | c) Área metropolitana. | d) Frente polar. |
| e) Esperanza de vida. | f) Torrente. | g) Urbanización difusa. | h) Bosque perennifolio. |

2. [1 PUNTO] Realice **uno de los dos ejercicios** sobre mapas mudos que figuran a continuación:

- a) En el siguiente mapa mudo, sitúe en el lugar adecuado e identifique correctamente el curso de 5 de los ríos más importantes de la Península Ibérica.



- b) En el siguiente mapa mudo, sitúe en el lugar adecuado e identifique correctamente las 5 provincias con mayor tasa de extranjería de España.



Geografía: mapas, gráficos y desarrollo bien organizados.

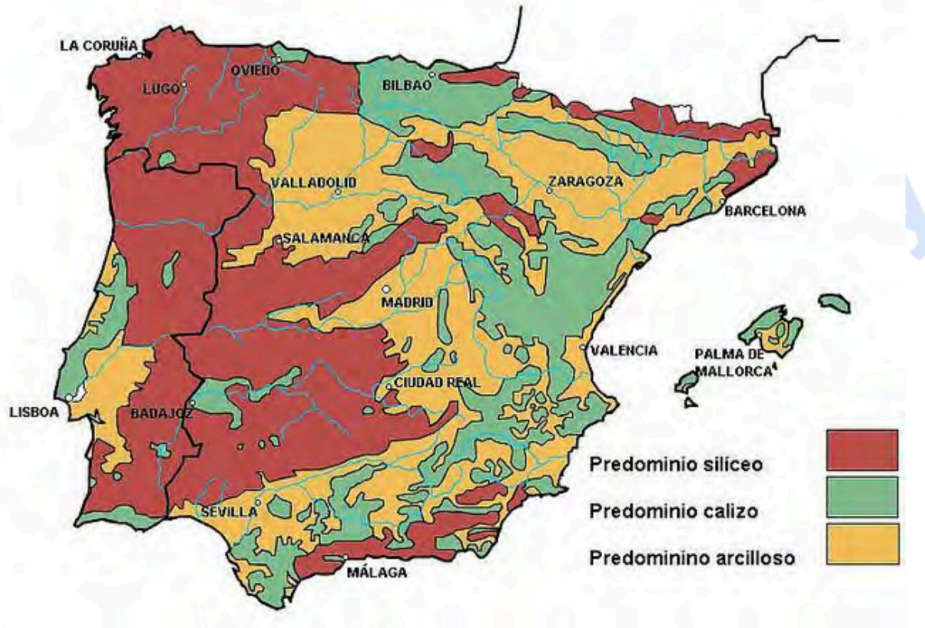
selectividad.academy - 623 769 002

3. [3 PUNTOS] Desarrolle de manera sintética uno de estos dos temas (aproximadamente 600 palabras o 3 caras de folio).
- a) El medio físico de la Meseta.
1. Describa los principales rasgos del relieve, presentando su evolución geológica y clasificando sus unidades según sus características geomorfológicas.
 2. Identifique y describa su diversidad climática, enumerando los factores y elementos característicos; los diferentes dominios vegetales y sus características, así como su diversidad hídrica, relacionando los regímenes hídricos de los cursos fluviales con las posibilidades de aprovechamiento.
- b) Las ciudades españolas en los inicios del siglo XXI.
1. Las aglomeraciones urbanas actuales.
 2. Los problemas de las ciudades.

4. [4 PUNTOS, 2 POR CADA IMAGEN] A partir de las imágenes o mapas que aparecen a continuación, analice y comente 2 de ellos (aproximadamente 400 palabras o 2 caras de folio por imagen).

a) El mapa del roqueado de la Península Ibérica.

1. Identifique las principales áreas y señale las rocas características de cada una de ellas.
2. Sitúe cronológicamente cada una de esas áreas, señalando la Era Geológica a la que pertenecen.
3. Enumere las formas de modelado características de cada una de ellas.



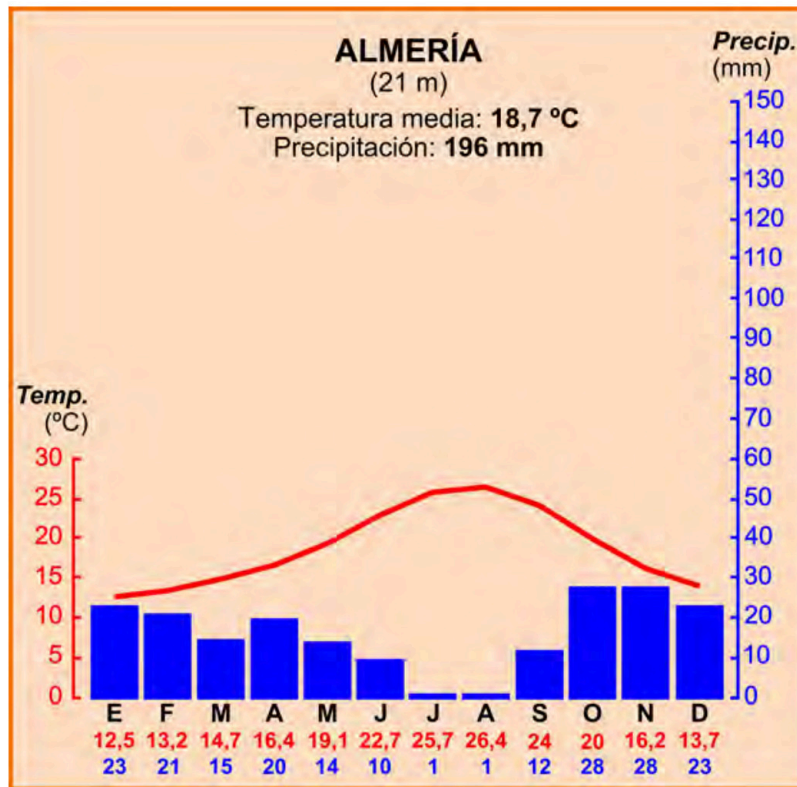
b) El plano urbano de la ciudad de Bilbao.

1. Comente el emplazamiento y la situación de la ciudad.
2. Describa las diferentes zonas urbanas, indicando su morfología, origen y usos actuales del suelo.



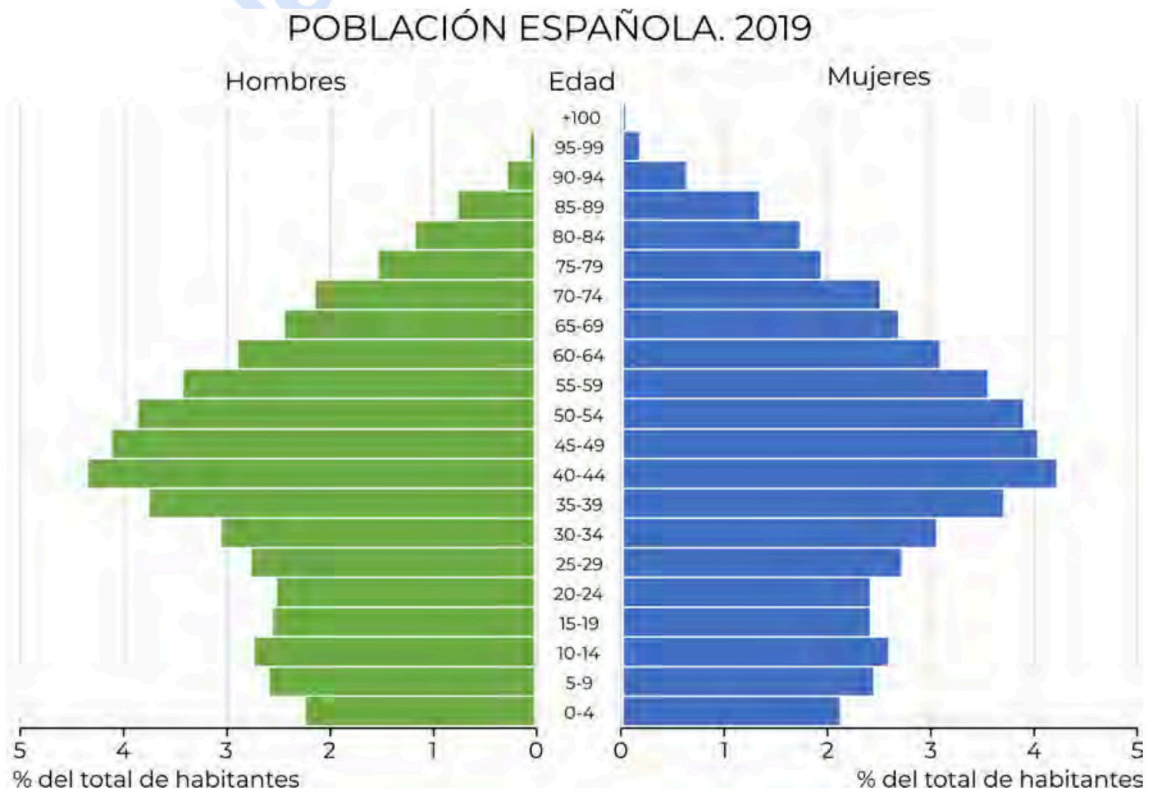
c) El climodiagrama correspondiente a la ciudad de Almería.

1. Analice los valores de temperatura y precipitación y su variación a lo largo del año.
2. A partir de lo señalado en el punto anterior, identifique el tipo de clima y sus rasgos fundamentales.
3. Señale brevemente los factores que explican el clima de ese lugar.



d) La pirámide de edades de España correspondiente al año 2019.

1. Describa las diferencias por grupos de edad y sexo.
2. Identifique el modelo teórico al que más se aproxima.
3. Comente las causas que han generado esta pirámide y su proyección futura.





Selectividad Academy

Tu academia de selectividad online

● Mejor academia online de selectividad

Prueba sin compromiso

Primera clase gratis. Sin permanencia. Sin letra pequeña.

- ✓ Profesores especialistas en cada asignatura
- ✓ Clases adaptadas a tu nivel y tus objetivos
- ✓ Todos los exámenes oficiales resueltos paso a paso
- ✓ Calculadora de nota y guía completa en la web

623 769 002

Escríbenos por WhatsApp

www.selectividad.academy

→ Calcula tu nota en selectividad.academy/calculadora-selectividad

→ Guía completa en selectividad.academy/guia-selectividad

→ ¿Tienes dudas? Escríbenos sin compromiso