

GEOGRAFÍA

INDICACIONES

Si contesta más preguntas de las necesarias para realizar este examen, solo se corregirán las primeras, según el orden en que aparezcan resueltas en el cuadernillo de examen.

Para la realización de las tareas de los apartados 2 y 3 puede usar los mapas presentados en el enunciado y anotar sobre los mismos; no hace falta que los copie y traslade al cuadernillo de examen.

Apartado 1, [2 puntos, 0,5 por cada definición].

Defina los **4 términos** siguientes de uso frecuente en Geografía. Si es posible, mencione algún ejemplo relacionado con ellos y referido a España (aproximadamente 100 palabras o 10 líneas para cada uno de los términos).

Término a. Relieve granítico.

Término b. Bosque caducifolio.

Término c. Ciudad jardín.

Término d. Éxodo rural.

Apartado 2, [1 punto].

Realice **una de las dos** tareas sobre mapas mudos que figuran a continuación:

Tarea 1, [0,2 puntos por cada una].

En el siguiente mapa mudo (Figura 1), **sitúe en el lugar adecuado e identifique** correctamente un máximo de 5 de las **cuencas hidrográficas** más importantes de la Península Ibérica.



Geografía: mapas, gráficos y desarrollo bien organizados.

selectividad.academy - 623 769 002



Figura 1. Mapa Físico de la Península Ibérica.

Tarea 2, [0,2 puntos por cada una].

En el siguiente mapa mudo (Figura 2), **sitúe en el lugar adecuado e identifique correctamente un máximo de 5 de las principales provincias con mayor densidad de población** de España.

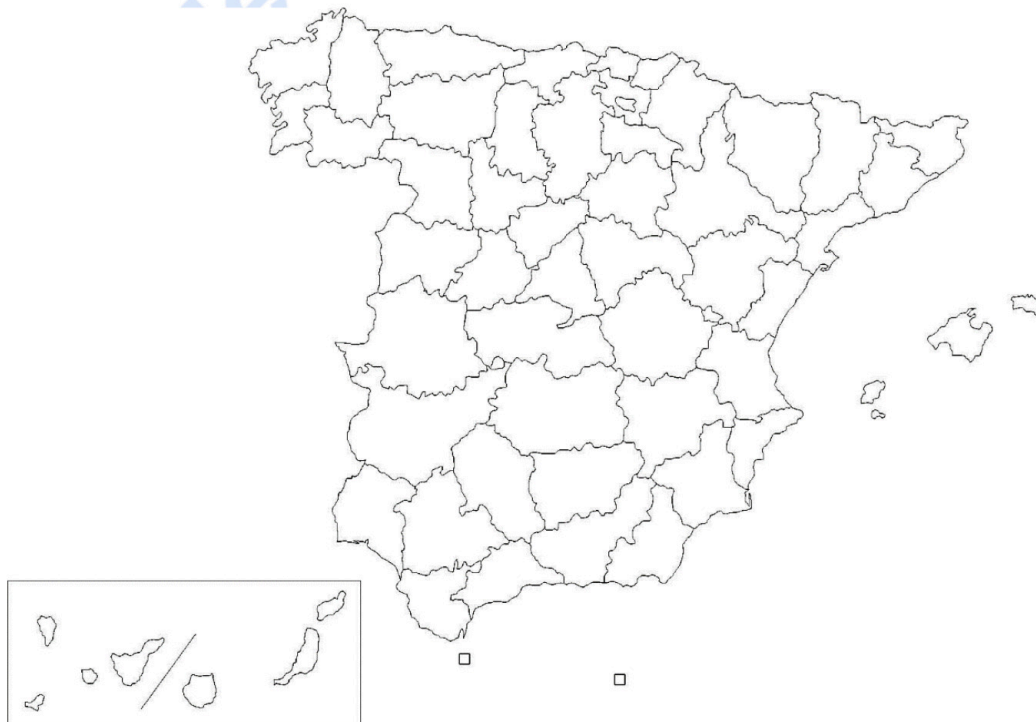


Figura 2. Mapa político de España.

Apartado 3, [4 puntos, 2 por cada imagen].

A partir de las imágenes o mapas que aparecen a continuación, **analice y comente 2 de ellos** (aproximadamente 400 palabras o 2 caras de folio por imagen).

- a. El mapa de las **unidades morfoestructurales** de la Península Ibérica (Figura 3).
- I. **[1 punto]**. Agrupe las diferentes unidades en grandes conjuntos (Cordilleras Alpinas, Macizos Antiguos, Depresiones Terciarias).
 - II. **[1 punto]**. Describa el origen y la edad de los tipos de rocas predominantes y las formas de modelado más características de cada una de ellas.



Figura 3. Mapa de las unidades morfoestructurales de la Península Ibérica.

- b. El **climodiagrama** correspondiente a la ciudad de **Valencia** (Figura 4).
- I. **[0,75 puntos]**. Analice los valores de temperaturas y precipitación y su variación a lo largo del año.
 - II. **[0,25 puntos]**. A partir de lo señalado en el punto anterior, identifique el tipo de clima y sus rasgos fundamentales.
 - III. **[1 punto]**. Señale brevemente los factores que explican el clima de ese lugar.



Guía completa en selectividad.academy/guia-selectividad

Todo sobre la selectividad

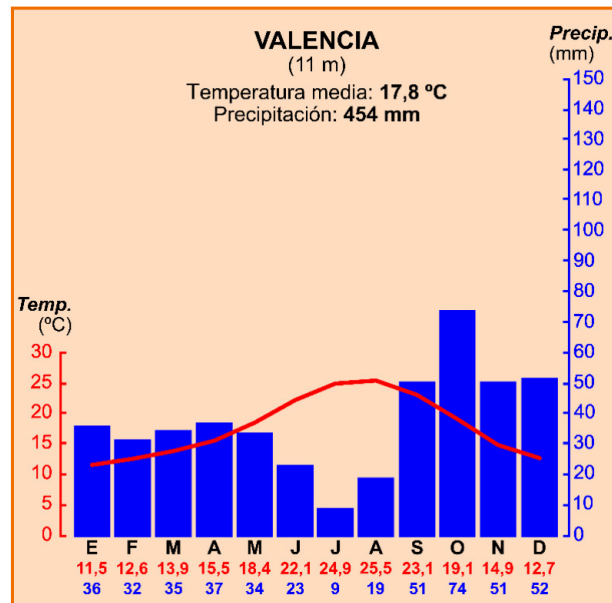


Figura 4. Climodiagrama de la ciudad de Valencia.

c. La pirámide de edades de España correspondiente al año 2019 (Figura 5).

- I. [0,75 puntos]. Describa las diferencias por grupos de edad y sexo.
- II. [0,25 puntos]. Identifique el modelo teórico al que más se aproxima.
- III. [1 punto]. Comente las causas que han generado esta pirámide y su proyección futura.

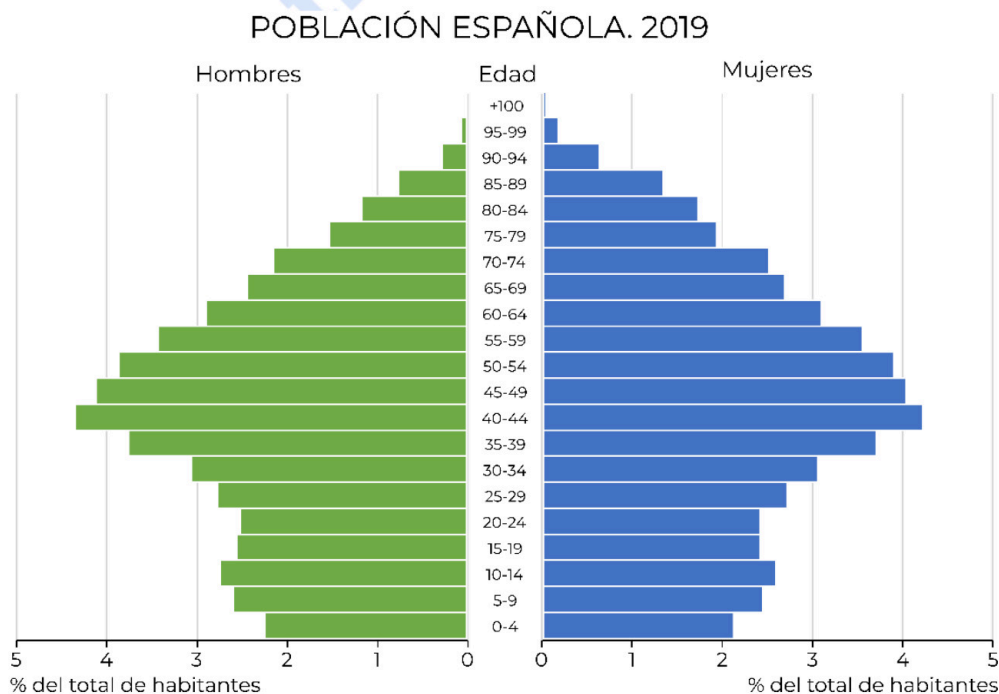


Figura 5. Pirámide de edades de España correspondiente al año 2019.

● Cada examen practicado te acerca a tu objetivo

Prueba gratis

d. El plano urbano de la ciudad de **Bilbao** (Figura 6).

- I. **[0,50 puntos]**. Comente el emplazamiento y la situación de la ciudad.
- II. **[1,50 puntos]**. Describa las diferentes zonas urbanas, indicando su morfología, origen y usos actuales del suelo.
- III.



Figura 6. Plano urbano de la ciudad de Bilbao.

Apartado 4, [3 puntos].

Desarrolle de manera sintética **uno** de estos dos temas (aproximadamente 600 palabras o 3 caras de folio):

Tema a. El medio físico en las depresiones exteriores de la Meseta.

- I. **[1,50 puntos]**. Describa los principales rasgos del relieve, presentando su evolución geológica y clasificando sus unidades según sus características geomorfológicas.
- II. **[1,50 puntos]**. Identifique y describa su diversidad climática, enumerando los factores y elementos característicos; los diferentes dominios vegetales y sus características, así como su diversidad hídrica, relacionando los regímenes hídricos de los cursos fluviales con las posibilidades de aprovechamiento.

Tema b. La dinámica demográfica actual en España.

- I. **[1,25 puntos]**. Los movimientos naturales de la población en la actualidad.
- II. **[1,25 puntos]**. Las migraciones en la actualidad.
- III. **[0,50 puntos]**. El crecimiento real.



Selectividad Academy

Tu academia de selectividad online

● Mejor academia online de selectividad

Prueba sin compromiso

Primera clase gratis. Sin permanencia. Sin letra pequeña.

- ✓ Profesores especialistas en cada asignatura
- ✓ Clases adaptadas a tu nivel y tus objetivos
- ✓ Todos los exámenes oficiales resueltos paso a paso
- ✓ Calculadora de nota y guía completa en la web

623 769 002

Escríbenos por WhatsApp

www.selectividad.academy

→ [Calcula tu nota en selectividad.academy/calculadora-selectividad](http://selectividad.academy/calculadora-selectividad)

→ [Guía completa en selectividad.academy/guia-selectividad](http://selectividad.academy/guia-selectividad)

→ ¿Tienes dudas? Escríbenos sin compromiso