

## GEOGRAFÍA

### INDICACIONES

Si contesta más preguntas de las necesarias para realizar este examen, solo se corregirán las primeras, según el orden en que aparezcan resueltas en el cuadernillo de examen.

### Apartado 1, [2 puntos, 0,5 por cada definición].

Defina los **4 términos** siguientes de uso frecuente en Geografía. Si es posible, mencione algún ejemplo relacionado con ellos y referido a España (aproximadamente 100 palabras o 10 líneas para cada uno de los términos).

**Término a.** Zócalo.

**Término b.** Niebla.

**Término c.** Conurbación.

**Término d.** Tasa de paro.

**Apartado 2, [1 punto].**

Realice **una de las dos** tareas sobre mapas mudos que figuran a continuación:

**Tarea 1, [0,2 puntos por cada una].**

En el siguiente mapa mudo (Figura 1), **sitúe en el lugar adecuado e identifique** correctamente un máximo de 5 de las **principales unidades de relieve** de España.



Figura 1. Mapa Físico de la Península Ibérica.

**Tarea 2, [0,2 puntos por cada una].**

En el siguiente mapa mudo (Figura 2), **sitúe en el lugar adecuado e identifique** correctamente un máximo de 5 de las provincias con **mayor tasa de crecimiento real** de España.

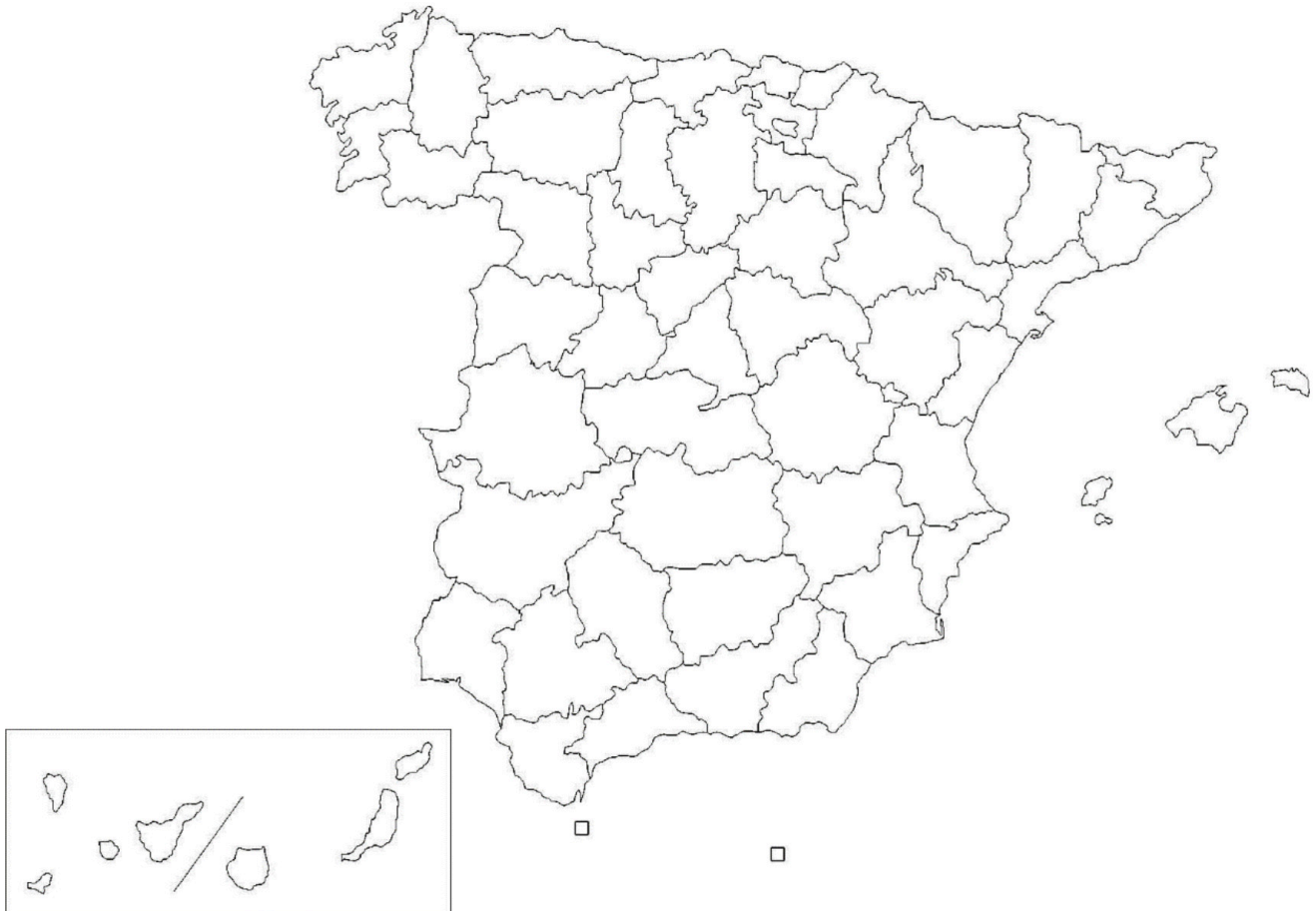


Figura 2. Mapa político de España.

**Apartado 3, [4 puntos, 2 por cada imagen].**

A partir de las imágenes o mapas que aparecen a continuación, **analice y comente 2 de ellos** (aproximadamente 400 palabras o 2 caras de folio por imagen).

Mapa a. El mapa del **roquedo** de la Península Ibérica (Figura 3).

- I. **[0,75 puntos]**. Identifique las principales áreas y señale las rocas características de cada una de ellas.
- II. **[0,50 puntos]**. Sitúe cronológicamente cada una de esas áreas, señalando la Era Geológica a la que pertenecen.
- III. **[0,75 puntos]**. Enumere las formas de modelado características de cada una de ellas.

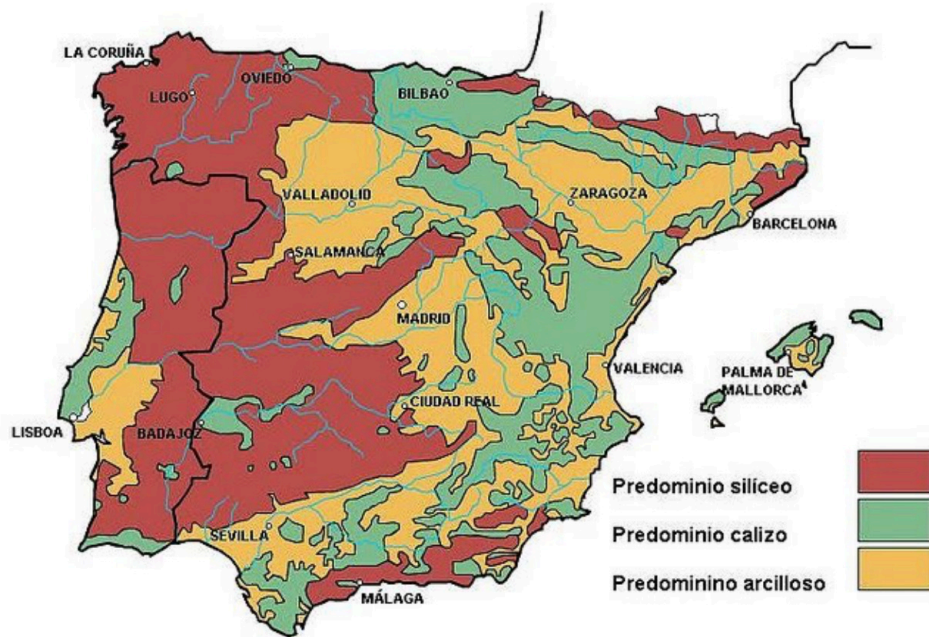


Figura 3. Mapa del roquedo de la Península Ibérica.

b. El mapa de la **densidad de la población** en España en el año 2019 (Figura 4).

- I. [0,50 puntos]. Describa las características de la densidad de la población española observadas en la imagen.
- II. [0,50 puntos]. Comente su distribución espacial.
- III. [1 punto]. Identifique y comente brevemente las áreas de alta y baja densidad.

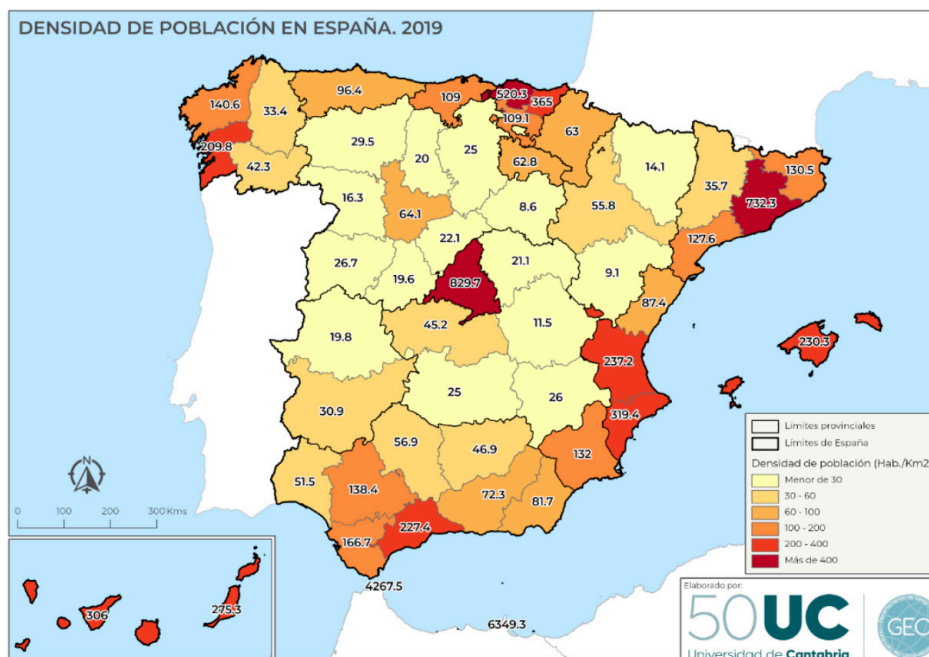


Figura 4. Mapa de la densidad de la población en España en el año 2019.

c. El plano urbano de la ciudad de Pamplona (Figura 5).

- I. **[0,50 puntos]**. Comente el emplazamiento y la situación de la ciudad.
- II. **[1,50 puntos]**. Describa las diferentes zonas urbanas, indicando su morfología, origen y usos actuales del suelo.

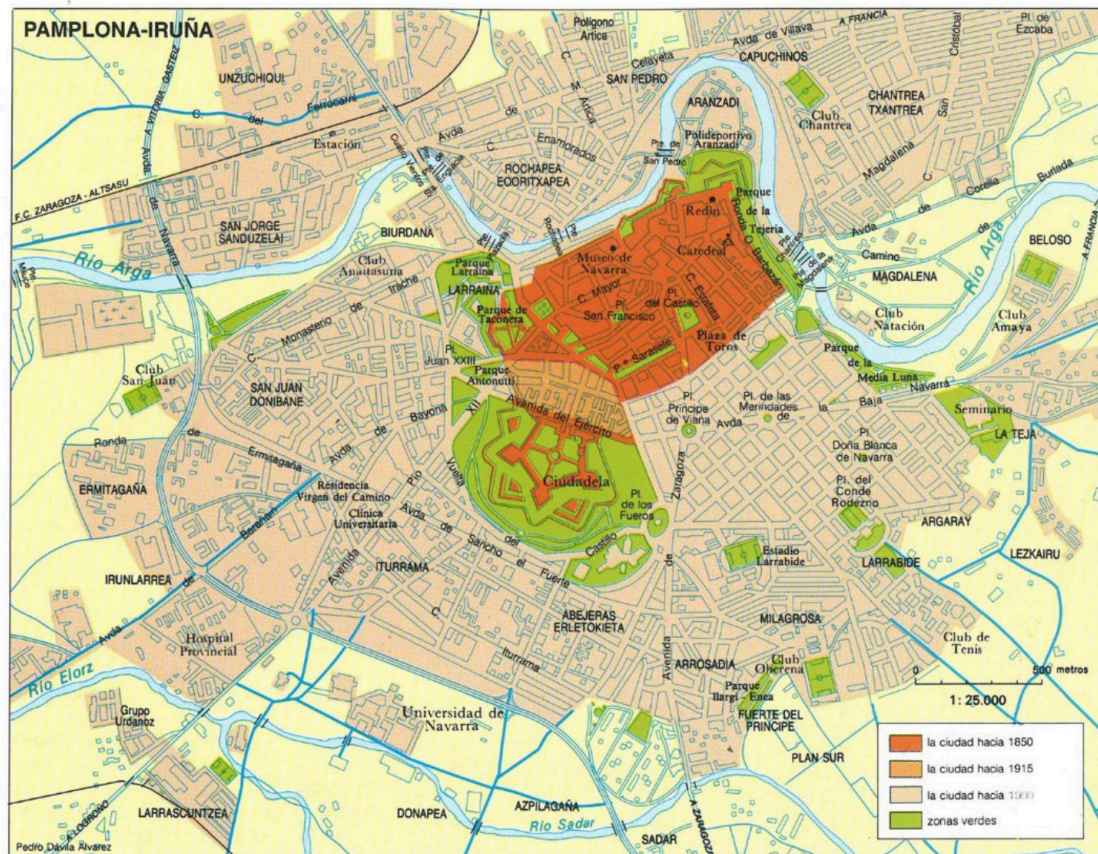


Figura 5. Plano urbano de la ciudad de Pamplona

d. El mapa de la aridez en la Península Ibérica (Figura 6).

- I. **[0,50 puntos]**. Defina el concepto de aridez en relación con el índice usado en el mapa.
- II. **[0,50 puntos]**. Describa la distribución espacial de las grandes áreas en las que se puede dividir el mapa.
- III. **[1 punto]**. Identifique y explique los factores que subyacen en esa distribución espacial.



**Geografía: mapas, gráficos y desarrollo bien organizados.**

selectividad.academy - 623 769 002

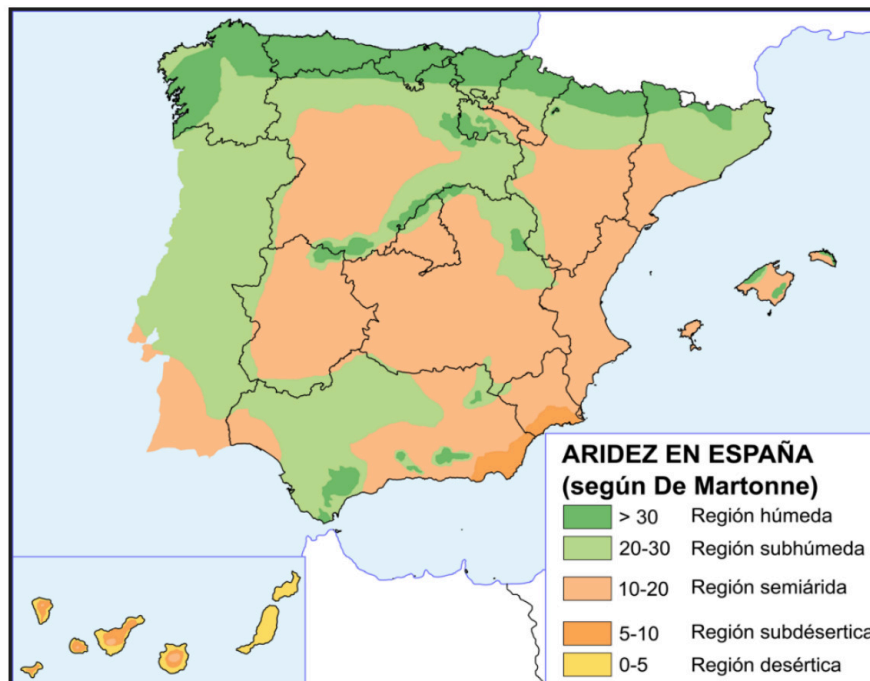


Figura 6. Mapa de la aridez en la Península Ibérica.

#### Apartado 4, [3 puntos].

Desarrolle de manera sintética **uno** de estos dos temas (aproximadamente 600 palabras o 3 caras de folio):

##### Tema a. El medio físico en los bordes de la Meseta.

- I. **[1,50 puntos]**. Describa los principales rasgos del relieve, presentando su evolución geológica y clasificando sus unidades según sus características geomorfológicas.
- II. **[1,50 puntos]**. Identifique y describa su diversidad climática, enumerando los factores y elementos característicos; los diferentes dominios vegetales y sus características, así como su diversidad hídrica, relacionando los regímenes hídricos de los cursos fluviales con las posibilidades de aprovechamiento.

##### Tema b. Las ciudades españolas en los inicios del siglo XXI.

- I. **[1 punto]**. Las aglomeraciones urbanas actuales.
- II. **[1 punto]**. La producción del espacio urbano.
- III. **[1 punto]**. Los problemas de las ciudades.



**Guía completa en [selectividad.academy/guia-selectividad](https://selectividad.academy/guia-selectividad)**

Todo sobre la selectividad



# Selectividad Academy

Tu academia de selectividad online

● Mejor academia online de selectividad

## Prueba sin compromiso

Primera clase gratis. Sin permanencia. Sin letra pequeña.

- ✓ Profesores especialistas en cada asignatura
- ✓ Clases adaptadas a tu nivel y tus objetivos
- ✓ Todos los exámenes oficiales resueltos paso a paso
- ✓ Calculadora de nota y guía completa en la web

**623 769 002**

Escríbenos por WhatsApp

[www.selectividad.academy](http://www.selectividad.academy)

→ Calcula tu nota en [selectividad.academy/calculadora-selectividad](http://selectividad.academy/calculadora-selectividad)

→ Guía completa en [selectividad.academy/guia-selectividad](http://selectividad.academy/guia-selectividad)

→ ¿Tienes dudas? Escríbenos sin compromiso