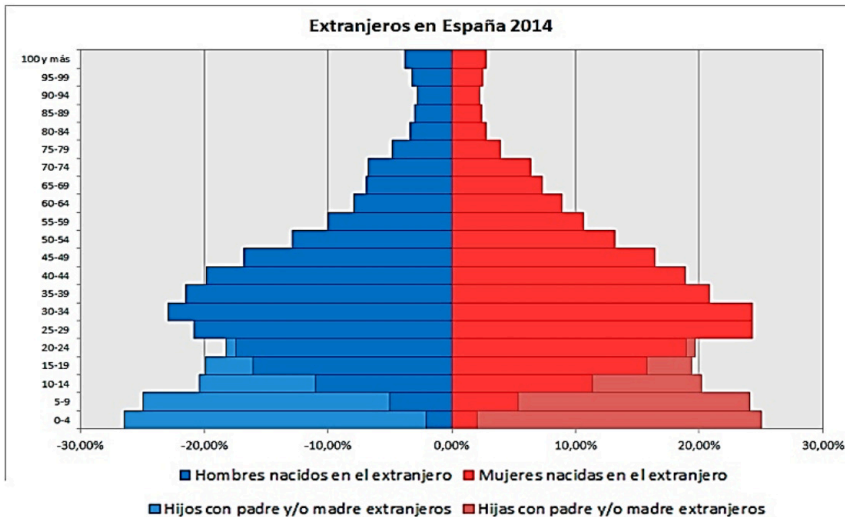


INSTRUCCIONES: el estudiante deberá contestar a las preguntas haciendo la elección que se detalla en cada una de ellas. Como criterio general de corrección para el conjunto de la prueba se valorará la presentación, la ortografía y la redacción.

I.- EJERCICIO PRÁCTICO. Elegir **UNO** de entre los siguientes tres ejercicios. Puntuación máxima: **2.5** puntos.



I.A.- Analizar la gráfica que aparece a la izquierda.

- 1.- Caracterizar la pirámide señalando las incidencias más destacables.
- 2.- Establecer diferencias y semejanzas con la pirámide de población del país.
- 3.- Argumentar la incidencia de esta población en el conjunto de la población española.

RED FERROVIARIA DE ALTA VELOCIDAD Y LARGA DISTANCIA

Abril de 2018

- Alta velocidad (AVE, Alvia y Avant)
- Alta velocidad en construcción
- Larga distancia (Alvia, Altaria, Talgo y Tren-Hotel)

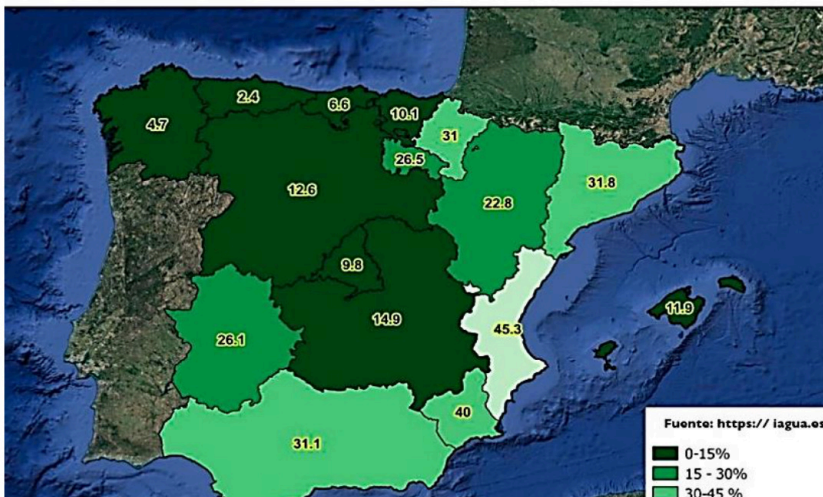


Fuente: ADIF. EL PAÍS

I.B.- Comentar el mapa que aparece a la izquierda.

- 1.- Enunciar qué red ferroviaria muestra el mapa y describir su distribución territorial.
- 2.- Explicar las ventajas e inconvenientes del ferrocarril en general y de este medio en particular.
- 3.- Comentar las permanencias y los cambios que se han dado en el mapa de comunicaciones de España en las últimas décadas.

Superficie de regadío sobre el total de superficie cultivada



Fuente: <https://iagua.es>

I.C.- Comentar el mapa que aparece a la izquierda.

- 1.- Describir el fenómeno que se representa y explicar las causas de la distribución que muestra el mapa, estableciendo relaciones con el clima, la actividad económica, etc.
- 2.- Explicar las ventajas y los problemas (ecológicos, territoriales, etc.) del regadío en España.

Materia: GEOGRAFÍA

II.- EJERCICIO TEÓRICO. Puntuación máxima: 3 puntos (1,5 para cada pregunta). Responder a **DOS** de las siguientes preguntas:

II.A.- Historia geológica de España.

II.B.- Unidades del relieve: la Meseta.

II.C.- Los problemas medioambientales de España y Castilla-La Mancha.

II.D.- La red urbana española y su jerarquía. Características y condiciones.

III.- CONCEPTOS. Puntuación máxima: 2 puntos (0,5 para cada pregunta). Responder a **CUATRO** de los siguientes conceptos:

- Isoyeta

- Modelado kárstico

- Mapa del tiempo

- Barlovento

- Tasa de natalidad

- FMI

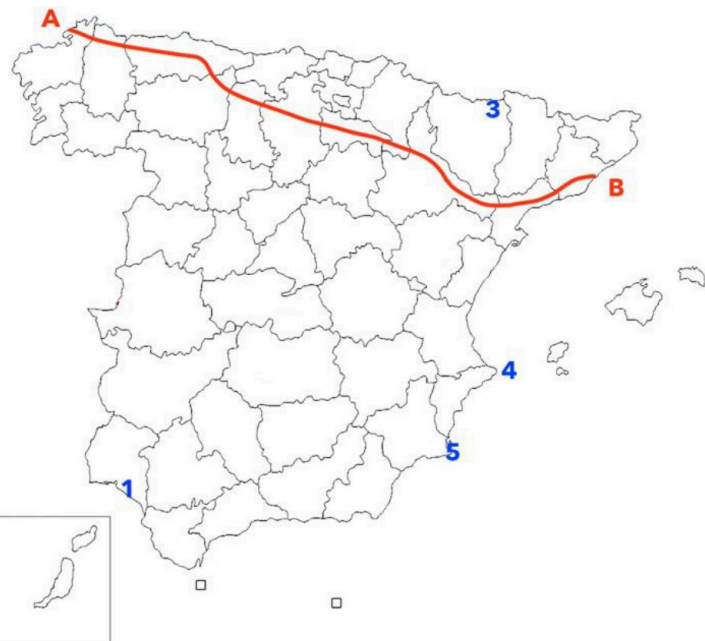
- Unión Europea

- Turismo rural

IV.- LOCALIZACIÓN. Puntuación máxima: 2.5 puntos. Elegir **UNO** de los siguientes mapas.

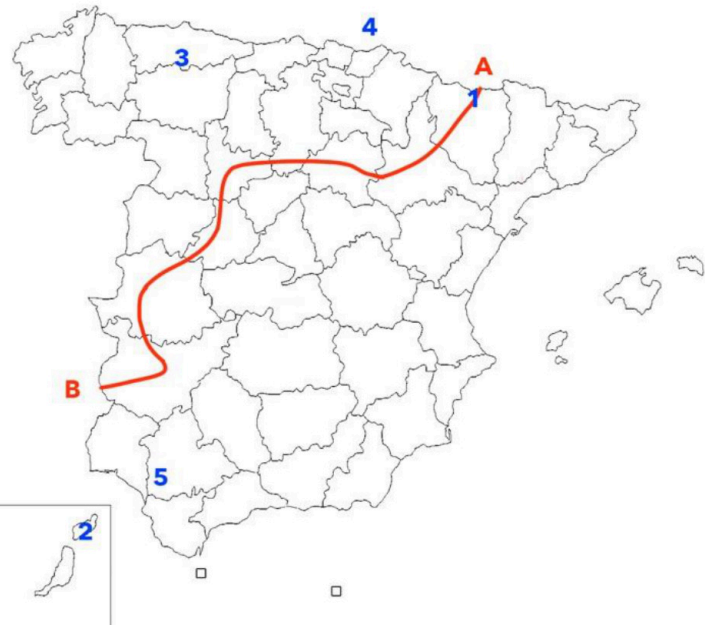
Citar las unidades del relieve, ríos y provincias que atraviesa la línea desde A hasta B y localizar los topónimos en los lugares numerados del 1 al 5.

IV.A.- Citar las unidades del relieve, ríos y provincias que atraviesa la línea desde A hasta B y localizar los topónimos en los lugares numerados del 1 al 5



1.- Parque Nacional:
2.-Isla:
3.-Pico:
4.-Accidente litoral:
5.- Humedal / Embalse :

IV.B.- Citar las unidades del relieve, ríos y provincias que atraviesa la línea desde A hasta B y localizar los topónimos en los lugares numerados del 1 al 5



1.- Parque Nacional:
2.-Isla:
3.-Pico:
4.-Accidente litoral:
5.- Embalse / Humedal:



Selectividad Academy

Tu academia de selectividad online

● Mejor academia online de selectividad

Prueba sin compromiso

Primera clase gratis. Sin permanencia. Sin letra pequeña.

- ✓ Profesores especialistas en cada asignatura
- ✓ Clases adaptadas a tu nivel y tus objetivos
- ✓ Todos los exámenes oficiales resueltos paso a paso
- ✓ Calculadora de nota y guía completa en la web

623 769 002

Escríbenos por WhatsApp

www.selectividad.academy

→ Calcula tu nota en selectividad.academy/calculadora-selectividad

→ Guía completa en selectividad.academy/guia-selectividad

→ ¿Tienes dudas? Escríbenos sin compromiso