

INSTRUCCIONES: el estudiante deberá contestar a las preguntas haciendo la elección que se detalla en cada una de ellas. Como criterio general de corrección para cada una de las pruebas se valorará la presentación, la ortografía y redacción.

I.- EJERCICIO PRÁCTICO. Elegir **UNO** de entre los siguientes tres ejercicios. Puntuación máxima: **2.5 puntos**.



I.A.- Analizar el paisaje que aparece en la fotografía respondiendo a las siguientes preguntas:

1.- Describir y analizar los elementos naturales del paisaje (relieve, vegetación, clima, aguas...).

2.- Describir y analizar los elementos humanos del paisaje (hábitat, economía...) y su interrelación con los anteriores.

3.- Explicar de forma razonada en qué regiones podría localizarse este paisaje.

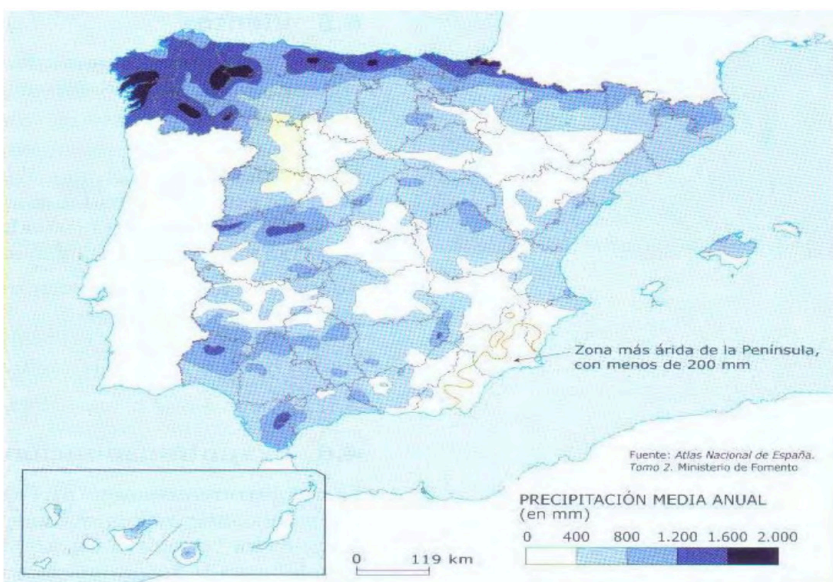


I.B.- Comentar el mapa que aparece a la izquierda respondiendo a las siguientes preguntas:

1.- Correlacionar los números del 1 al 5 con las ciudades que corresponden e indicar qué tipo de turismo predomina en cada una de ellas.

2.- Nombrar las provincias con alta densidad turística e indicar qué tipo de turismo predomina en cada una de ellas.

3.- Explicar las diferencias entre las áreas turísticas atlánticas y mediterráneas (clima, fechas, procedencia de los turistas, tipo de turismo demandado...).



I.C.- Comentar el mapa de isoyetas que aparece a la izquierda:

1.- Describir el fenómeno que cartografía el mapa.

2.- Explicar las diferencias de colores en función de los factores que generan más o menos precipitaciones.

3.- Establecer las consecuencias naturales, económicas y sociales derivadas de este fenómeno.

II.- EJERCICIO TEÓRICO. Puntuación máxima: **3 puntos** (1,5 para cada pregunta). Responder a **DOS** de las siguientes preguntas:

II.A.- Las unidades del relieve: los relieves exteriores a la Meseta.

II.B.- Historia geológica de España.

II.C.- Fuentes de energía renovables y no renovables. Ventajas e inconvenientes.

II.D.- La diversidad de las actividades rurales.

III.- CONCEPTOS. Puntuación máxima: **2 puntos** (0,5 para cada concepto). Responder a **CUATRO** de los siguientes conceptos:

Meridiano

Tasa de natalidad

Estatuto de Autonomía

Borrasca

Éxodo rural

Conurbación

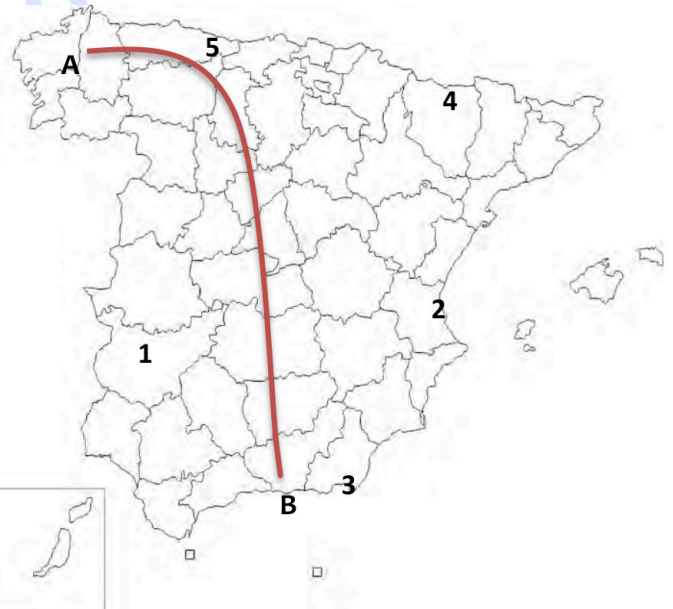
Desarrollo sostenible

PAC

IV. LOCALIZACIÓN. Puntuación máxima: **2.5 puntos**. Elegir **UNO** de los siguientes mapas y citar las unidades del relieve, ríos y provincias que atraviesa la línea desde **A** hasta **B** y localizar los topónimos en los lugares numerados del 1 al 5.

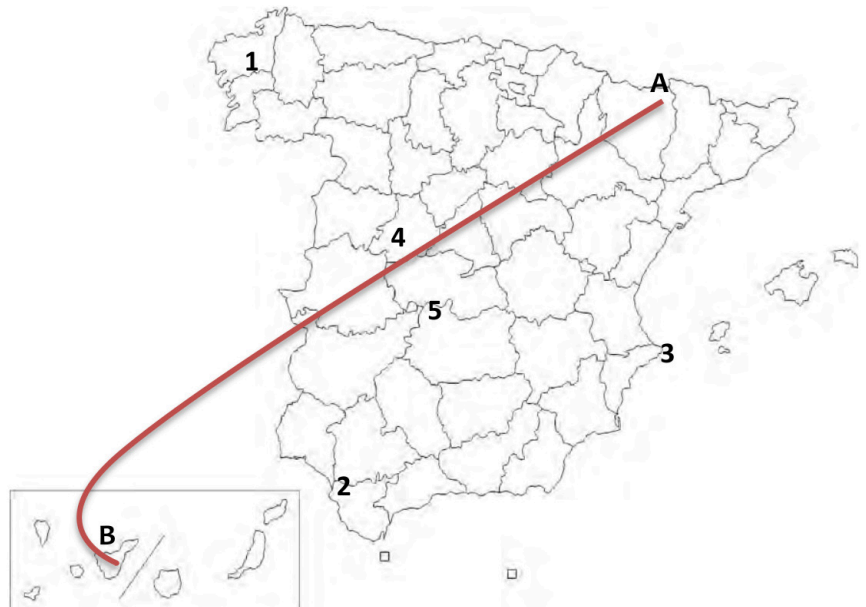
IV. A

1. Capital autonómica:
2. Humedal:
3. Accidente costero:
4. Pico:
5. Parque Nacional:



IV. B

1. Capital autonómica:
2. Humedal:
3. Accidente costero:
4. Pico:
5. Parque Nacional:





Selectividad Academy

Tu academia de selectividad online

● Mejor academia online de selectividad

Prueba sin compromiso

Primera clase gratis. Sin permanencia. Sin letra pequeña.

- ✓ Profesores especialistas en cada asignatura
- ✓ Clases adaptadas a tu nivel y tus objetivos
- ✓ Todos los exámenes oficiales resueltos paso a paso
- ✓ Calculadora de nota y guía completa en la web

623 769 002

Escríbenos por WhatsApp

www.selectividad.academy

→ Calcula tu nota en selectividad.academy/calculadora-selectividad

→ Guía completa en selectividad.academy/guia-selectividad

→ ¿Tienes dudas? Escríbenos sin compromiso