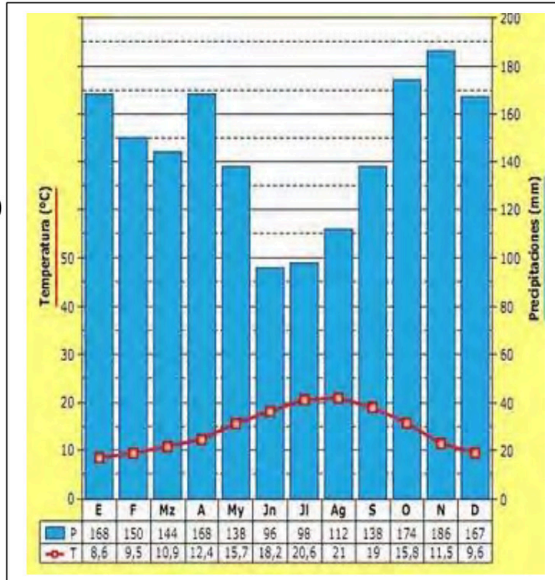


INSTRUCCIONES: el estudiante deberá contestar a las preguntas haciendo la elección que se detalla en cada una de ellas. Como criterio general de corrección para cada una de las pruebas se valorará la presentación, la ortografía y redacción.

I.- EJERCICIO PRÁCTICO. Elegir **UNO** de entre los siguientes tres ejercicios. Puntuación máxima: **2.5 puntos**.

Latitud: 43° 21' 24" N
Longitud: 01° 47' 25" O
Altitud: 8 metros.
T° media anual: 14,4°C
Precipitación anual: 1738 mm.



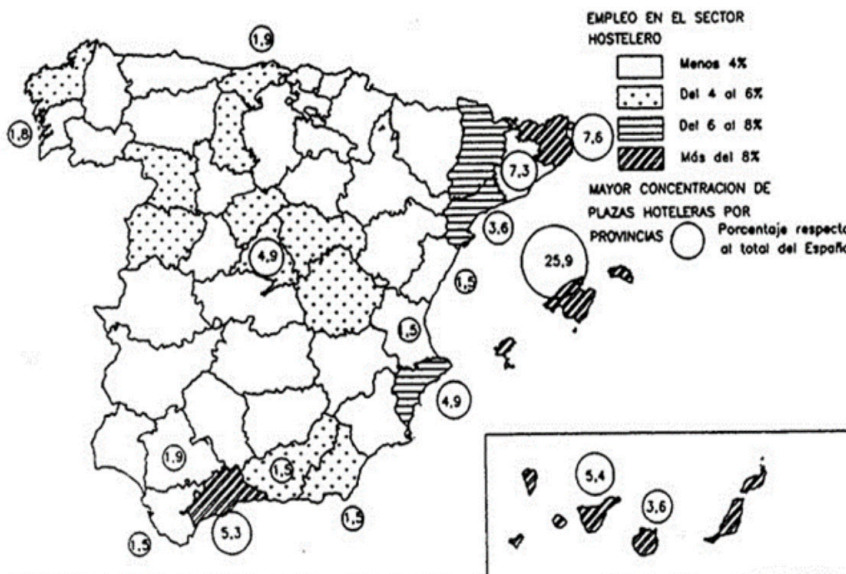
I.A.- Analizar el siguiente climograma:

- 1.- Describir los elementos que lo componen: máximas y mínimas, amplitud térmica, estación lluviosa, estación seca.
- 2.- Explicar qué factores influyen en la distribución de temperaturas y precipitaciones de este clima.
- 3.- Deducir, en función de lo descrito en el punto 1 y 2, a qué clima pertenece. Emitir una hipótesis sobre la estación meteorológica a la que corresponde o sobre el área geográfica donde puede encontrarse.



I.B.- Analizar la gráfica a partir de las siguientes preguntas:

- 1.- Describir la evolución del PIB y la ocupación a partir de los siguientes años: 1950, 1960, 1985 y 2007.
- 2.- Explicar las causas de la evolución del PIB y la ocupación (de actividades tradicionales a la modernización económica). Mencionar efemérides destacadas.
- 3.- Citar actividades nuevas en las zonas rurales.



I.C.- Analizar el mapa a partir de las siguientes preguntas:

- 1.- Citar las provincias con un empleo en el sector hostelero entre el 6-8%. Mencionar, también, aquellas con una concentración de plazas hoteleras superior al 5% del total nacional.
- 2.- Explicar las causas económicas y sociales de estos valores.
- 3.- Comentar el caso concreto de Castilla-La Mancha.

II.- EJERCICIO TEÓRICO. Puntuación máxima: **3 puntos** (1,5 para cada pregunta). Responder a **DOS** de las siguientes preguntas:

II.A.- Las unidades del relieve: los relieves exteriores a la Meseta.

II.B.- Los problemas medioambientales en España y en Castilla-La Mancha.

II.C.- La industria actual: sectores y distribución.

II.D.- Los movimientos migratorios en la actualidad.

III.- CONCEPTOS. Puntuación máxima: **2 puntos** (0,5 para cada concepto). Responder a **CUATRO** de los siguientes conceptos:

Anticiclón

Bosque mediterráneo

Sotavento

Agricultura ecológica

Acuicultura

PAC

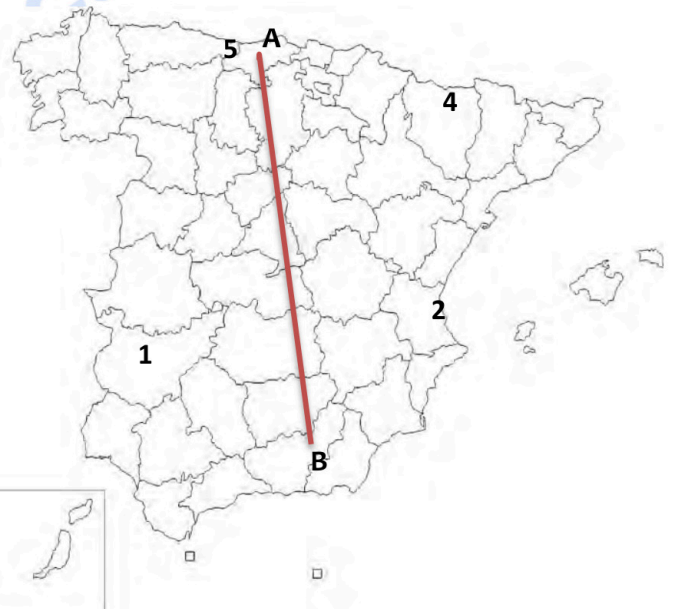
Conurbación

Globalización

IV. LOCALIZACIÓN. Puntuación máxima: **2.5 puntos**. Elegir **UNO** de los siguientes mapas y citar las unidades del relieve, ríos y provincias que atraviesa la línea desde **A** hasta **B** y localizar los topónimos en los lugares numerados del 1 al 5.

IV. A

1. Capital autonómica:
2. Humedal:
3. Isla:
4. Pico:
5. Parque Nacional:



IV. B

1. Capital autonómica:
2. Isla:
3. Accidente costero:
4. Pico:
5. Parque Nacional:





Selectividad Academy

Tu academia de selectividad online

● Mejor academia online de selectividad

Prueba sin compromiso

Primera clase gratis. Sin permanencia. Sin letra pequeña.

- ✓ Profesores especialistas en cada asignatura
- ✓ Clases adaptadas a tu nivel y tus objetivos
- ✓ Todos los exámenes oficiales resueltos paso a paso
- ✓ Calculadora de nota y guía completa en la web

623 769 002

Escríbenos por WhatsApp

www.selectividad.academy

→ Calcula tu nota en selectividad.academy/calculadora-selectividad

→ Guía completa en selectividad.academy/guia-selectividad

→ ¿Tienes dudas? Escríbenos sin compromiso