

INSTRUCCIONES: el estudiante deberá contestar a las preguntas haciendo la elección que se detalla en cada una de ellas. Como criterio general de corrección para cada una de las pruebas se valorará la presentación, la ortografía y redacción.

I.- EJERCICIO PRÁCTICO. Elige **UNO** entre los siguientes tres ejercicios. Puntuación máxima: **2.5 puntos**.



I.A.- Analiza el paisaje que aparece en la fotografía respondiendo a las siguientes preguntas:

- 1.- Describe y analiza los elementos naturales del paisaje (relieve, vegetación, clima, aguas...).
- 2.- Describe y analiza los elementos humanos del paisaje (hábitat, economía...) y su interrelación con los anteriores.
- 3.- Explica de forma razonada en qué regiones podría localizarse este paisaje.

Llegada de turistas a España 2000-2017

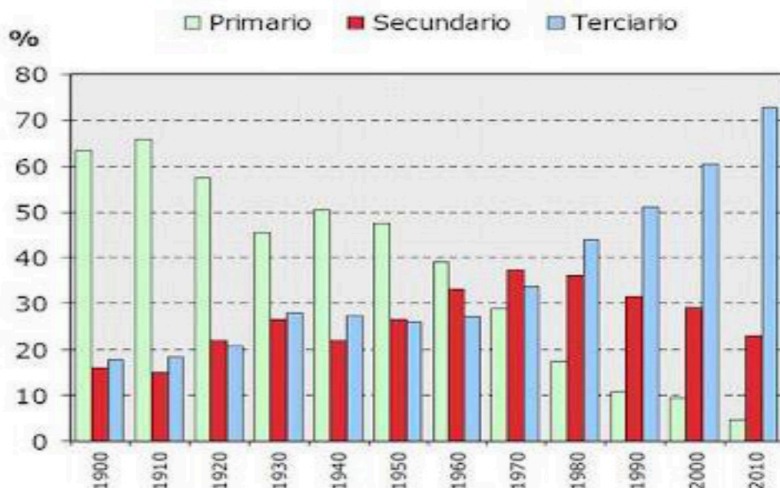


I.B.- Responde a las siguientes cuestiones:

- 1.- Describe la evolución del turismo en datos a partir del gráfico para los años 2000, 2007, 2009 y 2017.
- 2.- Principales causas del comportamiento de las cifras en la llegada de turistas a España. Describe qué factores han alterado los datos del turismo entre los años 2020 y 2022.
- 3.- Explica las diferencias entre las regiones turísticas atlánticas y mediterráneas españolas (clima, fechas, procedencia de los turistas, tipo de turismo demandado...).

*los años se corresponden con el siglo XXI (2000-2017)

Evolución de la población ocupada por sectores de actividad (1900-2010)



I.C.- Comenta el gráfico a partir de las siguientes cuestiones:

- 1.-Describe la evolución de la población ocupada por sectores para los siguientes años: 1950, 1970, 1990 y 2010.
- 2.- Explica las causas de esta transformación: económicas, laborales, sociales, demográficas...
- 3.- ¿Cómo ha cambiado la incorporación laboral de la mujer al mercado laboral desde 1950 hasta la actualidad (tipo de trabajo, estudios, derechos, etc.)?

II.- EJERCICIO TEÓRICO. Puntuación máxima: **3 puntos** (1,5 para cada pregunta). Responde a **DOS** de las siguientes preguntas:

II.A.- Las unidades del relieve: los relieves exteriores a la Meseta.

II.B.- Historia geológica de España.

II.C.- Fuentes de energía renovables y no renovables. Ventajas e inconvenientes.

II.D.- La red urbana española y su jerarquía. Características y condicionantes.

III.- CONCEPTOS. Puntuación máxima: **2 puntos** (0,5 para cada concepto). Define **CUATRO** de los siguientes conceptos:

-Meridiano

-Tasa de natalidad

-Estatuto de Autonomía

-Borrasca

-Éxodo rural

-Isoterma

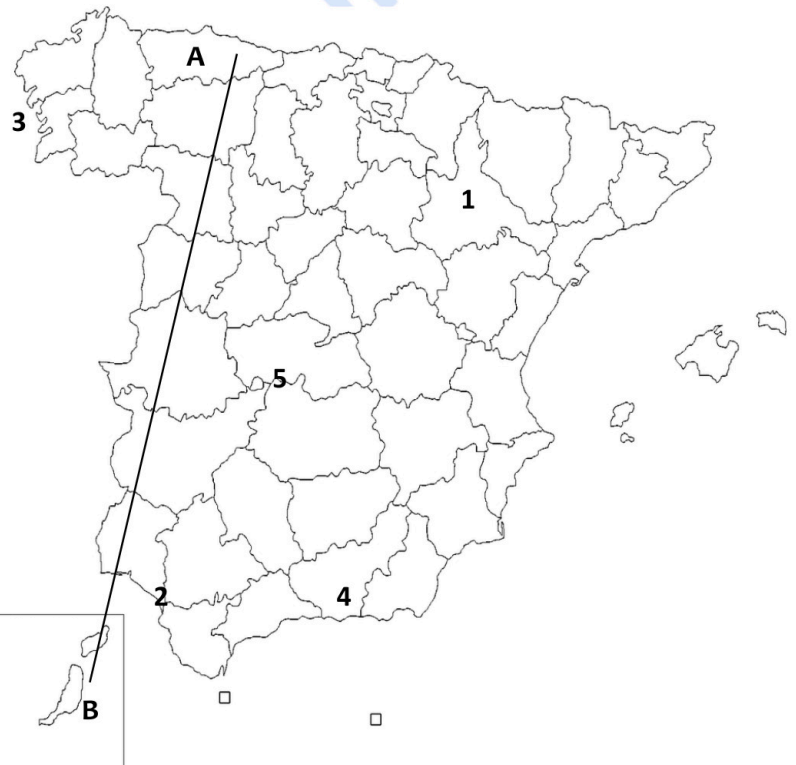
-Desarrollo sostenible

-Globalización

IV. LOCALIZACIÓN. Puntuación máxima: **2.5 puntos**. Elige **UNO** de los siguientes mapas y cita las unidades del relieve, ríos y provincias que atraviesa la línea desde **A** hasta **B** y localiza los topónimos en los lugares numerados del 1 al 5.

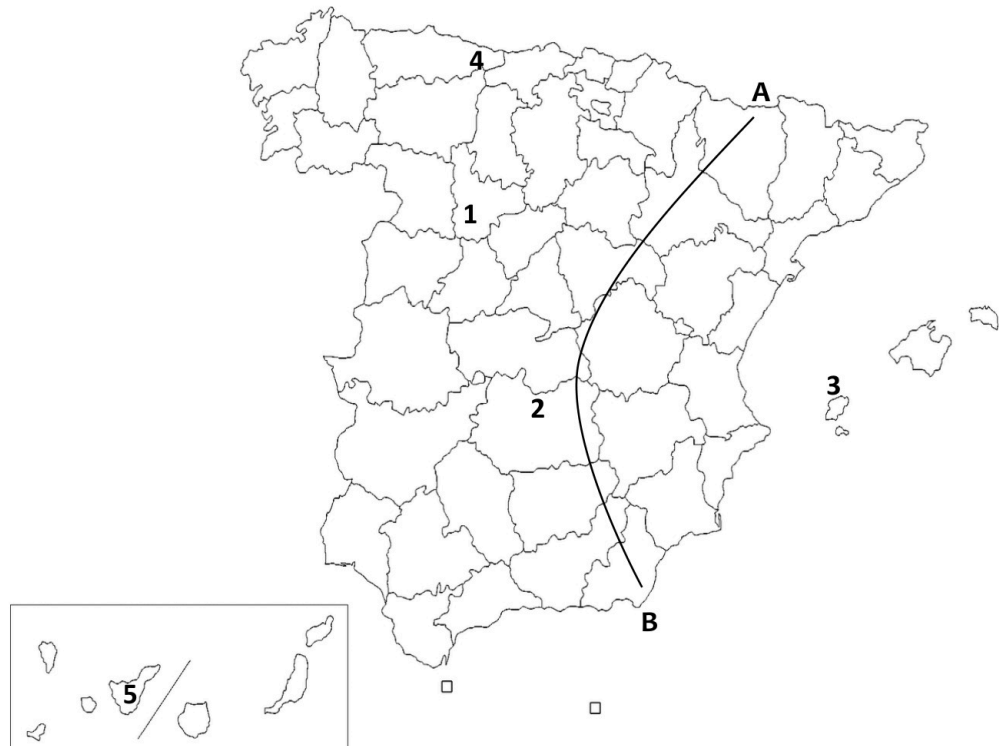
IV. A

1. Capital autonómica:
2. Humedal:
3. Accidente litoral o costero:
4. Pico:
5. Parque Nacional:



IV. B

1. Capital autonómica:
2. Humedal:
3. Isla:
4. Pico:
5. Parque Nacional:





Selectividad Academy

Tu academia de selectividad online

● Mejor academia online de selectividad

Prueba sin compromiso

Primera clase gratis. Sin permanencia. Sin letra pequeña.

- ✓ Profesores especialistas en cada asignatura
- ✓ Clases adaptadas a tu nivel y tus objetivos
- ✓ Todos los exámenes oficiales resueltos paso a paso
- ✓ Calculadora de nota y guía completa en la web

623 769 002

Escríbenos por WhatsApp

www.selectividad.academy

→ Calcula tu nota en selectividad.academy/calculadora-selectividad

→ Guía completa en selectividad.academy/guia-selectividad

→ ¿Tienes dudas? Escríbenos sin compromiso