

**INSTRUCCIONES:** el estudiante deberá contestar a las preguntas haciendo la elección que se detalla en cada una de ellas. Como criterio general de corrección para cada una de las pruebas, se valorará la presentación, la ortografía y redacción.

**I.- EJERCICIO PRÁCTICO.** Elige **UNO** entre los siguientes tres ejercicios. Puntuación máxima: **2.5 puntos**.



**I.A.-** Analiza el paisaje que aparece en la fotografía respondiendo a las siguientes preguntas:

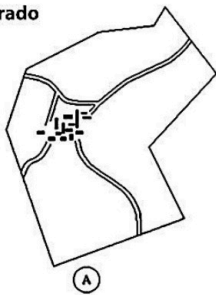
- 1.- Describe y analiza los elementos naturales del paisaje (relieve, vegetación, clima, aguas...).
- 2.- Describe y analiza los elementos humanos del paisaje (hábitat, economía...) y su interrelación con los anteriores.
- 3.- Explica de forma razonada en qué zonas o regiones podría localizarse este paisaje.



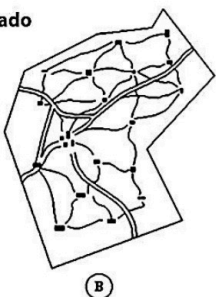
**I.B.-** Responde a las siguientes cuestiones sobre el mapa:

- 1.- Enumera las cuatro grandes unidades de relieve peninsulares predominantemente llanas. ¿Qué unidades de relieve, llanas y montañosas, se consideran externas a la Meseta?
- 2.- Indica qué unidades de relieve peninsular se originaron durante el Paleozoico o Era Primaria (Orogenia Hercínica o Varisca) y qué otras unidades se originaron durante el Cenozoico como consecuencia de la Orogenia Alpina.
- 3.- Además del archipiélago canario, ¿en qué otros lugares de la península ibérica hay relieves volcánicos?

**A) Concentrado**



**B) Diseminado**



**I.C.-** Comenta los croquis y las fotografías aéreas relacionadas.

- 1.- Define el concepto de hábitat y describe las características de los dos tipos representados.
- 2.- Explica los factores que influyen en la configuración de los nuevos espacios rurales: tipo de hábitat, políticas agrarias (PAC), nuevos cultivos, despoblación del medio rural y envejecimiento, etc.
- 3.- Explica de forma razonada en qué zonas o regiones de España se localizarían cada uno de estos dos tipos de hábitats.

**II.- EJERCICIO TEÓRICO.** Puntuación máxima: **3 puntos** (1,5 para cada pregunta). Responde a **DOS** de las siguientes preguntas:

- II.A.- Las unidades del relieve: los rebordes montañosos.
- II.B.- El transporte. Tipos y redes.
- II.C.- Los movimientos naturales de la población. Regímenes demográficos.
- II.D.- La diversidad de las actividades rurales.

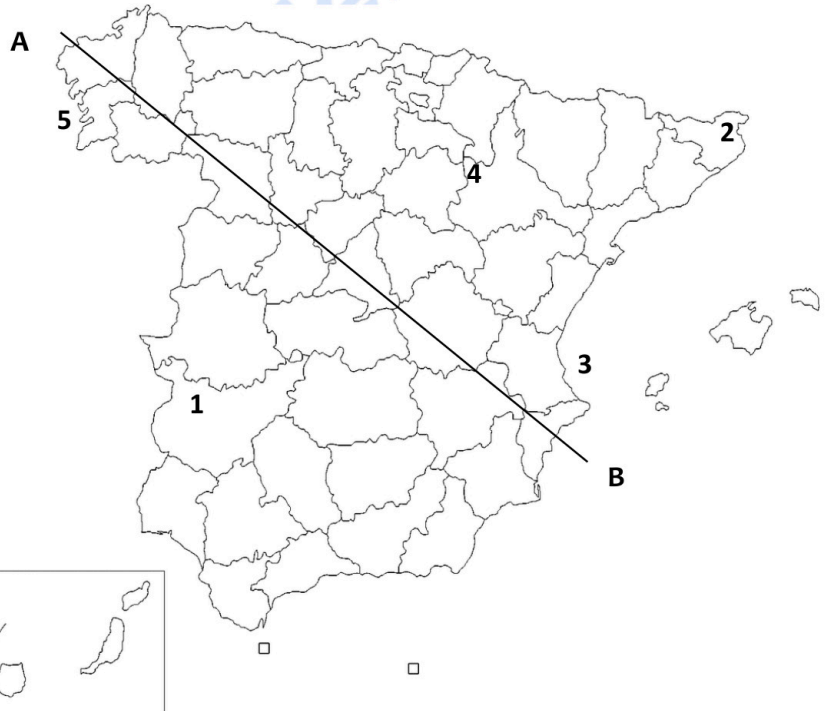
**III.- CONCEPTOS.** Puntuación máxima: **2 puntos** (0,5 para cada concepto). Define **CUATRO** de los siguientes conceptos:

- Geografía
- Penillanura
- Tasa de mortalidad infantil
- Agricultura ecológica
- Estado del bienestar
- Área Protegida
- Isoyeta
- Efecto invernadero

**IV. LOCALIZACIÓN.** Puntuación máxima: **2.5 puntos**. Elige **UNO** de los siguientes mapas y nombra las unidades del relieve, ríos y provincias que atraviesa la línea desde **A** hasta **B** y localiza los topónimos en los lugares numerados del 1 al 5.

**IV. A**

1. Capital autonómica:
  2. Humedal:
  3. Accidente costero:
  4. Pico:
  5. Parque Nacional:



**IV. B**

1. Capital autonómica:
  2. Humedal:
  3. Isla:
  4. Pico:
  5. Parque Nacional:





# Selectividad Academy

Tu academia de selectividad online

● Mejor academia online de selectividad

## Prueba sin compromiso

Primera clase gratis. Sin permanencia. Sin letra pequeña.

- ✓ Profesores especialistas en cada asignatura
- ✓ Clases adaptadas a tu nivel y tus objetivos
- ✓ Todos los exámenes oficiales resueltos paso a paso
- ✓ Calculadora de nota y guía completa en la web

**623 769 002**

Escríbenos por WhatsApp

[www.selectividad.academy](http://www.selectividad.academy)

→ Calcula tu nota en [selectividad.academy/calculadora-selectividad](http://selectividad.academy/calculadora-selectividad)

→ Guía completa en [selectividad.academy/guia-selectividad](http://selectividad.academy/guia-selectividad)

→ ¿Tienes dudas? Escríbenos sin compromiso