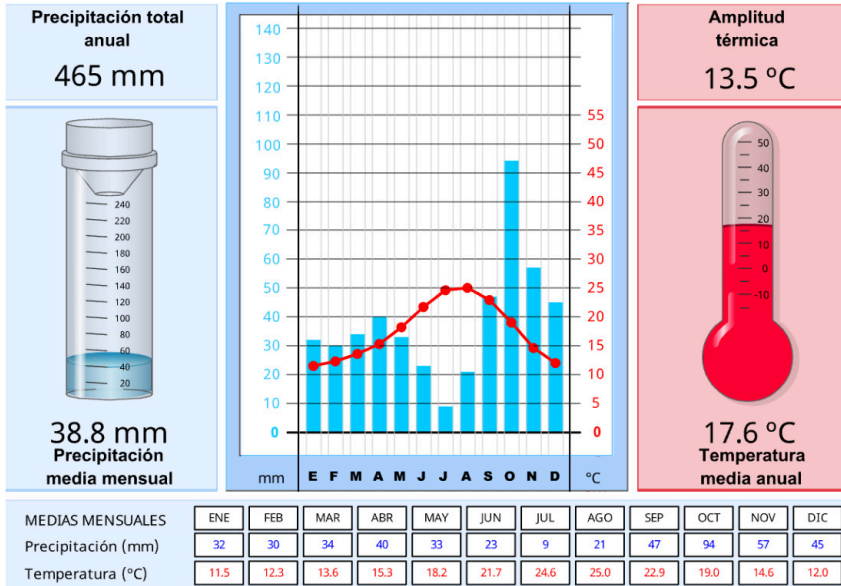


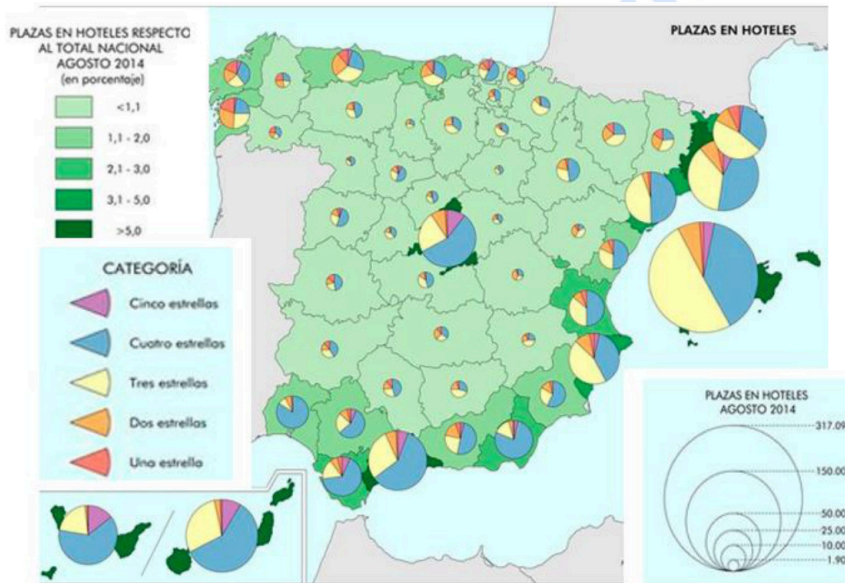
**INSTRUCCIONES:** el estudiante deberá contestar a las preguntas haciendo la elección que se detalla en cada una de ellas. Como criterio general de corrección para cada una de las pruebas se valorará la presentación, la ortografía y la redacción.

**I.- EJERCICIO PRÁCTICO.** Elegir **UNO** de entre los siguientes tres ejercicios. Puntuación máxima: **2.5 puntos**.



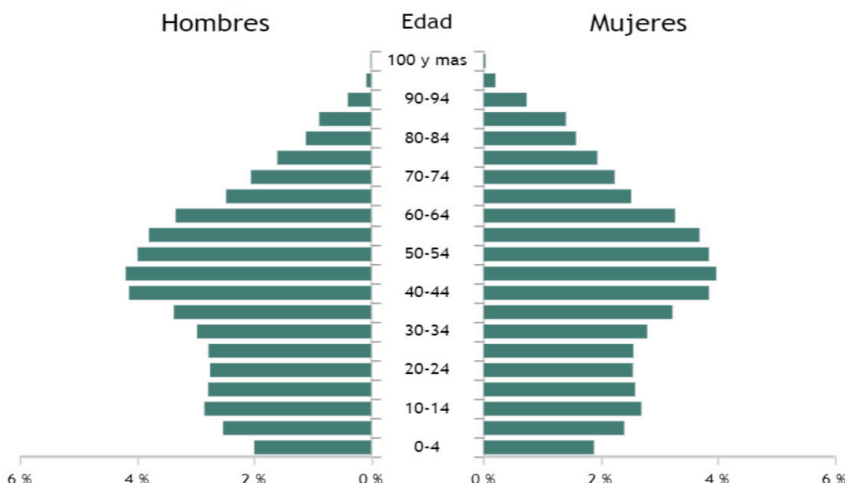
**I.A.-** Analizar el siguiente climograma de **Valencia** (fuente: <https://www.educaplus.org>):

1. Describir los elementos que lo componen: máximas y mínimas, amplitud térmica, estación lluviosa, estación seca.
2. Explicar qué factores influyen en la distribución de temperaturas y precipitaciones de este clima ¿Por qué es octubre el mes más lluvioso del año?
3. Citar qué tipo de cultivos predominan en esta zona y por qué.



**I.B.-** Comentar el siguiente mapa:

1. Describir el fenómeno cartográfico que aparece en la imagen.
2. Indicar, aproximadamente, las plazas hoteleras y categoría de los hoteles de las Islas Baleares, Madrid, Asturias y en Cuenca y Toledo para Castilla-La Mancha ¿Qué provincias españolas superan sus plazas de hoteles el 5% respecto al total nacional?
3. Explicar las causas de las diferencias en oferta de plazas hoteleras y su aportación respecto al total nacional en % entre el norte peninsular y el Levante (clima, tipo de turismo, procedencia, origen del turismo, etc.).



**I.C.-** Comentar la pirámide de población de **Castilla-La Mancha de 2022:**

1. Características de la pirámide y tipo.
2. Explicar la estructura por edad y sexo: sex ratio y grupos de edad.
3. Proyecciones demográficas para Castilla-La Mancha: dónde se concentra la población y por qué, migraciones, planes sociales, perspectivas laborales, etc.

**II.- EJERCICIO TEÓRICO.** Puntuación máxima: **3 puntos** (1,5 para cada pregunta). Responder a **DOS** de las siguientes preguntas:

**II.A.-** Las crisis económicas y las reconversiones industriales.

**II.B.-** Historia geológica de España.

**II.C.-** Las unidades del relieve. La Meseta.

**II.D.-** La diversidad de las actividades rurales.

**III.- CONCEPTOS.** Puntuación máxima: **2 puntos** (0,5 para cada concepto). Elegir la respuesta correcta de **4** de los siguientes conceptos:

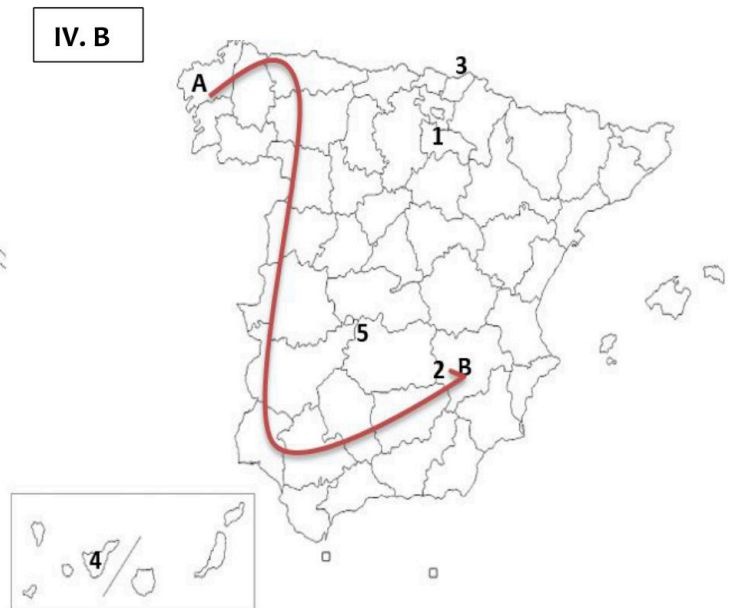
1. Distancia angular en grados entre cualquier punto de la Tierra y el ecuador. Puede ser norte o sur y mide de 0° (ecuador) a 90° (polos). **A) Longitud. B) Latitud. C) Paralelo.**
2. Conjunto de cuencas cuyas aguas vierten en el mismo mar. En España encontramos tres: mediterránea, atlántica y cantábrica. **A) Vertientes hidrográficas. B) Cuencas fluviales. C) Cuencas sedimentarias.**
3. Conjunto de poblaciones próximas entre ellas, cuyo progresivo crecimiento las ha puesto en contacto. **A) Conurbación. B) Ciudad. C) Urbanización.**
4. Variedad de formas de vida en el planeta, incluyendo los ecosistemas terrestres, marinos y los complejos ecológicos de los que forman parte. **A) Biodiversidad. B) Medio ambiente. C) Desarrollo sostenible.**
5. Organismo internacional que promueve la estabilidad financiera y la cooperación monetaria internacional. **A) BCE. B) FMI. C) UE.**
6. Gráfico que nos muestra la variación en el tiempo del nivel de caudal de un río. **A) Climograma. B) Fluviograma. C) Hidrograma.**
7. Modelo de producción y consumo que implica compartir, arrendar, reutilizar, reparar, renovar y reciclar los materiales y productos existentes durante el mayor tiempo posible. **A) Economía de mercado. B) Economía circular. C) Economía verde.**
8. Institución donde reside el poder legislativo de la UE. **A) Comisión europea. B) BCE. C) Parlamento europeo.**

**IV. LOCALIZACIÓN.** Puntuación máxima: **2.5 puntos**. Elegir **UNO** de los siguientes mapas y citar las unidades del relieve, ríos y provincias que atraviesa la línea desde **A** hasta **B** y localizar los topónimos en los lugares numerados del 1 al 5: **1-Capital autonómica. 2-Humedal. 3-Accidente costero. 4-Pico. 5-Parque Nacional.**

IV. A



IV. B





# Selectividad Academy

Tu academia de selectividad online

● Mejor academia online de selectividad

## Prueba sin compromiso

Primera clase gratis. Sin permanencia. Sin letra pequeña.

- ✓ Profesores especialistas en cada asignatura
- ✓ Clases adaptadas a tu nivel y tus objetivos
- ✓ Todos los exámenes oficiales resueltos paso a paso
- ✓ Calculadora de nota y guía completa en la web

**623 769 002**

Escríbenos por WhatsApp

[www.selectividad.academy](http://www.selectividad.academy)

→ Calcula tu nota en [selectividad.academy/calculadora-selectividad](http://selectividad.academy/calculadora-selectividad)

→ Guía completa en [selectividad.academy/guia-selectividad](http://selectividad.academy/guia-selectividad)

→ ¿Tienes dudas? Escríbenos sin compromiso