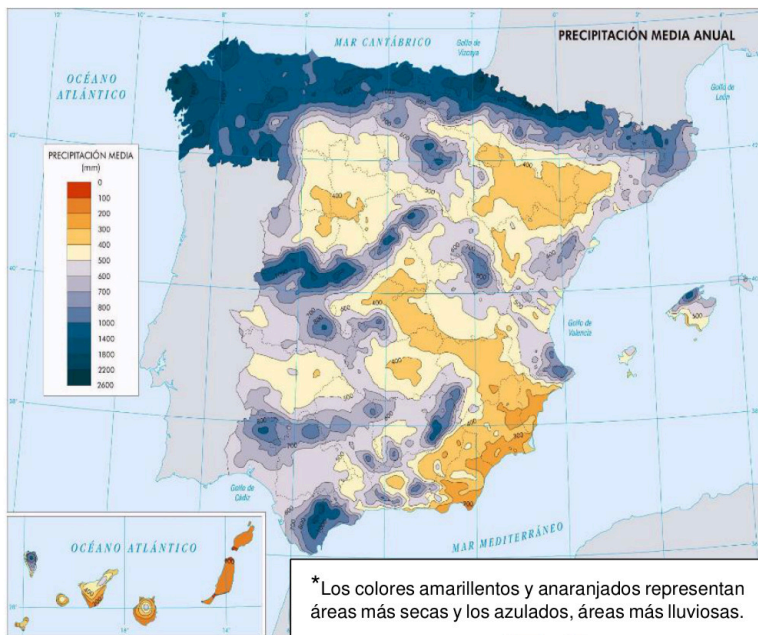


Materia: GEOGRAFÍA

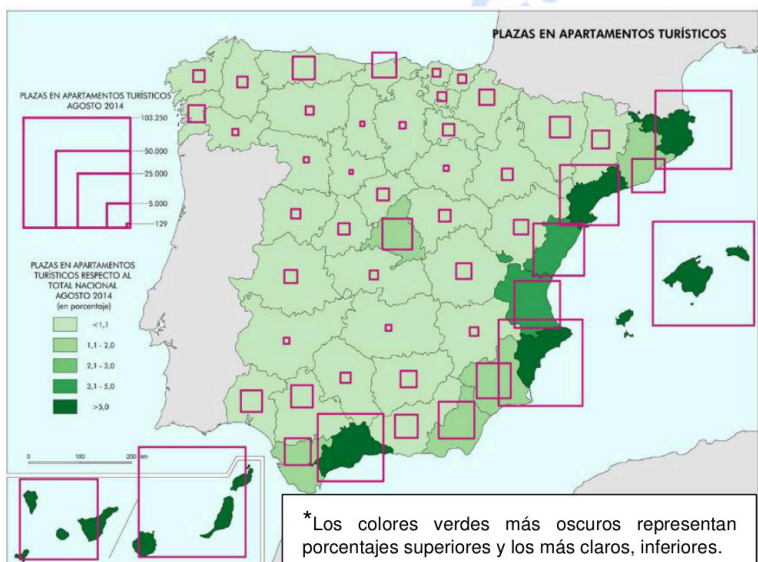
**INSTRUCCIONES:** el estudiante deberá contestar a los **4 EJERCICIOS** haciendo la elección que se detalla en cada uno de ellos, si se contesta a más preguntas de las necesarias, solo se corregirán las primeras. Como criterio general de corrección, se valorará la coherencia, cohesión, corrección gramatical, léxica y ortográfica y su presentación, penalizándose hasta un 10% su incumplimiento (hasta 1 punto).

**I. EJERCICIO PRÁCTICO.** Elegir **UNO** de entre los siguientes dos ejercicios. Puntuación máxima: **2.5 puntos**.



**I.A.** Comentar el mapa respondiendo a las preguntas siguientes:

1. Localizar de manera sintética la distribución de las precipitaciones en España.
2. Explicar qué factores influyen en la distribución de las precipitaciones en España. ¿Con qué unidades de relieve se relacionan las áreas más lluviosas de Castilla-La Mancha? ¿Por qué llueve tan poco en el interior de La Mancha?
3. Establecer las consecuencias naturales (paisaje y ríos) y económicas (sector primario y terciario) derivadas de este fenómeno.



**I.B.** Comentar el mapa que aparece a la izquierda a partir de las siguientes preguntas:

1. Describir la localización de las plazas en apartamentos turísticos, en términos absolutos y relativos, indicando las zonas con más y con menos plazas.
2. Explicar, clasificar y describir el tipo de turismo predominante en las zonas con mayor número de plazas.
3. ¿Qué provincia castellanomanchega tiene mayor número de plazas? ¿Y menor? ¿Qué tipos de turismo predominan en Castilla-La Mancha? Descríbelos.

**II. EJERCICIO TEÓRICO.** Puntuación máxima: **3 puntos** (1,5 para cada pregunta). Responder a **DOS** de las siguientes tres preguntas:

- II.A.- La variedad litológica de España.
- II.B.- La red urbana española y su jerarquía. Características y funciones.
- II.C.- Los espacios terciarizados en España y tipos de servicios: el turismo.

**Materia: GEOGRAFÍA**

**III. CONCEPTOS.** Puntuación máxima: **2 puntos** (0,5 para cada concepto). Seleccionar 4 de las 6 definiciones siguientes y elegir la respuesta correcta, entre las tres posibles:

**III.1.** Representación de La Tierra, o de una parte de ella, sobre una superficie plana, reducida, orientada y georreferenciada: **A) Plano urbano. B) Mapa. C) Croquis.**

**III.2.** Parte de la ladera de una montaña orientada al norte (en el hemisferio norte) que recibe menos insolación que la ladera orientada al sur: **A) Solana. B) Umbría. C) Barlovento.**

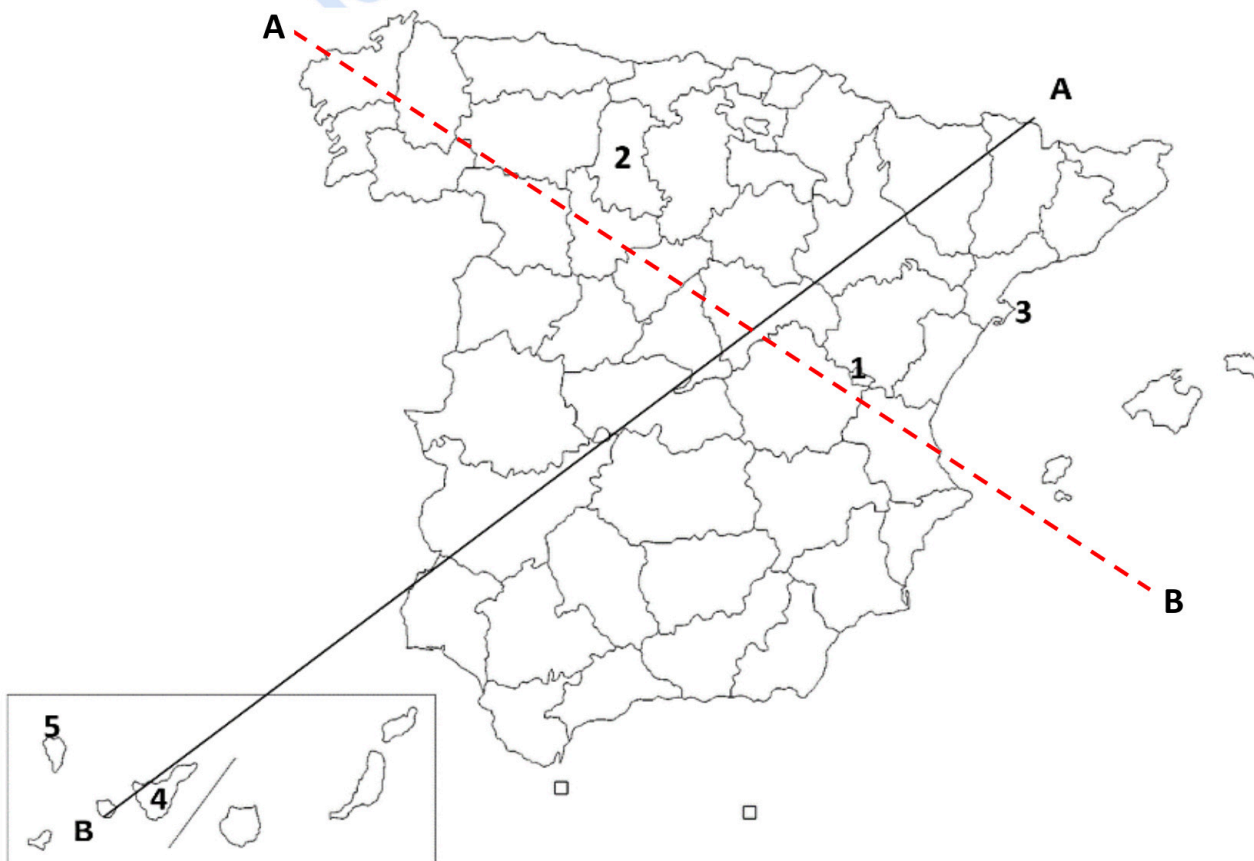
**III.3.** Diferencia entre la población emigrante y la inmigrante en un determinado lugar y periodo de tiempo: **A) Crecimiento vegetativo. B) Crecimiento real. C) Saldo migratorio.**

**III.4.** Dibujo que representa la distribución de la vegetación según la topografía, altitud, orientación, topoclima y/o suelo: **A) Cliserie. B) Biodiversidad. C) Vegetación esclerófila.**

**III.5.** Entidad administrativa básica del territorio, que forma parte de la división político-administrativa del país, con una unidad local de organización del gobierno y de gestión de los intereses y servicios públicos más cercanos a los ciudadanos. **A) Municipio. B) Provincia. C) Comunidad Autónoma.**

**III.6.** Núcleo de población urbano de más de 10.000 habitantes donde la población se dedica a actividades económicas del sector secundario y terciario, predominantemente. **A) Ciudad. B) Pueblo. C) Villa.**

**IV. LOCALIZACIÓN.** Puntuación máxima: **2.5 puntos.** Seleccione **UNA** de las dos líneas, la negra continua o la roja discontinua, y cite ordenadamente las principales unidades de relieve, ríos y provincias que atraviesa la línea seleccionada desde "A" hasta "B". Además, localiza los topónimos en los lugares numerados del 1 al 5: **1-Enclave. 2-Comunidad Autónoma. 3-Humedal. 4-Isla. 5-Parque Nacional.**





# Selectividad Academy

Tu academia de selectividad online

● Mejor academia online de selectividad

## Prueba sin compromiso

Primera clase gratis. Sin permanencia. Sin letra pequeña.

- ✓ Profesores especialistas en cada asignatura
- ✓ Clases adaptadas a tu nivel y tus objetivos
- ✓ Todos los exámenes oficiales resueltos paso a paso
- ✓ Calculadora de nota y guía completa en la web

**623 769 002**

Escríbenos por WhatsApp

[www.selectividad.academy](http://www.selectividad.academy)

→ Calcula tu nota en [selectividad.academy/calculadora-selectividad](http://selectividad.academy/calculadora-selectividad)

→ Guía completa en [selectividad.academy/guia-selectividad](http://selectividad.academy/guia-selectividad)

→ ¿Tienes dudas? Escríbenos sin compromiso