


| | | | |
|---|---|-------------------------|---------------------------------------|
|  | <p>Evaluación de Bachillerato para el Acceso a la Universidad</p> <p>Castilla y León</p> | <p>GEOGRAFÍA</p> | <p>EXAMEN</p> <p>2 páginas</p> |
|---|---|-------------------------|---------------------------------------|

I.- TEMAS PARA DESARROLLAR.

(Debe elegir DOS de los cuatro temas siguientes, y responder sólo a los elegidos. Cada tema respondido tendrá una calificación máxima de 2 puntos)

Tema 1. Desarrolle, redactando con orden, coherencia y claridad expositiva, los contenidos relativos a los “Tipos de agricultura: coexistencia de formas avanzadas y tradicionales”.

Tema 2. Desarrolle, redactando con orden, coherencia y claridad expositiva, los contenidos relativos a los “Dominios climáticos españoles, su problemática”.

Tema 3. Desarrolle, redactando con orden, coherencia y claridad expositiva, los contenidos relativos a los “Factores geográficos y características de la vegetación. Formaciones vegetales españolas y su distribución”.

Tema 4. Desarrolle, redactando con orden, coherencia y claridad expositiva, los contenidos relativos a “Los espacios turísticos. Características y evolución”.

II.- DEFINICIONES DE CONCEPTOS.

(Debe elegir CINCO de los diez conceptos siguientes, y responder sólo a los elegidos. Cada respuesta tendrá una calificación máxima de 0.40 puntos, con lo que la calificación máxima de esta parte del examen serán 2 puntos).

Defina con la mayor precisión posible (máximo de cinco líneas por cada concepto):

- Emigración • P.A.C. • Municipio • P.Y.M.E. • Área periurbana
- Orogenia • Agricultura biológica • Erosión • F.E.D.E.R. • Euro

III- LOCALIZACIÓN DE ELEMENTOS GEOGRÁFICOS EN EL MAPA MUDO.

(Debe elegir DIEZ de los veinte elementos geográficos siguientes, y localizar en el mapa adjunto esos diez y sólo esos diez de forma inequívoca y con la mayor precisión posible -mediante punto, línea o contorno, y poniendo el número correspondiente-. Cada localización correcta tendrá una calificación máxima de 0.20 puntos, con lo que la calificación máxima total de esta parte del examen serán 2 puntos).

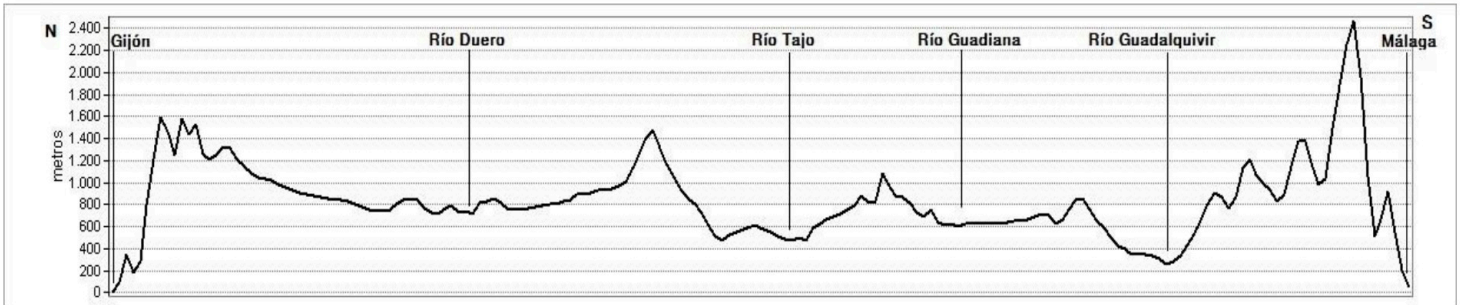
- 1) Vitoria 2) Zaragoza (provincia) 3) Ourense (ciudad) 4) Puerto de Bilbao 5) Teruel (ciudad)
6) Cuenca (provincia) 7) Badajoz (ciudad) 8) Ceuta 9) Jaén (ciudad) 10) Gijón
11) El Hierro 12) Pico Aneto 13) Sierra Morena 14) Cabo de Finisterre
15) Cordillera Costera Catalana 16) Bahía de Palma 17) Las Alpujarras 18) Mérida
19) Melilla 20) Alicante (provincia)

(El examen continúa al dorso, en la página siguiente)

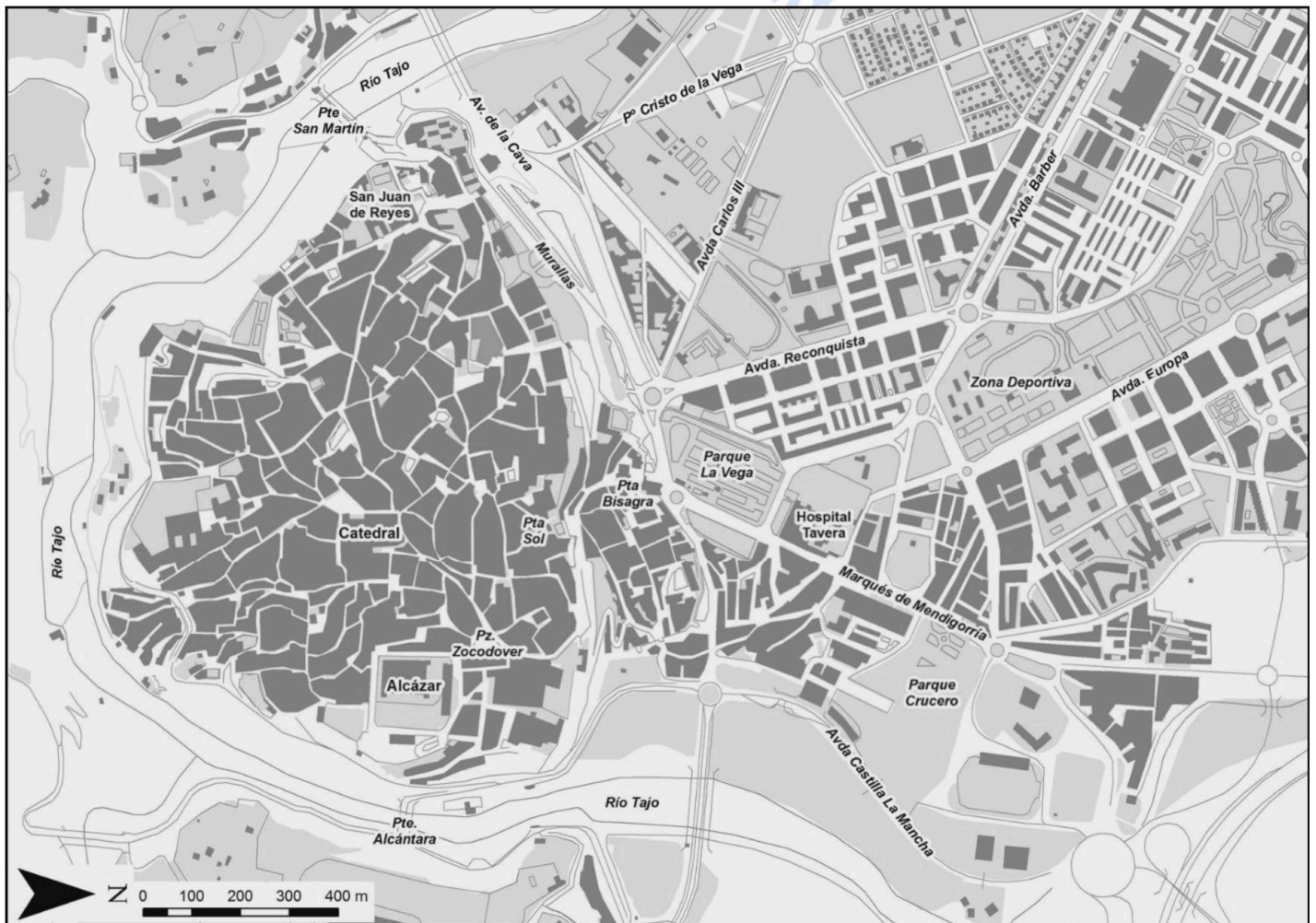
IV.- PRÁCTICA

(Debe elegir UNA de las dos prácticas siguientes, y responder sólo a la elegida. La respuesta tendrá una calificación máxima de 2 puntos)

Práctica 1: A partir del siguiente gráfico (perfil N-S de la Península Ibérica, aproximadamente entre Gijón y Málaga), comente las unidades del relieve que aparecen representadas en él.



Práctica 2: Comente la siguiente figura (plano urbano de Toledo).



Geografía: mapas, gráficos y desarrollo bien organizados.

selectividad.academy - 623 769 002



Selectividad Academy

Tu academia de selectividad online

● Mejor academia online de selectividad

Prueba sin compromiso

Primera clase gratis. Sin permanencia. Sin letra pequeña.

- ✓ Profesores especialistas en cada asignatura
- ✓ Clases adaptadas a tu nivel y tus objetivos
- ✓ Todos los exámenes oficiales resueltos paso a paso
- ✓ Calculadora de nota y guía completa en la web

623 769 002

Escríbenos por WhatsApp

www.selectividad.academy

→ [Calcula tu nota en selectividad.academy/calculadora-selectividad](http://selectividad.academy/calculadora-selectividad)

→ [Guía completa en selectividad.academy/guia-selectividad](http://selectividad.academy/guia-selectividad)

→ ¿Tienes dudas? Escríbenos sin compromiso