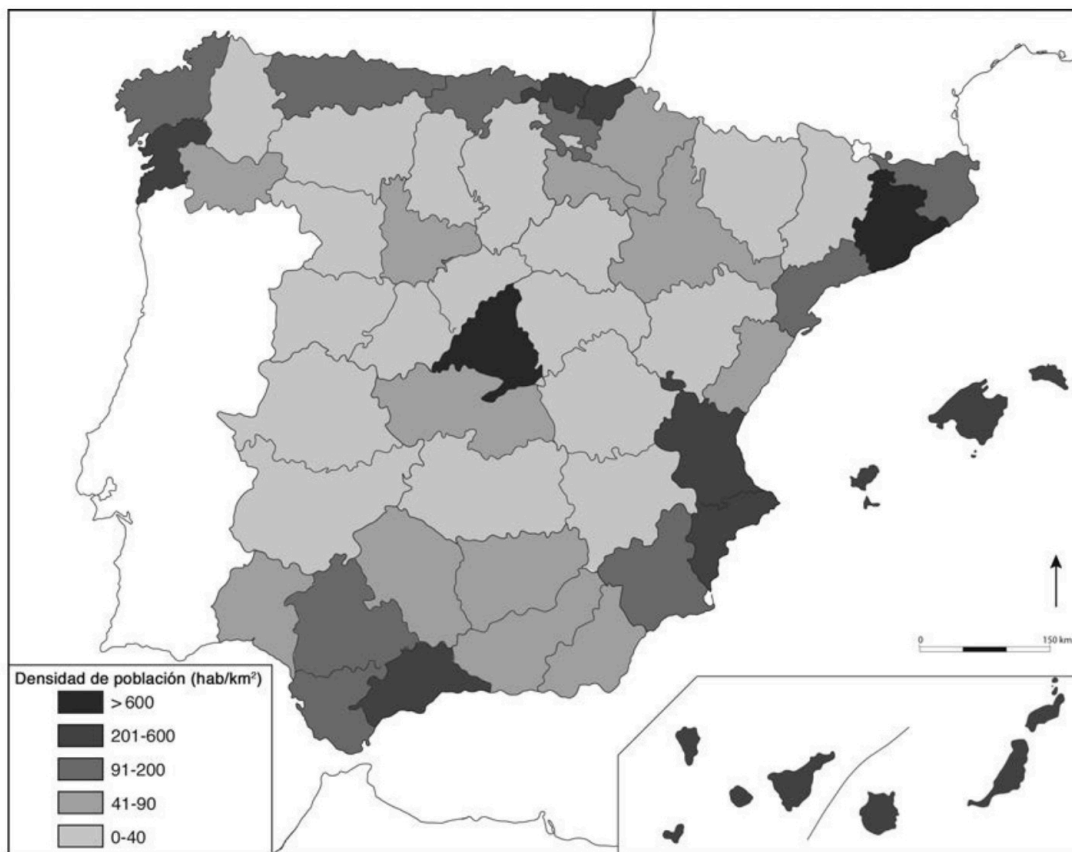


Responda a CUATRO de los cinco ejercicios siguientes. Cada ejercicio vale 2,5 puntos. En el caso de que responda a más ejercicios, solo se valorarán los cuatro primeros.

Ejercicio 1

Observe el siguiente mapa:

Densidad de población por provincias (2022)



FUENTE: Instituto Geográfico Nacional [en línea].

1. La población se distribuye en el territorio de una manera desigual. En el mapa se observa que se concentra en las provincias litorales y en Madrid, mientras que grandes áreas interiores están muy despobladas. Explique las causas de la distribución desigual de la población.
[1,5 puntos]



Geografía: mapas, gráficos y desarrollo bien organizados.

selectividad.academy - 623 769 002

selectividad.academy

2. Justifique si la siguiente afirmación es verdadera o falsa: «Las provincias con una densidad de población más baja tienen una población envejecida».

[1 punto]



Guía completa en selectividad.academy/guia-selectividad

Todo sobre la selectividad

Ejercicio 2

Observe la siguiente tabla:

PIB per cápita en relación con la media de la Unión Europea (2022)

<i>Países</i>	<i>PIB per cápita</i>	<i>Países</i>	<i>PIB per cápita</i>
Luxemburgo	256	República Checa	90
Irlanda	235	Lituania	89
Dinamarca	136	España	86
Países Bajos	130	Estonia	85
Austria	124	Polonia	79
Bélgica	120	Portugal	79
Suecia	119	Hungría	76
Alemania	117	Rumanía	76
Finlandia	110	Letonia	73
Malta	104	Croacia	73
Francia	100	Eslovaquia	71
Italia	97	Grecia	67
Chipre	94	Bulgaria	62
Eslovenia	90		

Media de la UE = 100

FUENTE: Datos extraídos de Eurostat [en línea].

1. A partir de los datos de la tabla, responda a las siguientes preguntas:

[1,5 puntos en total]

a) ¿Qué patrón geográfico se observa en los países con un PIB más elevado? ¿Y en los países con un PIB más bajo?

[0,5 puntos]

● Tu esfuerzo tiene recompensa. Estamos contigo.

Prueba gratis

b) Explique dos causas o factores que justifiquen las diferencias en el PIB entre los dos grupos de países.

[1 punto]



Si algo no entiendes, pregúntanos sin compromiso

623 769 002 · WhatsApp

2. La política regional de la Unión Europea (UE) ha puesto en funcionamiento varios programas y fondos económicos a lo largo de su historia.

[1 punto]

a) ¿Cuáles son los objetivos de la política regional europea?



Tú puedes. Y nosotros te ayudamos a demostrarlo.

selectividad.academy


b) Escoja uno de los programas o fondos económicos de la UE que conozca y explique cuáles son sus objetivos y a qué regiones va dirigido.

selectividad.academy

Ejercicio 3

Observe la siguiente figura:

El plano urbano



Plano A



Plano B

FUENTE: Adaptación de una figura publicada en la web <https://blogbuxaweb.com>.

1. Observe los dos tipos de plano urbano y responda a las siguientes preguntas:
[1,5 puntos en total]
 - a) Diga el nombre de los dos tipos de plano urbano representados en la figura y comente sus características fundamentales.
[1 punto]

b) Cite un ejemplo de ciudad para cada uno de los dos planos reproducidos en la figura.
[0,5 puntos]

2. Explique cómo han evolucionado las funciones de los ensanches urbanos desde sus orígenes hasta la actualidad.
[0,5 puntos]

3. ¿En qué consiste la segregación urbana? Cite algún ejemplo.
[0,5 puntos]

Ejercicio 4

Observe la siguiente tabla:

Población ocupada en la industria en Catalunya (3.º trimestre de 2023)

<i>Sector</i>	<i>Número de ocupados</i>	<i>Porcentaje sobre el total de ocupados industriales</i>
Maquinaria, material eléctrico y de transporte	203.200	32,04 %
Alimentación, textil, madera, papel y artes gráficas	201.000	31,69 %
Química y caucho	122.900	19,38 %
Metalurgia	73.100	11,53 %
Industrias extractivas, energía, agua y residuos	34.000	5,36 %
Total	634.200	100,00 %

FUENTE: Instituto de Estadística de Catalunya [en línea].

1. El sector textil fue el primer gran sector industrial de Catalunya hasta la crisis de los años setenta y comienzos de los ochenta del siglo pasado. Según los datos de la tabla, el sector textil ya no ocupa la primera posición de la industria en Catalunya. ¿Cuáles han sido las causas del declive del sector textil en Catalunya?

[1 punto]

selectividad.academy

2. Muchas industrias se localizan en polígonos industriales. ¿Qué es un polígono industrial?
¿Qué tipos de polígonos industriales existen?
[0,5 puntos]

3. Explique tres cambios por los que ha pasado el modelo industrial en Catalunya a causa de la globalización de la economía.

[1 punto]

selectividad.academy

Ejercicio 5

Lea el siguiente texto:

El turismo de cruceros

La consecuencia más visible e inmediata de la presencia de cruceros es la contaminación del aire que respiramos. En este sentido, no se entiende que en las ciudades se impulsen medidas más o menos efectivas para reducir la contaminación generada por el tráfico rodado y que, en cambio, se permita que circulen y atraquen cruceros, que emiten cantidades ingentes de gases como el SO₂ y el NO₂, altamente contaminantes y perjudiciales para la salud.

Además, la industria de los cruceros está en manos de unas pocas multinacionales que navegan bajo banderas y regulaciones de paraísos fiscales, lo que significa menos derechos laborales, peores salarios, regulaciones ambientales laxas y evasión fiscal. Asimismo, no hay que olvidar el papel destacado de la actividad de los cruceros en la propagación de graves enfermedades a escala global. A todo esto se suma, también, el impacto negativo en las ciudades y los pueblos por el incremento de la turistización.

FUENTE: Traducción y adaptación del manifiesto de la plataforma Stop Creuers [en línea].

1. A partir del texto, explique cuáles son los principales impactos, tanto positivos como negativos, del turismo de cruceros en Catalunya.

[1 punto]

selectividadacademy

2. Explique el fenómeno de la turistización de una localidad y ponga un ejemplo.

[0,5 puntos]

3. Explique brevemente las siguientes características del turismo en Catalunya:

[1 punto]

- las principales zonas turísticas y los atractivos que ofrecen;
- la procedencia y el tipo de turistas más numerosos;
- la importancia económica del turismo en la economía catalana;
- el impacto ambiental de la actividad turística.


selectividad.academy

selectividad.academy

--	--

--	--

Etiqueta de l'estudiant



Institut
d'Estudis
Catalans

L'Institut d'Estudis Catalans ha tingut cura de la correcció lingüística i de l'edició d'aquesta prova d'accés



Selectividad Academy

Tu academia de selectividad online

● Mejor academia online de selectividad

Prueba sin compromiso

Primera clase gratis. Sin permanencia. Sin letra pequeña.

- ✓ Profesores especialistas en cada asignatura
- ✓ Clases adaptadas a tu nivel y tus objetivos
- ✓ Todos los exámenes oficiales resueltos paso a paso
- ✓ Calculadora de nota y guía completa en la web

623 769 002

Escríbenos por WhatsApp

www.selectividad.academy

→ Calcula tu nota en selectividad.academy/calculadora-selectividad

→ Guía completa en selectividad.academy/guia-selectividad

→ ¿Tienes dudas? Escríbenos sin compromiso