

El examen consta de CUATRO ejercicios obligatorios. Cada ejercicio vale 2,5 puntos. Responda a TODAS las cuestiones que se plantean.

Las respuestas deben ser claras y deben estar redactadas de forma coherente y cohesionada, con corrección gramatical, léxica y ortográfica.

## Ejercicio 1

Observe la siguiente tabla:

*Reparto de los fondos regionales de la Unión Europea (1989-2020)*

<i>Región</i>	<i>Estado</i>	<i>Total recibido (millones de euros)</i>
Andalucía	España	35.365
Norte	Portugal	26.203
Centro	Portugal	18.263
Campania	Italia	18.094
Sicilia	Italia	17.700
Mazovia	Polonia	16.092
Galicia	España	15.089
Ática	Grecia	13.412
Castilla y León	España	13.151
Apulia	Italia	13.090
País Valencià	España	12.660
Letonia	Letonia	12.594
Castilla-la Mancha	España	11.177
Silesia	Polonia	10.961

FUENTE: Datos extraídos de *El Orden Mundial* [en línea] (5 noviembre 2020).

1.1. La Unión Europea (UE) es una de las zonas más ricas del mundo, pero existen diferencias económicas y sociales entre los estados y entre las regiones de estos estados. En una de las evaluaciones periódicas sobre las inversiones realizadas por territorios le piden que, como especialista en la materia, responda a las siguientes cuestiones teniendo en cuenta los datos de la tabla.

a) Explique qué son las políticas regionales de la UE y qué ámbitos de actuación incluyen (mencione, como mínimo, dos).

[0,75 puntos]



**Geografía: mapas, gráficos y desarrollo bien organizados.**

selectividad.academy - 623 769 002

- b)** Enumere, como mínimo, cinco de las regiones que han recibido más ayudas de estos fondos regionales y explique los motivos teniendo en cuenta la distribución territorial que se deduce de la tabla.  
[0,75 puntos]



**Guía completa en [selectividad.academy/guia-selectividad](https://selectividad.academy/guia-selectividad)**  
Todo sobre la selectividad

- 1.2.** Actualmente existen ocho países que son candidatos a ingresar en la UE o están en proceso de negociación para adherirse a este organismo.
- a)** Exponga tres requisitos que debe cumplir un país candidato a ingresar en la UE.  
[0,6 puntos]

b) Mencione cuatro países candidatos o que están en proceso de negociación para adherirse a la UE.

[0,4 puntos]

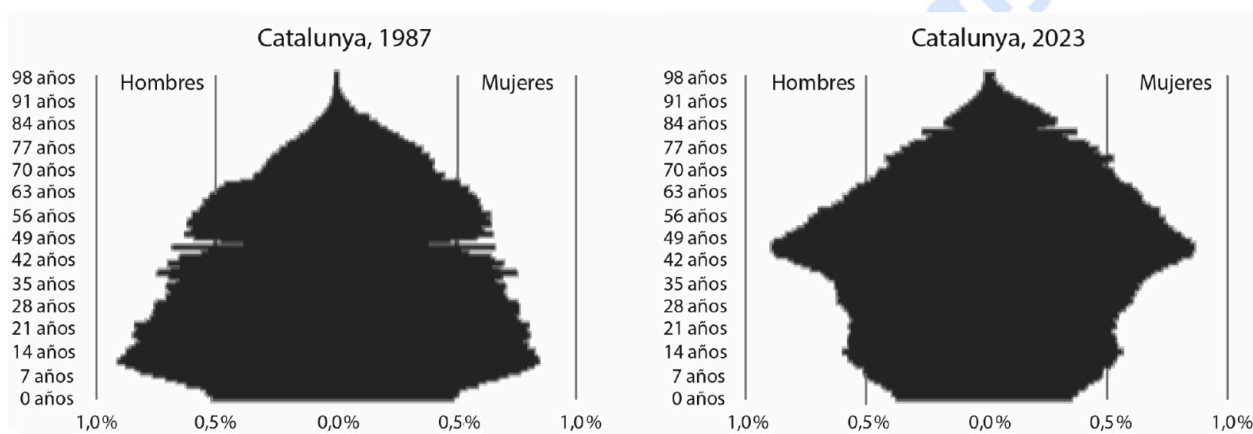
● Tu esfuerzo tiene recompensa. Estamos contigo.

Prueba gratis

## Ejercicio 2

Observe las dos siguientes pirámides de población:

*Pirámides de población de Catalunya (1987 y 2023)*



FUENTE: Instituto de Estadística de Catalunya [en línea].

Catalunya alcanzó los ocho millones de habitantes a finales del año 2023, dos millones más que los que había en 1987. Como persona entendida en dinámicas demográficas, le piden que responda a las cuestiones siguientes relacionadas con la estructura de las pirámides por sexo y edad, el crecimiento poblacional y la esperanza de vida.

2.1. a) Indique, como mínimo, tres cambios que se observan en la estructura por edades y la población de cada sexo.

[0,75 puntos]

b) Exponga cuáles son los factores que explican el crecimiento de la población catalana entre 1987 y 2023.

[1 punto]



**Si algo no entiendes, pregúntanos sin compromiso**

623 769 002 · WhatsApp

2.2. La esperanza de vida en Catalunya entre 1987 y 2023 ha pasado de los 77,2 a los 83,6 años. Cite tres motivos que expliquen este crecimiento de la esperanza de vida.

[0,75 puntos]

### Ejercicio 3

Lea el siguiente texto:

#### Defectos de la globalización

Hace tiempo que hemos entrado en una época de globalización. Las materias primas y los productos acabados tienen el mundo como mercado y cada uno puede buscar el producto que más le interese y a mejor precio. Pero esta globalización tiene problemas cuando existe un enfrentamiento entre potencias en que una dispone de productos que no tiene la otra. Lo estamos viendo en la guerra entre Ucrania y Rusia. Quienes sufren son los miembros de la OTAN, donde hay aliados de Ucrania, porque no tienen gas suficiente, ya que se lo proporciona Rusia.

En España, el gobierno ha decidido construir una fábrica de microchips para evitar el problema que le ha creado China cortando su producción. La globalización, por tanto, tiene sus defectos.

Otro déficit es el hecho de que algunos minerales o materias primas están en países pobres y no desarrollados, y quienes viven allí no tienen el capital necesario para explotarlos por su cuenta. Entonces son las grandes compañías extranjeras las que se hacen cargo de esa explotación y dejan las migajas en forma de salarios bajos a los trabajadores y los propietarios de los terrenos. Es una de tantas cosas que deberían evitarse, y, seguramente, la ONU tendría que controlarlo.

Los problemas que conlleva la globalización pueden resolverse, pero tienen el inconveniente de que el precio de los productos se encarece para los compradores. Estados Unidos venderá ahora gas licuado a Europa y seguramente los compradores se encontrarán con un gas igual de bueno pero más caro que el que compraban a los rusos.

FUENTE: Traducción y adaptación realizadas a partir del texto de Francesc CABANA. «Defectes de la globalització». *El Punt Avui* [en línea] (12 abril 2022).

**3.1.** El debate sobre la globalización genera opiniones muy opuestas. A partir del texto propuesto, exponga dos aspectos positivos de la globalización y dos negativos.

[1 punto]



**Tú puedes. Y nosotros te ayudamos a demostrarlo.**

selectividad.academy

- 3.2.** Razone cómo el decrecimiento económico podría reducir los efectos negativos de la globalización. Cite, como mínimo, tres acciones que contribuyan a este decrecimiento.  
[0,75 puntos]

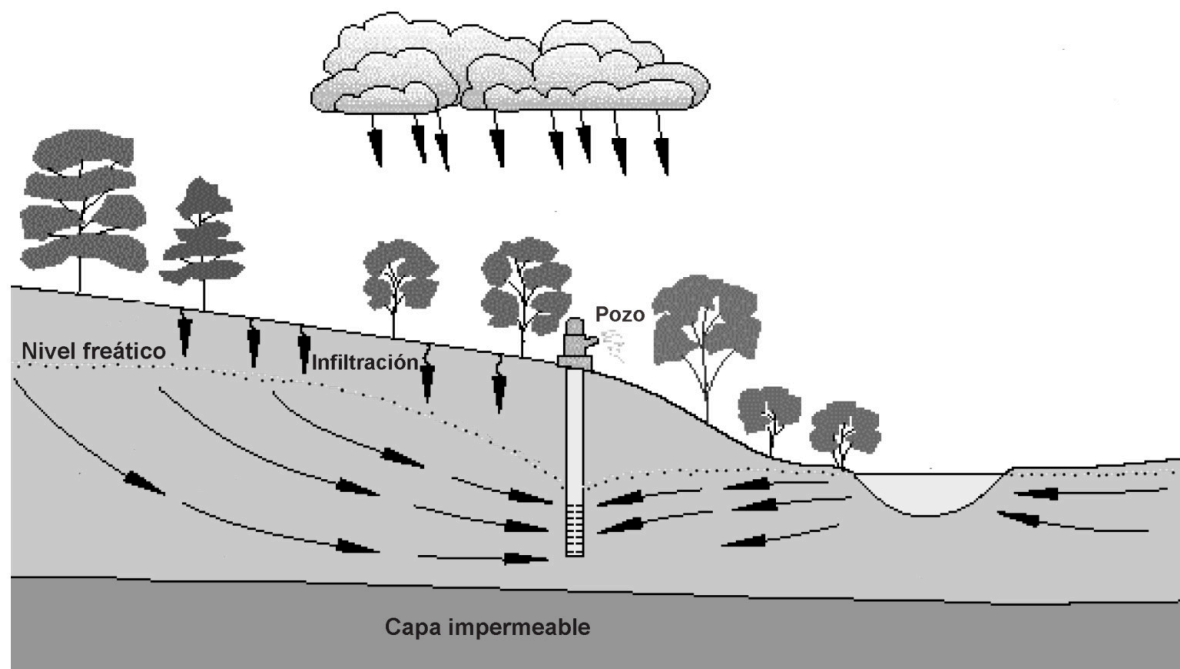
- 3.3.** Justifique si la siguiente afirmación es verdadera o falsa: «Los intercambios entre los países ricos y los países pobres suelen ser intercambios desiguales».  
[0,75 puntos]

selectividad.academy

## Ejercicio 4

Observe la siguiente imagen:

*Las aguas subterráneas*



FUENTE: Adaptado de la Agencia Catalana del Agua.

- 4.1. En la gestión del agua no se valora suficientemente la función de los acuíferos. Diga qué es un acuífero y cómo funciona.  
[0,5 puntos]

selectividad

- 4.2. Explique tres problemáticas ambientales que afectan a los acuíferos.  
[1 punto]

selectividad.academy

- 4.3. La sequía que ha sufrido Catalunya estos últimos años ha afectado mucho a los acuíferos y ha provocado que la reserva de agua que contienen disminuya. Explique dos medidas que contribuyan a la sostenibilidad de los acuíferos.

[1 punto]

selectividad.academy

[Puede utilizar esta página para acabar de responder a algún ejercicio.]


selectividad.academy

Comprovació:

2a correcció:

3a correcció:

Etiqueta de l'estudiant



Institut  
d'Estudis  
Catalans

L'Institut d'Estudis Catalans ha tingut cura de la correcció lingüística i de l'edició d'aquesta prova d'accés



# Selectividad Academy

Tu academia de selectividad online

● Mejor academia online de selectividad

## Prueba sin compromiso

Primera clase gratis. Sin permanencia. Sin letra pequeña.

- ✓ Profesores especialistas en cada asignatura
- ✓ Clases adaptadas a tu nivel y tus objetivos
- ✓ Todos los exámenes oficiales resueltos paso a paso
- ✓ Calculadora de nota y guía completa en la web

**623 769 002**

Escríbenos por WhatsApp

[www.selectividad.academy](http://www.selectividad.academy)

→ Calcula tu nota en [selectividad.academy/calculadora-selectividad](http://selectividad.academy/calculadora-selectividad)

→ Guía completa en [selectividad.academy/guia-selectividad](http://selectividad.academy/guia-selectividad)

→ ¿Tienes dudas? Escríbenos sin compromiso