

O exame consta de 4 preguntas de resposta obrigatoria, puntuadas cada unha con 2,5 puntos. A primeira sen apartados optativos. As outras tres cun primeiro apartado de resposta única e un segundo apartado con posibilidade de elección.

**PREGUNTA 1. INMUNOLOXÍA. BIOTECNOLOXÍA. (2,5 puntos).**

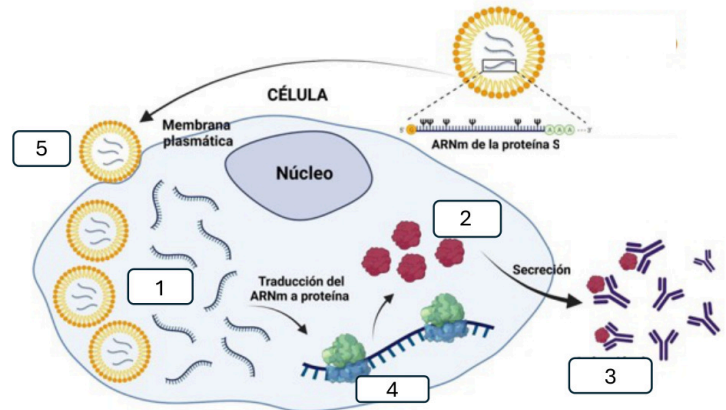
**TEXTO: A ciencia do ARNm, vacinas COVID-19 e Premio Nobel de Medicina 2023**

O Premio Nobel de Medicina 2023 recaeu en Katalin Karikó e Drew Weissman polos seus descubrimentos sobre o ARN, clave do éxito sen precedentes das vacinas ARNm contra a COVID-19.

Nas vacinas “tradicionais”, as proteínas (ou fragmentos delas) dos virus ou bacterias infecciosas actúan como antíxenos, provocando a resposta do sistema inmunitario. O organismo recorda esta resposta e é capaz de combater eficazmente o patóxeno en futuras infeccións. A xenial e sinxela idea de Katalin Karikó e Drew Weissmann foi utilizar ARNm, no canto de proteínas recombinantes, patóxenos atenuados (non infecciosos), ou fragmentos de patóxenos, para producir a resposta inmunitaria.

Non obstante, o ARNm é moi inestable, polo que é necesario protexelo, dotándoo dun vehículo que o encapsula e transporta ata as células trala súa inxección no organismo. Para isto usáronse nanopartículas lipídicas, unhas pequenas vesículas con distintos tipos de lípidos que forman unha membrana pechada, capaz de albergar o ARNm no seu interior e de libéralo unha vez dentro da célula.

*Adaptado de: Ciencia para todos. Sociedad Española de Bioquímica y Biología Molecular*



- 1.1. Indique, a partir da información do texto, tres tipos de vacinas, aparte das baseadas en ARNm.
- 1.2. Que moléculas son as indicadas cos números 1, 2 e 3 da figura? Cal é o nome do orgánulo sinalado co número 4? Que son as estruturas sinaladas co número 5?
- 1.3. Describa, brevemente, a estrutura e función da molécula representada co número 3 na figura. Na descrición deben figurar os termos: antíxeno(s), célula(s) plasmática(s), epítopo(s), inmunoglobulina(s) e parátopo(s).
- 1.4. No texto menciónase que se utilizan pequenas vesículas lipídicas para facilitar a entrada do ARNm no interior da célula. Explique, brevemente, este mecanismo de transporte.
- 1.5. Algúns virus, como o da gripe, teñen unha alta taxa de mutacións, o que fai que, moitas veces, as vacinas dun ano non sexan eficaces ao seguinte. Como pode facilitar a utilización de ARNm a creación de vacinas novas, adaptadas ás mutacións producidas?

**PREGUNTA 2. A BASE MOLECULAR DA MATERIA VIVA. METABOLISMO CELULAR. (2,5 puntos).**

2.1. A hidroxenación das graxas é un dos procesos habituais na industria alimentaria. A) Como afecta a hidroxenación das graxas á estrutura química dos seus ácidos graxos? B) Que ocorre co punto de fusión dun aceite tras sometelo a un proceso de hidroxenación? C) Un gran número alimentos procesados conteñen graxas hidroxenadas, moitas delas de tipo trans. Considera saudable o consumo deste tipo de alimentos? Explique, brevemente, a resposta. (1 punto).

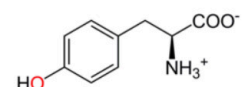
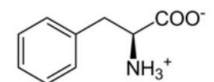
2.2. Responda un dos dous apartados seguintes. (1,5 puntos).

2.2.1. A fenilcetonuria é unha afección pouco frecuente na cal un bebé nace sen a capacidade de descompoñer apropiadamente a fenilalanina, xa que carece da encima fenilalanina hidroxilase (PHA), que transforma a fenilalanina en tirosina.

A) Tanto a fenilalanina como a tirosina son aminoácidos, cuxas fórmulas estruturais están representadas na figura. Copie as fórmulas no seu exame, e indique cal corresponde a cada un deles. Razoe a resposta.

B) Sinala na fórmula cales son os grupos funcionais que permiten recoñecer que se trata de aminoácidos e indique o nome deses grupos.

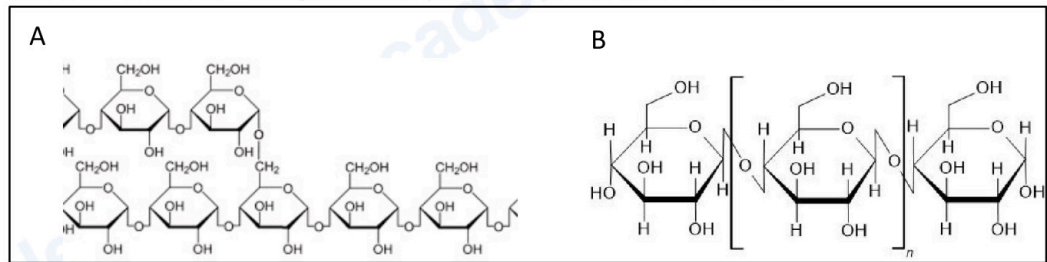
C) A que tipo de biomoléculas pertencen a maior parte dos encimas? Sinala catro propiedades que posúan as encimas.



2.2.2. A) Identifique as moléculas marcadas como A e B na figura, e indique a súa función nos seres vivos.

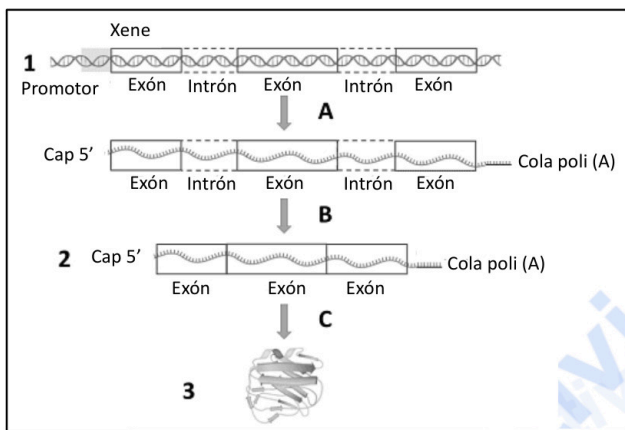
B) Como se chaman os enlaces que unen os monómeros da figura B? Son enlaces monocarbonílicos ou dicarbonílicos? Explique a resposta.

D) Explique por que os seres humanos non poden utilizar a molécula B como fonte de enerxía.



**PREGUNTA 3. A CÉLULA. XENÉTICA MOLECULAR. (2,5 puntos).**

3.1. Temos dúas moléculas de ADN (I e II) de dobre cadea e da mesma lonxitude. Sometemos ambas a altas temperaturas e observamos que o ADN I se desnaturaliza antes ca o ADN II. Cal das dúas moléculas de ADN terá maior cantidade de guanina? Razoe a resposta. (1 punto).



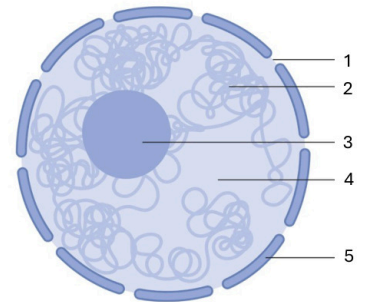
3.2. Responda un dos dous apartados seguintes. (1,5 puntos).

3.2.1. A) Que proceso está representado na figura? Explique as diferenzas máis salientables deste proceso entre as células procariotas e as eucariotas.

B) Identifique as moléculas 1, 2 e 3. Que partes do proceso están indicadas coas letras A, B e C?

3.2.2. A) Identifique as estruturas marcadas con números na figura.

B) Se destruímos mediante un composto tóxico a estrutura nº 3, a célula sobrevive unhas horas, pero acaba por morrer. Indique a relación que hai entre este retraso e a función desa estrutura.



**PREGUNTA 4. A CÉLULA. METABOLISMO CELULAR. (2,5 puntos).**

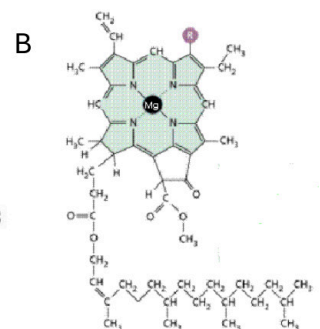
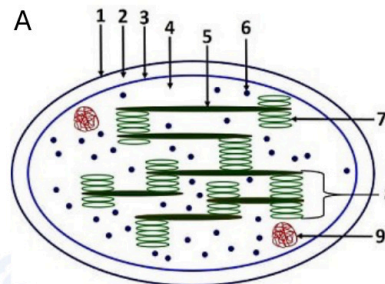
4.1. Indique unha función de cada un dos seguintes orgánulos ou estruturas: aparato de Golgi, centrosoma, cloroplasto, lisosoma, mitocondria, nucléolo, peroxisoma, retículo endoplasmático liso, ribosoma e vacúolo. (1 punto).

4.2. Responda un dos dous apartados seguintes. (1,5 puntos).

4.2.1. A) Identifique o orgánulo representado na figura e indique o nome das estruturas sinaladas cos números 1-9.

B) Que proceso, de gran importancia biolóxica, ten lugar nese orgánulo?

C) Identifique a molécula marcada como B na figura e indique en que parte do orgánulo se localiza. Cal é a súa función?

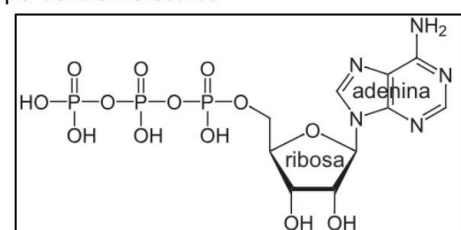


4.2.2. A) Identifique o composto representado na figura e indique a que tipo de biomoléculas pertence. Cal é o seu papel no metabolismo celular?

B) Indique o nome de dúas rutas do catabolismo da glicosa nas que se xere ese composto.

C) Cal é o nome da ruta da fotosíntese na que se consome ese composto?

D) Indique cal pode ser a procedencia do acetil-CoA que ingresa no ciclo de Krebs. En que parte da mitocondria ten lugar este ciclo?



El examen consta de **4 preguntas de respuesta obligatoria, puntuadas cada una con 2,5 puntos**. La primera sin apartados optativos. Las otras tres con un primer apartado de respuesta única y un segundo apartado con posibilidad de elección.

**PREGUNTA 1. INMUNOLOGÍA. BIOTECNOLOGÍA. (2,5 puntos).**

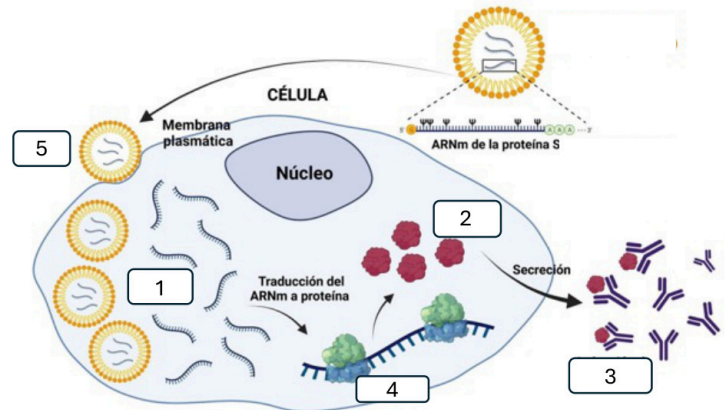
**TEXTO: La ciencia del ARNm, vacunas COVID-19 y Premio Nobel de Medicina 2023**

El Premio Nobel de Medicina 2023 recayó en Katalin Karikó y Drew Weissman por sus descubrimientos sobre el ARN, clave del éxito sin precedentes de las vacunas ARNm contra la COVID-19.

En las vacunas “tradicionales”, las proteínas (o fragmentos de ellas) de los virus o bacterias infecciosas, actúan como antígenos, provocando la respuesta del sistema inmunitario. El organismo recuerda esta respuesta y es capaz de combatir eficazmente el patógeno en futuras infecciones. La genial y sencilla idea de Katalin Karikó y Drew Weissman fue utilizar ARNm, en lugar de proteínas recombinantes, patógenos atenuados (no infecciosos) o fragmentos de patógenos, para producir la respuesta inmunitaria.

Sin embargo, el ARNm es muy inestable, por lo que es necesario protegerlo, dotándolo de un vehículo que lo encapsula y transporta hasta las células tras su inyección en el organismo. Para esto se usaron nanopartículas lipídicas, unas pequeñas vesículas con distintos tipos de lípidos que forman una membrana cerrada, capaz de albergar el ARNm en su interior y de liberarlo una vez dentro de la célula.

*Adaptado de: Ciencia para todos. Sociedad Española de Bioquímica y Biología Molecular.*



- 1.1. Indique, a partir de la información del texto, tres tipos de vacunas, aparte de las basadas en ARNm.
- 1.2. ¿Qué moléculas son las indicadas con los números 1, 2 y 3 de la figura? ¿Cuál es el nombre del orgánulo señalado con el número 4? ¿Qué son las estructuras señaladas con el número 5?
- 1.3. Describa, brevemente, la estructura y función de la molécula representada con el número 3 en la figura. En la descripción deben figurar los términos: antígeno(s), célula(s) plasmática(s), epitopo(s), inmunoglobulina(s) y paratopo(s).
- 1.4. En el texto se menciona que se utilizan pequeñas vesículas lipídicas para facilitar la entrada del ARNm en el interior de la célula. Explique, brevemente, este mecanismo de transporte.
- 1.5. Algunos virus, como el de la gripe, tienen una alta tasa de mutaciones, lo que hace que, muchas veces, las vacunas de un año no sean eficaces el siguiente ¿Cómo puede facilitar la utilización de ARNm la creación de vacunas nuevas, adaptadas a las mutaciones producidas?

**PREGUNTA 2. LA BASE MOLECULAR DE LA MATERIA VIVA. METABOLISMO CELULAR. (2,5 puntos).**

2.1. La hidrogenación de las grasas es uno de los procesos habituales en la industria alimentaria. A) ¿Cómo afecta la hidrogenación de las grasas a la estructura química de sus ácidos grasos? B) ¿Qué ocurre con el punto de fusión de un aceite tras someterlo a un proceso de hidrogenación? C) Un gran número de alimentos procesados contienen grasas hidrogenadas, muchas de ellas de tipo trans ¿Considera saludable el consumo de este tipo de alimentos? Explique, brevemente, la respuesta. **(1 punto).**

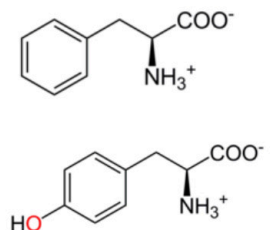
2.2. Responda uno de los dos apartados siguientes. **(1,5 puntos).**

2.2.1. La fenilcetonuria es una afección poco frecuente en la cual un bebé nace sin la capacidad de descomponer apropiadamente la fenilalanina, ya que carece de la enzima fenilalanina hidroxilasa (PHA), que transforma la fenilalanina en tirosina.

A) Tanto la fenilalanina como la tirosina son aminoácidos, cuyas fórmulas estructurales están representadas en la figura. Copie las fórmulas en su examen e indique cuál corresponde a cada uno de ellos. Razone la respuesta.

B) Señale en la fórmula cuáles son los grupos funcionales que permiten reconocer que se trata de aminoácidos, e indique el nombre de esos grupos.

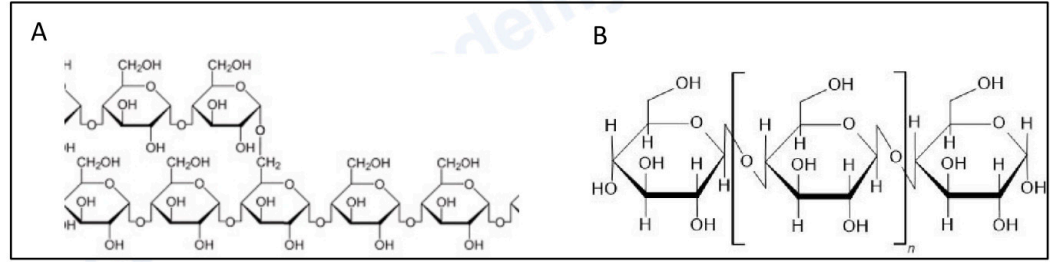
C) ¿A qué tipo de biomoléculas pertenecen la mayor parte de los encimas? Señale cuatro propiedades que posean los encimas.



2.2.2. A) Identifique las moléculas marcadas como A y B en la figura, e indique su función en los seres vivos.

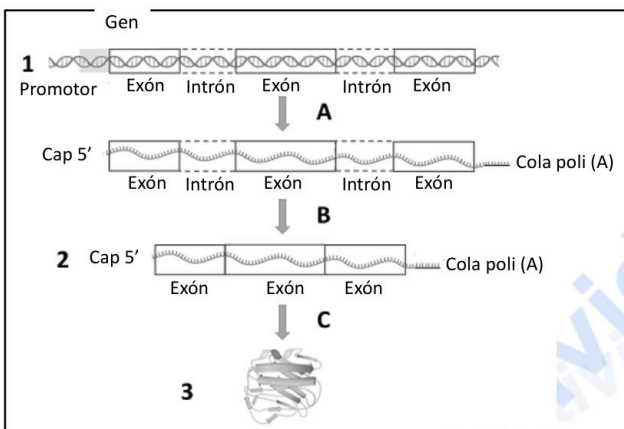
B) ¿Cómo se llaman los enlaces que unen los monómeros de la figura B? ¿Son enlaces monocarbonílicos o dicarbonílicos? Explique la respuesta.

D) Explique por qué los seres humanos no pueden utilizar la molécula B como fuente de energía.



**PREGUNTA 3. LA CÉLULA. GENÉTICA MOLECULAR. (2,5 puntos).**

3.1. Tenemos dos moléculas de ADN (I y II) de doble cadena y de la misma longitud. Sometemos a ambas a altas temperaturas y observamos que el ADN I se desnaturaliza antes que el ADN II ¿Cuál de las dos moléculas de ADN tendrá mayor cantidad de guanina? Razone la respuesta. (1 punto).



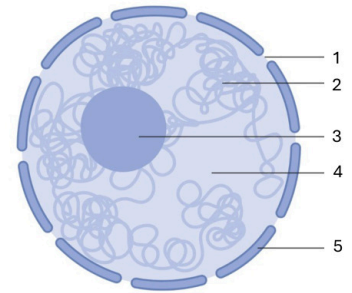
3.2. Responda uno de los dos apartados siguientes. (1,5 puntos).

3.2.1. A) ¿Qué proceso está representado en la figura? Explique las diferencias más destacables de este proceso entre las células procariotas y las eucariotas.

B) Identifique las moléculas 1, 2 y 3 ¿Qué partes del proceso están indicadas con las letras A, B y C?

3.2.2. A) Identifique las estructuras marcadas con números en la figura.

B) Si destruimos mediante un compuesto tóxico la estructura nº 3, la célula sobrevive unas horas, pero acaba por morir. Indique la relación que hay entre este retraso y la función de esa estructura.



**PREGUNTA 4. LA CÉLULA. METABOLISMO CELULAR. (2,5 puntos).**

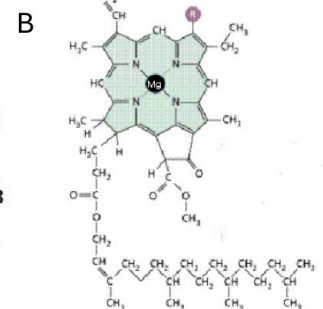
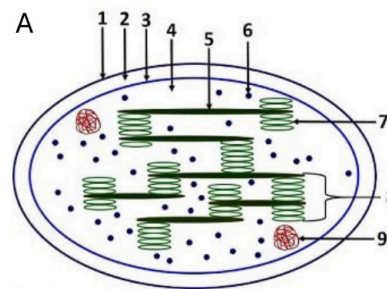
4.1. Indique una función de cada uno de los siguientes orgánulos o estructuras: aparato de Golgi, centrosoma, cloroplasto, lisosoma, mitocondria, nucleolo, peroxisoma, retículo endoplasmático liso, ribosoma y vacuola. (1 punto).

4.2. Responda uno de los dos apartados siguientes. (1,5 puntos).

4.2.1. A) Identifique el orgánulo representado en la figura e indique el nombre de las estructuras señaladas con los números 1-9.

B) ¿Qué proceso, de gran importancia biológica, tiene lugar en ese orgánulo?

C) Identifique la molécula marcada como B en la figura e indique en qué parte del orgánulo se localiza ¿Cuál es su función?

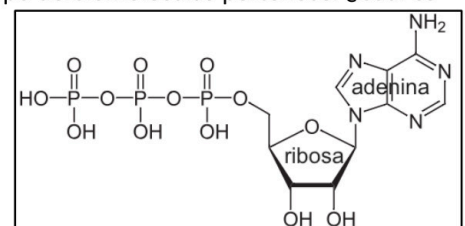


4.2.2. A) Identifique el compuesto representado en la figura e indique a qué tipo de biomoléculas pertenece. ¿Cuál es su papel en el metabolismo celular?

B) Indique el nombre de dos rutas del catabolismo de la glucosa en las que se genere ese compuesto.

C) ¿Cuál es el nombre de la ruta de la fotosíntesis en la que se consume ese compuesto?

D) Indique cuál puede ser la procedencia del acetil-CoA que ingresa en el ciclo de Krebs ¿En qué parte de la mitocondria tiene lugar este ciclo?





# Selectividad Academy

Tu academia de selectividad online

● Mejor academia online de selectividad

## Prueba sin compromiso

Primera clase gratis. Sin permanencia. Sin letra pequeña.

- ✓ Profesores especialistas en cada asignatura
- ✓ Clases adaptadas a tu nivel y tus objetivos
- ✓ Todos los exámenes oficiales resueltos paso a paso
- ✓ Calculadora de nota y guía completa en la web

**623 769 002**

Escríbenos por WhatsApp

[www.selectividad.academy](http://www.selectividad.academy)

→ Calcula tu nota en [selectividad.academy/calculadora-selectividad](http://selectividad.academy/calculadora-selectividad)

→ Guía completa en [selectividad.academy/guia-selectividad](http://selectividad.academy/guia-selectividad)

→ ¿Tienes dudas? Escríbenos sin compromiso

Exámenes oficiales de selectividad recopilados por Selectividad Academy



# Selectividad Academy

Tu academia de selectividad online

● Mejor academia online de selectividad

## Prueba sin compromiso

Primera clase gratis. Sin permanencia. Sin letra pequeña.

- ✓ Profesores especialistas en cada asignatura
- ✓ Clases adaptadas a tu nivel y tus objetivos
- ✓ Todos los exámenes oficiales resueltos paso a paso
- ✓ Calculadora de nota y guía completa en la web

**623 769 002**

Escríbenos por WhatsApp

[www.selectividad.academy](http://www.selectividad.academy)

→ Calcula tu nota en [selectividad.academy/calculadora-selectividad](http://selectividad.academy/calculadora-selectividad)

→ Guía completa en [selectividad.academy/guia-selectividad](http://selectividad.academy/guia-selectividad)

→ ¿Tienes dudas? Escríbenos sin compromiso