

O exame consta de 4 preguntas de 2,5 puntos: a primeira de resposta única e as tres seguintes con posibilidade de elección entre apartados.

PREGUNTA 1. A SUSTENTABILIDADE DO MEDIO FÍSICO EN ESPAÑA. (2,5 puntos)

Analice o seguinte texto:

"Máis de dous terzos de España sofren **falta de choivas e altas temperaturas** a lombos dunha imparable **crise climática** que a velocidade endiañada está a poñer o planeta patas arriba. Pola súa culpa, **entre o 75 e 80% do territorio español atópase en risco de desertificación**. Sobreexplotando acuíferos, degradando terras, queimando bosques, estamos a favorecer o avance de feos territorios desérticos, ecoloxicamente moi pobres, ambientalmente baleiros. Haberá que ir acostumándose a estas paisaxes tan secas. Bardenas é o deserto máis grande de Europa, case nada. Con 45 km de lonxitude e 24 de anchura, son máis de 40.000 hectáreas de secarraís que se estenden polos vales do Ebro e do Aragón, entre Tudela e Ejea de los Caballeros".

(César J.Palacios Palomar: *Cata de paisajes por España*. Ed. Anaya Touring, 2024).



Figura 1: Bardenas Reales (Navarra)
Fonte: turismobardenas.com

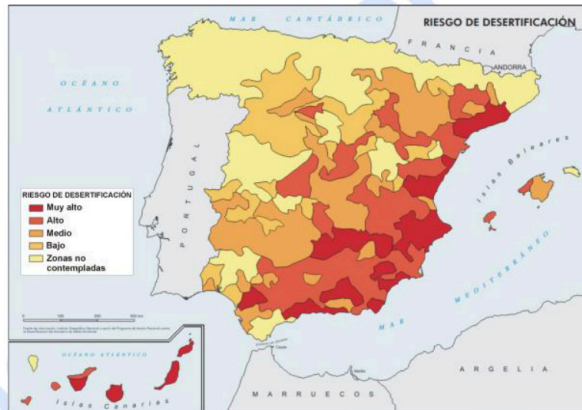


Figura 2: Mapa de risco de desertificación en España
Fonte: IGN

A actividade humana está facendo que **grandes zonas do planeta se degraden a un ritmo acelerado**, e corran o **risco de converterse en novos desertos onde antes había vexetación**. España é un dos exemplos máis preocupantes no mundo. Segundo os programas de Accións Nacionais da Convención das Nacións Unidas de Loita contra a Desertificación, **preto do 74% de España está en risco de desertificación e o 18% en alto risco de converterse nun deserto de forma irreversible**. Aínda así, **hai paisaxes naturais que teñen unha semellanza con espazos desérticos**. A partir do texto e das figuras 1 e 2, **redacte un informe para explicar a paisaxe natural que se presenta na imaxe, xunto coas formas de modelado e clima propios dese espazo; inclúa tamén as áreas da Península Ibérica con maior risco de desertificación e os motivos deste; pode aludir aos riscos derivados do cambio climático global en España, país con forte risco de desertificación. Tente adaptarse a unha lonxitude aproximada de 300 palabras. (2,5 puntos)**

PREGUNTA 2. SECTOR TERCIARIO. OS ESPAZOS TERCIARIZADOS. (2,5 puntos)

Observe o mapa e a imaxe e responda un destes dous apartados:



Figura 3: Aloxamentos de turismo rural
Fonte: elaboración propia



Figura 4: Casa de turismo rural
Fonte: <http://calidadrural.com>

2.1. Identifique a actividade económica representada na figura 4. Sinala cinco provincias cunha ocupación entre 66.000 e 94.000. Indique as características desta actividade. Comente as repercusións na paisaxe e na economía. (2,5 puntos).

2.2 Explique a importancia do turismo en España, os tipos existentes e as problemáticas actuais. (2,5 puntos).

PREGUNTA 3. ESPAÑA EN EUROPA. (2,5 puntos)

Observe a figura 5 e responda un destes dous apartados:

3.1. A partir da Figura 5, identifique o tipo de documento e a fonte; as áreas de maior densidade demográfica da UE en 2021 (despois do Brexit) e explique as causas que a xustifican; explique as diferenzas principais de densidade de poboación en España e as súas causas. (2,5 puntos).

3.2. Comente a importancia e impacto da inmigración en España en tempos recentes. (2,5 puntos).

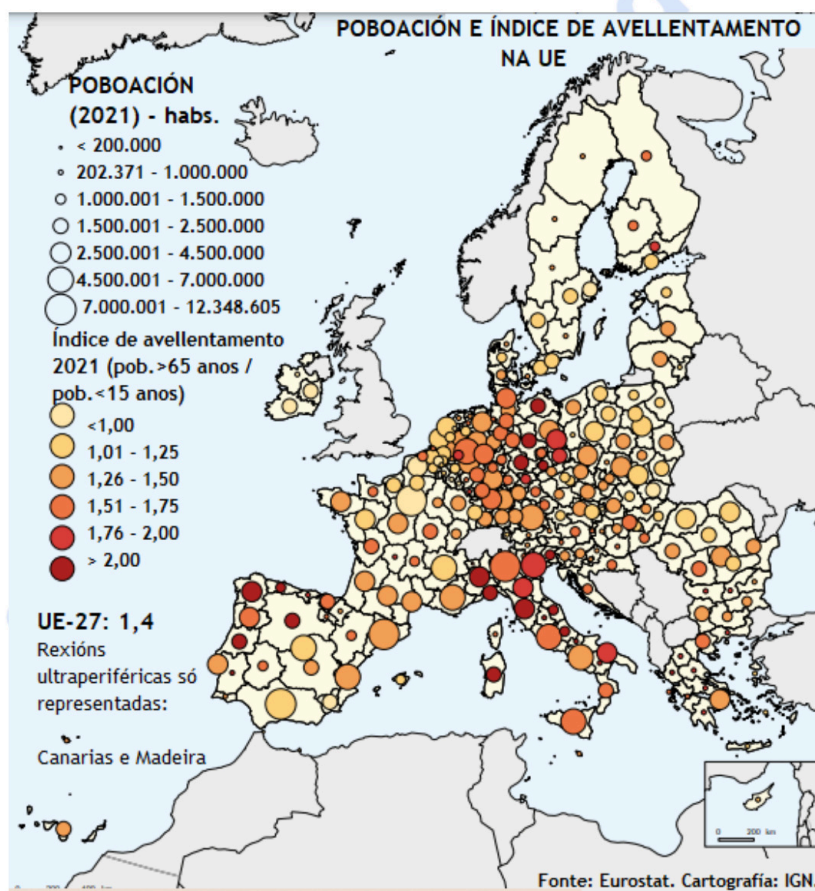


Figura 5

PREGUNTA 4. VOCABULARIO XEOGRÁFICO ESPECÍFICO. (2,5 puntos)

Defina cinco dos dez conceptos resaltados no seguinte texto. Pode achegar, se procede, un exemplo significativo da España actual. (0,5 puntos por concepto)

As **Comunidades Autónomas** empregaron os **fondos estruturais** europeos para impulsar o desenvolvemento económico e reducir a **fenda dixital**. Na España interior, en especial en amplas zonas da **meseta**, a **poboación activa** enfrenta desafíos moi importantes debido ao **inverno demográfico**. Para tentar mitigalos inténtase potenciar a economía local vencellada ao medio rural tralos procesos de **deslocalización industrial**, incentivando **denominacións de orixe**, explotacións agrogandeiras e desenvolvendo a **silvicultura** (alí onde a **aridez** o permite), converténdose en actividades clave para a sustentabilidade económica e social (Fonte: Grupo de Trabajo Xeografía CIUG. 2025).

El examen consta de 4 preguntas de 2,5 puntos: la primera de respuesta única y las tres siguientes con posibilidad de elección entre apartados.

PREGUNTA 1. LA SOSTENIBILIDAD DEL MEDIO FÍSICO EN ESPAÑA. (2,5 puntos)

Analice el siguiente texto:

"Más de dos tercios de España sufren **falta de lluvias y altas temperaturas** a lomos de una imparable **crisis climática** que a velocidad endiablada está poniendo el planeta patas arriba. Por su culpa, **entre el 75 y el 80% del territorio español se encuentra en riesgo de desertificación**. Sobreexplotando acuíferos, degradando tierras, quemando bosques, estamos favoreciendo el avance de feos territorios desérticos, ecológicamente muy pobres, ambientalmente vacíos. Habrá que ir acostumbrándose a estos paisajes tan secos. Bardenas es el desierto más grande de Europa, casi nada. Con 45 km de longitud y 24 de anchura, son más de 40.000 hectáreas de secarrales que se extienden por los valles del Ebro y del Aragón, entre Tudela y Ejea de los Caballeros".

(César J.Palacios Palomar: *Cata de paisajes por España*. Ed. Anaya Touring, 2024).



Figura 1: Bardenas Reales (Navarra)
 Fuente: turismobardenas.com

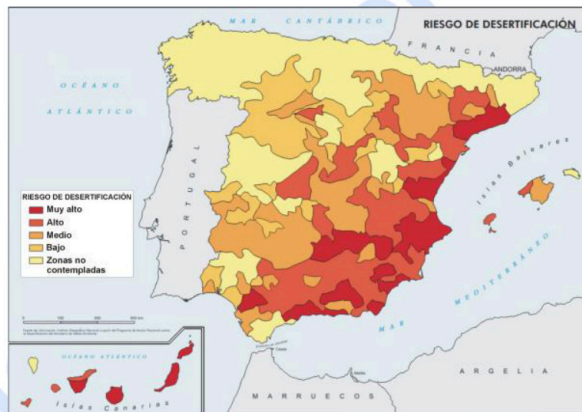


Figura 2: Mapa de riesgo de desertificación en España
 Fuente: IGN

La actividad humana está haciendo que **grandes zonas del planeta se degraden a un ritmo acelerado**, y corran el **riesgo de convertirse en nuevos desiertos donde antes había vegetación**. España es uno de los ejemplos más preocupantes en el mundo. Según los programas de Acciones Nacionales de la Convención de las Naciones Unidas de Lucha contra la Desertificación, **cerca del 74% de España está en riesgo de desertificación y el 18% en alto riesgo de convertirse en un desierto de forma irreversible**. Aun así, **hay paisajes naturales que tienen una semejanza con espacios desérticos**. A partir del texto y de las figuras 1 y 2, **redacte un informe para explicar el paisaje natural que se presenta en la imagen, junto con las formas de modelado y clima propios de ese espacio: incluya también las áreas de la Península Ibérica con mayor riesgo de desertificación y los motivos de este; puede aludir a los riesgos derivados del cambio climático global en España, país con fuerte riesgo de desertificación**. Intente adaptarse a una longitud aproximada de 300 palabras. (2,5 puntos)

PREGUNTA 2. SECTOR TERCIARIO. LOS ESPACIOS TERCIARIZADOS. (2,5 puntos)

Observe el mapa y la imagen y responda uno de estos dos apartados:



Figura 3: Alojamientos de turismo rural
 Fuente: elaboración propia



Figura 4: Casa de turismo rural
 Fuente: <http://calidadrural.com>

2.1. Identifique la actividad económica representada en la figura 4. Señale cinco provincias con ocupación entre 66.000 y 94.000. Indique las características de esta actividad. Comente las repercusiones en el paisaje y en la economía. (2,5 puntos).

2.2. Explique la importancia del turismo en España, los tipos existentes y las problemáticas actuales. (2,5 puntos).

PREGUNTA 3. ESPAÑA EN EUROPA. (2,5 puntos)

Observe la figura 5 y responda uno de estos dos apartados:

3.1. A partir de la figura 5, identifique el tipo de documento y la fuente; las áreas de mayor densidad demográfica de la UE en 2021 (después del Brexit) y explique las causas que justifican la misma; explique las diferencias principales de densidad de población en España y sus causas. (2,5 puntos).

3.2. Comente la importancia e impacto de la inmigración en España en tiempos recientes. (2,5 puntos).

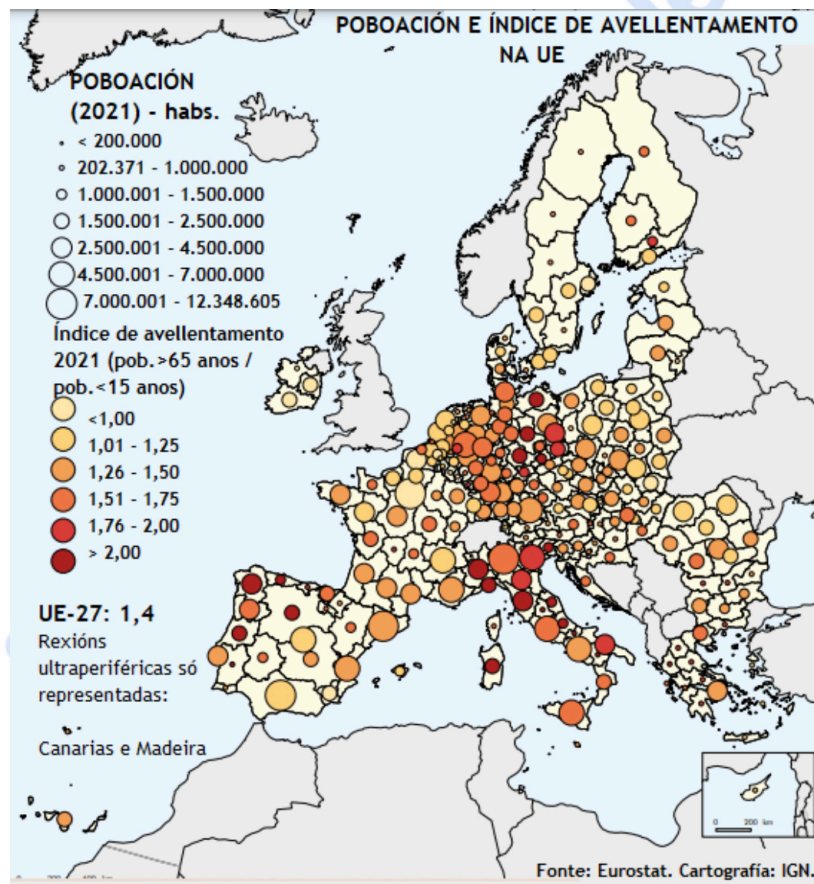


Figura 5

PREGUNTA 4. VOCABULARIO GEOGRÁFICO ESPECÍFICO. (2,5 puntos)

Defina cinco de los diez conceptos resaltados en el siguiente texto. Puede aportar, si procede, un ejemplo significativo de la España actual. (0,5 puntos por concepto)

Las **Comunidades Autónomas** han utilizado los **fondos estructurales** europeos para impulsar el desarrollo económico y reducir la **brecha digital**. En la España interior, en especial en amplias zonas de la **meseta**, la **población activa** enfrenta desafíos muy importantes debido al **invierno demográfico**. Para intentar mitigarlos se intenta potenciar la economía local vinculada al medio rural tras los procesos de **deslocalización industrial**, incentivando **denominaciones de origen**, explotaciones agroganaderas y desarrollando la **silvicultura** (allí donde la **aridez** lo permite), convirtiéndose en actividades clave para la sostenibilidad económica y social. (Fuente: Grupo de Trabajo Xeografía CIUG. 2025).



Geografía: mapas, graficos y desarrollo bien organizados.

selectividad.academy - 623 769 002



Selectividad Academy

Tu academia de selectividad online

● Mejor academia online de selectividad

Prueba sin compromiso

Primera clase gratis. Sin permanencia. Sin letra pequeña.

- ✓ Profesores especialistas en cada asignatura
- ✓ Clases adaptadas a tu nivel y tus objetivos
- ✓ Todos los exámenes oficiales resueltos paso a paso
- ✓ Calculadora de nota y guía completa en la web

623 769 002

Escríbenos por WhatsApp

www.selectividad.academy

→ Calcula tu nota en selectividad.academy/calculadora-selectividad

→ Guía completa en selectividad.academy/guia-selectividad

→ ¿Tienes dudas? Escríbenos sin compromiso

Exámenes oficiales de selectividad recopilados por Selectividad Academy



Selectividad Academy

Tu academia de selectividad online

● Mejor academia online de selectividad

Prueba sin compromiso

Primera clase gratis. Sin permanencia. Sin letra pequeña.

- ✓ Profesores especialistas en cada asignatura
- ✓ Clases adaptadas a tu nivel y tus objetivos
- ✓ Todos los exámenes oficiales resueltos paso a paso
- ✓ Calculadora de nota y guía completa en la web

623 769 002

Escríbenos por WhatsApp

www.selectividad.academy

→ Calcula tu nota en selectividad.academy/calculadora-selectividad

→ Guía completa en selectividad.academy/guia-selectividad

→ ¿Tienes dudas? Escríbenos sin compromiso