



UNIVERSIDADES PÚBLICAS DE LA COMUNIDAD DE MADRID
EVALUACIÓN PARA EL ACCESO A LAS ENSEÑANZAS
UNIVERSITARIAS OFICIALES DE GRADO

Curso **2020-2021**

MATERIA: GEOGRAFÍA

INSTRUCCIONES GENERALES Y CALIFICACIÓN

Después de leer atentamente el examen, responda a cuatro preguntas cualesquiera a elegir entre las ocho que se proponen.

TIEMPO Y CALIFICACIÓN: 90 minutos. Cada pregunta se calificará sobre 2,5 puntos.

A.1. (2,5 puntos). Tema: “La litología peninsular”.

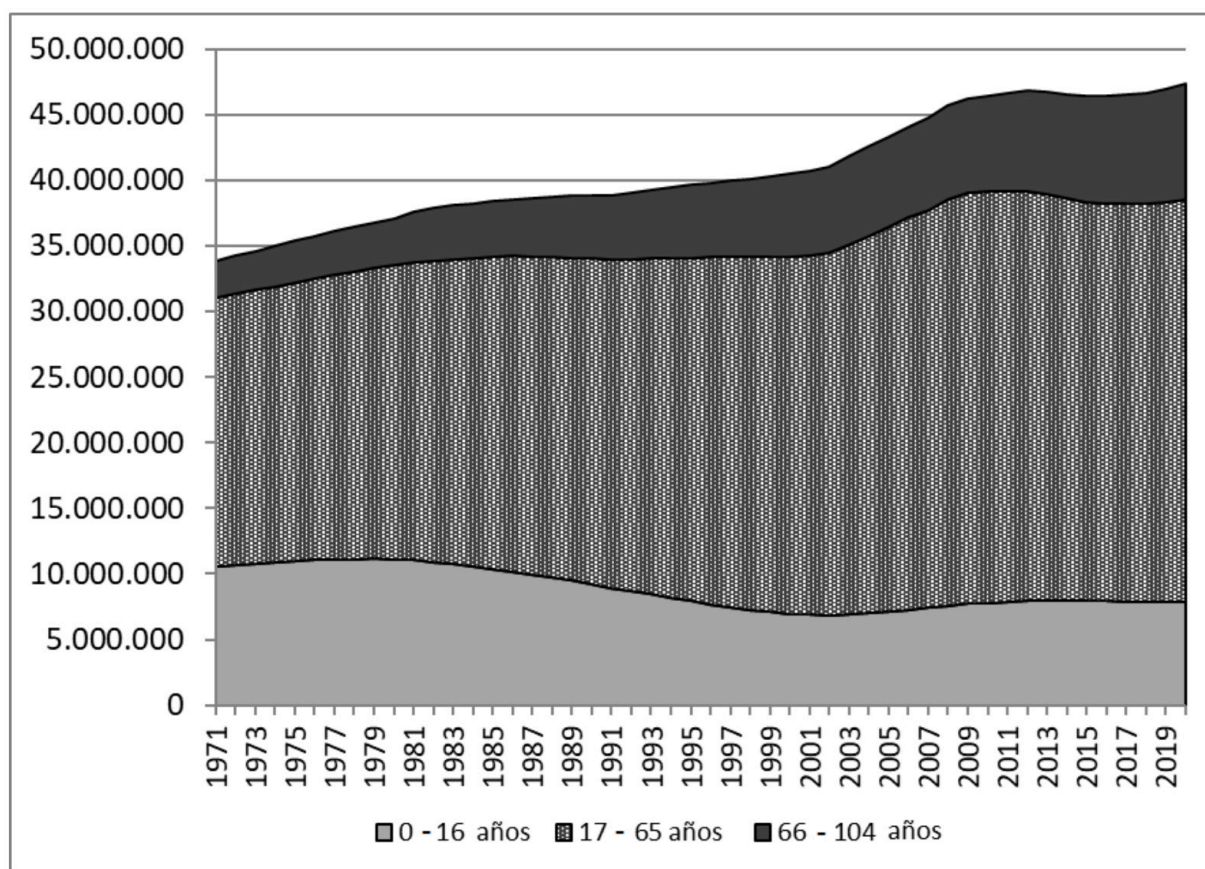
Desarrolle, de manera sintética, el tema propuesto atendiendo a los siguientes apartados (utilice, como máximo, una cara de un folio):

1. El roquedo peninsular.
2. Modelado rocoso y tipos de relieve.

A.2. (2,5 puntos). Defina con precisión **cinco** de los ocho **conceptos** siguientes (escriba, como máximo, una cara de un folio):

Bancales; materia prima; dehesa; trópico; acuicultura; astillero; ecoturismo; exportación.

A.3. (2,5 puntos). Comente y relacione la noticia con el gráfico adjunto “Evolución de la población española por grupos de edad, 1971-2019” con la noticia “*La respuesta al oscuro invierno demográfico no se puede retrasar más*”.



Evolución de la población española por grupos de edad, 1971-2019. Fuente INE.

Texto:

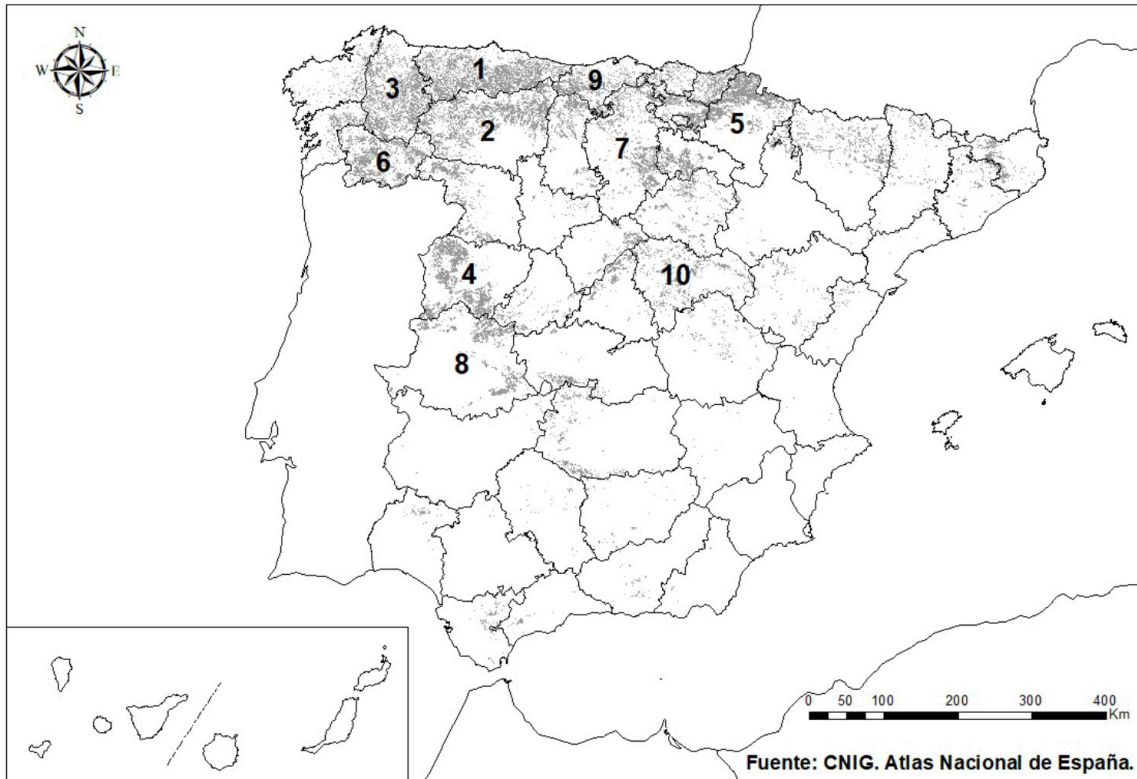
La respuesta al oscuro invierno demográfico no se puede retrasar más.

La irrupción de la pandemia del Covid-19 y la crisis económica desencadenada por las medidas para contenerla ha agravado el severo problema demográfico que arrastra España, que se explica por un conjunto heterogéneo de causas y tiene unas consecuencias financieras, económicas y sociales muy concretas. La combinación del progresivo hundimiento que ha experimentado la tasa de natalidad desde mediados de los años setenta –es la segunda más baja de Europa y una de las más reducidas del mundo– con una longevidad cada vez mayor ha generado una verdadera bomba de relojería demográfica para la sociedad española, una amenaza para el estado del bienestar y un complejo problema de sostenibilidad para la economía en general.

Cinco Días, 29 de octubre de 2020.

Fuente: https://cincodias.elpais.com/cincodias/2020/10/29/opinion/1603999119_350900.html

A.4. (2,5 puntos). A la vista del mapa adjunto “**Bosque caducifolio**” indique el nombre de las provincias numeradas **que tienen más de 1.350 km² de superficie de Bosque caducifolio**, según proceda, y explique sus características y las posibles razones de su distribución.



B.1. (2,5 puntos). Tema: “La diversidad vegetal de la región eurosiberiana”.

Desarrolle, de manera sintética, el tema propuesto atendiendo a los siguientes apartados (utilice, como máximo, una cara de un folio):

1. Características y distribución
2. Principales especies y formaciones

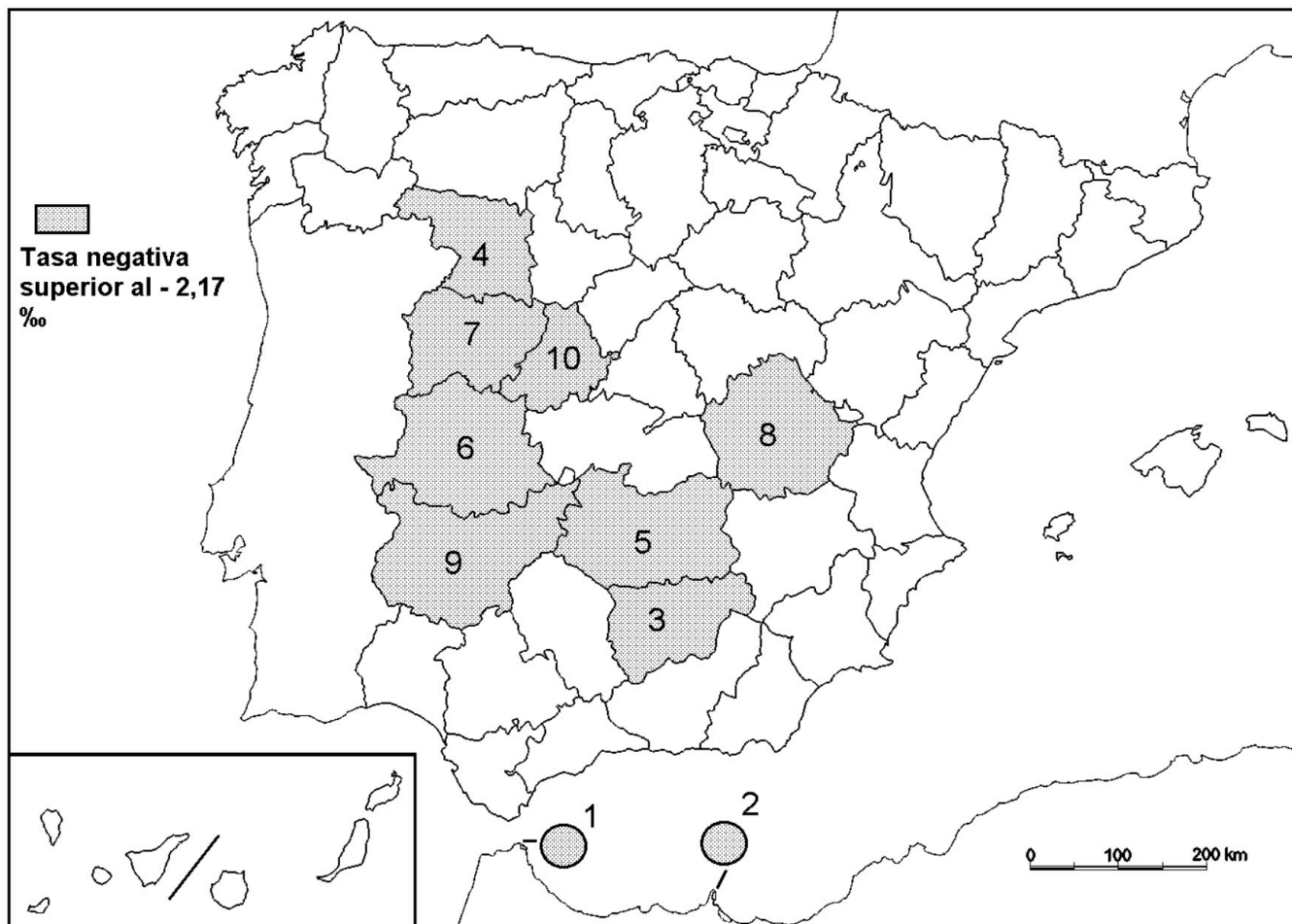
B.2. (2,5 puntos). Defina con precisión **cinco** de los ocho **conceptos** siguientes (escriba, como máximo, una cara de un folio):

Hábitat concentrado; oleoducto; estabulación; banca comercial; industria extractiva; equinoccio; comercio minorista; concentración parcelaria.

B.3. (2,5 puntos). Comente la **fotografía adjunta** atendiendo, si procediese, al siguiente orden:

1. Elementos del medio físico.
2. Elementos del medio humano.
3. La relación entre ellos.
4. Indique el tipo de paisaje geográfico que muestra la fotografía.

B.4. (2,5 puntos). A la vista del mapa “**migración interprovincial negativa (2019)**”, indique el nombre de las provincias y ciudades autónomas numeradas, y las características migratorias que explican este hecho.



Fuente: INE.

Núm en Mapa	Tasa migración neta ‰
1	-19,72
2	-14,37
3	-3,76
4	-3,08
5	-3,07
6	-2,70
7	-2,54
8	-2,27
9	-2,24
10	-2,18



Geografía: mapas, gráficos y desarrollo bien organizados.

selectividad.academy - 623 769 002

LÁMINA GEOGRAFÍA



Hermigua. La Gomera (Santa Cruz de Tenerife)

GEOGRAFÍA

CRITERIOS ESPECÍFICOS DE CORRECCIÓN

A) CRITERIO GENERAL:

La puntuación total será de **10 puntos**.

B) CRITERIOS CONCRETOS:

Preguntas A.1 y B.1: 2,5 puntos.

Trata del “*desarrollo de un tema*”, valorando fundamentalmente la ordenación, la coherencia expositivo-argumentativa, la claridad, la precisión y la organización sintética de los conocimientos, junto con la correcta localización, la comprensión y caracterización de los fenómenos geográficos que se suman al grado y profundidad de los conocimientos. El tema podrá ser planteado a partir de imágenes, gráficos, mapas u otros recursos visuales. **La puntuación asignada a esta pregunta se distribuirá equitativamente entre los subepígrafes del enunciado.** Los coordinadores comunicarán a los correctores las orientaciones específicas de corrección.

Preguntas A.2 y B.2: 2,5 puntos.

Definición de una serie de *términos geográficos y conceptos*. Las respuestas deberán valorarse con un criterio amplio, ya que son numerosas las posibilidades expresivas correctas. En todo caso, se atenderá a la precisión geográfica en la caracterización del término o concepto, y a la claridad conceptual. Se podrá complementar la definición con un dibujo explicativo. Se asignará 0,50 puntos por cada uno de los cinco términos preguntados, de los ocho que se proponen.

Preguntas A.3 y B.3: 2,5 puntos.

Según la opción elegida por el estudiante, deberá: A) Comentar una noticia o un gráfico vinculados a uno de los temas de la geografía de España, donde se valorará preferentemente, la capacidad de relación entre la actualidad y los contenidos estudiados; B) Interpretar una imagen de paisaje geográfico. Se valorará con criterio amplio las respuestas a los epígrafes enunciados en la pregunta.

Preguntas A.4 y B.4: 2,5 puntos.

Esta parte consta de una pregunta de localización con base en un mapa. Se valorará la localización del hecho cartografiado, y su correcta interpretación causal. **Cada localización correcta de las diez posibles tendrá un valor de 0,10 puntos.**

En las cuatro partes de que consta la prueba, se considerarán elementos de ponderación; v.gr.: la calidad de la redacción, la corrección expositivo-argumentativa, la gramatical y la ortográfica.



Selectividad Academy

Tu academia de selectividad online

● Mejor academia online de selectividad

Prueba sin compromiso

Primera clase gratis. Sin permanencia. Sin letra pequeña.

- ✓ Profesores especialistas en cada asignatura
- ✓ Clases adaptadas a tu nivel y tus objetivos
- ✓ Todos los exámenes oficiales resueltos paso a paso
- ✓ Calculadora de nota y guía completa en la web

623 769 002

Escríbenos por WhatsApp

www.selectividad.academy

→ Calcula tu nota en selectividad.academy/calculadora-selectividad

→ Guía completa en selectividad.academy/guia-selectividad

→ ¿Tienes dudas? Escríbenos sin compromiso