



UNIVERSIDADES PÚBLICAS DE LA COMUNIDAD DE MADRID
EVALUACIÓN PARA EL ACCESO A LAS ENSEÑANZAS
UNIVERSITARIAS OFICIALES DE GRADO

Curso **2021-2022**

MATERIA: GEOGRAFÍA

INSTRUCCIONES GENERALES Y CALIFICACIÓN

Después de leer atentamente el examen, responda a cuatro preguntas cualesquiera a elegir entre las ocho que se proponen.

TIEMPO Y CALIFICACIÓN: 90 minutos. Cada pregunta se calificará sobre 2,5 puntos.

A.1. (2,5 puntos). Tema: “Las costas peninsulares españolas”

Desarrolle, de manera sintética, el tema propuesto atendiendo a los siguientes apartados (utilice, como máximo, una cara de un folio):

1. Localización y características de la costa atlántica peninsular.
2. Localización y características de la costa mediterránea peninsular.

A.2. (2,5 puntos): Defina con precisión **cinco** de los ocho **conceptos** siguientes (escriba, como máximo, una cara de un folio):

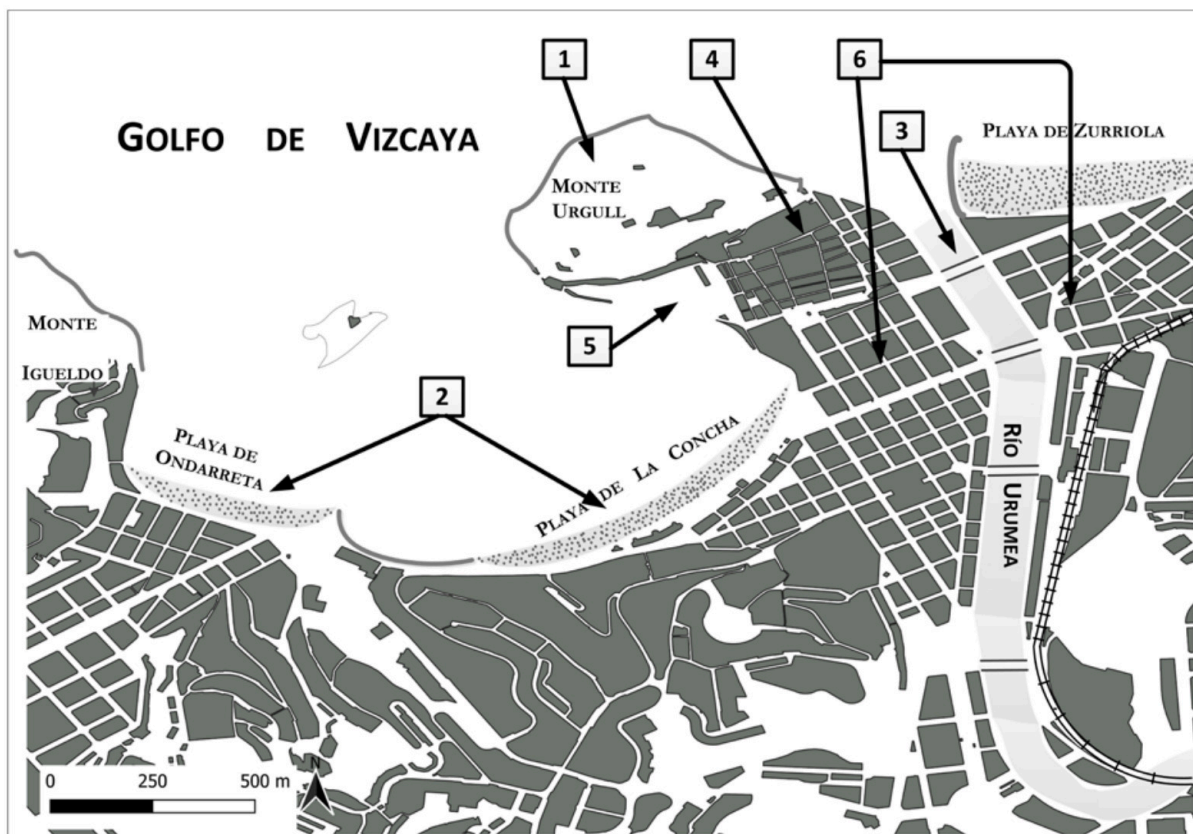
DANA; caudal; ecuador; alcornoque; temperatura; conífera; escorrentía; plano.



Geografía: mapas, gráficos y desarrollo bien organizados.

selectividad.academy - 623 769 002

A.3. (2,5 puntos): A la vista del plano adjunto correspondiente a **San Sebastián/Donostia (provincia de Gipuzkoa)**, comente los elementos del medio físico que se muestran en el mismo (cuadrados 1, 2 y 3), así como los correspondientes al medio humano y morfologías urbanas (cuadrados 4, 5 y 6).



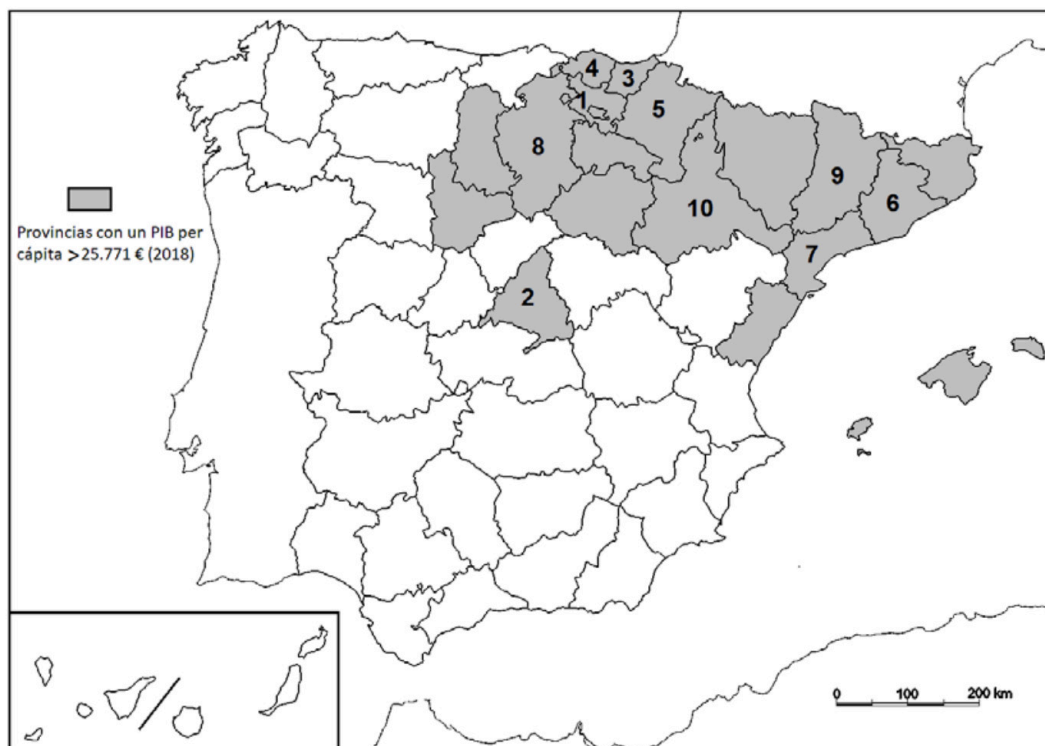
Fuente: Cartociudad IGN (modificado).



Guía completa en selectividad.academy/guia-selectividad

Todo sobre la selectividad

A.4. (2,5 puntos): A la vista del mapa adjunto “**Provincias con un PIB per cápita superior a 25.771 euros, (2018)**”, indique el nombre de las provincias numeradas y señale las posibles causas de esta distribución.



Provincia	PIB (2018) € /per cápita
1	36.404
2	35.091
3	33.851
4	31.792
5	31.026
6	30.947
7	30.810
8	29.571
9	28.456
10	28.386

Fuente: INE (2018).

● Tu esfuerzo tiene recompensa. Estamos contigo.

Prueba gratis

B.1. (2,5 puntos). Tema: “La España de dominio de clima oceánico”.

Desarrolle, de manera sintética, el tema propuesto atendiendo a los siguientes apartados (utilice, como máximo, una cara de un folio):

1. Localización y extensión.
2. Principales elementos climáticos que lo definen.

B.2. (2,5 puntos): Defina con precisión **cinco** de los ocho **conceptos** siguientes (escriba, como máximo, una cara de un folio):

Esperanza de vida al nacer; isolínea; meridiano; gentrificación; tasa de dependencia; círculo polar; población activa; chabolismo.



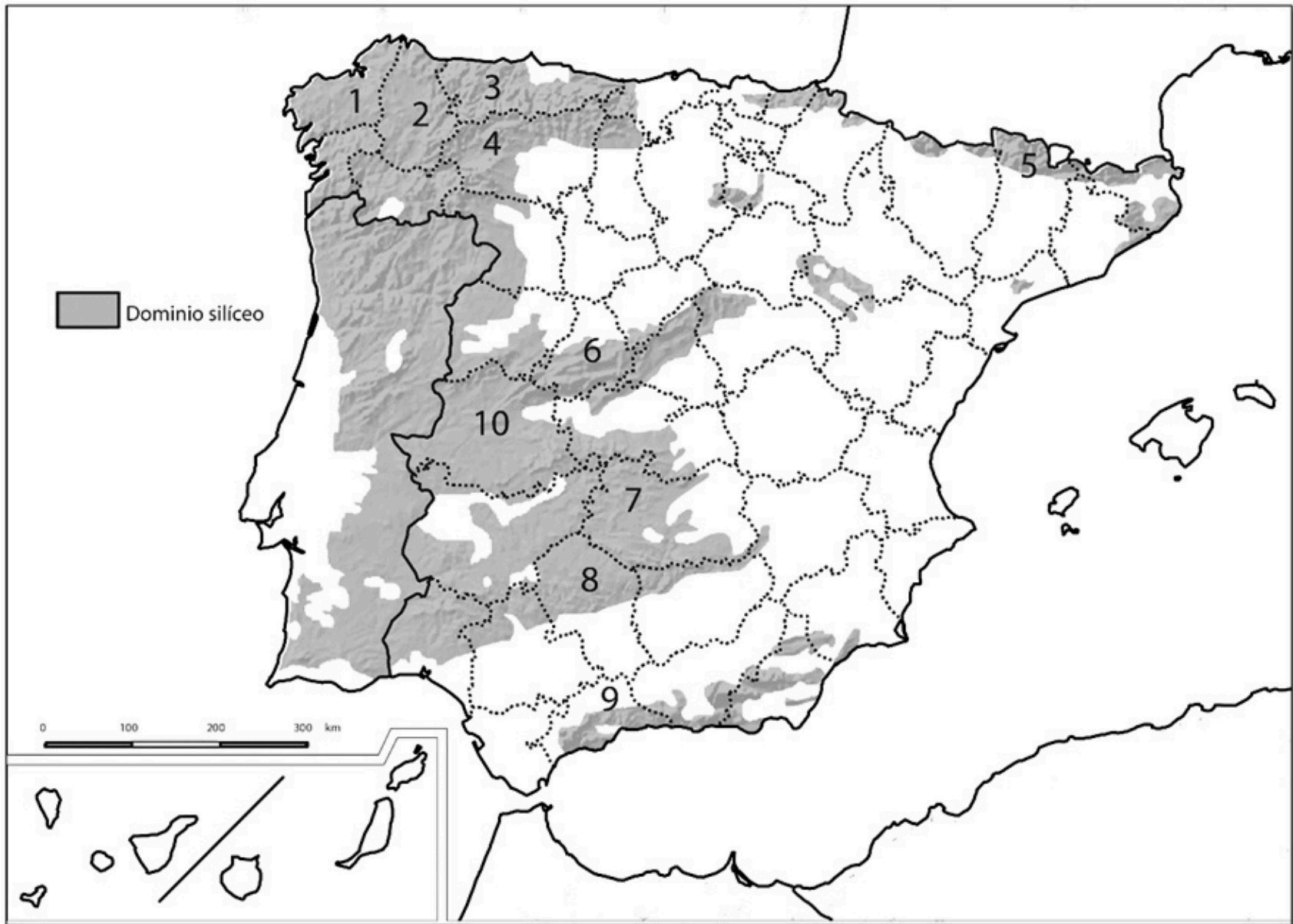
Si algo no entiendes, pregúntanos sin compromiso

623 769 002 · WhatsApp

B.3. (2,5 puntos): Comente la **fotografía adjunta** atendiendo, si procediese, al siguiente orden:

1. Elementos del medio físico.
2. Elementos del medio humano.
3. La relación entre ellos.
4. Indique el tipo de paisaje geográfico que muestra la fotografía.

B.4. (2,5 puntos): A la vista del mapa adjunto “**La España silíceo**”, describa brevemente sus características generales e identifique las unidades del relieve sombreadas. Indique el nombre de las provincias numeradas.



Fuente: IGN (modificado).



Tú puedes. Y nosotros te ayudamos a demostrarlo.

selectividad.academy

GEOGRAFÍA



Puyarruego (Huesca)

GEOGRAFÍA

CRITERIOS ESPECÍFICOS DE CORRECCIÓN Y CALIFICACIÓN

A) CRITERIO GENERAL:

La puntuación total será de **10 puntos**.

B) CRITERIOS CONCRETOS:

Preguntas A.1 y B.1: 2,5 puntos.

Trata del “*desarrollo de un tema*”, valorando fundamentalmente la ordenación, la coherencia expositivo-argumentativa, la claridad, la precisión y la organización sintética de los conocimientos, junto con la correcta localización, la comprensión y caracterización de los fenómenos geográficos que se suman al grado y profundidad de los conocimientos. El tema podrá ser planteado a partir de imágenes, gráficos, mapas u otros recursos visuales.

La puntuación asignada a esta pregunta se distribuirá equitativamente entre los subepígrafes del enunciado. Los coordinadores comunicarán a los correctores las orientaciones específicas de corrección.

Preguntas A.2 y B.2: 2,5 puntos.

Definición de una serie de términos geográficos y conceptos. Las respuestas deberán valorarse con un criterio amplio, ya que son numerosas las posibilidades expresivas correctas. En todo caso, se atenderá a la precisión geográfica en la caracterización del término o concepto, y a la claridad conceptual. Se podrá complementar la definición con un dibujo explicativo. Se asignará 0,50 puntos por cada uno de los cinco términos preguntados, de los ocho que se proponen.

Preguntas A.3 y B.3: 2,5 puntos.

Según la opción elegida por el estudiante, deberá: A) Comentar una noticia o un gráfico vinculados a uno de los temas de la geografía de España, donde se valorará preferentemente, la capacidad de relación entre la actualidad y los contenidos estudiados; B) Interpretar una imagen de paisaje geográfico. Se valorará con criterio amplio las respuestas a los epígrafes enunciados en la pregunta.

Preguntas A.4 y B.4: 2,5 puntos.

Esta parte consta de una pregunta de localización con base en un mapa. Se valorará la localización del hecho cartografiado, y su correcta interpretación causal. **Cada localización correcta de las diez posibles tendrá un valor de 0,10 puntos.**

En las cuatro partes de que consta la prueba, se considerarán elementos de ponderación; v.gr.: la calidad de la redacción, la corrección expositivo-argumentativa, la gramatical y la ortográfica.



Selectividad Academy

Tu academia de selectividad online

● Mejor academia online de selectividad

Prueba sin compromiso

Primera clase gratis. Sin permanencia. Sin letra pequeña.

- ✓ Profesores especialistas en cada asignatura
- ✓ Clases adaptadas a tu nivel y tus objetivos
- ✓ Todos los exámenes oficiales resueltos paso a paso
- ✓ Calculadora de nota y guía completa en la web

623 769 002

Escríbenos por WhatsApp

www.selectividad.academy

→ Calcula tu nota en selectividad.academy/calculadora-selectividad

→ Guía completa en selectividad.academy/guia-selectividad

→ ¿Tienes dudas? Escríbenos sin compromiso