



UNIVERSIDADES PÚBLICAS DE LA COMUNIDAD DE MADRID
PRUEBA DE ACCESO A LA UNIVERSIDAD

Curso **2024-2025**

MATERIA: GEOGRAFÍA

INSTRUCCIONES GENERALES Y CALIFICACIÓN

Después de leer atentamente el examen, responda a las preguntas de la siguiente forma:

PREGUNTA 1.- Desarrolle, de manera sintética, solamente uno de los dos temas propuestos atendiendo a los epígrafes del tema seleccionado. De manera orientativa se recomienda una extensión aproximada de página y media.

PREGUNTA 2.- Defina con precisión cinco de los diez conceptos indicados. De manera orientativa se recomienda una extensión aproximada de media página.

PREGUNTA 3.- Elija la figura con su texto adjunto o la fotografía mostrada, atendiendo a lo indicado en el enunciado de la figura seleccionada. De manera orientativa se recomienda una extensión aproximada de una página.

PREGUNTA 4.- Elija uno de los dos mapas propuestos, indicando las provincias numeradas y atendiendo al enunciado del mapa seleccionado. De manera orientativa se recomienda una extensión aproximada de una página.

TIEMPO Y CALIFICACIÓN: 90 minutos. Cada pregunta se calificará sobre 2,5 puntos

PREGUNTA 1.- Desarrolle, de manera sintética, **uno de los dos TEMAS** propuestos atendiendo a los apartados indicados.

Tema 1. Estructuras del relieve exteriores a la Meseta y relieve insular: depresiones, cordilleras y sistemas

- Origen y características
- Dominio litológico y modelado
- El relieve como condicionante de las actividades humanas

Tema 2. El espacio urbano: Sistema urbano español

- Componentes del sistema urbano y jerarquía urbana en España
- Cambios en el sistema urbano español
- Organización espacial de los ejes urbanos en relación a Europa en un mundo globalizado

PREGUNTA 2.- Defina con precisión **cinco** de los diez **CONCEPTOS** siguientes. Se podrá complementar la definición con un dibujo explicativo.

- Curva de nivel
- Estado
- Cambio climático
- Pliegue
- Caducifolio
- Agroindustria
- Polígono industrial
- Terciarización
- Hábitat concentrado
- Envejecimiento de la población

PREGUNTA 3.- Elija **una de las dos FIGURAS** propuestas, atendiendo a lo indicado en cada uno de los enunciados.

Figura 1. Realice un comentario del **climograma** y del **texto** presentado atendiendo estos aspectos:

- a) Régimen de temperaturas medias mensuales y de las precipitaciones;
- b) Pertenencia a alguna de las variedades climáticas de España y su área de distribución;
- c) Relación del texto con el gráfico.

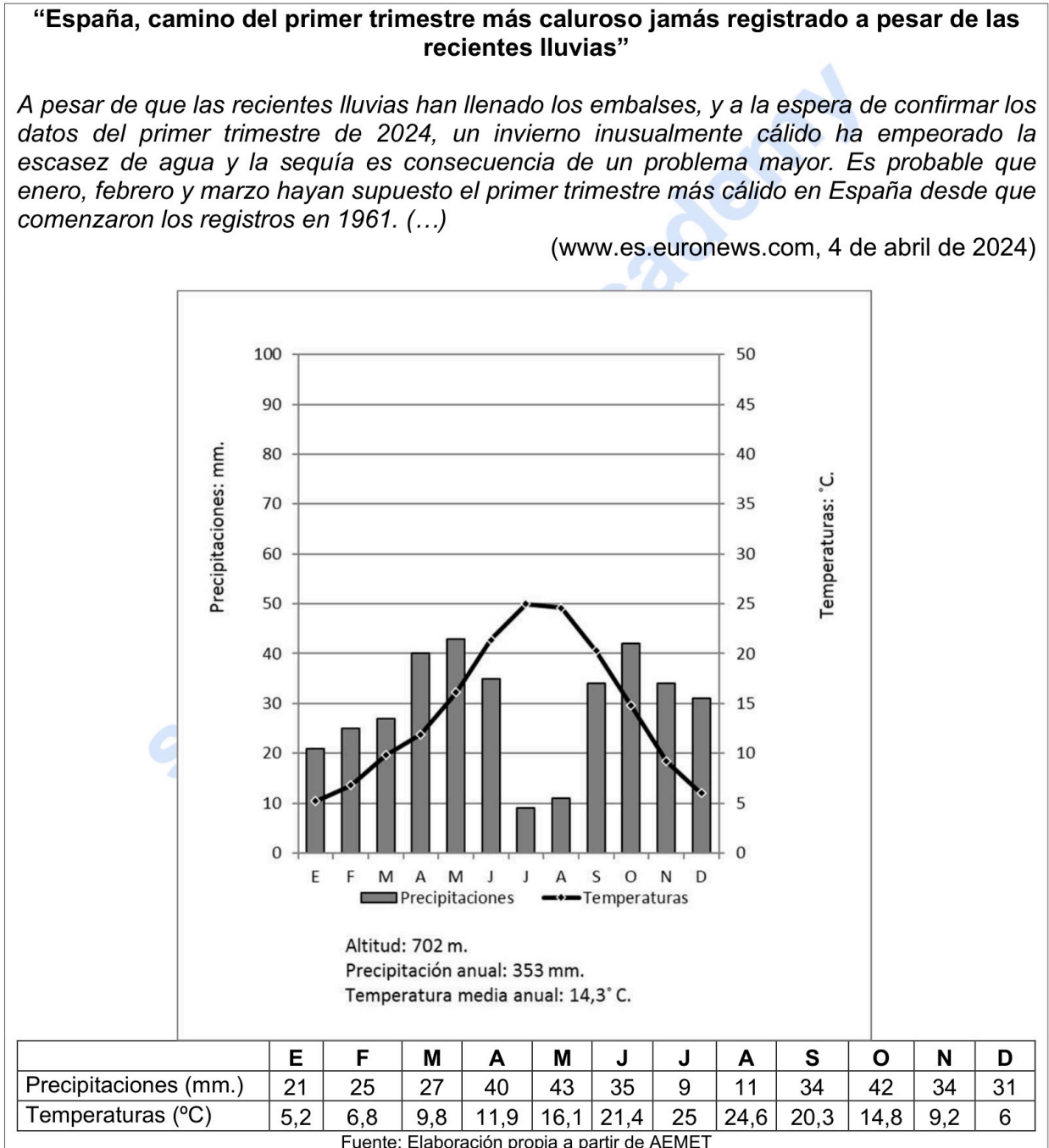
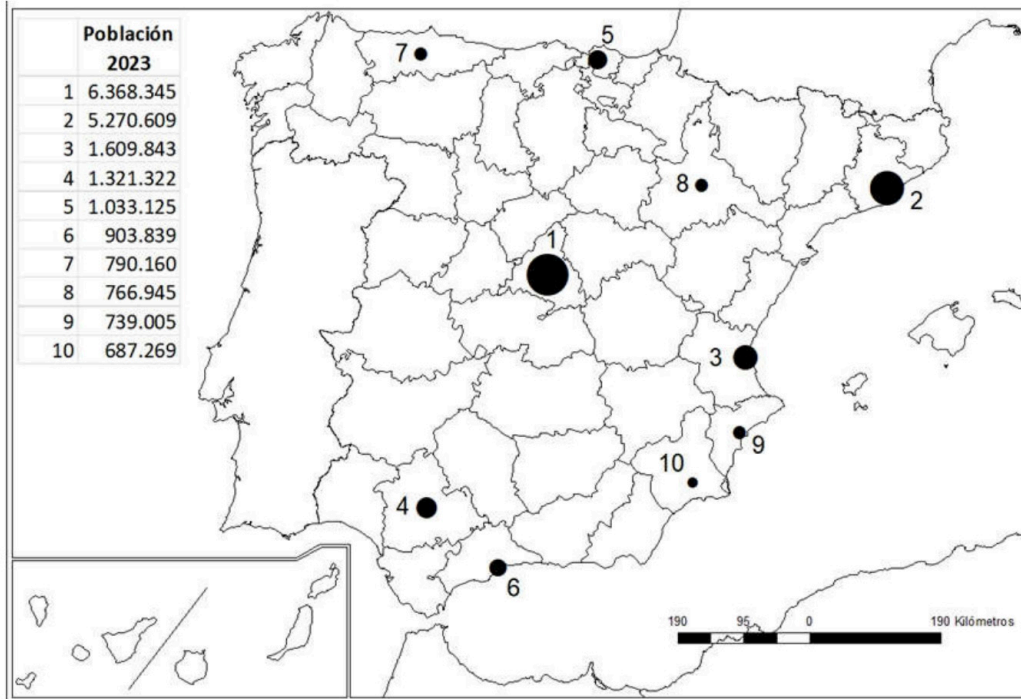


Figura 2. Comente la **fotografía** adjunta atendiendo, si procediese, al siguiente orden:

- a) Elementos del medio físico;
- b) Elementos del medio humano;
- c) Indique el/los tipo/s de paisaje/s geográfico/s que muestra la foto;
- d) Valoración del paisaje considerando posibles impactos, problemáticas o aspectos de preservación/conservación paisajística.

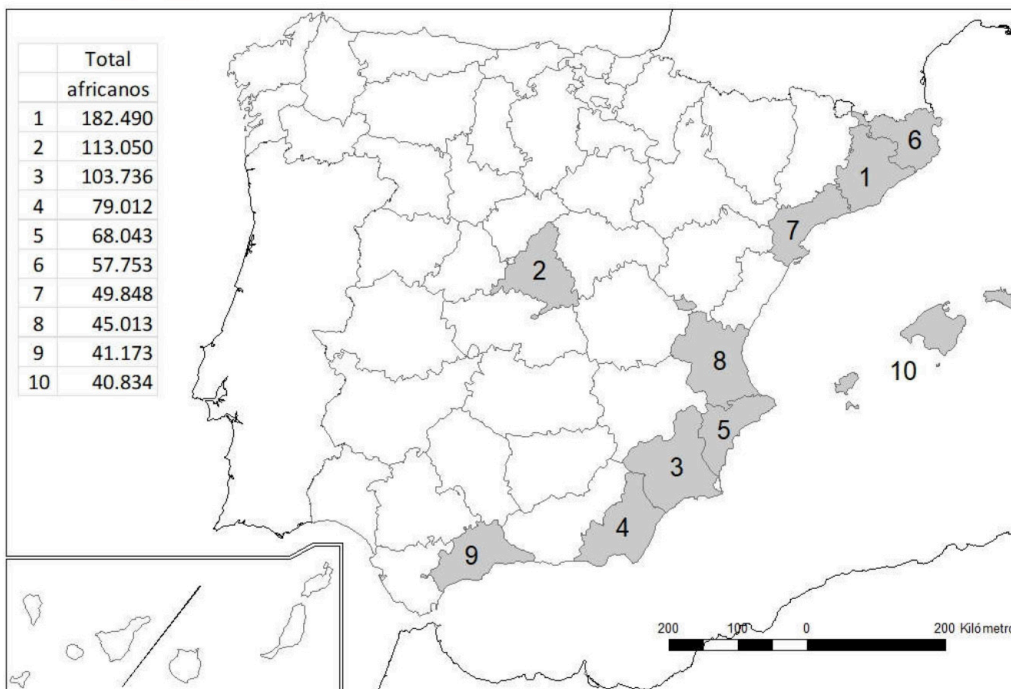
PREGUNTA 4.- Elija uno de los dos **MAPAS** propuestos y atienda a lo indicado en el enunciado correspondiente.

Mapa 1. “**Áreas metropolitanas españolas con mayor número de habitantes (2023)**”. Indique el nombre de las provincias en las que se sitúan (numeradas en el mapa) y explique la **distribución espacial** del fenómeno que se muestra en el mapa.



Fuente: Ministerio de Vivienda y Agenda urbana

Mapa 2. “**Provincias con mayor número de inmigrantes de origen africano (2021)**”. Indique el nombre de las provincias numeradas y señale las posibles **causas** y qué **consecuencias sociales y económicas** se derivan de la distribución de este hecho.



Fuente: Instituto Nacional de Estadística (2023)

FOTOGRAFÍA



Salobreña (Granada)

GEOGRAFÍA

CRITERIOS ESPECÍFICOS DE CORRECCIÓN Y CALIFICACIÓN

A) CRITERIO GENERAL

La puntuación total será de 10 puntos.

B) CRITERIOS CONCRETOS

Pregunta 1: TEMA (2,5 puntos)

Trata del desarrollo de un tema, valorando fundamentalmente la ordenación, la coherencia expositivo-argumentativa, la claridad, la precisión y la organización sintética de los conocimientos. Además, se tendrá en cuenta la correcta localización, la comprensión y caracterización de los fenómenos geográficos. **La puntuación asignada a esta pregunta se distribuirá equitativamente entre los subepígrafes del enunciado, aunque se recomienda una mayor ponderación hacia el tercero de ellos por su carácter competencial.** Los/as coordinadores/as comunicarán a los/as correctores/as las orientaciones específicas de corrección.

Pregunta 2: CONCEPTOS (2,5 puntos)

Definición de una serie de términos geográficos y conceptos. Las respuestas deberán valorarse con un criterio amplio, ya que son numerosas las posibilidades expresivas correctas. En todo caso, se atenderá a la precisión geográfica en la caracterización del término o concepto y a la claridad conceptual. Se podrá complementar la definición con un dibujo explicativo. Se asignará un máximo de 0,50 puntos por cada uno de los cinco términos, de los diez que se proponen.

Pregunta 3: FIGURA (2,5 puntos)

Comentario de una figura. Según la opción elegida por el/la estudiante, deberá: A) Comentar un gráfico, que está acompañado de una noticia, vinculado a uno de los temas de la Geografía de España. Se valorará el comentario de la figura y la capacidad de relación entre la actualidad y los contenidos estudiados; B) Interpretar una imagen de paisaje geográfico. Se valorarán con criterio amplio las respuestas a los epígrafes enunciados en la pregunta.

Pregunta 4: MAPA (2,5 puntos)

Esta parte consta de una pregunta de localización sobre un mapa. Se valorará la localización del hecho cartografiado y su correcta interpretación causal, así como las consecuencias derivadas. Cada localización correcta tendrá un valor de 0,10 puntos y la interpretación general y/o causal 1,5 puntos.

En las cuatro partes de que consta la prueba, se considerarán elementos de ponderación (por ejemplo, la calidad de la redacción, la corrección expositivo-argumentativa, la gramatical y la ortográfica).



Geografía: mapas, gráficos y desarrollo bien organizados.

selectividad.academy - 623 769 002



Selectividad Academy

Tu academia de selectividad online

● Mejor academia online de selectividad

Prueba sin compromiso

Primera clase gratis. Sin permanencia. Sin letra pequeña.

- ✓ Profesores especialistas en cada asignatura
- ✓ Clases adaptadas a tu nivel y tus objetivos
- ✓ Todos los exámenes oficiales resueltos paso a paso
- ✓ Calculadora de nota y guía completa en la web

623 769 002

Escríbenos por WhatsApp

www.selectividad.academy

→ Calcula tu nota en selectividad.academy/calculadora-selectividad

→ Guía completa en selectividad.academy/guia-selectividad

→ ¿Tienes dudas? Escríbenos sin compromiso