


eman ta zabal zazu



Universidad
del País Vasco

Euskal Herriko
Unibertsitatea

Geografía

EAU 2020

www.ehu.eus



Ez ahaztu azterketa-orrialde guztietan kodea jartzea.

- Proba idatzi honetan **3 ariketa egin** behar dituzu.
- Ariketak hiru multzotan banatuta daude:

A multzoa (4 puntu): A1 eta A2 aukeren artean, aukeratu bat. Mapak, grafikoak edo irudiak ondo egitea eta aurkeztutako materiala ulertzea eta era egokian interpretatzea hartuko dira kontuan.

B multzoa (4 puntu): B1 eta B2 aukeren artean, aukeratu bat. Ezagutza-maila eta erlazioak egiteko gaitasuna hartuko dira kontuan.

C multzoa (2 puntu): Proposatutako 8 kontzeptuetatik 4 definitu (bakoitzak 0,5 puntu balio du). Kontzeptu geografiko bakoitza definitzeko, gehienez 5 lerro erabil daitezke.

Jarraibideetan adierazitakoei baino galdera gehiagori erantzunez gero, erantzunak ordenari jarraituta zuzenduko dira, harik eta beharrezko kopurura iritsi arte.

No olvides incluir el código en cada una de las hojas de examen.

- En esta prueba escrita **realizarás 3 ejercicios.**
- Los ejercicios están distribuidos en tres bloques:

Bloque A (4 puntos): Elige una opción entre A1 y A2. Se valorará la correcta elaboración de los mapas, gráficos o imágenes, y la comprensión y correcta interpretación del material presentado.

Bloque B (4 puntos): Elige una opción entre B1 y B2. Se valorará el nivel de conocimientos y la capacidad para establecer relaciones.

Bloque C (2 puntos): Define 4 de los 8 conceptos propuestos (valorado hasta 0,5 puntos cada uno de ellos). Cada concepto geográfico debe ser definido en una extensión que no sobrepase las 5 líneas.

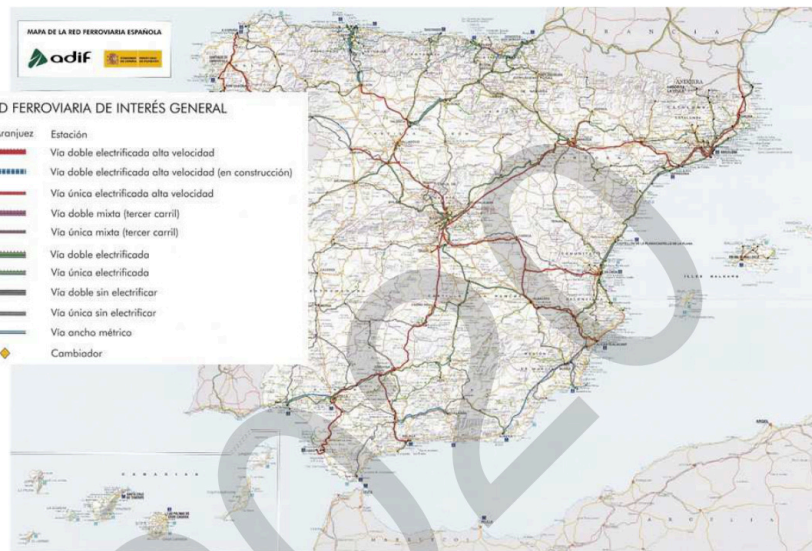
En caso de responder a más preguntas de las estipuladas, las respuestas se corregirán en orden hasta llegar al número necesario.



BLOQUE A: Ejercicio práctico (4 puntos)

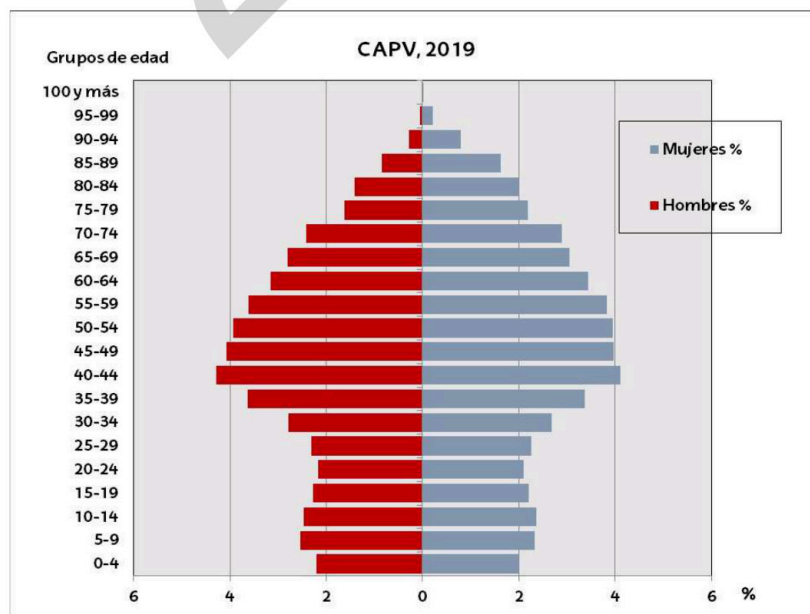
Elige una opción entre A1 y A2

A1.- Comentario del mapa de la red ferroviaria de España. (4 puntos)



Fuente: Instituto Geográfico Nacional. 2016.

A2.- Comentario de la pirámide de población de la C.A. del País Vasco. (4 puntos)



Fuente: INE



BLOQUE B: Temas de contenido teórico (4 puntos)

Elige una opción entre B1 y B2

B1.- Síntesis de los principales tipos de climas de la Comunidad Autónoma del País Vasco y de los diferentes tipos de vegetación correspondientes a cada área climática. (4 puntos)

B2.- La estructura urbana: el casco antiguo, el ensanche y la periferia. (4 puntos)

BLOQUE C: Definiciones (2 puntos)

Define 4 de los 8 conceptos propuestos (valorado hasta 0,5 puntos cada uno de ellos). Cada concepto geográfico debe ser definido en una extensión que no sobrepase las 5 líneas.

- Saldo migratorio (0,5 puntos)
- Conurbación (0,5 puntos)
- Ganadería intensiva (0,5 puntos)
- Industria de alta tecnología (0,5 puntos)
- Masa de aire (0,5 puntos)
- Plan General de Ordenación Urbana (0,5 puntos)
- Desarrollo sostenible (0,5 puntos)
- Vegetación potencial (0,5 puntos)



Geografía: mapas, gráficos y desarrollo bien organizados.

selectividad.academy - 623 769 002



Selectividad Academy

Tu academia de selectividad online

● Mejor academia online de selectividad

Prueba sin compromiso

Primera clase gratis. Sin permanencia. Sin letra pequeña.

- ✓ Profesores especialistas en cada asignatura
- ✓ Clases adaptadas a tu nivel y tus objetivos
- ✓ Todos los exámenes oficiales resueltos paso a paso
- ✓ Calculadora de nota y guía completa en la web

623 769 002

Escríbenos por WhatsApp

www.selectividad.academy

→ Calcula tu nota en selectividad.academy/calculadora-selectividad

→ Guía completa en selectividad.academy/guia-selectividad

→ ¿Tienes dudas? Escríbenos sin compromiso